



කලාප අධ්‍යාපන කාර්යාලය - කොළඹ
 வலயக் கல்வி காரியாலயம் - கொழும்பு
 Zonal Education Office - Colombo

අ.පො.ස.(සා/පෙළ) විභාගය - ආදර්ශ ප්‍රශ්න පත්‍රය
 க.பொ.த. (சா/த) பரீட்சை - மாதிரி வினாத்தாள்
 G.C.E.(O/Level) Examination - Model Paper

අ.පො.ස. (සා.පෙළ) - ආදර්ශ ප්‍රශ්න පත්‍ර අංක 01

නැටුම් දේශීය 1 පත්‍රය

කාලය පැය 1 යි

- අංක 01 සිට 40 දක්වා සියලුම ප්‍රශ්න වලට පිළිතුරු සපයන්න.
 - ප්‍රශ්න අංක 30 - 40 දක්වා ඔබ ඉගෙන ගන්නා සම්ප්‍රදායට අදාල කොටස තෝරා ගන්න.
 - අංක 01 සිට 10 තෙක් ප්‍රශ්නවල හිස්තැන් වලට සුදුසු වචන තෝරන්න.
1. සරඹ අත්‍යාස කිරීමේදී සමගුණ, දෙගුණ, සිව්ගුණ වශයෙන් හඳුන්වනු ලබන්නේ
 ලයට නැටීමයි.
 - i. ත්‍රිවිධ
 - ii. විලම්භ
 - iii. දෘත
 - iv. මධ්‍ය
 2. නම් ද්‍රවිඩ ජන නැටුම දේශීය කළගෙඩි නැටුම හා සමාන වේ.
 - i. කෝලාට්ටම්
 - ii. පින්තල් කෝලාට්ටම්
 - iii. සෙම්බු
 - iv. බුම්මැඩි
 3. නවග්‍රහයින්ගෙන් ඇතිවන්නාවූ අපල උපද්‍රව දුරකර ගැනීම සඳහා දේශීය නර්තන සම්ප්‍රදායන් තුනෙහිම යොදා ගන්නා ශාන්තිකර්මයක් ලෙස නම් කළහැකිය.
 - i. කිරිමඩුව
 - ii. දෙවොල්මඩුව
 - iii. බලියාගය
 - iv. පහන්මඩුව

4. චිකිත්සා බෙරය නමින් හැඳින්වෙන්නේ යි.
 - i. පොකුරු බෙරය
 - ii. රබාන
 - iii. දවුල
 - iv. උඩැස්කිය

5. ගායනා රහිත නර්තන අංගයක් ලෙස නම් කළ හැකිය.
 - i. වන්නම්
 - ii. සවිදම්
 - iii. ගැමිනැටුම්
 - iv. වට්ටම්

6. "ඉහළ දිශාවට ඉඹුල් විමානෙට හිරු දෙව් අධිපති වන්නේ" යන ගායනා විශේෂය අයත් වන්නේ වලටය.
 - i. ටීකා සීපද
 - ii. මෝල්ගස් කවි
 - iii. මල්ගහන් කවි
 - iv. ග්‍රහපන්ති කවි

7. ආංගික අභිනය ප්‍රධාන වන සහ වාචික අභිනය නොයෙදෙන නාට්‍ය සම්ප්‍රදාය ලෙස නම් කළ හැකිය.
 - i. ශෛලිගත නාට්‍ය
 - ii. මුද්‍රානාට්‍ය
 - iii. නාඩගම්
 - iv. ගැමි නාට්‍ය

8.රංගභූමිය ලෙස යොදාගනු ලබන්නේ සොකරි ජන නාටකයේය.
 - i. තානායම් පොළ
 - ii. පින්තූර රාමු වේදිකාව
 - iii. කමත
 - iv. ප්‍රසාංගික වේදිකාව

9. වෙස්මිහුණු පැළඳ නැටීම වැඩි වශයෙන් දක්නට ලැබෙන්නේ නර්තන සම්ප්‍රදායේදීය.

- i. උඩරට
- ii. පහතරට
- iii. සබරගමු
- iv. ඉංදීය

10. ප්‍රස්තාරකරණයේදී තිත් ^ හා තෙයි / වශයෙන් සලකුණු කරනු ලබන්නේ මිනි කුමක් ද?

- i. අනාඝාතාත්මක අක්ෂර
- ii. ආඝාතය
- iii. බෙරවාදනය
- iv. නාද මාලාව

• 11 සිට 15 දක්වා ප්‍රශ්න වලට වගුව ඇසුරින් පිළිතුරු සපයන්න.

	1	2	3	4
A	නල දමයන්ති	ගිනිතොරා	රාමසීතා	කරදිය
B	සත්පත්තිනි	වෙන්ඩාව	කුඹි කටාව	පුංග්
C	මද්දලය	රාස්ලීලා	පොන්නානි	ඉලතාලම්

11. කටකලි නර්තන සම්ප්‍රදායේ දී සිංකඩි විසින් වාදනය කරනු ලබන භාණ්ඩය දක්නට ලැබෙන්නේ

- i. A පේළියේ 2,3 තීරුවලය
- ii. B, C පේළි සහ 1,2 තීරුවලය
- iii. C පේළියේ 4 තීරුවේය
- iv. A පේළියේ 4 තීරුවේය

12. මණිපුරි නර්තන අංගයක් සහ වී හා බැඳී ප්‍රධාන අවනද්ධ භාණ්ඩය දක්නට ලැබෙන්නේ

- i. AB පේළි සහ 1,2 තීරුවලය
- ii. BC පේළි සහ 1,2 තීරුවලය
- iii. B පේළියේ 2,4 තීරුවලය
- iv. BC පේළි සහ 2,4 තීරුවලය

13. චිත්‍රසේන මහතා විසින් නිෂ්පාදිත මුද්‍රානාට්‍ය දක්නට ලැබෙන්නේ

- i. AB පේළි සහ 1,2,3 තීරුවලය
- ii. A පේළියේ 1,3,4 තීරුවලය
- iii. B පේළියේ 1,3 තීරුවලය
- iv. AB පේළි සහ 1,2 තීරුවලය

14. ධීවර වර්ත දක්නට ලැබෙන මුද්‍රානාට්‍ය ඇතුලත් වන්නේ


- i. A පේළියේ 4 වැනි තීරුවේය
- ii. B පේළියේ 1 වැනි තීරුවේය
- iii. A පේළියේ 1 හා 2 තීරුවලය
- iv. A පේළියේ 1 හා 3 තීරුවලය

15. අංජලිකා චිත්‍රසේන විසින් රංග රචනය කරන ලද මුද්‍රා නාට්‍ය ඇතුල්වන්නේ

- i. A පේළියේ 3 තීරුවේය
- ii. B පේළියේ 3 තීරුවේය
- iii. C පේළියේ 4 තීරුවේය
- iv. AB පේළියේ සහ 3 තීරුවේය

16. මෙම ඡායාරූපයෙන් දැක්වෙන්නේ

- i. මහා පරාක්‍රමබාහුය
- ii. කාලි දාසය
- iii. ශ්‍රී වික්‍රම රාජසිංහය
- iv. රචිත්දනාත් තාගෝර්තුමාය



17. උඩරට නර්තන සම්ප්‍රදායේ දියුණුවට කටයුතු කළ ප්‍රවීණතන් කතුවරයෙකි

- i. මහාචාර්ය තිස්ස කාරියවසම් මහතා
- ii. මහාචාර්ය මුදියන්සේ දිසානායක මහතා
- iii. මහාචාර්ය ලයනල් බෙන්තරගේ මහතා
- iv. මහාචාර්ය ජයසේන කොට්ටේගොඩ මහතා

18. චිත්‍ර විෂයේ රේඛාව නම් නර්තනයේ මාධ්‍ය වන්නේ

- i. නාදයයි
- ii. වාදනයයි
- iii. අභිනයයි
- iv. චලනයයි

19. පංචතූර්ය භාණ්ඩ වර්ගීකරණයේදී ගැටබෙරය හා යක්බෙරය අයත් වන්නේ

- i. අතනයටය
- ii. චිතනයටය
- iii. ආතත චිතතටය
- iv. ඝනයටය

20. රසනාව සංකල්පය මෑතවත් විග්‍රහකොට ඇති ග්‍රන්ථ දෙකකි

- i. සිංහල නර්තන කලාව හා උඩරට නැටුම් කලාව
- ii. පහතරට නර්තනය හා සිංහල නර්තන කලාව
- iii. අපේ දේශීය නාට්‍යකලාව සහ ආසියානු නාට්‍ය හා රංගකලාව
- iv. නාට්‍ය ශාස්ත්‍රය හා අභිනය දර්පනය

21. ප්‍රථමයෙන් උඩරට වන්නම් ගායනා කරන ලද්දේ

- i. කවීකාර මඩුවේය
- ii. නැටුම් ඉලංගමේය
- iii. දළදා මාළිගාවේය
- iv. සමන් දේවාලයේය

22. අනාඝාතාත්මක ගායනා ලෙස නම් කළ හැකි වන්නේ

- i. පන්තේරු සහ උඩැකිකි
- ii. වන්නම් සහ මල්ගහන් කවි
- iii. ටීකා සීපද සහ ප්‍රසස්ති
- iv. පැල් කවි සහ පතල්කවි

23. යක් දෙස්සන් වහයෙන් ප්‍රධාන ඇදුරන් හඳුන්වනු ලබන්නේ

- i. පහතරට දෙවොල් මඩුවේදීය
- ii. සබරගමු පහන් මඩුවේදීය

- iii. උඩරට කොහොඹ කංකාරයේදීය
- iv. බලියාගයේදීය

24. මහනුවර දළඳා පෙරහැරේ වාරිතුව විධි අවසන් කරන්නේ

- i. රන්දෝලි පෙරහැරෙනි
- ii. කප් සිටුවීමෙනි
- iii. දිය කැපීමෙනි
- iv. කුඹල් පෙරහැරෙනි

25. යුධ අවස්ථාවලදී දක්නට ලැබෙන වාදන අවස්ථා වන්නේ

- i. හේවිසි හා මඟුල්බෙර
- ii. අණබෙර හා රණබෙර
- iii. මලබෙර හා රණබෙර
- iv. මඟුල් බෙර හා තේවා හේවිසි

26. පොළොන්නරුවේ සරස්වතී මණ්ඩපය ඉදිකරන ලද්දේ

- i. මහා පරාක්‍රමබාහු රජුය
- ii. දුටුගැමුණු රජුය
- iii. ශ්‍රී වික්‍රම රාජසිංහ රජුය
- iv. නිශ්ශංක මල්ල රජුය

27. කෝලම් නාටක වර්ත නිරූපණයේදී අධිමානුෂ වර්ත වන්නේ

- i. නාග රාක්ෂ, ගුරුළු රාක්ෂ, මරක්කල ය
- ii. ගුරුළු රාක්ෂ, මරු රාක්ෂ, නරසිංහ අවතාර ය
- iii. ජසයා, ලොචිනා, මුදලි, නොංචි ය
- iv. සිංහ, වලස්, ගොන්, කොටි ය

28. අනුරාධපුරයුගයේ උත්සව අවස්ථාවන් වලදී පණ්ඩුකාභය රජ විත්තරාජ හා කාලවේල යන යක්ෂයන් උදෙසා දෙවි මිනිස් නැටුම් කරවූ බව සඳහන් වන්නේ

- i. වූල වංශයේය
- ii. දීපවංශයේය
- iii. මහාවංශයේය

iv. ට්‍රිප්ලිංග්‍රැෆිකල්

29. සතර අභිනවයේදී වේෂ නිරූපණය අයත් වන්නේ

- i. ආංගික අභිනවය
- ii. වාචික අභිනවය
- iii. සාත්වික අභිනවය
- iv. ආහාර්ය අභිනවය

30. වැදියකුන් හා බණ්ඩාර දෙව් සත්කට්ටුව පුදලබන්නේ

- i. බලියාගයේදී
- ii. කිරිමඩුවේදී
- iii. දෙවොල් මඩුවේ
- iv. කොහොඹ කංකාරියේදී

II කොටස - උඩරට නර්තනය

31. " තෙයිසත් තෙයි තා තිත් තෙයි තා " යනු

- i. අටවන පාසරඹයයි
- ii. නවවන පාසරඹයයි
- iii. දසවන පාසරඹයයි
- iv. හත්වන පාසරඹයයි

32. "තාමී දොමිත ගත දොමිකිත..." මෙම පද කොටස සහිත අඩවිව අයත්වන්නේ

- i. කුඳ ගජගත වට්ටමටය
- ii. දොංජිංත ගත දොතං වට්ටමටය
- iii. ගොග් ගොග් ජිං ජිං ගත වට්ටමටය
- iv. කුදාංත ගත දොමී වට්ටමටය

33. කොහොඹා කංකාරි ශන්තිකර්මයට අයත් ගායනා සහිත නර්තන අංග දෙකකි

- i. කොහොඹා හැල්ල සහ අස්නේ
- ii. යක් අරණුම සහ දුනු මාලප්පුව
- iii. හත් පද සහ ආවැන්දුම
- iv. කොල්පාඩුව සහ මල්හත්පද

34. මාත්‍රා 2 + 4 දෙතිතට නර්තනය කරනු ලබන වන්නමක්

- i. සැවුලා
- ii. තුරඟා
- iii. මුෂලඬි
- iv. සිංහරාජ

35. වන පැත්ත බියපත්ව සයනම්//... මුසලඬි වන්නමට අයත් මෙම කවියේ ඉතිරි කොටස වන්නේ

- i. හිරැත් අවර ගිරත් පැමිණි.....
- ii. විටත් ඔවුන තුටත් සිතින.....
- iii. දුටත් යනෙන විටත් දුවන.....
- iv. ගමනක් යන විලසක් ගෙන....

36. කුඳ කුප්ගත වට්ටමේ තාලරූපය වන්නේ

- i. 4 + 4 මහ තනි තිතයි
- ii. 3 + 3 මැදුම් තනි තිතයි
- iii. 2 + 2 සුළු තනි තිතයි
- iv. 2 + 3 සුළු මැදුම් දෙතිතයි

37. කොහොඹ කංකාරියට අයත් නාට්‍යමය පෙළපාලි වන්නේ

- i. අඹවිදුමන හා ඇත්ඛන්ඛනයයි
- ii. රාමා මැරීම සහ අඹවිදුමනයි
- iii. ගුරුගේ මාලාව සහ ගබඩාකොල්ලයයි
- iv. දෙවොල් ගොඩබැසීම සහ අසුරයක්කමයි


38. "ජෙං තත් තත් ජෙං තත් තත් ජෙංතත් තත් ජෙංතා.." යන අඩවිව අයත් තාල රූපය වන්නේ

- i. මාත්‍රා 3 + 4 මැදුම් මහ දෙතිතයි
- ii. මාත්‍රා 2 + 4 සුළු මහ දෙතිතයි
- iii. මාත්‍රා 2 + 3 සුළු මැදුම් දෙතිතයි
- iv. මාත්‍රා 2 + 2 + 3 දෙසුළු මැදුම් තුන්තිතයි

39,40 ප්‍රශ්න වලට රූපසටහන ඇසුරින් පිළිතුරු සපයන්න.

39. උඩරට වෙස්ඇඳුම් කට්ටලයට අයත් මෙම රූප සටහනට අනුව 1,4,6 අංකවලින් දැක්වෙන්නේ

- i. සිඛා ඛන්ධනය, උරබාහු හා අවුල් හැරයයි
- ii. ජටාව, නෙත්තිමාලය හා අවුල් හැරයයි
- iii. ජටාව, උරබාහු හා කෙමෙත්තයි
- iv. පායිම්පත, උරබාහු හා නෙත්තිමාලයයි



40. මෙම රූප සටහනට අනුව සිඛාඛන්ධනය හා අවුල්හැරය දැක්වෙන්නේ

- i. 2 සහ 5 අංකවලිනි
- ii. 3 සහ 4 අංකවලිනි
- iii. 5 සහ 6 අංකවලිනි
- iv. 1 සහ 2 අංකවලිනි

III කොටස - පහතරට නර්තනය

31. "තෙයියත් තර්කිට තෙයියත් දිගතම්" යනු

- i. අටවන පාසරඹයයි
- ii. නවවන පාසරඹයයි
- iii. දසවන පාසරඹයයි
- iv. හත්වන පාසරඹයයි

32. "ගුඳ ගති ගත" වට්ටමෙහි තාලරූපය වන්නේ

- i. මාත්‍රා 2 + 4 දෙතිතය
- ii. මාත්‍රා 4 තනි තිතය
- iii. මාත්‍රා 3 තනිතිතය
- iv. මාත්‍රා 2 තනිතිතය

33. දෙවොල් මඩු ශාන්ති කර්මයේ දක්නට ලැබෙන නර්තන අංග දෙකකි

- i. යහන් දැක්ම සහ තොරන් යාගය
- ii. මුගුරුපද සහ මඩුපුරය
- iii. වාහල සහ මුදුන් තාලය

iv. කොළොන්න පද සහ යක්කුන් පදය

34. දෙසුළු මැදුම් තුන්තිතට නටනු ලබන සින්දුවන්නම

- i. ශුද්ධ තාලය සින්දුවන්නම
- ii. අනුරාග දණ්ඩතාලය සින්දුවන්නම
- iii. නාතිලිංචිතාලය සින්දුවන්නම
- iv. හනුමන්නා තාලය සින්දුවන්නම

35. කිසි ලොව දිලෙන තෙද තිලොතිලයේ...ඊශ්වර කුණ්ඩතාලය සින්දු වන්නමට අයත් මෙම කවියේ ඉතිරි කොටස වන්නේ

- i. නොපීනනු කවිද වෙනු සරණ රැස් ගඟේ.....
- ii. තෝරමිනා කිරණ නිසි අග්‍ර මිනෙවු කිරුළක දරනා....
- iii. හැපී දුක් ගසින් උත්සක ගොස් නොලඟේ....
- iv. තාරගනා මැදිනා දිසි සුබුකරා ලෙස සොම්ගුණෙනා....

36. මහ තනි තිතට අයත් බෙර පදයකි

- i. දොම් තම් ගත ගදිතම් ගත ගුගුදම් ගත ගදිතම්
- ii. තකදිත් තම්ගත දොම් දිම් තකදොම්
- iii. දිත්තම් දිකම් දොං දොං තාම්
- iv. දොදොම් දොම් ගදිකිට ගදිත දෙදොම් තා

37. දොවොල්මඩු ශාන්ති කර්මයට අයත් නාට්‍යමය පෙළපාලි වන්නේ

- i. පොත්කඩේ පාලිය හා මී ධන්ධනයයි
- ii. රාමා මැරීම සහ යක්කමිය
- iii. දෙවොල් ගොඩබැසීම සහ ඇත්ධන්ධනයයි
- iv. ගුරුගේ මාලාව සහ අඹවිදුමනයයි

38. දොම්ත.... දිම්ගත ගත්තත්....දිංගත ගුංදත් තා මෙය සම්පූර්ණ වීමට සුදුසු පද ඇතුලත් වරණය තෝරන්න.

- i. දොම්ත ගුං - ගදිත ගදිතගත
- ii. ගතම් ගුං - ගද්දිත ගතගත්
- iii. දොම්ගත - දිංගත ගත කුද

iv. ගතමී ගුං - රෙගත රෙගත ගුද

• 39 - 40 ප්‍රශ්න වලට රූප සටහන ඇසුරින් පිළිතුරු සපයන්න

39. රූපයේ දැක්වෙන පහතරට තෙල්මේ ඇඳුම් කට්ටලයට අනුව නළල් පටිය, පබළු මාලය, පබළු හැටිය දක්නට ලැබෙන්නේ

- i. 1,2 සහ 3 අංකවලින්
- ii. 3,4 සහ 5 අංකවලින්
- iii. 1,3 සහ 4 අංක වලින්
- iv. 1,4 සහ 5 අංකවලින්



40. 1,2 අංකවලින් දැක්වෙන්නේ

- i. නළල් පටිය හා ජටාවය
- ii. පබළු මාලය සහ නළල් පටියයි
- iii. ජටාව සහ පබළු කරමාලයයි
- iv. හැටිය සහ තෙත්ති මාලයයි



කලාප අධ්‍යාපන කාර්යාලය - කොළඹ
 வலயக் கல்வி காரியாலயம் - கொழும்பு
 Zonal Education Office - Colombo

අ.පො.ස.(සා/පෙළ) විභාගය - ආදර්ශ ප්‍රශ්න පත්‍රය
 க.பொ.த. (சா/த) பரீட்சை - மாதிரி வினாத்தாள்
 G.C.E.(O/Level) Examination - Model Paper

අ.පො.ස. (සා.පෙළ) - ආදර්ශ ප්‍රශ්න පත්‍ර අංක 01

නැටුම් දේශීය II පත්‍රය

(කාලය පැය 02)

- පළමුවැනි ප්‍රශ්නය අනෙවාර්ය වේ.
 - පළමුවැනි ප්‍රශ්නය හා තවත් ප්‍රශ්න හතරක් ඇතුළුව ප්‍රශ්න පහකට පිළිතුරු සපයන්න.
 - සෑම ප්‍රශ්නයකටම ලකුණු 12 බැගින් හිමිවේ.
1. සියලුම ප්‍රශ්න වලට සුදුසු පිළිතුරු ඔබගේ පිළිතුරු පත්‍රයේ අදාළ ප්‍රශ්න අංකය යොදා ඉදිරියෙන් ලියන්න.
 - i. අ.පො.ස උසස් පෙළ සඳහා නර්තන විෂයයක් වශයෙන් ඇතුළත් වූයේ..... වසරේ සිටිය.
 - ii. 1934 වර්ෂයේතුමාගේ පැමිණීමත් සමඟ නර්තන කලාවේ නව ප්‍රබෝධයක් ඇතිවිය.
 - iii. දේශීය නර්තන සම්ප්‍රදායයන් තුන පිළිබඳ හා නර්තන විකාශනය පිළිබඳ තොරතුරු ඇතුළත් සිංහල නර්තන කලාව (1993) කෘතිය ලියන ලද්දේ විසිනි.
 - iv. සිංහල ගොයම් නැටුමට සමාන ද්‍රවිඩ ගැමි නැටුමකි.....
 - v. නවාඬි වලිප් අලිෂා සහ අවිචන් මහරාජ්නර්තනයේ ප්‍රවර්ධනයට දායක වූ ශිල්පීන් දෙදෙනෙකි.
 - vi. කුඹි කථාව මුද්‍රානාටයයේ රංග රචනය කර ඇත්තේ මහත්මියයි.
 - vii. උඩරට ප්‍රධාන ජන නාටකයකි.....
 - viii. ලිමල්ලිය භාවිතා කරමින් නටනු ලබන දේශීය ගැමි නැටුමකි.
 - ix. උඩරට, පහතරට, සබරගමු ප්‍රධාන ශාන්තිකර්ම තුනෙහිම සමාන චාරිත්‍ර දෙකක් ලෙස 1.....2..... නම්කළ හැකිය.
 - x. කෝලම් ජන නාටකයෙහි රඟමඩල 1..... වන අතර 2..... රජුගේ බිසවට නැටුම් සිනාකෙළි දැකීමටවත් දොළදුකක් හේතුවෙන් කෝලම් නැටුම් බිහිවිය.

2. i. ඔබ උගත් නර්තන සම්ප්‍රධායට අයත් මාත්‍රා 2 + 2 + 3 තාලයට බෙරපදයක් ප්‍රස්තාර කරන්න. (ඉ 4)
 - ii. "රනේ රැවසෙ වත රැවින් දිලේදෝ..." යන ගී පාදය මාත්‍රා තුනේ තනිතනට ප්‍රස්ථාර කරන්න. (ඉ 4)
 - iii. සැවුලා වන්නම හෝ නාති ලිංචිතාලය සින්දු වන්නමෙහි කස්තිරම / ඉරට්ටිය ප්‍රස්ථාර කරන්න. (ඉ 4)
3. පහත සඳහන් මාතෘකා තුනක් කෙටියෙන් විස්තර කරන්න.
 - I. තනි තිනේ ප්‍රහේධ
 - II. රසභාව සංකල්පය
 - III. මානසික සවස්ථතාව හා නර්තනය
 - IV. කරදිය මුද්‍රානාට්‍ය
 - V. ද්‍රව්‍ය ගැමි නැටුම්
4. i. උඩරට, පහතරට, සබරගමු ප්‍රධාන ශාන්තිකර්ම තුන නම්කර ඒ හා බැඳී ප්‍රධාන වාද්‍ය භාණ්ඩ නම් කරන්න. (ඉ 4)
 - ii. එම ශාන්ති කර්ම තුනෙහි නාට්‍යමය අවස්ථා තුනක් නම්කර එක් නාට්‍යමය අවස්ථාවක් හඳුන්වන්න. (ඉ 4)
 - iii. උඩරට ප්‍රධාන ශාන්ති කර්මවල ගායන සහිත හා ගායන රහිත නර්තන අංග දෙකක් හඳුන්වන්න. (ඉ 4)
5. i. අංග රචනයේ දී භාවිතයට ගන්නා ද්‍රව්‍ය 4 ක් නම් කරන්න. (ඉ 4)
 - ii. සරල අංග රචනය යනු කුමක් දැයි හඳුන්වන්න. (ඉ 4)
 - iii. වේෂිතරූපණය රසවින්දනය කෙරෙහි බලපාන අයුරු සැකෙවින් දක්වන්න. (ඉ 4)
6. "දේශීය ජන නාටක අතර සොකර් හා කෝලම් ප්‍රධානවේ"
 - i. සොකර් නාටකයට අයත් කවියක් ලියා දක්වන්න. (ඉ 4)
 - ii. සොකර් හා කෝලම් නාටකවල දක්නට ලැබෙන වෙනස්කම් පෙළඟස්වන්න. (ඉ 4)
 - iii. කෝලම් නාටක වර්ත මගින් සමාජ විවරණයක් සිදුකරන ආකාරය ලියන්න. (ඉ 4)
7. i. අනුරාධපුර නර්තන කලා ඉතිහාසය සම්බන්ධ මූලාශ්‍ර දෙකක් දක්වන්න. (ඉ 2)
 - ii. එම මූලාශ්‍ර ඇසුරින් නර්තනය සඳහා ලැබූ රාජානුග්‍රහය පිළිබඳ සාධක දෙකක් ඉදිරිපත් කරන්න. (ඉ 4)
 - iii. කෝට්ටේ යුගයේ ලියැවුණු සන්දේශ කාව්‍ය මගින් ඒකල පැවැති නර්තන කලාවේ තොරතුරු දිස්වන අවස්ථා පිළිබඳ සාධක දෙකක් ඇසුරින් කරුණු ඉදිරිපත් කරන්න. (ඉ 6)



කලාප අධ්‍යාපන කාර්යාලය - කොළඹ
வலயக் கல்வி காரியாலயம் - கொழும்பு
Zonal Education Office - Colombo

අ.පො.ස.(සා/පෙළ) විභාගය - ආදර්ශ ප්‍රශ්න පත්‍රය
க.பொ.த. (சா/த) பரீட்சை - மாதிரி வினாத்தாள்
G.C.E.(O/Level) Examination - Model Paper

11 ශ්‍රේණිය දේශීය නැටුම්

1 පත්‍රය විසඳුම්

- | | |
|-------|-------|
| 1) 1 | 22) 4 |
| 2) 3 | 23) 3 |
| 3) 3 | 24) 3 |
| 4) 2 | 25) 2 |
| 5) 4 | 26) 1 |
| 6) 4 | 27) 2 |
| 7) 2 | 28) 3 |
| 8) 3 | 29) 4 |
| 9) 2 | 30) 4 |
| 10) 2 | 31) 3 |
| 11) 3 | 32) 4 |
| 12) 4 | 33) 1 |
| 13) 2 | 34) 1 |
| 14) 1 | 35) 3 |
| 15) 2 | 36) 2 |
| 16) 4 | 37) 3 |
| 17) 2 | 38) 2 |
| 18) 4 | 39) 3 |
| 19) 1 | 40) 1 |
| 20) 4 | |
| 21) 1 | |



කලාප අධ්‍යාපන කාර්යාලය - කොළඹ
 வலயக் கல்வி காரியாலயம் - கொழும்பு
 Zonal Education Office - Colombo

අ.පො.ස.(සා/පෙළ) විභාගය - ආදර්ශ ප්‍රශ්න පත්‍රය
 க.பொ.த. (சா/த) பரீட்சை - மாதிரி வினாத்தாள்
 G.C.E.(O/Level) Examination - Model Paper

හැටුම් (දේශීය) II විසඳුම්

- I. 1978
- II. රවිච්චන්ද්‍රන් තාගෝර්
- III. මහාචාර්ය මුදියන්සේ දිසානායක
- IV. අරවිචේට්ටු
- V. කට්ක
- VI. අංජලිකා විතූසේන
- VII. සොකර්
- VIII. ලිකේජි හැටුම
- IX. 1. කප්පිටුවීම 2. මඩුපේ කිරීම
- X. 1. තානායම්පොළ 2. මහාසම්මත

(@ 12)

2) I.

	$\hat{1} \quad 2$	$\hat{1} \quad 2$	$1' \quad 2 \quad 3$	$\hat{1} \quad 2$	$\hat{1} \quad 2$	$1' \quad 2 \quad 3$
උඩරට	ද්‍රෝමී තකු	ද්‍රෝමී තකු	ද්‍රෝමී ජිං -	ගත් -	තත් -	ජිං තර් කිට
පහතරට	දිත් -	තම් -	දි ත මී	ද්‍රෝමී -	ද්‍රෝමී -	තා - මී

(@ 4)

II.

$1' \quad 2 \quad 3$	$1' \quad 2 \quad 3$	$1' \quad 2 \quad 3$	$1' \quad 2 \quad 3$
ර නේ -	රු ව සෙ	ව ත -	- - -
රු වින් -	දි ලේ -	දෝ - -	- - -

(@ 4)

III. උඩරට කස්තීරම - සැවුලා වන්නම

[^] 1	2	1'	2	3	4	[^] 1	2	1'	2	3	4
කු	ද	ග	ජ	ග	ත	කු	ද	ග	ජ	ග	ත
කු	ද	ග	ජ	ග	ත	කු	ද	තා	-	-	-//
කු	ද	ග	ජ	ග	ත	කු	ද	තා	-	-	-//
කු	ද	තා	-	-	-	කු	ද	තා	-	-	-
කු	ද	ග	ජ	ග	ත	කු	ද	ග	ජ	ග	ත
කු	ද	ග	ජ	ග	ත	කු	ද	තා	-	-	-

III. පහතරට - නාති ලිංචි තාලය - ඉරට්ටිය

[^] 1	2	1'	2	3	4	[^] 1	2	1'	2	3	4
දොම්	-	තත්	-	දිම්	-	ග	ත	ඟු	ඟු	දි	ත
ග	ත	ඟුහි	තිඟු	දිරි	කිට	දොම්	-	ග	ත	ග	ත
ඟුම්	-	දා	-								

(@ 4)

3) මාතෘකා 3 ක් පිළිබඳ කෙටි සටහන් ලියන්න

I. තනිතීන් ප්‍රභේද -

සුළු තනිතීත, මැදුම් තනිතීත, මහතනිතීත යන තනිතීන් ප්‍රභේද මාත්‍රා නියමයන් දක්වා කෙටියෙන් විස්තර කර තිබීම....

II. රසභාව සංකල්පය -

රසභාව සංකල්පය හඳුන්වා රස නිෂ්පත්තියේ දී මුල්වන ස්ථායීභාව නවය හා එමඟින් උපදින රස නවය නම්කොට තිබීම.

III. මානසික සවස්ථතාව හා හර්තනය -

මානසික සවස්ථතාව යන්න යන්න කෙටියෙන් පැහැදිලි කර ඒ සඳහා නර්තනය යොදාගන්නා අයුරු හා මානසික සංස්ථතාව පවත්වා ගැනීමට නර්තනය ඉවහල් වන අයුරු කෙටියෙන් දක්වා තිබීම...

IV. කරදිය මුද්‍රානාටය -

ජන ජීවිතයේ දුක් ගැහැට තේමාවී ඇතිබව, බලවතා විසින් දුබලයා ග්‍රහණය කරගැනීම... හා ඒ හා සිසිවන්දගේ කථා පුවත.... පසුබිම් කරගෙන විග්‍රහ කරන අයුරු කෙටියෙන් පැහැදිලි කර තිබීම.

V. ද්‍රවිඩ ගැමිනැටුම -

සෙමිඳු, කෝලාට්ටම්, පින්හල් කෝලාට්ටම්, අරවි වෙට්ටු සුලකු, කාවඩි, කුම්මි යන ද්‍රවිඩ ගැමි නැටුම් 3 ක් හෝ.... නම් කොට කෙටියෙන් ද්‍රවිඩ ගැමි නැටුම් පිළිබඳ හඳුන්වා තිබීම.

(@ 4 x 3 = 12)

- 4) i. උඩරට - කොහොඹකංකාරිය - ගැටබෙරය
 පහතරට - දොවොල් මඩුව - යක්බෙරය
 සබරගමු - පහන් මඩුව - දඩුල

වශයෙන් නම්කර තිබීම

(@ 3)

- ii. උඩරට - ගුරුගේ මාලාව හෝ වෙනත්
 පහතරට - දොවොල් ගොඩ බැසීම හෝ වෙනත්
 සබරගමු - අඹවිඳුමන හෝ වෙනත්

වශයෙන් නම්කර එක්නාටයමය පෙලපාලියක් හඳුන්වා තිබීමට

(@ 4)

iii. කොහොඹකංකාරිය

ගායනා සහිත

නර්තන අංග : අස්නේ, කොහොඹා හැල්ල.... වලින් එකක්

හා

ගායනා රහිත

නර්තන අංග : යක් ඇනුම, ආවැන්දුම නර්තනාංග

වලින් එකක් හඳුන්වා තිබීමට

(@ 5)

5) i. මූලික ආලේපන

අයිබ්ලෝ පෙන්සිල් / අයි ෂැඩෝ / ලිප්ස්ටික් වශයෙන් ද්‍රව්‍ය 4 ක් නම්කර තිබීමට

(@ 4)

ii. මූලික වශයෙන් සරල අංගරචනය, වර්තාංග අංග රචනය වශයෙන් කොටස් දෙකක අංගරචනයෙහි ඇති බව දක්වා ඒවා මුහුණ ප්‍රධානකොට ඇති අඟ පසඟ වර්තයේ ස්වභාවයට අවශ්‍ය පරිදි හැඩ ගැන්වීම අංගරචනය වශයෙන් හඳුන්වා කෙනෙකුගේ බාහිර ස්වරූපය ඒ ඇසුරින්ම අංගරචනය කිරීම සරල හෙවත් ස්වභාවික අංග රචනය වශයෙන් දක්වා තිබීමට.....

(@ 4)

iii. රස වින්දනය සඳහා වේෂ නිරූපණය බලපාන අයුරු විස්තර කර තිබීම.

(@ 5)

6) i. ගුරුහාචී

වමන සුරත නලළලේ අළු ගාගෙන

දැන් දෙබැම කේ සෝරුද ගාගෙන

සිරිත ලෙසට ගඩු ගුඩාව ඇරගෙන

ගහිති හිමිති පොත අතකට ඇරගෙන

සොකර්

අඳුන්ගාන්හී නෙත් දෙක

සොකර් එන්හී.....

පරයා

ඉතින් කියන්නේ.....වැනි කවියක් සම්පූර්ණයෙන් ලියා තිබීමට

(@ 4)

ii. සොකර් හා කෝලම් වල, ප්‍රාදේශීය වහයෙන් පවතින වෙනස්කම්, රංගමඩල, නර්තනය, වාදනය, ගායනය, ඇඳුම් පැළඳුම්, අරමුණු...ආදියෙහි වෙන්සකම් වෙන්වෙන් වශයෙන් පැහැදිලිව දක්වා තිබීමට.....

(@ 4)

iii. මුදලිතුමා, ආරච්චිලා.....වැනි වර්තවල දෙබිබි පිළිවෙත උපහාසාත්මකව හෙළිදරව් කර සමාජය වෙත පණිවිටයක් ද ලබාදී සමාජ විවරණයක් කරන ආකාරය විස්තර කර තිබීමට....

(@ 4)

7) i. සෙල්ලිපි, ලෙන්ලිපි, මහාවංශය,.....ආදියෙන් 2 ක් ලියා තිබීමට (@ 2)

(@ 2)

ii. මහාවංශය

1. උත්සව අවස්ථාවල පණ්ඩුකානය රජ චිත්තරාජ හා කාලවේල යන යකෂයන් උදෙසා අසුන් පනවා තමා ඉදිරියේ දෙවි මිනිස් නැටුම් කරවූ බවත්
2. දුටුගැමුණු රජ නළඟනන් පිරිවරා ගෙන කණ්ඩුල ඇතුළුට නැඟී රුවන්වැලිසෑයේ ධාතුහිඬන් කිරීමේ උත්සවයට.....යනාදී සාධක 2 ක් දක්වා තිබීමට

(@ 4)

iii. කෝට්ටේ යුගයේ සන්දේශකාව්‍ය

1. සැලලිහිණි සන්දේශය

- විදෙන ලෙලෙන තරඹරු පුළු ලකුල රැඳී....කවිය ලියාතිබීම ලකල පුළු ලකුල බැඳ මිණි කවිය.....

2. පරෙවි සන්දේශය

- ලෙලදුන් නව තඹ පලුවන් පාදේ....කවිය
- ලෙලෙනා දිගුනෙත නිලුපුල සේයා.... කවිය

(@ 6)



කලාප අධ්‍යාපන කාර්යාලය - කොළඹ
வலயக் கல்வி காரியாலயம் - கொழும்பு
Zonal Education Office - Colombo

අ.පො.ස.(සා/පෙළ) විභාගය - ආදර්ශ ප්‍රශ්න පත්‍රය
க.பொ.த. (சா/த) பரீட்சை - மாதிரி வினாத்தாள்
G.C.E.(O/Level) Examination - Model Paper

අවසාන වාර පරීක්ෂණය

කොළඹ කලාපය

ආදර්ශ ප්‍රශ්න පත්‍රය

11 - ශ්‍රේණිය නර්තනය

- I කොටසේ ඛණ්ඩවරණ ප්‍රශ්න 40ක්ද II කොටසේ ප්‍රශ්න 07ක්ද වේ.
- I කොටසේ 1 - 30 දක්වා සියළුම ප්‍රශ්න වලටද 30 - 40 දක්වා ඔබ උගත් සම්ප්‍රදායට අදාළ ප්‍රශ්න කොටස තෝරාගෙන පිළිතුරු සපයන්න.

I කොටස

- ශාන්ති කර්ම වලදී දෙවියන්ට ආරාධනා කිරීම හා ආශිර්වාද ලබා ගැනීම අපේක්ෂාවෙන් වාදනය කෙරේ
i අභ්‍යා බෙර ii මගුල් බෙර iii හැන්දෑදුරිය iv හේවිසි
- ජීවන වෘත්තියක් ඇසුරෙන් නර්තනයක් නිර්මාණය කිරීමේ දී යොදා නොගත යුතු වලන වර්ගය නම්,
i රිද්මයානුකූල වලනය ii කාලානුකූල වලනය
iii ප්‍රකාශනාත්මක වලනය iv වාරිත්‍රානුකූල වලනය
- බුදුන්, රජවරු, දෙව්වරුන්ගේ ගුණ වර්ණනා කරමින් ගයා ඇති ගායනා විශේෂයකි.
i ටිකා සීපද ii දේවස්තෝත්‍ර ගායනා
iii ප්‍රශස්ති ගායනා iv ශාන්තිකර්ම ගී
- සිංහල, ද්‍රවිඩ හා ආදිවාසී ජනතාව එකවර සහභාගී වන පෙරහර නම්,
i රත්නපුර සමන් දේවාල පෙරහර ii මහනුවර දළදා පෙරහර
iii සීනිගම දේවාල පෙරහර iv රුහුණු කතරගම මහදේවාල පෙරහර
- ගද්‍ය පද්‍ය කොටසේ දෙකට අන්තර්ගත වූ සුවිශේෂ ගායන වර්ගයක් වන්නේ
i කඩතුරා කවිය ii පතල් කවිය
iii ටිකා සීපදය iv පැල් කවිය

අංක 06 සිට 10 තෙක් දක්වා ඇති ප්‍රශ්න සඳහා නිවැරදි පිළිතුර පහත වගුව ඇසුරෙන් තෝරන්න

	1	2	3
A	ශාන්ත රසය	කඩු නැටුම්	අත්භුත රසය
B	මෙලෙයි යකුන් පිදීම	හඟල යැදීම	මෝල්ගස් නැටුම
C	සාත්වික අභිනය	පත්තිනි	දෙවොල්
D	අංග රචනය	නාට්‍ය ශාස්ත්‍රය	වෙස් නැටුම

- ශාන්ත (ගම) යන භාවය මගින් නිරූපණය වන රසය සඳහන් වන්නේ
i 1 තීරුවේ A පේළියේය. ii 2 තීරුවේ B පේළියේය.
iii 1 තීරුවේ C පේළියේය. iv 3 තීරුවේ D පේළියේය.
- වීර රසය ඉස්මතු කෙරෙන නර්තන අංගයක් සඳහන්ව ඇත්තේ
i 1 තීරුවේ C පේළියේය. ii 3 තීරුවේ B පේළියේය.
iii 3 තීරුවේ A පේළියේය. iv 2 තීරුවේ A පේළියේය.
- කොහොඹා කංකාරියේ ශාන්ති කර්මයට ආවේණික වාරිත්‍ර විධි සඳහන් වන්නේ
i B පේළියේ 1,2 තීරුවලය ii A පේළියේ 1,2 තීරුවලය
iii C පේළියේ 2,3 තීරුවලය iv B පේළියේ 1 හා C පේළියේ 3

9. දෙවොල් මඩුව හා පහන් මඩුව ශාන්ති කර්ම දෙකෙහිම පුද ලබන දෙව්වරු සඳහන් වන්නේ

- i A පේළියේ 1 හා B පේළියේ 3
- ii A පේළියේ 2 හා D පේළියේ 3
- iii C පේළියේ 2 හා 3 තීරුවලය
- iv B පේළියේ 2 හා 3

10. අයිෂුඩො, ලිප්තයිනර්, ලිප්ස්ටික් යන ද්‍රව්‍ය අයත් වන ශිල්ප ක්‍රමය සඳහන්ව ඇත්තේ

- i D පේළියේ 1 තීරුවේය
- ii C පේළියේ 1 තීරුවේය
- iii C පේළියේ 2 හා 3 තීරුවලය
- iv B පේළියේ 2 හා 3 තීරුවලය

11. දිවිකදුරු ගස එතන තියෙන්නේ සත් වියනක් දිග යන හිස්තැනට අදාළ වන්නේ

- i සොදින් කපන්නේ යනුවෙනි
- ii මිල්ල කපන්නේ යනුවෙනි
- iii මොහොල කපන්නේ යනුවෙනි
- iv විල්ල කපන්නේ යනුවෙනි

12. ප්‍රාසංගික කලාවක් ඉස්මතු වන අයුරින් නර්තන අංග දක්නට ලැබෙන ශව්‍ය දෘශ්‍ය මාධ්‍යයකි

- i සඟරා
- ii ගුවන්විදුලිය
- iii රසවාහානාය
- iv රූපවාහිනිය

13. බෙර වාදනයේදී මූලිකව යොදා ගන්නා බෙර අක්ෂර වේ

- i ගර්භාක්ෂර
- ii ලසු අක්ෂර
- iii සතර බිජාක්ෂර
- iv තාලාක්ෂර

14. පූර්ව රංග හා අපර රංග යනුවෙන් නාටකය කොටස් 2කට බෙදේ

- i රූකඩ
- ii කෝලම්
- iii සොකරි
- iv නූර්ත

15. නර්තනයේ ප්‍රායෝගික කොටස් භාවිත කරන ආකාරය ලියා දැක්වීම වේ

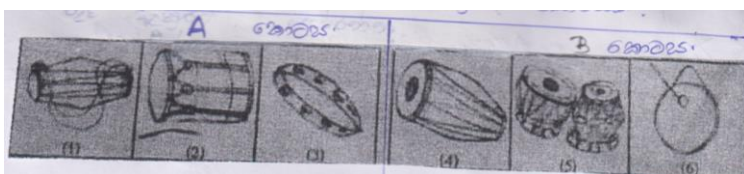
- i සංස්කරණය
- ii අනුකරණය
- iii ප්‍රස්තාරකරණය
- iv අංග රචනය



16. ඉහත රූප වලින් මානුෂ හා අති මානුෂ චරිත අනුපිළිවෙලින් දැක්වෙන්නේ

- i A හා B රූප වලිනි
- ii A හා C රූප වලිනි
- iii B හා C රූප වලිනි
- iv B හා A රූප වලිනි

ප්‍රශ්න 17 සිට 21 දක්වා නිවැරදිව පිළිතුර පහත වගුව ඇසුරින් තෝරන්න



17. ආතත හා විතතාතත කොටසට අයත් භාණ්ඩ දක්නට ලැබෙන්නේ

- i A කොටසට අයත් 1 හා 2 රූප වලය
- ii A කොටසට අයත් 2 හා B කොටසට අයත් 4 රූප වලය
- iii A කොටසට අයත් 2 හා 3 රූප වලය
- iv B කොටසට අයත් 4 හා 5 රූප වලය

18. කතකලි නර්තනය සඳහා උපයෝගී කරගනු ලබන වාද්‍ය භාණ්ඩය දක්නට ලැබෙන්නේ

- i A කොටසේ 2ය
- ii A කොටසේ 6ය
- iii B කොටසේ 4ය
- iv B කොටසේ 4ය

19. දක්ෂිණ භාරතයේ කර්ණාට සංගීතය යොදාගෙන කෙරෙන භාරත නාට්‍ය සඳහා යොදා ගන්නේ

i A කොටසේ 2ය

ii B කොටසේ 4ය

iii B කොටසේ 5ය

iv B කොටසේ 6ය

20. උත්තර භාරතීය හින්දුස්ථානී සංගීතය යොදාගෙන කෙරෙන කතක් නර්තනය සඳහා යොදා ගන්නේ

i B කොටසේ 6ය

ii A කොටසේ 2ය

iii B කොටසේ 5ය

iv B කොටසේ 4ය

21. සන වාද්‍ය භාණ්ඩ කොටසට අයක් වන්නේ

i A කොටසේ 1ය

ii B කොටසේ 2ය

iii B කොටසේ 6ය

iv A කොටසේ 3ය

22. කොහොඹා කංකාරියේ එන නර්තනාංග දෙකකි

i අස්තේ හා වැදියක්කම

ii කොහොඹා හැල්ල හා අයිලේ යැදීම

iii අස්තේ හා යක් ඇනුම

iv යක් ඇනුම හා හගලේ යැදීම

23. ගොයම් නර්තනය නිර්මාණය කර වේදිකාවට ගෙන ඒමේ ගෞරවය හිමිවනුයේ

i ප්‍රචීන නර්තන ශිල්පී ප්‍රේම කුමාර එපිටවෙල මහතාටය

ii ආචාර්ය එස්. පණිභාරත මහතාටය

iii නිමල් වෙල්ගම මහතාටය

iv ලයනල් බෙන්තරගේ මහතාටය

24. "මහනුවර පෙරහැරේ රූමත් තරුණියෝ ලස්සනට නටත් " මෙම සටහන කරන ලද්දේ

i පාහියන් හික්ෂුච

ii රොබට් නොක්ස්

iii ස්පිල් බර්ජන්

iv ඉබන් බකුතාය

25. කරදිය මුද්‍රා නාට්‍ය නිෂ්පාදනය කළේ

i ප්‍රේමකුමාර එපිටවෙල මහතා

ii එස්. පණිභාරත මහතා

iii වික්‍රමසේන මහතා

iv නිමල් වෙල්ගම මහතා

26. කෙහොඹා කංකාරී ශාන්ති කර්මයේ වනේ යක්කමේ දී යොදා ගන්නා රංග භාණ්ඩයකි

i වංගෙඩිය සහ නවකොළ අත්ත

ii ලියෙන් සාදන ලද දුන්න සහ ඊතලය

iii වංගෙඩිය

iv කෙසෙල් බඩ වලින් සෑදූ උෞරෙකුගේ රුව

27. විලම්බ ලයෙහි සිව් ගුණය . හඳුන්වන්නේ

i අඩ මධ්‍ය වේ

ii මධ්‍යවේ

iii අති විලම්භ වේ

iv ධ්‍යාන වේ

28. ඉන්ද්‍ර දිසාවට ඉඹුල් විමානට ඉරු දෙව් අධිපති වන්නේ මෙම කවි පදය අයත් වන්නේ ග්‍රහයන් සඳහා කෙරෙන

i කොහොඹා ශාන්ති කර්මයටය

ii මඩු ශාන්ති කර්ම වලටය

iii බලි ශාන්ති කර්මවලටය

iv සූනියම් ශාන්තිකර්ම වලටය

29. පොළොන්නරුවේ සරස්වතී මණ්ඩපය ඉදි කරන ලද්දේ

i I වන පරාක්‍රමබාහු

ii නිශ්ශංකමල්ල

iii II වන රාජසිංහ

iv දුටුගැමුණු

30. භාරතීය නර්තනාංග වලින් අංග රචනයෙන් පෙහොසත් වූ නර්තන සම්ප්‍රදාය නම්

i හරත

ii කථක්

iii කථකලි

iv මණිපුරි

II කොටස - උඩරට නර්තනය

31. දෙළොස් වන ගොඩ සරඹ නාමය වන්නේ

- i පැනීමේ සරඹයයි
- ii වන්දිකා සරඹයයි
- iii ඇල සරඹයයි
- iv දැඩියයි

32. "දොං දොං ජිං ජිං ගජිගත" යන බෙර පදය අයත් වන්නේ

- i මුසලඩි වන්නමටය
- ii සැවිලා වන්නමටය
- iii කුරගා වන්නමටය
- iv වෙවරොඩි වන්නමටය

33. "වන පැත්ත බියපත්ව සයනම්" මෙහි දෙවන පදය වන්නේ

- i නොනැවත යනු ඇත
- ii දුටත් යනෙන විටත් දුවන
- iii මේ ඇත්තමයි සත්ත
- iv පැන අඩි පත්ති බුදිමිත්

34. මාත්‍රා 2+2+4 තුන්තීන් කාල රූපයට නටනු ලබන්නේ

- i දෙංජිංත ගත දොංත වට්ටම
- ii කුදොංත ගත දොං වට්ටම
- iii ගුද ගති ගත වට්ටම
- iv කුද කුජිගත වට්ටම

35. දෙංජිංත ගත දොංත වට්ටමට අයත් කාල රූපය වන්නේ


- i මාත්‍රා 2+3 සුළු මැදුම් දෙතිතවේ
- ii මාත්‍රා 2+2 සුළු තනි තිතවේ
- iii මාත්‍රා 3+4 මැදුම් මහ දෙතිතවේ
- iv මාත්‍රා 2+4 සුළු මැදුම් දෙතිතවේ

36. කොහොඹා කංකාරියට අයත් ගායනය සහිත නර්තන අංග 02 කි

- i කොහොඹා හැල්ල/ මඩුපුරය
- ii කොහොඹා හැල්ල/ අඹවිදමන
- iii ගුරුගේ මාලාව / අස්නේ
- iv මඩු පුරය/ මල් මඩුපුරය

37. මහවාරිය මුදියන්සේ දිසානායක මහතා විසින් රචිත ග්‍රන්ථයකි

- i සිංහල ගැමි නාටකය
- ii කොහොඹා යක් කංකාරිය හා සමාජය
- iii බලි ශාන්තිකර්ම
- iv වේදිකාව හා නර්තනය



38. ඉහත රූප සටහනෙන් දැක්වෙන බෙරයේ අංකය 1,2,3 පෙන්නුම් කරනුයේ

- i. බෙරපුහුල, කැපුම් හම, වරපට
- ii. බෙරපුහුල, කැපුම් හම, හයිතට්ටුව
- iii. කන්වර, හයිතට්ටුව, වෙන්ගායම් මුද්ද
- iv. වරපට, වලයම, බෙර පුහුල

39. ලියෙන් සාදන ලද දුන්න සහ ඊතලය භාවිතා වන්නේ

- i මඩුපුරය නටන අවස්ථාවේ
- ii දුනුමාලස්පුව නැටීමේදී
- iii උරා යක්කමේදී
- iv වානේ යක්කමේදී

40. හඬ පුපුරා විහිදෙන ලෙස බෙරයේ වම් ඇස මැදට පුපුරා ගැසීමෙන් යන අක්ෂරය නිපද වේ

- i තත්
- ii දිත්
- iii දොං
- iv නං

III කොටස පහතරට නර්තනය

31. ගුදින ගුම්/ දැහිං (දිනගත)/ ගදිකකු/ දොම් යනු

- i නවවන ඉලංගම් සරඹයයි
- ii දහවන ඉලංගම් සරඹයයි
- iii හත්වන ඉලංගම් සරඹයයි
- iv දෙළොස් ඉලංගම් සරඹයයි

32. නාතිලිංචි තාලය සින්දු වන්නමට අයත් බෙර පදය වන්නේ

- i තකදිත්තක දොදොං දිංතක දොං
- ii ගුද ගතිගත ගදිගත
- iii දොම් තම් ගත ගදිතම්ගත ගුගුදම්ගත
- iv තකදිත් තකදොම් දොම්දොම් තකදොම්

33. රට යකුම හෙවත් ඊද්දි යාගය යන ග්‍රන්ථය රචනා කරන ලද්දේ

- i. මහාවාර්ය මුදියන්සේ දිසානායක මහතා
- ii. මහාවාර්ය තිස්ස කාරියවසම් මහතා
- iii. මහාවාර්ය ජයසේන කෝට්ටේගොඩ මහතා
- iv. මහාවාර්ය එච්. එම්. ගුණතිලක මහතා

34. පහතරට සින්දු වන්නම් අතර ප්‍රථම සින්දු වන්නම ලෙස හඳුන්වන්නේ

- i නාතිලිංචි සින්දු වන්නම
- ii ශුද්ධතලය සින්දු වන්නම
- iii අනුරාගදණ්ඩ තාලය සින්දු වන්නම
- iv හනුමන්තා තාලය

35. දෙවොල් මඩු ශාන්ති කර්මයේ නාට්‍යමය අවස්ථා දෙකකි

- i දෙවොල් ගොඩ බැසීම හා අඹ විදමන
- ii දෙවොල් ගොඩ බැසීම හා යක්කම්
- iii අඹ විදමන හා පොත් කඩේ පාලිය
- iv අඹ විදමන හා ගුරුගේ මාලාව

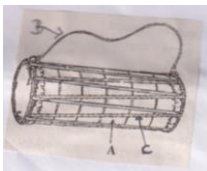
36. ගුද ගති ගත වට්ටමට අයත් තාල රූපය

- i මාත්‍රා 2+2 සුළු තනි තිතවේ
- ii මාත්‍රා 2+3 සුළු මැදුම් දෙතිතවේ
- iii මාත්‍රා 3+4 මැදුම් මහ දෙතිතවේ
- iv මාත්‍රා 2+4 සුළු මහා දෙතිතවේ

37. මාත්‍රා 2+2+3 තුන් තිතේ තාල රූපයට නටනු ලබන්නේ

- i අනුරාගදණ්ඩ තාලය සින්දු වන්නම
- ii ශුද්ධතලය සින්දු වන්නම
- iii නාතිලිංචි සින්දු වන්නම
- iv හවාදී තාල සින්දු වන්නම

38. ඉහත රූප සටහනේ දැක්වෙන බෙරය අක්ෂර A B C පෙන්නුම් කරනුයේ



- i බෙරපුහුල, වෙනිවර, හැක්ම
- ii වරපට, වෙනිවර කැරුල්ල, බෙර කද
- iii හැක්ම, ගැටිවැල, සුරත්තට්ටුව
- iv බෙර කද, බෙර ලණුව, වරපට

39. පහතරට බෙරය වාදනයේදී වම් අතේ මා පට ඇඟිල්ල හැර අනෙක් ඇඟිලි 04 බෙරයේ හයිතට්ටුවට වදින සේ වාදනය කරන්නේ

- i තත් යන අක්ෂරය
- ii දිත් යන අක්ෂරය
- iii තොං යන අක්ෂරය
- iv නං යන අක්ෂරය

40. පහතරට දෙවොල් ඇදුම් කට්ටලය අයත් රංග වස්ත්‍රාභරණ වනුයේ

- i. හැට්ටය, රැලි සාය හා කාඟුල් කුට්ටම
- ii. හැට්ටය, සේලය හා වෙස් මුහුණු
- iii. සේලය, පච්චඩම හා කෙකමෙත්තම්
- iv. සේලය, පච්චඩම හා හස්තකඩය

- පළමුවැනි ප්‍රශ්නය අනිවාර්යය වේ
- පළමුවැනි ප්‍රශ්නය හා තවත් ප්‍රශ්න හතරක් ඇතුළුව ප්‍රශ්න පහකට පිළිතුරු සපයන්න

01.

- i. සොකරි ගැමි නාටකයේ ඔසරිය අදින්නේය.
 - ii. බලි ශාන්ති කර්මයේදී බලි ඇඳුරාගේ වම් අතට ගන්නා වාද්‍ය භාණ්ඩය නම්
 - iii. උඩරට නර්තන සම්ප්‍රදායේ අස්නේ නර්තනය ගායනය නර්තනයකි. යක් ඇනුම ගායනය නර්තනයකි.
 - iv. දෝං පිං පිං තකට දොංතක මෙම බෙරපදය මාත්‍රා දෙතිතට අයත්වේ.
 - v. ආභාර්ය අභිනයේ ප්‍රධාන කොටස් 2 වනුයේ අංග රචනය සහ රචනයයි.
 - vi. වෙස් මුහුණු පැළඳීම ප්‍රධාන ලක්ෂණයක් වන ජන නාටකය වන්නේ ය
 - vii. රාජ ආඥාවක් සන්නිවේදනය කිරීමට භාවිතා වූ විතතාතන අවනද්ධ භාණ්ඩය වන්නේ
 - viii. ලී දැතට රැගෙන කණුවක් වටේ රටා මවමින් නර්තනය කරන ද්‍රවිඩ නැටුම වන්නේ.....
 - ix. විසින් අධ්‍යක්ෂණය කළ මූද්‍රා නාට්‍ය නම් වේ.
 - x. 1 වන පරාක්‍රමබාහු රජු විසින් පොළොන්නරු යුගයේදී ඉදි කළ බව වූල වංශයේ සදහන් වේ.
- (ල.12)

02.

- i. සුළු මහ දෙතිතට අයත් බෙර පදයක් ප්‍රස්ථාර කරන්න. (ල.04)
- ii. "අහසට පිඹිනා " මෙම කවිය (3+3) කාලයට ප්‍රස්ථාර කරන්න. (ල.04)
- iii. සැවිලා වන්නමේ අඩවිව ප්‍රස්ථාර කරන්න. (ල.04) (ල.12)

03.

- i. ශාන්ති කර්ම පැවැත්වීමේ හේතු 04ක් ලියන්න. (ල.04)
- ii. දෙවොල් මඩු ශාන්ති කර්මයේ එන නර්තන අංග 02ක් නම් කරන්න. (ල.04)
- iii. පහත් මඩු ශාන්ති කර්මය සඳහා භාවිත වන ප්‍රධාන වාද්‍ය භාණ්ඩය නම් කර එය අතීතයේ සන්නිවේදන කාර්යයන් සඳහා යොදා ගෙන ඇති ආකාරය විමසන්න. (ල.04) (ල.12)

04.

- i. සොකරි නාටකය පැවැත්වීමේ අරමුණු 02ක් ලියන්න. (ල.04)
- ii. කෝලම් නාටක රඟ මඩල පිළිබඳ හැඳින්වීමක් කරන්න. (ල.04)
- iii. ගැමි නාටක වර්ත මගින් සාමාජය පිළිබඳ විවරණය කරයි විමසන්න. (ල.04) (ල.12)

05.

- i. විදේශීය භාරතීය නර්තන ශෛලීන් 04ක් නම් කරන්න. (ල.04)
- ii. ඒ ඒ සම්ප්‍රදායන් 04ට අයත් ප්‍රධාන එක් වාද්‍ය භාණ්ඩයක් බැගින් ලියන්න. (ල.04)
- iii. මණිපුරි නර්තනය බිහිවීමට තුඩු දුන් සාධකය ලියා දක්වන්න. (ල.04) (ල.12)

06.

- i. රූපවාහිනී නර්තනය හේතු කොටගෙන නර්තන කලාවේ ආගමනයට ඉමහත් පිටුවහලක් සිදුවිය විමසුමට ලක් කරන්න. (ල.04)
- ii. මානසික ස්වස්ථතා පවත්වාගැනීමට නර්තනය කෙතරම් ඉවහල් වන්නේදැයි විමසන්න (ල.04)
- iii. සාරධර්ම රැකීම, වැඩිහිටියන්ට ගරු කිරීම, සාමූහික බව යන ගුණාංග නර්තන කලාව හැදෑරීමෙන් ප්‍රගුණ වන්නේදැයි විස්තර කරන්න (ල.04) (ල.12)

1	2	16	2
2	4	17	1
3	3	18	2
4	4	19	2
5	3	20	3
6	1	21	4
7	4	22	3
8	1	23	2
9	3	24	3
10	1	25	4
11	3	26	1
12	4	27	4
13	3	28	3
14	2	29	1
15	3	30	3

II කොටස උඩරට

31	2	36	1
32	2	37	2
33	2	38	1
34	2	39	2
35	1	40	1

II කොටස පහතරට

31	4	36	1
32	3	37	2
33	2	38	4
34	2	39	1
35	1	40	1

නර්තනය (දේශීය) II පිළිතුරු පත්‍රය

01.

- i. සොකරිය
- ii. අත්මිණිය
- iii. සහිත/ රහිත
- iv. 123 1234 , (3+4) , මැදුම් මහ
- v. ආභාර්යය
- vi. කෝලම්
- vii. දවුල
- viii. ලී වල්ලිය
- ix. අංජලිකා වික්‍රමේෂ / කුඹිකතාව
- x. සරස්වතී මණ්ඩපය

02.

- i. නිවැරදිව ප්‍රස්ථාර කර ඇත්නම් එකකට ලකුණු 04 බැගින් මුළු ප්‍රස්ථාරයටම ලකුණු 12ක් වේ

03.

- i. අදාළ හේතු සඳහා (ල 04)
- ii. නර්තන අංග 02 නම් කර ඇත්නම්
- iii. දවුල නම්කර විස්තර කර ඇත්නම් ලකුණු දෙන්න

04.

- i. අදාළ පිළිතුරු සඳහා ලකුණු ලබා දෙන්න (ල 04)
- ii. කෝලම් රඟ මඩල හැඳින්වීම (ල 04)
- iii. ගැලපෙන පිළිතුරු සඳහා ලකුණු දෙන්න

05.

- i. හරත කපක් කපකලි මණිපුරි
- ii. සම්ප්‍රදායට අදාළ ඕනෑම එක් අදාළ භාණ්ඩ සඳහා ලකුණු ලබා දෙන්න
- iii. ගැලපෙන පිළිතුරු සඳහා ලකුණු ලබා දෙන්න

06.

- i. නිවැරදිව විස්තර කර ඇත්නම් ලකුණු දෙන්න
- ii. ගැලපෙන පිළිතුරු ලියා ඇත්නම් ලකුණු ලබා දෙන්න
- iii. නිවැරදිව පිළිතුරු සඳහා ලකුණු ලබා දෙන්න