



10. මෙරට ඉතිහාසයේදී වියළි කලාපයේ වැසියන් ගම්වැව්, ඇළමාර්ගවලින් සම්බන්ධ කර තිබූ බවට සාධක හමු වූ ස්ථානය පිහිටි දිස්ත්‍රික්කය වන්නේ,
  - i. අනුරාධපුරය
  - ii. පොළොන්නරුව
  - iii. මාතර
  - iv. හම්බන්තොට
11. ශ්‍රී මහා බෝධින් වහන්සේගේ ශාඛා දිවයිනේ විවිධ ප්‍රදේශවල රෝපණය කරවමින් ප්‍රාදේශීය පාලකයින් අතර සුභදතාව ගොඩනගාගත් රජතුමා,
  - i. දේවානම්පියතිස්ස
  - ii. දුටුගැමුණු
  - iii. මුට්සිව
  - iv. මහානාග
12. ඉන්දියන් සාගරයේ වෙළඳ කටයුතු නිසා සරු ආදායමක් උපදවන ලද අන්තර්ජාතික වරායක් ලෙස මාතොට වරාය ආරක්ෂා කරගත් රජතුමා නම්,
  - i. එළාර රජතුමා
  - ii. දුටුගැමුණු රජතුමා
  - iii. වසභ රජතුමා
  - iv. I පරාක්‍රමබාහු රජතුමා
13. වර්තමානයේ අප රටේ පාර්ලිමේන්තුව මගින් ඉටුකරන නීති සම්පාදනය සිදුකළ ආයතන අතරින් හැඳින්වූ නාමය,
  - i. රාජසභාව
  - ii. එක්තැන් සමිය
  - iii. වත්හිමි
  - iv. සභාව
14. ක්‍රි.ව. 898-914 අතර කාලයේදී අනුරාධපුර හා එහි අවට ප්‍රදේශවල දරුණු උණ රෝගයක් පැතිරීම නිසා ඒ සඳහා අවශ්‍ය රෝහලක් ඉදිකළ රජතුමා වන්නේ,
  - i. බුද්ධදාස රජ
  - ii. පස්වන මහින්ද රජ
  - iii. හතරවන කාශ්‍යප රජ
  - iv. පළමුවන උපතිස්ස රජ
15. ශ්‍රී ලංකාවේ කීර්තිමත් රාජ්‍ය පාලකයකු වූ පළමුවන ගජබාහු රජතුමා පත්කිනි දේවාලයක් විවෘත කිරීමේ උත්සවයකට සහභාගිවීම සඳහා ගමන් කළේ කුමන රටකටද?
  - i. දකුණු ඉන්දියාවට
  - ii. දකුණු තායිලන්තයට
  - iii. බුරුම රටට
  - iv. තායිවානයට
16. අතීතයේදී මෙරට දියුණු විදේශ වෙළඳාමක් පැවතුණු බවට සාක්ෂියක් වන්නේ,
  - i. රටපුරා ව්‍යාප්ත වූ ජනාවාස රටාවක් තිබීම ය.
  - ii. ප්‍රධාන නගරවල විදේශ වෙළඳ මධ්‍යස්ථාන තිබීම ය.
  - iii. ජනාවාස සම්බන්ධ කෙරෙමින් තැනූ මාර්ග රාශියක් තිබීමයි.
  - iv. ප්‍රධාන ගංගා ආශ්‍රිතව වෙරළාසන්නව වරායන් පිහිටා තිබීමයි.
17. පුරාණ වෙළඳපළවල් සංවිධානාත්මක ලෙස පාලනය වූ ආකාරය පෙන්වා දෙන සෙල්ලිපිය නම්,
  - i. සොරබොරවැව ටැම් ලිපිය
  - ii. තෝනිගල සෙල්ලිපිය
  - iii. ගොඩවාය ටැම් ලිපිය
  - iv. හෝපිටිගම ටැම් ලිපිය
18. හේමමාලා කුමරිය සහ දන්ත කුමරු ශ්‍රී දන්ත ධාතූන් වහන්සේ රැගෙන ගොඩබට නැගෙනහිර වෙරළේ පිහිටි ප්‍රධාන වරායකි.
  - i. ත්‍රිකුණාමලය
  - ii. ලංකා පට්ටන
  - iii. පල්ලවංක
  - iv. මඩකලපුව
19. පළමුවන විජයබාහු රජතුමා ශ්‍රී දළදා මාළිගයේ ආරක්ෂාව සඳහා කැඳවූ වේලෙක්කාර හමුදාව පැමිණ ඇති දේශය නම්,
  - i. පල්ලව
  - ii. කේරළ
  - iii. ආන්දා
  - iv. පාණ්ඩ්‍ය
20. මෙරට මැටි බඳුන් තැනීමේ තාක්ෂණය පිළිබඳ පළමුවරට සාක්ෂි හමුවූයේ,
  - i. පූර්ව ඓතිහාසික යුගයේදී ය.
  - ii. ඓතිහාසික යුගයේදී ය.
  - iii. ප්‍රාග් ඓතිහාසික යුගයේදී ය.
  - iv. ශිලා යුගයේදී ය.
21. පුරාණ කාලයේ මහවැලි ගඟේ අතු ගංගාවක් වන අඹන් ගඟ හරස්කර ඉදිකර ඇති දැවැන්ත ඇළමාර්ගයක් වන්නේ,
  - i. මිනිපේ ඇළයි.
  - ii. පබ්බතත්ත ඇළයි.
  - iii. යෝධ ඇළයි.
  - iv. ඇළහැර ඇළයි.







**II කොටස**

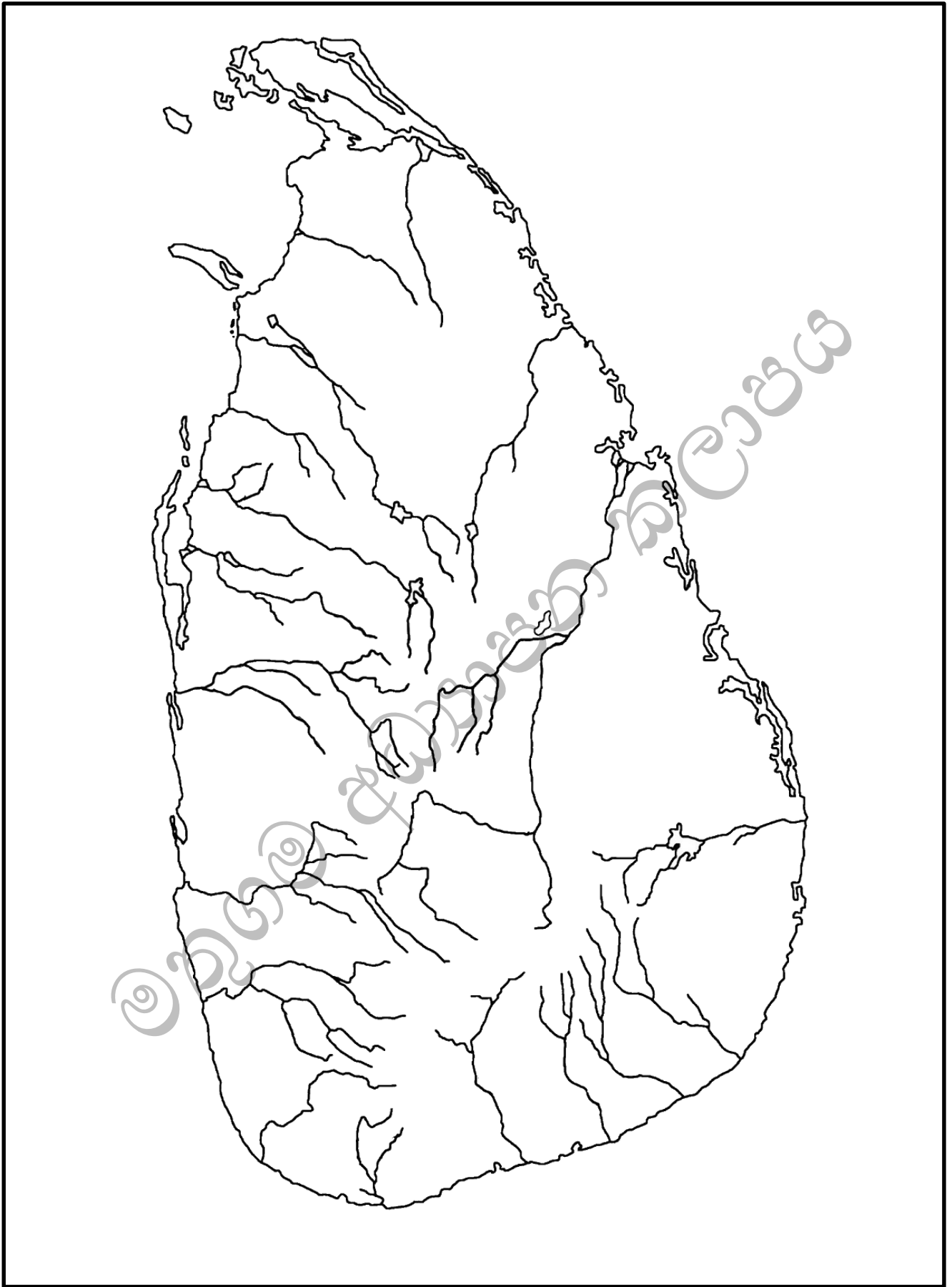
02. i. ප්‍රාග් ඓතිහාසික යුගයට අයත්,  
 a. වෙරළාශ්‍රිත ඵලිමහන් වාසස්ථාන දෙකක් හා  
 b. පහතරට තෙත් කලාපීය ලෙනක් නම් කරන්න. (ලකුණු 03)
- ii. ප්‍රාග් ඓතිහාසික යුගයේ මානවයා සිදුකළ අභිවාර විධි දෙකක් දක්වන්න. (ලකුණු 04)
- iii. පූර්ව ඓතිහාසික යුගයේ මානවයා දියුණු තාක්ෂණික උපක්‍රම භාවිතා කළ බවට සාධක දෙකක් නිදසුන් සහිතව පැහැදිලි කරන්න. (ලකුණු 05)
- iv. මුල් ඓතිහාසික යුගයේ ජනාවාස ව්‍යුහය හා ස්වරූපය පිළිබඳව කරුණු දෙකක් නිදසුන් සහිතව පැහැදිලි කරන්න. (ලකුණු 06)
- 
03. i. රජවරුන්ගේ ක්‍රියා කලාපය අනුව පහත සඳහන් රාජ්‍යත්ව සංකල්පය ආරෝපණය වූ රජවරුන් වරහන් තුළින් තෝරන්න.  
 a. චක්‍රවර්ති  
 b. දේවත්ව  
 c. පර්වතරාජ  
 (I වන කාශ්‍යප, IV කාශ්‍යප, බුද්ධදාස, නිශංකමල්ල, කූයකණේණ අභය) (ලකුණු 03)
- ii. පහත සඳහන් ආයතන අතීතයේ හැඳින් වූ නම් සඳහන් කරන්න.  
 a. රෝහල  
 b. අධිකරණය (ලකුණු 04)
- iii. අතීත වැසියන්ගේ ජීවිත වර්තමානයට වඩා ඉතා සරල ආකාරයට සකස්ව පැවතිණි. අතීත ආර්ථිකය සකස් වූ ආකාරය කරුණු දෙකක් ඇසුරින් පැහැදිලි කරන්න. (ලකුණු 05)
- iv. අතීතයේ සිටි ජනයා මෙරට විවිධ සංස්කෘතීන්ට අයත් ජනතාව සමග සහජීවනයෙන් කටයුතු කළ ආකාරය කරුණු දෙකක් ඇසුරින් පැහැදිලි කරන්න. (ලකුණු 06)
- 
04. i. පහත සඳහන් වැව් ඉදිකළ රජවරුන් නම් කරන්න.  
 a. කලා වැව  
 b. මින්නේරිය වැව  
 c. අභය වැව (ලකුණු 03)
- ii. අතීතයේ දී මහවැව තැනීමට ප්‍රධාන වූ කරුණු දෙකක් දක්වන්න. (ලකුණු 04)
- iii. පහත සඳහන් සාධක කෙටියෙන් පැහැදිලි කරන්න.  
 a. වැව් තාක්ෂණය  
 b. සිගිරි ජලමල් තාක්ෂණය (ලකුණු 05)
- iv. පුරාණ යකඩ නිස්සාරණය කිරීමේ තාක්ෂණයේ දියුණුව පිළිබඳ කරුණු දෙකක් නිදසුන් සහිතව පැහැදිලි කරන්න. (ලකුණු 06)

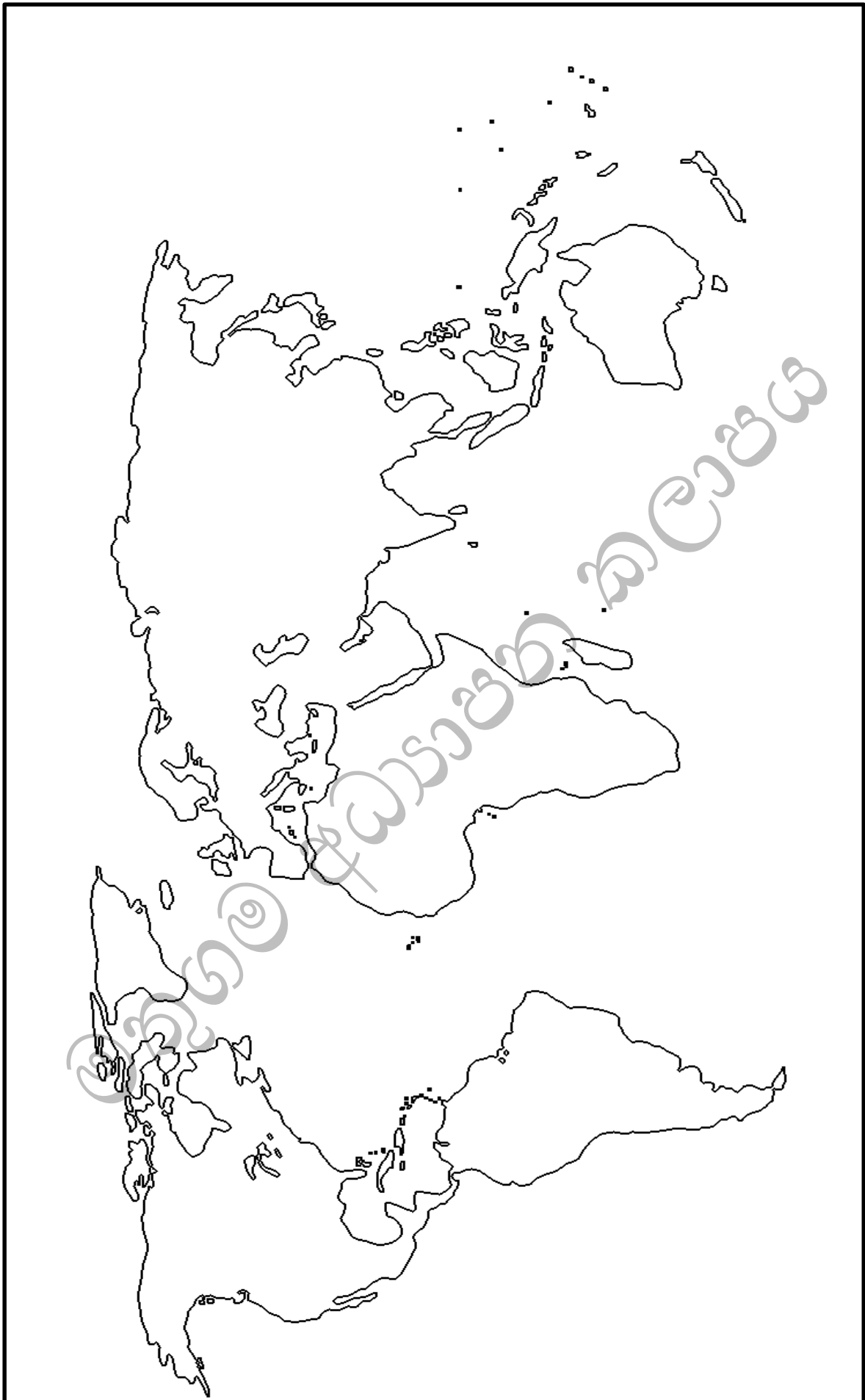
05. i. අතීතයේ වැඩි පරිපාලනය සහ ඉඩම් පරිහරණයේ දී අයකළ බදු වර්ග කිහිපයක් පහත දැක්වේ. ඒවා නම් කරන්න.
- දකපති
  - බොජකපති
  - මතරමඡ්ඛක (ලකුණු 03)
- ii. පහත සඳහන් නීති වර්ග පැන වූ රජවරුන් නම් කරන්න.
- මාසාන නීතිය
  - ගෘහ දණ්ඩ නීතිය (ලකුණු 04)
- iii. අතීත සමාජයේ කාන්තාවට ගෞරවණීය ලෙස සැලකූ බවට දිය හැකි නිදසුන් දෙකක් විස්තර කරන්න. (ලකුණු 05)
- iv. පුරාණ මිනිසා දේශීය ආහාර වැදගත් කොට සැලකූ බවට කරුණු දෙකක් නිදසුන් සහිතව පැහැදිලි කරන්න. (ලකුණු 06)
06. i. උඩරට රාජධානියේ ආරම්භක පාලකයා නම් කරන්න. (ලකුණු 03)
- ii. පහත සඳහන් සිද්ධීන් හා සම්බන්ධ රජවරු ලියා දක්වන්න.
- දෙල්ගමු විහාරයේ සභවා තිබූ දන්ත ධාතුව මහනුවරට වැඩම කරවීම.
  - සිංහල රාජවංශයේ අවසන් පාලකයා වීම. (ලකුණු 04)
- iii. උඩරට රාජධානියේ ආර්ථික රටාව ස්වයංපෝෂිත එකකි. ඊට බලපෑ හේතු දෙකක් නිදසුන් සහිතව පැහැදිලි කරන්න. (ලකුණු 05)
- iv. බ්‍රිතාන්‍ය ජාතිකයන් ශ්‍රී ලංකාව කෙරෙහි අවධානය යොමු කිරීමට බලපෑ හේතු දෙකක් කෙටියෙන් පැහැදිලි කරන්න. (ලකුණු 06)
07. i. ශ්‍රී ලංකාවේ ජාතික පුනරුදයට මුල් වූ නායකයන් තිදෙනෙක් නම් කරන්න. (ලකුණු 03)
- ii. පහත සඳහන් සිදුවීම් සම්බන්ධ නායකයන් සඳහන් කරන්න.
- පංච මහාවාද පැවැත්වීමට මුල්වීම.
  - බෞද්ධ පාසල් පිහිටුවීමට පෙරමුණ ගැනීම.
  - උදයභාණු නම් පුවත්පත ආරම්භ කිරීම.
  - මුස්ලිම් නේෂන් නම් පුවත්පතක් ආරම්භ කිරීම.
- (ටී.බී. ජයා මහතා, මීගෙට්ටුවත්තේ ගුණානන්ද හිමි, ශ්‍රී සුමංගල හිමි, ශ්‍රී ආරුමුග නාවලරතුමා, හෙන්රි ස්ටීල් ඕල්කට්තුමා) (ලකුණු 04)
- iii. ඩොනමෝර් ආණ්ඩු ක්‍රමයේ බලපෑම නිසා මෙරට පාලන ක්‍රමයේ ඇති වූ ප්‍රජාතන්ත්‍රවාදී අංග දෙකක් පැහැදිලි කරන්න. (ලකුණු 05)
- iv. ශ්‍රී ලංකාවේ වතු වගාව නිසා ඇති වූ යහපත් හා අයහපත් ප්‍රතිඵල දෙකක් පැහැදිලි කරන්න. (ලකුණු 06)

**III කොටස**

08. i. බ්‍රිතාන්‍යයේ කාර්මික විප්ලවය ඇති වූ ප්‍රධාන ක්ෂේත්‍ර තුන සඳහන් කරන්න. (ලකුණු 03)
- ii. පහත සඳහන් නිපදවීම් සිදුකළ පුද්ගලයන් නම් කරන්න.
- a. රෝලර් යන්ත්‍රය නිපදවීම.
- b. ආරක්ෂක ලාම්පුව නිපදවීම. (ලකුණු 04)
- iii. කාර්මික විප්ලවය නිසා ප්‍රවාහන හා සන්නිවේදන ක්ෂේත්‍රයේ දියුණුව වර්තමානය දක්වා විකාශයවීම නිදසුන් සහිතව පැහැදිලි කරන්න. (ලකුණු 05)
- iv. කාර්මික විප්ලවය නිසා ශ්‍රී ලංකාවේ ආර්ථික හා සමාජ ක්ෂේත්‍රයේ සිදු වී ඇති වෙනස්කම් වෙන වෙනම විස්තර කරන්න. (ලකුණු 06)
09. i. ක්‍රි.ව. 1764 – 1765 වර්ෂ අතරතුර කාලයේ ඇමරිකාවට පැනවූ පනත් තුන නම් කරන්න. (ලකුණු 03)
- ii. පහත සඳහන් ප්‍රකාශයන් කරන ලද නායකයන් නම් කරන්න.
- a. “රාජ්‍යය නම් මමය” ප්‍රකාශ කළ තැනැත්තා
- b. “මේ අවස්ථාවේ අපි බලය අල්ලා නොගතහොත් ඉතිහාසයට අපට සමාව නොදෙනු ඇත.” ප්‍රකාශ කළ තැනැත්තා (ලකුණු 04)
- iii. පළවන ලෝක සංග්‍රාමයට හේතු වූ කරුණු දෙකක් පැහැදිලි කරන්න. (ලකුණු 05)
- iv. දෙවන ලෝක සංග්‍රාමයෙන් පසු ලොව ඇති වූ වෙනස්කම් තුනක් පැහැදිලි කරන්න. (ලකුණු 06)









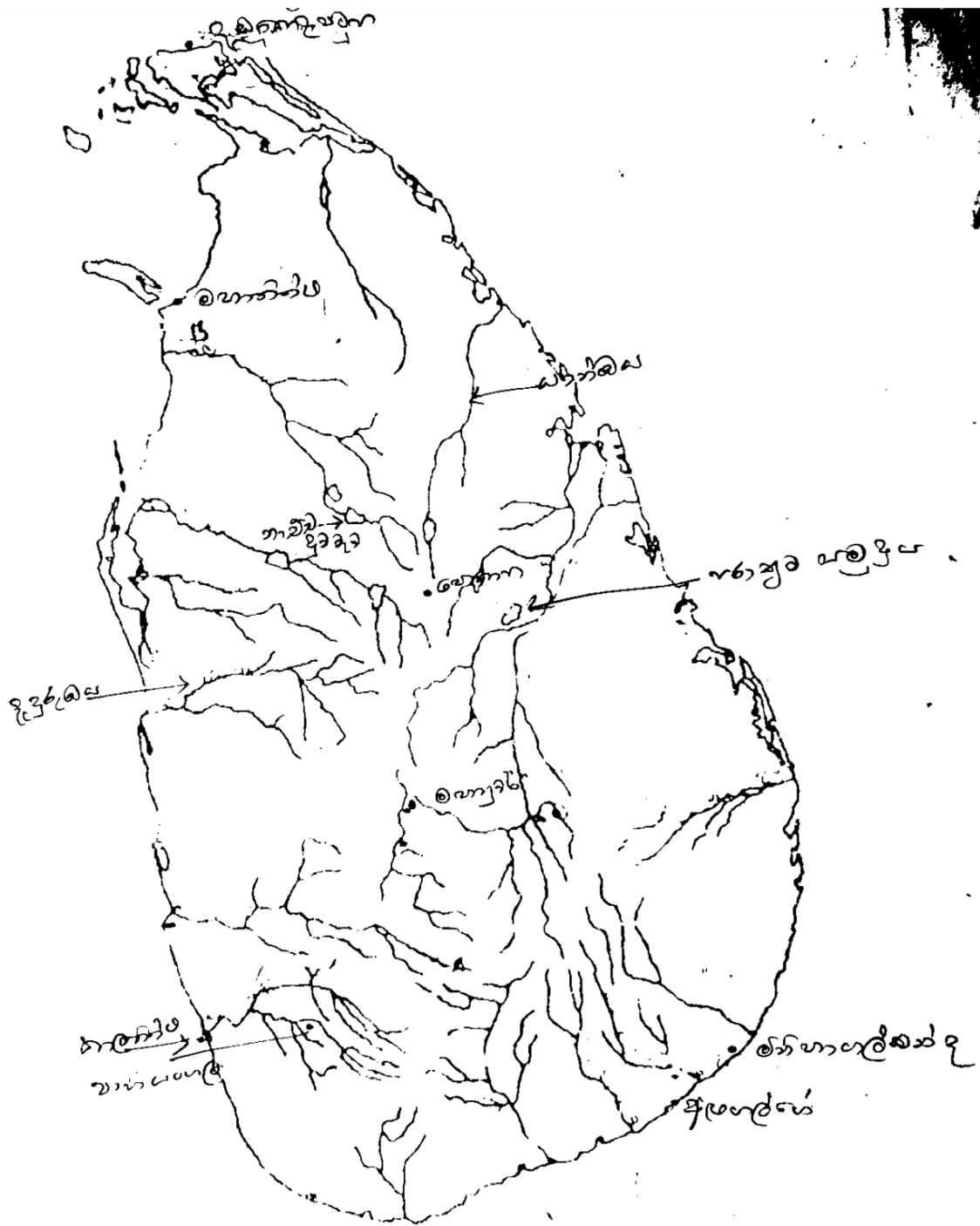
**II කොටස**

- 02. i. a.** මිනිහාගල්කන්ද, බුන්දල, පතිරාජවෙල (ලකුණු 02)
- b. භාගියන්ගල, කුරුවිට බටදොඹ ලෙන, කිතුල්ගල බෙලිලෙන (ලකුණු 01)
- ii.** මලසිරුරු වකුටු කොට වළ දැමීම.  
රතු ගුරුගල් ආලේප කිරීම. (ලකුණු 04)
- iii.** ස්ථිරවාසිතාව - නිවාස ඉදිකිරීමේ තාක්ෂණය උදා- උඩරංවමඩම, හල්දුම්මුල්ල  
මැටි වළං භාවිතය - උඩරංවමඩම - පින්තාරු කළ මැටි වළං හමුවීම.  
ක්‍රමවත් සුසාන - ඉබ්බන්කටුව (මහිඹලා සුසාන)  
ලෝහ භාවිතය - ලෝහ කුරක් හමුවීම. (සාධක දෙකට - 02 විස්තරයට 03 - ලකුණු 05)
- iv.** වැවක් කේන්ද්‍ර කොටගෙන ජනාවාස බිහිවීම (වාපිගාම).  
විශාල නගර බිහිවීම. නකර, පුර, පුරකමන (ආදිය) (කරුණු දෙකට - 02 විස්තරයට 04 - ලකුණු 06)
- 03. i. a.** නිශ්ශංකමල්ල  
b. කුටකණ්ණ අභය  
c. I වන කාශ්‍යප (ලකුණු 03)
- ii. a.** වෙජ්ජසාලා  
b. සභාව (ලකුණු 04)
- iii.** ගොවිතැන - මඩ ගොවිතැන / හේන් ගොවිතැන (සාධක දෙකට - 02 විස්තරයට 03 - ලකුණු 05)
- iv.** දෙමළ ජාතික හික්ෂුව  
විවාහ ඇතිවීම.  
දෙමළ අධිකාරී තනතුර  
කුලී හේවයේ  
විජයබාහු රජුගේ කුලී හේවයන් ආදිය (කරුණු දෙකට - 02 විස්තරයට 04 - ලකුණු 06)
- 04. i. a.** ධාතුසේන  
b. මහසෙන්  
c. පණ්ඩුකාභය (ලකුණු 03)
- ii.** කෘෂිකාර්මික කටයුතු සාර්ථක කර ගැනීම.  
ගංවතුර පාලනය කිරීම.  
නාගරික ජනතාවගේ වෙනත් අවශ්‍යතා නම් පූර්ණ කිරීම. (2×2=ලකුණු 04)
- iii. a.** වැවක අංග පැහැදිලි කිරීම.  
b. ජල තාක්ෂණය - ජලමල් සැකසීම. ආදිය (ලකුණු 05)
- iv.** බලංගොඩ සමනල වැව යකඩ නිස්සාරණය  
යකඩ සැකසීම / සුළං බලය යොදා ගැනීම.  
දෙහිගඟ ඇල කන්ද - මයින හමක ආධාරයෙන් (කරුණු දෙකට - 02 විස්තරයට 04 - ලකුණු 06)

- 05. i. a.** වැව්වල ජලය භාවිතා කළ අයගෙන්  
 b. රජුට අයත් ඉඩම්වල වගා කිරීම වෙනුවෙන්  
 c. ඇළ මාර්ගවල මත්ස්‍යයන් ඇල්ලීම වෙනුවෙන් (ලකුණු 03)
- ii. a.** අමණ්ඩ ගාමිණී අභය රජ  
 b. හතරවන මිහිඳු රජ (ලකුණු 04)
- iii.** රාජ්‍ය පාලනය කළ - වූලසිවලී, ලීලාවතී රැජිණ  
 රසවාහිනිය - කාන්තාවට විශේෂ ගෞරවාදරයක් වීම.  
 සුප ශාස්ත්‍රයේ නිපුණවීම - සහස්සවත්ථුප්පකරණය  
 පරුමකල සමනා ආදිය (ලකුණු 05)
- iv.** ආහාර සඳහා ධාන්‍ය වර්ග යොදා ගැනීම - තෝනිගල සෙල්ලිපි  
 ප්‍රභූවරුන්ගේ ආහාර - සඳ්ධර්මරත්නාවලිය  
 දුගී ජනයාගේ ආහාර - කාඩ් ඇඹුල පලා වර්ග ආදිය (ලකුණු 06)
- 06. i.** සේනා සම්මත වික්‍රමබාහු (ලකුණු 03)
- ii. a.** විමලධර්මසූරිය රජතුමා  
 b. ශ්‍රී වීර පරාක්‍රම නරේන්ද්‍රසිංහ (ලකුණු 04)
- iii.** වී ගොවිතැන, හෙල්මලු ක්‍රමය, ස්වයංපෝෂිත වීම.  
 ධාන්‍ය වර්ග වගාව  
 ගෙවතු වගාව, සත්ත්ව පාලනය  
 යකඩ, දැව, ලාක්ෂා කර්මාන්තය (ලකුණු 05)
- iv.** ශ්‍රී ලංකාවේ පිහිටීම.  
 කුළුබඩු ඇතුලු වෙළඳ ද්‍රව්‍ය තිබීම. (ලකුණු 06)
- 07. i.** අනගාරික ධර්මපාලතුමා  
 වලිසිංහ හරිස්වන්ද්‍ර මහතා (ලකුණු 03)
- ii. a.** මීගෙට්ටුවත්තේ ගුණානන්ද හිමි  
 b. හෙන්රි ස්ටීල් ඕල්කට්තුමා  
 c. ශ්‍රී ආරුමුග නාවලර්තුමා  
 d. එම්. සී. සිද්ධි ලෙබ්බේතුමා (ලකුණු 04)
- iii.** රාජ්‍ය මන්ත්‍රණ සභාව පිහිටුවීම.  
 විධායක කාරක සභා ක්‍රමය ඇතිවීම.  
 සර්වජන ඡන්ද බලය ලැබීම. (ලකුණු 05)
- iv.** යහපත් - වතු වගාව ආරම්භ කිරීම.  
 ප්‍රවාහන හා සන්නිවේදන ක්‍රම ඇති කිරීම.  
 අයහපත් - ස්වයංපෝෂිත ආර්ථික රටාව බිඳ වැටීම.  
 ශ්‍රම සුරාකෑම.  
 සංස්කෘතික බලපෑම - මත්පැන් දුම්වැටි  
 පරිසර දූෂණය (ලකුණු 06)

**III කොටස**

- 08. i.** ජේෂ කර්මාන්තය, යකඩ හා වානේ කර්මාන්තය, ගල් අඟුරු කර්මාන්තය (ලකුණු 03)
- ii. a. හෙන්රි කෝට් (ලකුණු 04)
- b. හම්ප්‍රි ඩේව් (ලකුණු 04)
- iii. ප්‍රවාහන - ඩිමිලර් - මෝටර් රථය
- ගුවන් යානා, නැව් බෝට්ටු ආදිය
- සන්නිවේදන - ටෙලිෆෝන්, රේමේල්, පරිගණක
- අන්තර්ජාල, ෆැක්ස් (ලකුණු 05)
- iv. ආර්ථික - වතු වගාව ආරම්භ වීම.
- වැටුපට වැඩකරන කම්කරු පන්ති බිහිවීම.
- විවිධ කර්මාන්ත
- ආනයන අපනන වෙළඳාම
- සමාජ - ධනවත් හා නිර්ධන පන්ති බිහිවීම.
- පරිසර දූෂණය - සමාජ දූෂණය
- අධ්‍යාපන දියුණුවීම.
- සෞඛ්‍ය (ලකුණු 06)
- 09. i.** මුද්දර පනත, සීනි පනත, මුදල් පනත (ලකුණු 03)
- ii. a. 14 වන ලුවී රජ (ලකුණු 04)
- b. ඩී. අයි. ලෙනින් (ලකුණු 04)
- iii. ජර්මනිය එක්සත් කිරීමේ ව්‍යාපාරය
- යටත් විජිත සඳහා ඇති වූ තරගය
- අවි තරගය ආදිය (ලකුණු 05)
- iv. ලෝක බලවතුන් බිහිවීම.
- එක්සත් ජාතීන්ගේ සංවිධානය ඇතිවීම.
- රහස් ඔත්තු සේවා ඇතිවීම.
- අවි තරගය (න්‍යෂ්ටික අත්හදා බැලීම් ඇතිවීම.) (ලකුණු 06)









08.

- කුවේර
- නරේශ්වර
- දේවත්ව
- චක්‍රවර්තී

යන රාජ්‍යත්ව සංකල්ප අනුව රජවරුන්ගේ නම් අනුපිළිවෙලින් සැකසී ඇති පිළිතුර තෝරන්න.

- 1). කාශ්‍යප, පරාක්‍රමබාහු, නිශ්ශංකමල්ල, කුටකණ්ණ අභය
- 2). නිශ්ශංකමල්ල, පරාක්‍රමබාහු, කාශ්‍යප, මහසෙන්
- 3). කාශ්‍යප, කුටකණ්ණ අභය, මහසෙන්, නිශ්ශංකමල්ල
- 4). කුටකණ්ණ අභය, මහසෙන්, නිශ්ශංකමල්ල, පරාක්‍රමබාහු

09. කදම්භ නදී, ගෝන නදී, වන නදී, මහා වාලුකා නදී යන ගංගාවන්හි නූතන නාමයන් පිළිවෙලින් දැක්වෙන පිළිතුර තෝරන්න.

- 1). කලා ඔය, මහවැලි ගඟ, දැදුරු ඔය, මල්වතු ඔය
- 2). ගල් ඔය, මල්වතු ඔය, කලා ඔය, වළවේ ගඟ
- 3). මල්වතු ඔය, කලා ඔය, වළවේ ගඟ, මහවැලි ගඟ
- 4). මහවැලි ගඟ, කලා ඔය, මල්වතු ඔය, වළවේ ගඟ

10. A - රාජ්‍යත්වයෙන් දසවන වර්ෂයේදී ග්‍රාම සීමා සටහන් කිරීම.

B - සිත්තාරු බිම බුදුදේවතාගේ රැකවරණය ලැබීම.

C - ත්‍රිපිටකය ග්‍රන්ථාරූඪ කිරීම.

D - ප්‍රථම වරට අනුරාධපුරය සිය පාලන මධ්‍යස්ථානය ලෙස තෝරා ගැනීම.

ඉහත තොරතුරු වලින් පණ්ඩුකාභය රාජ්‍ය සමයට අයත් සිදුවීම් පමණක් දැක්වෙන පිළිතුර කුමක්ද?

- 1). A හා C
- 2). A හා D
- 3). B හා C
- 4). B හා E

11. කොතලකිඹියාව සෙල්ලිපියෙහි දැක්වෙන "වසවසික සහයක" යන්නෙන් අදහස් කරනුයේ,

- 1). වස්වාසය කිරීමයි
- 2). කටින විවරයයි
- 3). සිවුරු පිරිකරය
- 4). අට පිරිකරය.

12. A තීරුවේ අනුපිළිවෙල අනුව B තීරුව ගැලපූ විට ලැබෙන නිවැරදි පිළිතුර කුමක්ද?

- |                     |                                |
|---------------------|--------------------------------|
| A                   | B                              |
| 1. සොක්ඪී ශාලා      | A. මාතෘ නිවාස                  |
| 2. පසවත්ති නාම ශාලා | B. හික්ෂු වාසස්ථාන             |
| 3. සිව්කා ශාලා      | C. ශිව ලිංග පිහිටි ස්ථාන       |
| 4. පණ්ණ ශාලා        | D. බ්‍රාහ්මණයින්ගේ ආගමික ස්ථාන |

- 1). D A B C
- 2). D C B A
- 3). C D A B
- 4). D A C B

13. පහත දැක්වෙන මිනුම් අතරින් අතීතයේ අවකාශය මැනීම සඳහා භාවිතා කර ඇති මිනුම් වර්ගය වන්නේ,

- |          |        |           |
|----------|--------|-----------|
| A. කිරිය | B. විභ | C. පරමාණු |
| D. අමුණ  | E. තත  | F. කර්සය  |

- 1). A, B හා F
- 2). A, D හා F
- 3). D, E හා F
- 4). D, C හා F

14. පහත දැක්වෙන ප්‍රකාශ අතුරින් විනිමය භාවිතය පිළිබඳව නිවැරදි ප්‍රකාශය කුමක්ද?
- 1). කාසි අවිච්ඡි ගැසීමේ ප්‍රධානියා නව නව අදෙක ලෙස හැඳින්වේ.
  - 2). විනිමය කටයුතු වලදී කාසි වෙනුවට ලෝහ බර වටිනාකමක් ලෙස භාවිතා විය.
  - 3). ලංකාවේ භාවිතා කළ පැරණිම කාසිය ධරණ නම් වේ.
  - 4). අලියා සහ ස්වස්ථික කාසි ලංකාවේ නිපදවා ඇත.

15. "වල්වල දඬුපත් නොකපනු ඉසා" යනුවෙන් පරිසර සංරක්ෂණයට අදාළ උපදෙස් ලබා දෙන සෙල්ලිපිය පිහිටුවා ඇත්තේ,
- 1). නිශ්ශංකමල්ල රජය
  - 2). කීර්ති ශ්‍රී මේඝවර්ණ රජය
  - 3). 3 වන උදය රජය
  - 4). 4 වන මිහිඳු රජය

16. රාජ්‍යත්වයේ බලය වර්ධනය වීමේ ප්‍රධාන ප්‍රතිඵලය වූයේ,
- 1). බලය විමධ්‍යගත වීම
  - 2). රාජධානි අතර ගැටුම් ඇතිවීම
  - 3). බලය මධ්‍යගත වීම
  - 4). ප්‍රාදේශීය පාලකයන් බලවත් වීම

17. පහත A කොටසේ ඇති පෞරාණික ගොඩනැගිලි පිහිටියේ කුමන රාජධානි වල දැයි B කොටසින් තෝරා ගැළපෙන පිළිතුර සොයන්න.

A	B
1. ගඩොලාදෙනි විහාරය	A. පොළොන්නරුව
2. පැපිලියාන සුනේත්‍රාදේවි පිරිවෙන	B. දඹදෙනිය
3. විජයසුන්දරාරාමය	C. කුරුණෑගල
4. සත්මහල් ප්‍රාසාදය	D. ගම්පොළ
	E. කෝට්ටේ

- 1). [DBAC](#)                      2). A D B C                      3). B C D E                      4). D E B A

18. වසභ රාජ්‍ය සාමය හා සම්බන්ධ ප්‍රකාශයක් නොවන්නේ මින් කුමක්ද?
- 1). විශාල ප්‍රමාණයේ වැව් ඉදිවීම.
  - 2). ලම්බකර්ණ වංශයේ ආරම්භය සිදුවීම.
  - 3). ප්‍රථම සංවිධනාත්මක සටන් ව්‍යාපාරයට නායකත්වය දීම.
  - 4). රටේ අභ්‍යන්තර පාලනය විධිමත් කිරීම.

19. I තීරුවේ අනුපිළිවෙල අනුව II තීරුව ගැළපූ විට ලැබෙන නිවැරදි පිළිතුර කුමක්ද?

I	II
1. පන අදෙක	A. අශ්ව අංශයේ ප්‍රධානියා
2. රූප අදෙක	B. වෙළඳ කටයුතු භාර
3. අස අදෙක	C. කාසි අවිච්ඡි ගැසීමේ ප්‍රධානියා
4. නගර ගුනික	D. රාජ්‍ය ලේඛනාගාර කටයුතු
	E. නගර පරිපාලනය

- 1). B C D E                      2). A B C D                      3). B C A D                      4). B C A E

20. එංගලන්තයේ ඉඩම් කොටුකිරීමේ ව්‍යාපාරය මඟින් සිදුවූයේ,
- 1). කුඩා ඉඩම් එක්කර විශාල ගොවිබිම් සැකසීම.
  - 2). දුප්පත් ගොවීන්ගේ ඉඩම් ධනවත් ගොවීන් කොටු කර ගැනීම.
  - 3). සත්ත්ව පාලනයට අවශ්‍ය තණබිම් කොටු කර ගැනීම.
  - 4). වගාවන් සතුන්ගෙන් රැක ගැනීමට වගාබිම් කොටු කිරීම.

21. පුනරුද සමයේ විද්‍යාත්මක ක්ෂේත්‍රයේ නව සොයා ගැනීම් I නිරුවේද ඒ හා සම්බන්ධ පුද්ගලයන් II වන නිරුවේද දැක්වේ. I, II නිරු ගැලපූ විට නිවැරදි පිළිතුර කුමක්ද?

I

II

- |   |                          |
|---|--------------------------|
| 1. ග්‍රහලෝක සූර්යයා වටා ඉලිප්සාකාරව ගමන් කිරීම. | A. ජොහැන්නස් ගුටෙන්බර්ග් |
| 2. ගුරුත්වාකර්ශන නියමය සොයා ගැනීම.              | B. ජොහැන්නස් කෙප්ලර්     |
| 3. මුද්‍රණ යන්ත්‍රය නිපදවීම.                    | C. ගැලීලියෝ ගැලීලි       |
| 4. දුර දක්නය නිපදවීම.                           | D. විලියම් හාවේ          |
|   | E. අයිසෙක් නිව්ටන්       |

- 1). B E AC                      2). A C E B                      3). A E B C                      4). B E C A

22. දේශ ගවේෂණ කටයුතු වලට මුලින්ම අවධානය යොමු කළ රට වූයේ,

- 1). පෘතුගාලය                      2). ඕලන්දය                      3). ප්‍රංශය                      4). ජර්මනිය

23. ක්‍රි. ව. 14 වන සියවසේ සිට යුරෝපයේ පුනරුදය ඇතිවීමට බලපෑ හේතුවක් නොවන්නේ මින් කුමක්ද?

- 1). කොන්ස්තන්තියෝපලය තුර්කි ජාතීන්ට යටත් වීම.
- 2). වෙළඳාම දියුණු වීම.
- 3). නව ධනවතුන් පිරිසක් බිහිවීම
- 4). සාම්ප්‍රදායික රාජාණ්ඩු ක්‍රමයක් පැවතීම.

24. ජෝන් වයික්ලිප්, ජෝන් හස්, මාටින්ලූතර් යන පුද්ගලයන් සම්බන්ධයෙන් නිවැරදි පිළිතුර තෝරන්න.

- 1). මධ්‍යතන යුගයේ ජාතික රාජ්‍ය සංකල්පය ප්‍රචලිත කිරීම.
- 2). දේශ ගවේෂණය සඳහා අනුග්‍රහය දැක්වීම.
- 3). පල්ලියේ ආධිපත්‍ය විවේචනය කිරීම.
- 4). සාහිත්‍ය අවබෝධය සඳහා කටයුතු කිරීම.

25. 19 වන සියවසේ දී ශ්‍රී ලංකාවේ ඇති වූ ආගමික හා සංස්කෘතික ප්‍රබෝධය සම්බන්ධ අදහස් යුගල කිහිපයක් දැක්වේ. ඒ අතරින් නොගැළපෙන යුගලය කුමක්ද?

- 1). රත්මලානේ ධම්මාලෝක හිමි - පැලියගොඩ විද්‍යාලංකාර පිරිවෙන පිහිටුවීම.
- 2). හෙන්රි ස්ටීල් ඕල්කට් තුමා - ජරම විද්‍යානාර්ථ සමාගම පිහිටුවීම.
- 3). ආරුමුග නාවලර් තුමා - උදයභානු පුවත්පත ඇරඹීම.
- 4). ටී. බී. ජයා - කොළඹ සහිරා විද්‍යාලය පිහිටුවීම.

පහත A සිට E දක්වා ඇති තොරතුරු ඇසුරින් 26 , 27 ප්‍රශ්නවලට පිළිතුරු සපයන්න.

- |                             |   |
|-----------------------------|---|
| A. දිවයින පළාත් 5 කට බෙදීම. | D. සර්වජන ඡන්ද බලය                        |
| B. විධායක කාරක සභා ක්‍රමය   | E. ව්‍යවස්ථාදායක හා විධායක සභා පිහිටුවීම. |
| C. පළාත්බද නියෝජන ක්‍රමය    |   |

26. ඩොනමෝර් ආණ්ඩු ක්‍රම ප්‍රතිසංස්කරණය සම්බන්ධ තොරතුරු දැක්වෙන පිළිතුර කුමක්ද?

- 1). A හා D                      2). C හා D                      3). B හා D                      4). A හා B

27. කොල්බෲක් ආණ්ඩු ක්‍රම ප්‍රතිසංස්කරණය සම්බන්ධ තොරතුරු දැක්වෙන පිළිතුර කුමක්ද?

- 1). B හා C                      2). A හා E                      3). A හා D                      4). B හා E

28. මෙරට වඩාත් පැරණිම දේශපාලන පක්ෂය කුමක්ද?

- 1). එක්සත් ජාතික පක්ෂය
- 2). ශ්‍රී ලංකා නිදහස් පක්ෂය
- 3). ලංකා සම සමාජ පක්ෂය
- 4). ලංකා කොමියුනිස්ට් පක්ෂය

29. 1972 ආණ්ඩු ක්‍රම ව්‍යවස්ථාවෙන් ව්‍යවස්ථාදායකය හැඳින්වූයේ,  
 1). රාජ්‍ය මන්ත්‍රණ සභාව නමිනි                      2). පාර්ලිමේන්තුව නමිනි  
 3). ව්‍යවස්ථාදායකය සභාව නමිනි                      4). ජාතික රාජ සභාව නමිනි

30. ලංකාවේ පිහිටුවන ලද ප්‍රථම කාර්මික ජනපදය කුමක්ද?  
 1). රත්මලාන                      2). බියගම                      3). කොශ්ගල                      4). ඒකල

පහත සඳහන් වගුවේ A - I දක්වා තොරතුරු ඇසුරින් 31, 32 ප්‍රශ්න වලට පිළිතුරු සපයන්න.

<u>වර්ෂය</u>	<u>සිදුවූ ස්ථානය</u>	<u>සිදුවීම</u>
A. 1773	D. බැස්ටියා	G. තේ පෙට්ටි විසි කිරීම.
B. 1917	E. බොස්ටන්	H. සමාජවාදී දර්ශනය ඇතිවීම.
C. 1789	F. රුසියන් විප්ලවය	I. සිරකරුවන් නිදහස් කිරීම.

31. ඇමරිකන් විප්ලවයට මුල්වූ ප්‍රධාන සිදුවීම් ලෙස සැලකෙන්නේ,  
 1). A F H                      2). A E H                      3). A E G                      4). C E H

32. ප්‍රංශ විප්ලවයට සම්බන්ධ සිදුවීම් ලෙස සැලකෙන්නේ,  
 1). C D I                      2). B F H                      3). D A J                      4). A G I

පහත දැක්වෙන යුගල ඇසුරින් 33 ප්‍රශ්නයට පිළිතුරු සපයන්න.

- A. දුෂිත රාජ්‍යාණ්ඩු ක්‍රම - දේශපාලන ප්‍රතිසංස්කරණ ලැබීම.
- B. බ්ලැඩ්මියර් ලෙනින්ගේ නායකත්වය - මෙන්ෂේවික්වරු
- C. ටෙනිස් පිටියේ දිවුරුම - සිරකරුවන් නිදහස් කර ගැනීම.
- D. ජෝර්ජ් වොෂින්ටන් - පිලඩෙල්පියා සම්මේලනය

33. දෙවැන්න හා පළවැන්න අතර කිසිම සම්බන්ධයක් නැති යුගලය වන්නේ,  
 1). A                      2). B                      3). C                      4). D

34. දීමනා හා සම්බන්ධ ඇතැම් ශිලා ලේඛන වල අඩසඳ සංකේතවත් කිරීමෙන් ජන සමාජයට ලබාදුන් පණිවුඩය වූයේ,

- 1). දීමනාවේ පවිත්‍රභාවය
- 2). දීමනාවට බාධා කළ අය මතු ආත්මයේ කපුටන්ව ඉපදීමයි.
- 3). රාජ්‍යත්වය හැඟවීම.
- 4). දීමනාව ඉර හඳ පවත්නා කල් පවතින බව.

35. තෝණිගල සෙල්ලිපියේ පිටදඩහස, මදෙහස, අකලහස යනුවෙන් සඳහන් ව ඇත්තේ කවරක් විය හැකිද,  
 1). ජල සම්පාදනය සම්බන්ධ බදු වර්ග තුනකි.  
 2). කෘෂිකර්මයට සම්බන්ධ රාජ්‍ය නිලධාරීන් තිදෙනෙකි.  
 3). වගා කළ ධාන්‍ය වලින් අය කළ බදු වර්ග තුනකි.  
 4). වී වගාවට සම්බන්ධ වගා කන්නා තුනකි.

36. ඓතිහාසික සිදුවීම් කිහිපයක් පහතින් දක්වා ඇත.
- සිංහල බෝධිවංශය රචනා වීම.
  - සංඛ සෙනච් ගංදෙනිය පර්වතයේ දුර්ගයක් පිහිටුවා ගැනීම.
  - ඉබන්බතුතා ලංකාවට පැමිණීම.
  - විජයබා කොල්ලය සිදුවීම

ඉහතින් දැක්වෙන ඓතිහාසික සිදුවීම් ඒවා සිදුවූ අනුපිළිවෙලට පෙළ ගැස්වූ විට නිවැරදි පිළිතුර කුමක්ද?

- 1). B A D C                      2). B A C D                      3). A C B D                      4). B D A C

37. තම ජාතිය නිර්මල ආර්යයන්ගෙන් පැවත එන ලොව ඉතා උතුම් මානව වර්ගයක් බව පවසමින් ජර්මානුවන් ගොඩනගා ගත් දේශපාලන දර්ශනයේ නම,

- 1). පැසිස්ට් වාදයයි
- 2). උපයෝගීතා වාදයයි
- 3). මානව වාදයකි
- 4). නාසිවාදයකි

38. ඇඩොල්ෆ් හිට්ලර්ට පක්ෂග්‍රාහී ජනමතයක් ඇති කිරීමට මාධ්‍ය සාරධර්ම උල්ලංඝනය කළ ජර්මනියේ මාධ්‍ය ඇමතිවරයා වූයේ,

- 1). වෝල්ටෙයාර්ස්
- 2). මැසිනිය
- 3). ගොබෙල්ස්
- 4). බිෂ්මාක්ස්

39. ඉතාලියේ කළු කම්ස හමුදාව නමින් සන්නද්ධ හටයන් යොදාගෙන පැසිස්ට් වාදයට එරෙහිව පිරිස් විනාශ කළේ කවුරුන්ද?


- 1). ජෝසප් මැසිනි
- 2). ගැරිබෝල්ඩ්
- 3). ක්ලේමන් ෂෝ
- 4). බෙනිටෝ මුසොලිනි

40. ලෝක සාමය හා ආරක්ෂාව පවත්වා ගැනීමට I වන ලෝක යුද්ධයෙන් පසු පිහිටුවනු ලැබූ සංවිධානය කුමක්ද?

- 1). එක්සත් ජාතීන්ගේ සංවිධානය
- 2). නොබැඳි ජාතීන්ගේ සමුළුව
- 3). ජාතීන්ගේ සමුළුව
- 4). උතුරු අත්ලාන්තික් සංගමය



(iii)



- A - මෙම රූපයෙන් දැක්වෙන පුද්ගලයා කරන්න.
- B - මොහු නියෝජනය කළ දේශපාලන පක්ෂය කුමක්ද?
- C - මොහුගේ පාලන කාලය තුළ හඳුන්වා දුන් ආණ්ඩු ක්‍රම ව්‍යවස්ථාව කුමක්ද?
- D- ලංකා දේශපාලනය තුළ මොහු දැරූ ඉහළම තනතුර කුමක්ද?

(ලකුණු 04)

**II කොටස**

(02) (I) ඉතිහාසය ගොඩ නැගීම සඳහා සාහිත්‍ය මූලාශ්‍රය යොදා ගැනීමේ දී අවධානය යොමු කළ යුතු කරුණු 03 ක් නම් කරන්න. (ලකුණු 03)

(II) පහත A සිට D දක්වා දී ඇති එක් එක් ප්‍රකාශයට අදාළ පිළිතුර වරහන් තුළින් තෝරා අනුපිළිවෙළින් ලියා දක්වන්න.

- A- ගල් ලෙන්වල කචාරමට යටින් ලියා ඇති ලේඛන
- B- පැරණි කාසි පිළිබඳ හදාරණ විෂය
- C- පියංගුත තිස්ස විහාරය ඉදිකරන ලද්දේ
- D- අනුරාධපුර රාජධානි සමයේ රචනා වූ ග්‍රන්ථයකි.

(අමා චතුර, සියඹස්ලකර, ලෙන් ලිපි, නාණක විද්‍යාව, සෘෂිගිරි ඇමති, කීර්ති ශ්‍රී නිශ්ශංකමල්ල)

(ලකුණු 04)

(III) සාහිත්‍ය මූලාශ්‍රවලින් ලැබෙන ප්‍රයෝජන දෙකක් දක්වා කෙටියෙන් විස්තර කරන්න.

(ලකුණු 05)

(IV) ඉතිහාසය හැඳුරීමේ දී නටබුන් වැදගත් මූලාශ්‍රයක් ලෙස හැඳින්වීමට බලපාන හේතු 03 ක් කෙටියෙන් පැහැදිලි කරන්න. (ලකුණු 06)

(03) (I) ප්‍රාග් ඓතිහාසික මානවයා ආහාරයට ගත්,

- A- ශාකමය ආහාර වර්ගයක් ද
- B- සත්ත්වමය ආහාර වර්ග දෙකක් ද නම් කරන්න.

(ලකුණු 03)

(II) A - ශ්‍රී ලංකාවේ ගල් යුගයට අයත් ප්‍රජාව ජීවත් වූ පරිසර කලාප දෙකක් ද,

B - වෙරළාශ්‍රිත ඵලිමහන් වාසස්ථාන දෙකක් ද අනුපිළිවෙළින් නම් කරන්න.

(ලකුණු 04)

(III) ශ්‍රී ලංකාවේ පූර්ව ඓතිහාසික යුගය ප්‍රාග් ඓතිහාසික යුගයෙන් වෙන් වී පෙනීමට හේතු වූ කරුණු දෙකක් දක්වා විස්තර කරන්න. (ලකුණු 05)

(IV) මුල් ඓතිහාසික යුගයේ ජනාවාසවල ස්වරූපය කරුණු 03 ක් ඇසුරින් පැහැදිලි කරන්න.

(ලකුණු 06)



(04) (I) පහත A, B, C යන කාර්යයන් හා සම්බන්ධ පුද්ගලයන්ගේ තනතුරු නාම නම් කරන්න.

A : පවුලට අයත් පිරිස නඩත්තු කිරීම -

B : ගම්වල ආරවුල් විසඳීම -

C : වැව් පද්ධතියක් භාරව කටයුතු කිරීම - (ලකුණු 03)

(II) පහත A සිට D දක්වා ඇති ප්‍රකාශවලට ගැලපෙන පිළිතුර වරහන් තුළින් තෝරා අනුපිළිවෙළින් ලියන්න.

A : ප්‍රාදේශීය පාලනයට හවුල් වූ කාන්තාවන් -

B : වැව් පද්ධතියක් හැඳින්වීමට භාවිතා කරන නම -

C : දසවන රාජ වර්ෂයේ දී දිවයිනේ ග්‍රාම සීමා සටහන් කිරීම -

D : සටන් ව්‍යාපාරයක් මගින් වෝල පාලකයන් පරදා රට නැවත එක්සේසත් කිරීම -

(I විජය බාහු රජු, පණ්ඩුකාභය රජු, එල්ලංගාව, පරුමකලු, දේවානම්පිය තිස්ස රජු) (ලකුණු 04)

(III) පැරණි ලංකාවේ රාජ්‍ය උරුමය ලැබුණු ආකාර දෙකක් නම් කර පැහැදිලි කරන්න. (ලකුණු 05)

(IV) දුටුගැමුණු රජතුමා අගය කළ යුත්තේ එතුමා බුදු දහමට කළ සේවය නිසා පමණක්ම නොවේ. එතුමාගේ රාජ්‍ය සමයේ දේශපාලන වැදගත්කම කරුණු 02 ක් ඇසුරින් පෙන්වා දෙන්න. (ලකුණු 06)

(05) (I) A - නාවිවාදුව වැව

B - කලා වැව

C - පරාක්‍රම සමුද්‍රය

යන ජලාශයන් පෝෂණය වන්නේ කවර ගංගාධාරයක් ආශ්‍රිතව දැයි වරහන් තුළින් තෝරා අනුපිළිවෙළින් ලියන්න.

(මල්වතු ඔය, යාන් ඔය, මහවැලි ගඟ, ගෝන නදිය, ජජේර නදිය, ගල් ඔය) (ලකුණු 03)

(II) පහත A සිට D දක්වා ඇති ප්‍රකාශවලට ගැලපෙන පිළිතුර වරහන් තුළින් තෝරා අනුපිළිවෙළින් ලියන්න.

A - ගවයින්ගේ ආරක්ෂාව සඳහා පවත්වන ශාන්ති කථමයකි

B - ඇළ මාර්ග ඉදිකිරීම සම්බන්ධයෙන් කටයුතු කළ අයෙකි

C - අඹන් ගඟ හරස් කර ඉදි කළ ඇළ

D - වෙර යොදා බලය යොදා ගල් පතුරු ගැලවීමේ තාක්ෂණය

(උදක, අඩික, කිරි මඩු යාගය, පීඩන ශල්කනය, ඇළහැර, මිණිපේ) (ලකුණු 04)

(III) A - වැවක තාක්ෂණික අංග දෙකක් නම් කරන්න.

B - ඔබ ඉහත නම් කළ එක් තාක්ෂණික අංගයක නිර්මාණය හා ප්‍රයෝජන කෙටියෙන් ලියන්න. (ලකුණු 05)

(IV) පැරණි ශ්‍රී ලාංකික ශිල්පීන්ගේ වාස්තු විද්‍යාත්මක නිර්මාණ හැකියාව විදහාපාන නිදසුන් 02 ක් දක්වා විස්තර කරන්න. (ලකුණු 06)

- (06) (I) A - කෝට්ටේ  
 B - රයිගම  
 C - සීතාවක

යන ප්‍රදේශවල පාලකයන් අනුපිළිවෙලින් ලියා දක්වන්න, (ලකුණු 03)

(II) පහත සඳහන් තොරතුරු හා සම්බන්ධ පුද්ගලයන් කවුරුන්දැයි වරහන් තුළින් තෝරා ලියන්න.

- A : අවුස්ත්‍රියාවේ දොන් ජුවන් -  
 B : මහා අස්ථාන කුමරු -  
 C : නායක්කාර වංශයේ ආරම්භක රජු -  
 D : කන්නසාමි කුමරු -

- ශ්‍රී වික්‍රම රාජසිංහ, ii රාජසිංහ, ශ්‍රී විජය රාජසිංහ, කොනප්පු බණ්ඩාර, රාජාධි රාජසිංහ

(ලකුණු 04)

(III) මහනුවර රාජධානියේ ,

- A - රජතුමා විසින්ම විසඳන ලද නඩු වර්ග දෙකක් ද  
 B - එකල වැරදිකරුවන්ට ලබා දුන් දඩුවම් ක්‍රම තුනක් ද පිළිවෙලින් ලියා දක්වන්න

(ලකුණු 05)

(IV) මහනුවර රාජධානියේ සමාජ සංවිධානයේ කැපී පෙනෙන ලක්ෂණ 03 ක් දක්වමින් විස්තර කරන්න (ලකුණු 06)

(07) (I) ඉංග්‍රීසින් 17 වන සියවසේ අග භාගය වන විට ඉන්දියාවේ පිහිට වූ වෙළඳ මධ්‍යස්ථාන 03 ක් නම් කරන්න. (ලකුණු 03)

(II) පහත සඳහන් තොරතුරු හා සම්බන්ධ පුද්ගලයන් කවුරුන්දැයි වරහන් තුළින් තෝරා අනුපිළිවෙලින් ලියන්න.

- A : ලංකාවේ අවසන් ලන්දේසි ආණ්ඩුකරු -  
 B : ලංකාවේ පාලනයට පත් ප්‍රථම ඉංග්‍රීසි ආණ්ඩුකරු -  
 C : කරතොට ධර්මාරාම හිමිගෙන් සිංහල භාෂාව උගත් කාර්ය ශූර සිවිල් සේවකයා -  
 D : උඩරට ප්‍රවාහන කටයුතු භාරවූ මඩිගේ මුහන්දිරම් -

(ජෝන් ඩොයිලි, පෙඩ්රික් නෝර්ත්, ෆන් එංගල් බෙක්, හප්පි මරික්කාර්, ටොරින්ටන් සාමි)

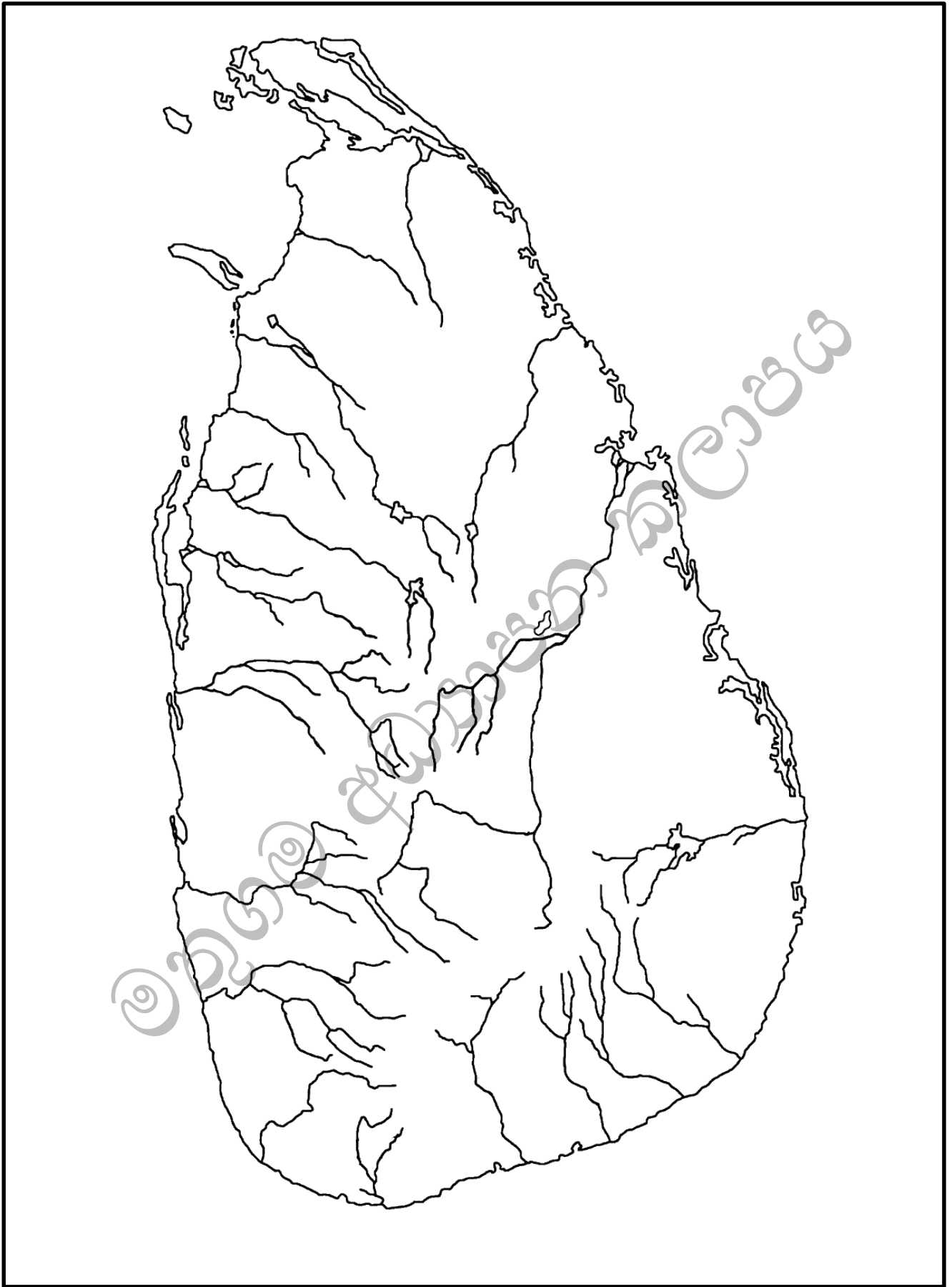
(ලකුණු 04)

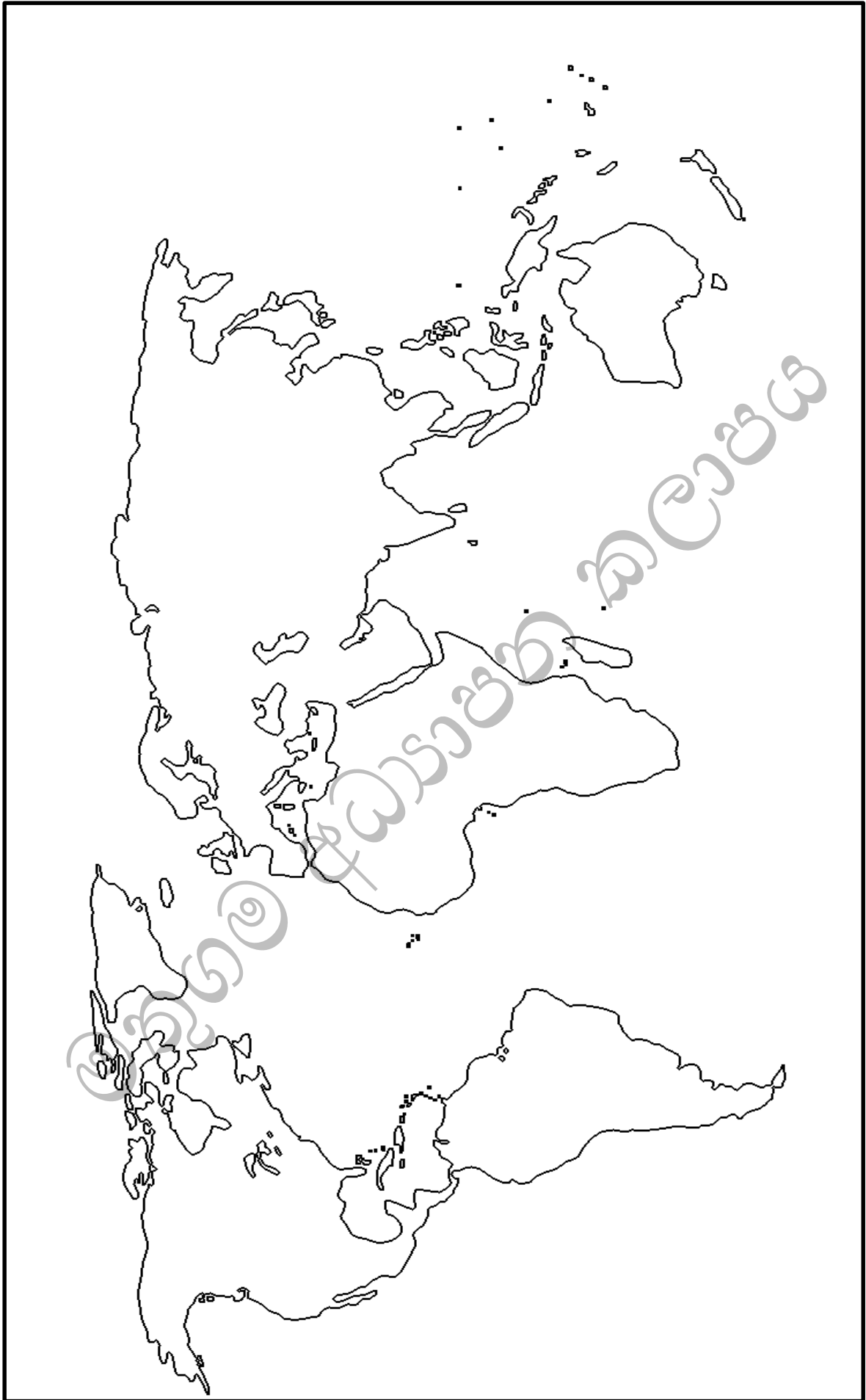
(III) ශ්‍රී ලංකාව කෙරේ බ්‍රිතාන්‍ය අවධානය යොමු වීමට බල පෑ හේතු දෙකක් දක්වා පැහැදිලි කරන්න . (ලකුණු 04)

(IV) A 1948 නිදහස් සටනේ නායකයන් දෙදෙනෙකු නම් කරන්න.

B 1948 නිදහස් සටන ඇති වීමට බල පෑ හේතු දෙකක් දක්වා කෙටියෙන් පැහැදිලි කරන්න . (ලකුණු 06)







මතුගම අධ්‍යාපන කලාපය Matugama Education Zone மாத்துகம் கல்விக் வலயம் මතුගම අධ්‍යාපන කලාපය Matugama Education Zone மாத்துகம் கல்விக் வலயம் මතුගම අධ්‍යාපන කලාපය Matugama Education Zone மாத்துகம் கல்விக் வலயம் මතුගම අධ්‍යාපන කලාපය Matugama Education Zone

**මතුගම අධ්‍යාපන කලාපය**

**පෙර'ඔරට සවියක් ප්‍රතිඵල සංවර්ධන වැඩසටහන**

ඉතිහාසය - පිළිතුරු

11 ශ්‍රේණිය

**ඉතිහාසය I**

1) 2	11) 2	21) 1	31) 3
2) 3	12) 4	22) 1	32) 1
3) 1	13) 2	23) 4	33) 2
4) 3	14) 2	24) 3	34) 4
5) 2	15) 3	25) 4	35) 4
6) 4	16) 3	26) 3	36) 2
7) 4	17) 4	27) 2	37) 4
8) 3	18) 3	28) 3	38) 3
9) 3	19) 4	29) 4	39) 4
10) 2	20) 1	30) 4	40) 1

(ලකුණු 2×40 = 80)

**ඉතිහාසය II**

**I කොටස**

01.

- අ) I), II) සිතියමෙහි දක්වා ඇත.(පිටුව 5) (ලකුණු 18)
- ආ)
- I.
    - A. ලොරෙන්සෝ ද අල්මේදා (ලකුණු 04)
    - B. 3 වන විජයබාහු රජු
    - C. ක්ලෝඩියස් ටොලමී
    - D. කීර්ති ශ්‍රී නිශ්ශංකමල්ල රජතුමා
  - II.
    - A. පින්තාරු කළ මැටි බඳුන (ලකුණු 04)
    - B. රංචාමඩම
    - C. පූර්ව ඓතිහාසික යුගය
    - D. සකපෝරුව
  - III.
    - A. J R ජයවර්ධන (ලකුණු 04)
    - B. එක්සත් ජාතික පක්ෂය
    - C. 1978
    - D. විධායක ජනාධිපති

II කොටස

02.

- I. - මූලාශ්‍රය රචනා වූ කාලය (ලකුණු 03)  
 - මූලාශ්‍රයේ කතුවරයා  
 - කතුවරයාගේ අරමුණු  
 - කරුණු සොයා ගත් ආකාරය
- II. A. ලෙන්ලිපි B. නාණක විද්‍යාව (ලකුණු 04)  
 C. සෘෂිගිරි ඇමති D. සියබස්ලකර
- III. - ඓතිහාසික කාල අනුපිළිවෙලට ගොඩ නැගීම.  
 - එක් එක් අවධි වල දේශපාලන ආර්ථික සමාජ සංස්කෘතික තොරතුරු ලබා ගැනීම.  
 - එක් මූලාශ්‍රයකින් ලැබෙන තොරතුරු තවත් මූලාශ්‍රයකින් තහවුරු කර ගැනීම.  
 - රටක විදේශීය සබඳතා අනාවරණය. (ලකුණු 05)
- IV. - පැරණි ජනතාවගේ නිර්මාණාත්මක හැකියාව විද්‍යාමාන වීම. (ලකුණු 06)  
 - එකල පැවති තාක්ෂණය පිළිබඳ තොරතුරු ලබා ගැනීම.  
 - පරිසර සංරක්ෂණ හැකියාව.  
 - වාස්තූ විද්‍යාව පිළිබඳ අනාවරණය

03.

- I. A. වල්දෙල්, කැලෑකෙසෙල්, ගෝනල, කටුවල (ලකුණු 03)  
 B. වල් ඌරා, ගෝනා, ඉත්තෑවා
- II. A - පහත රට තෙත් කලාපය (ලකුණු 04)  
 පහත රට වියළි කලාපය  
 B - බුන්දල, පතිරාපවෙල, මින්නාගල් කන්ද
- III. - යකඩ ලෝහ භාවිතය. (ලකුණු 05)  
 - කෘෂිකර්මාන්තයට යොමු වීම.  
 - පිළිස්සු මැටි වළං භාවිතය.  
 - ක්‍රමවත් සුසාන වාරිත අනුගමනය.
- IV. - කුඩා වැව් කේන්ද්‍රකොට ජනාවාස ඇරඹීම. (ලකුණු 06)  
 - ගංගාවල පිටාර නිමනයන්ට පිටතින් ජනාවාස ව්‍යාප්ත වීම.  
 - විවිධ වෘත්තීන් පදනම් කරගෙන ජනාවාස බිහිවීම.  
 - ගමික ගමේ ප්‍රධානියා වීම.

04.

- I. A. ගෘහපති B. ගමික C. පරුමක (ලකුණු 03)
- II. A. පරුමකළු B. එල්ලංගාව (ලකුණු 04)  
 C. පණ්ඩුකාභය රජු D. I වන විජයබාහු
- III. සහෝදරයාගෙන් සහෝදරයාට (ලකුණු 05)  
 පියාගෙන් පසු පුතාට

- IV. - එළාර නම් පාලකයාගේ අනසකින් ඊට මුදවාගෙන ඊට එක්සේසත් කිරීම. (ලකුණු 06)  
 - පරමකවරුන් සතුව තිබූ ප්‍රාදේශීය බලය ඒකාබද්ධ කිරීම.  
 - ඉතිහාසයේ ප්‍රථම සංවිධානාත්මක සටන් ව්‍යාපාරයට නායකත්වය දීම.

**05.**

- I. A. මල්වතු ඔය      B. ගෝන නදිය      C. මහවැලි ගඟ (ලකුණු 03)
- II. A. කිරිමඩුයාගය      B. අඩික (ලකුණු 04)  
 C. ඇළහැර      D. පිඩන ශල්කනය
- III. වැව් බැම්ම, රළපනාව, බිසෝකොටුව, සොරොව්ව (ලකුණු 05)
- IV. - නිවාස ඉදිකිරීමේ තාක්ෂණය (ලකුණු 06)  
 - රුවන්වැලි සෑයේ අත්තිවාරම  
 - නගර නිර්මාණ හා උද්‍යාන සැලසුම්  
 - සනීපාරක්ෂාව හා ස්වස්ථතාව

**06.**

- I. A. 7 වන බුවනෙකබාහු      B. රයිගම් බණ්ඩාර (ලකුණු 03)  
 C. මායාදුන්නේ
- II. A. කොනප්පු බණ්ඩාර      B. 2 වන රාජසිංහ (ලකුණු 04)  
 C. ශ්‍රී විජය රාජසිංහ      B. ශ්‍රී වික්‍රම රාජසිංහ
- III. A. වැදගත් නායකයන් සම්බන්ධ නඩු, කැරළි කෝලාහල නඩු, රාජද්‍රෝහිත්වය සම්බන්ධ නඩු  
 B. ඇතුල් පහර දීම, දඩ ගැසීම, දඩු කදේ ගැසීම, කස පහර දීම. (ලකුණු 05)
- IV. - සමාජ සම්බන්ධතා කුල ක්‍රමය මත පදනම් වීම. (ලකුණු 06)  
 - මූලික විවාහ ක්‍රම තුනක් පැවතීම.  
 - ස්වයංපෝෂිත ජන සමාජයක් පැවතීම.  
 - ඉඩම් අයිතිය හා භුක්තිය මත පදනම්ව තිබීම.

**07.**

- I. මදුරාසිය, බොම්බාය, කල්කටාව (ලකුණු 03)
- II. A. ඊන් එංගල් බෙක්      B. පෙඩ්රික් නෝර්ත් (ලකුණු 04)  
 C. ජෝන් ඩොයිලි      D. හප්පි මරික්කාර්
- III. - ශ්‍රී ලංකාවේ පිහිටීම. (ලකුණු 05)  
 - කුරුඳු ඇතුලු වටිනා වෙළඳ ද්‍රව්‍ය ලබා ගැනීම.
- IV. A. ගොන්ගාලේ ගොඩබණ්ඩා, පුරන්අප්පු, පිංගිරාළ (ලකුණු 06)  
 B. - රජයේ ඉඩම් ප්‍රතිපත්තිය  
 - නව අධිකරණ ක්‍රමය  
 - නව බදු ප්‍රතිපත්තිය



III කොටස

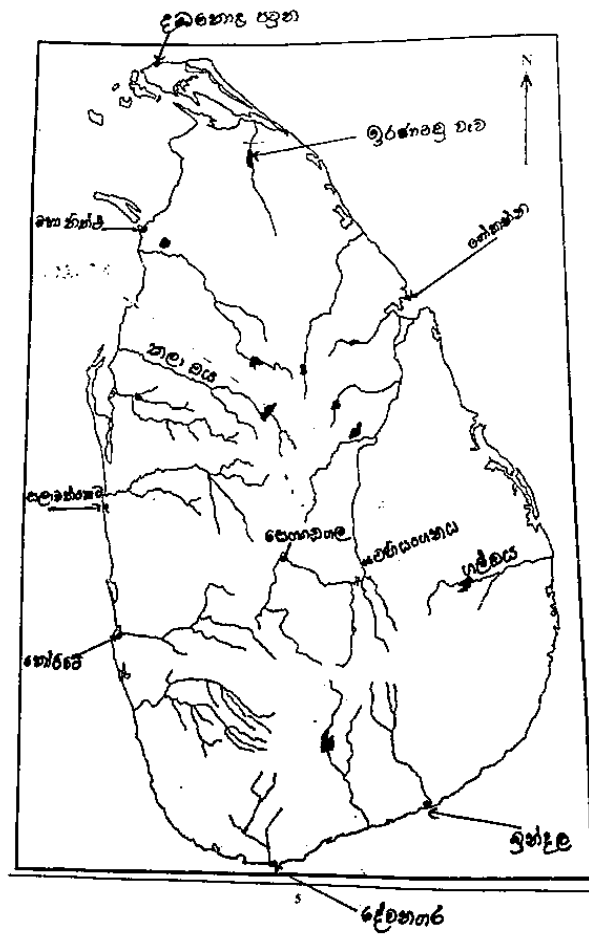
08.

- I. ජෛෂ කර්මාන්ත, ගල් අඟුරු කර්මාන්තය, යකඩ හා වානේ කර්මාන්තය (ලකුණු 03)
- II. A. විලියම් සීමන්ස්                      B. හම්ප්‍රි ඩේව්                      (ලකුණු 04)  
C. පෙඩරික් නෝර්ත්                      D. හෙන්රි වෝඩ්
- III. - මහා පරිමාණ ගොවිබිම් ආරම්භ කිරීම. (ලකුණු 05)  
- ශෂ්‍ය මාරු ක්‍රමය.  
- සත්ත්ව පාලන කටයුතු සඳහා නව තාක්ෂණය යොදා ගැනීම.  
- නව කෘෂිකර්ම ක්‍රම/ උපකරණ භාවිතය.
- IV. - විශාල වශයෙන් නගර බිහිවීම. (ලකුණු 06)  
- රැකියා අවස්ථා බිහිවීම.  
- පංති සහිත සමාජයක් බිහිවීම.

09.

- I. ජර්මනිය, ඔස්ට්‍රියාව, තුර්කිය, බල්ගේරියාව (ලකුණු 03)
- II. A. ලුසිටානියා                      B. වෛමාර්                      (ලකුණු 04)  
C. හිට්ලර්                      D. වින්සන්ට් වර්විල්
- III. - ජර්මනිය එක්සත් කිරීමේ ව්‍යාපාරයේදී ප්‍රංශය හා ජර්මනිය සතුරන් බවට පත්වීම. (ලකුණු 05)  
- දෙවන විලියම්ගේ ක්‍රියාකලාපය.  
- යටත් විජිත සඳහා වූ තරඟය.  
- ඔස්ට්‍රියාවේ ඔට්ටෝන හිමි කුමරු ඝාතනය කිරීම.
- IV. - අක්ෂ පිල පරාජයට පත්වීම. (ලකුණු 06)  
- මිනිස් ජීවිත මිලියන 50 කට වඩා විනාශ වීම.  
- දේපළ හා ධන විනාශය.  
- ලෝක බලවතුන්ගේ ස්ථාන අහිමි වීම.  
- මාර්ෂල් සැලැස්ම බිහි වීම.

අ) I)



II)

