



ශ්‍රී ලංකා විභාග දෙපාර්තමේන්තුව  
අ.පො.ස. (උ.පෙළ) විභාගය - 2025

# 51 - චිත්‍ර කලාව

ලකුණු දීමේ පටිපාටිය



මෙය උත්තරපත්‍ර පරීක්ෂකවරුන්ගේ ප්‍රයෝජනය සඳහා සකස් කෙරිණි.  
ප්‍රධාන/ සහකාර පරීක්ෂක රැස්වීමේ දී ඉදිරිපත්වන අදහස් අනුව මෙහි වෙනස්කම් කරනු ලැබේ.

අවසන් සංශෝධන ඇතුළත් කළ යුතුව ඇත.

ශ්‍රී ලංකා විභාග දෙපාර්තමේන්තුව ශ්‍රී ලංකා විභාග දෙපාර්තමේන්තුව ශ්‍රී ලංකා විභාග දෙපාර්තමේන්තුව ශ්‍රී ලංකා විභාග දෙපාර්තමේන්තුව ශ්‍රී ලංකා විභාග දෙපාර්තමේන්තුව  
 இலங்கைப் பரீட்சைத் திணைக்களம் இலங்கைப் பரීட்சைத் திணைக்களம் இலங்கைப் பரීட்சைத் திணைக்களம் இலங்கைப் பரීட்சைத் திணைக்களம் இலங்கைப் பரීட்சைத் திணைக்களம்  
 Department of Examinations, Sri Lanka Department of Examinations, Sri Lanka Department of Examinations, Sri Lanka Department of Examinations, Sri Lanka Department of Examinations, Sri Lanka  
 இலங்கைப் பரීட்சைத் திணைக்களம் இலங்கைப் பரීட்சைத் திணைக்களம் இலங்கைப் பரීட்சைத் திணைக்களம் இலங்கைப் பரīட்சைத் திணைக்களம் இலங்கைப் பரīட்சைத் திணைக்களம்  
 Department of Examinations, Sri Lanka Department of Examinations, Sri Lanka Department of Examinations, Sri Lanka Department of Examinations, Sri Lanka Department of Examinations, Sri Lanka

අධ්‍යයන පොදු සහතික පත්‍ර (උසස් පෙළ) විභාගය, 2025  
 கல்விப் பொதுத் தராதரப் பத்திர (உயர் தர)ப் பரீட்சை, 2025  
 General Certificate of Education (Adv. Level) Examination, 2025

විභූ කලාව I  
 சித்திரக்கலை I  
 Art I

51 S I

පැය තුනයි  
 மூன்று மணித்தியாலம்  
 Three hours

අමතර කියවීමේ කාලය - මිනිත්තු 10 යි  
 மேலதிக வாசிப்பு நேரம் - 10 நிமிடங்கள்  
 Additional Reading Time - 10 minutes

අමතර කියවීමේ කාලය ප්‍රශ්න පත්‍රය කියවා ප්‍රශ්න තෝරා ගැනීමටත් පිළිතුරු ලිවීමේ දී ප්‍රමුඛත්වය දෙන ප්‍රශ්න සංවිධානය කර ගැනීමටත් යොදාගන්න.

විෂය අංකය : .....

වර්තමානේ ප්‍රයෝජනය සඳහා පමණයි.	
I පත්‍රය සඳහා	
කොටස	ලකුණු
I	
II	
එකතුව	
1 වැනි පරීක්ෂක	2 වැනි පරීක්ෂක

උපදෙස්:

- \* මෙම ප්‍රශ්න පත්‍රය කොටස් දෙකකින් සමන්විත ය.
- I කොටස**
  - ප්‍රශ්න සියල්ලට ම පිළිතුරු මෙම ප්‍රශ්න පත්‍රයේ ම සපයන්න.
  - එක් එක් ප්‍රශ්නයට නිවැරදි පිළිතුර තෝරා, එහි අංකය ඉදිරියෙන් ඇති හිස් ඉර මත ලියන්න.
- II කොටස**
  - අනුකොටස් තුනකින් සමන්විත ය.
  - 'අ' කොටසින් ප්‍රශ්න දෙකක් හා 'ආ' සහ 'ඉ' යන කොටස් දෙකෙන් එක් ප්‍රශ්නය බැගින් තෝරාගෙන, ප්‍රශ්න හතරකට පිළිතුරු සපයන්න.
- \* I කොටසට හා II කොටසට අයත් පිළිතුරු පත්‍ර එකට අමුණා භාර දෙන්න.

I කොටස

- ප්‍රශ්න අංක 1 සිට 5 තෙක් එක් එක් ප්‍රශ්නයට වඩාත් ගැළපෙන වරණය තෝරන්න.
- 1. නූතන කලා ප්‍රයෝග ඇසුරෙන් විභූතය වූ 'ජෙන හවන' සිතුවම කළ ශිල්පියා වනුයේ,
  - (1) අයිවන් පිරිස් ය.
  - (2) නැරි පිරිස් ය.
  - (3) ඩබ්ලිව්. ජේ. ජී. බීලිං ය.
  - (4) ඊවඩ් හේබ්‍රියල් ය. (.....2.....)
  - (5) එල්.වී.පී. මංජු ශ්‍රී ය.
- 2. මිසර විභූ නිර්මාණයේ දී මූලිකව ම අපේක්ෂා කරන ලද්දේ,
  - (1) පාරාවරුන්ගේ ජීවන කොරතුරු වාර්තා කර නැබීමයි.
  - (2) පාලකයන්ගේ බල පරාක්‍රමය පෙන්වීමයි.
  - (3) පාරාවරුන්ගේ ආගමික ඇදහිලි හා විශ්වාස පෙන්වීමයි.
  - (4) පාරාවරුන්ගේ යුධ ජයග්‍රහණ පෙන්වීමයි. (.....1.....)
  - (5) පාරාවරුන්ගේ දඩයම් දර්ශන පෙන්වීමයි.
- 3. ගම්පොළ යුගයේ නිර්මාණය වූ බුදු පිළිම තුළ දක්නට ඇති සුවිශේෂී ලක්ෂණය වනුයේ,
  - (1) ජ්‍යාමිතික හැඩැති සිරුර හා අධ්‍යාත්මික ගුණ නිරූපණයයි.
  - (2) හින්දු කලා ලක්ෂණ අනුව විවිධ දෙනෙත් නිරූපණයයි.
  - (3) පුළුල් දෙවුර හා පොරුණ ලක්ෂණ ආරෝපණය කිරීමයි.
  - (4) රිද්මයානුකූල දියැලි ආකාර විවරය හා ප්‍රකාශනයයි.
  - (5) කේතුමාලා සිරස්පත පොදු ලක්ෂණයක් ලෙස යොදා ගැනීමයි. (.....2.....)

[අභ්‍යන්තර ආබාධ නිවැරදි කිරීම]


4. අනුරාධපුර යුගයේ සිට මහනුවර යුගය දක්වා ම සඳකඩ පහතේ පැවති, එතෙක් ක්‍රමිකව වෙනසකට ලක් වූයේ,  
 (1) තීරු බෙදා වෙන් කළ ආකාරයයි.  
 (2) අඩ නෙළුම් පූර්ණ නෙළුමක් වූ ආකාරයයි.  
 (3) කලා අංග ස්ථානගත කළ පිළිවෙලයි.  
 (4) ගිනි දැල්ලේ ස්වරූපය හා ප්‍රමාණයේ වෙනසයි.  
 (5) සක්වාචලියේ දිශානතියේ සිදු වූ වෙනසයි.

(...2...)

5. ඉන්දීය මාමල්ලපුරමිහි පංච පාණ්ඩව රථ දේවාල අතර දෙමහල් රථය වන්නේ,  
 (1) අර්ජුන රථයයි.  
 (2) ධර්මරාජ රථයයි.  
 (3) දුඛ්‍යදි රථයයි.  
 (4) නකුල සහදේව රථයයි.  
 (5) හීම රථයයි.

(...5...)

- ප්‍රශ්න අංක 6 සිට 10 තෙක් අසා ඇති ප්‍රශ්නවලට වඩාත් ගැලපෙන වරණය 1 සිට 9 තෙක් අංක කර ඇති පහත සඳහන් පින්තූර ඇසුරෙන් තෝරන්න.



1



2



3



4



5



6



7



8



9

6. වාස්තු විද්‍යාත්මක අංගයන් ලෙස නිම කරන ලද කලා කෘති මොනවා ද?  
 (1) 2,3,4 (2) 3,4,7 (3) 4,5,6 (4) 4,6,7 (5) 5,6,7 (...2...)
7. මිත්‍යා රූප ඇසුරෙන් කරන ලද කලා නිර්මාණ මොනවා ද?  
 (1) 2,5 (2) 5,6 (3) 6,7 (4) 6,9 (5) 7,9 (...5...)
8. ඓතිහාසික පුරාවෘත්ත හා බැඳී නිර්මාණ මොනවා ද?  
 (1) 1,3 (2) 1,5 (3) 1,6 (4) 3,6 (5) 6,8 (...3...)
9. නෙලීමේ ශිල්ප ක්‍රමය භාවිතයෙන් කළ නිර්මාණ මොනවා ද?  
 (1) 1,2,4,5 (2) 1,2,4,7 (3) 1,2,6,9 (4) 1,3,6,9 (5) 4,6,8,9 (...4...)
10. වාත්තු ශිල්ප ක්‍රම පදනම් කරගෙන කළ නිර්මාණ මොනවා ද?  
 (1) 2,5,6 (2) 2,5,8 (3) 5,6,7 (4) 6,7,8 (5) 7,8,9 (...2...)

● ප්‍රශ්න අංක 11 සිට 15 තෙක් අසා ඇති එක් එක් ප්‍රශ්නයට වඩාත් ගැළපෙන වරණය A, B, C, D, E ලෙස නම් කර ඇති පහත සඳහන් විකු ඇසුරෙන් තෝරන්න.




A




B



C



D



E

11. **A** අක්ෂරයෙන් දැක්වෙන ආලෝඛ්‍ය සිතුවම,  
 (1) චේ.බී.ඒ. පෙරේරා ශිල්පියාගේ ය.  
 (2) ස්ටැන්ලි අබේසිංහයන්ගේ ය.  
 (3) ඒ.පී.ඒ.එස්. අමරසේකරයන්ගේ ය.  
 (4) හැරි පිරිස් ශිල්පියාගේ ය.  
 (5) චේට්ටි පේන්ටර් ශිල්පියාගේ ය. (.....1.....)
12. **B** අක්ෂරයෙන් දැක්වෙන මේරි කසාච් ශිල්පිනියාගේ සිතුවම තුළ,  
 (1) ශාස්ත්‍රාලයීය යථාර්ථවාදී ක්‍රමෝපායන් භාවිත කර ඇත.  
 (2) හුදකලාව හා විවිධ මානසික ව්‍යාකූලතා ඉස්මතු කර ඇත.  
 (3) වර්ණවල ඇති පසම්බුද්ධතාවය සංරචන උපක්‍රම ලෙස භාවිත කොට ඇත.  
 (4) සම්භාව්‍ය සංරචන ක්‍රමවේදයන් අනුගමනය කර ඇත.  
 (5) පසුබිම අත්‍යවශ්‍ය අංගයක් සේ නිරූපණය කර ඇත. (.....3.....)
13. **C** අක්ෂරයෙන් දැක්වෙන ජස්ටින් දැරණියගල ශිල්පියාගේ සිතුවම,  
 (1) නිරූපණාත්මක මෙන් ම ශෛලිගත ලක්ෂණ පෙන්නුම් කරයි.  
 (2) වස්තූන්ගේ ස්වභාවය ප්‍රකෘති ස්වභාවයෙන් ඉදිරිපත් කරයි.  
 (3) ප්‍රකාශනවාදී කලා ලක්ෂණ සහිත මධ්‍යගත සංරචනයකි.  
 (4) ශාස්ත්‍රාලයීය ශිල්ප ක්‍රමය අනුව කළ ප්‍රකාශනයකි.  
 (5) යථාරූපී මෙන් ම සනිකවාදී කලා ලක්ෂණ ද සම්මිශ්‍රිත ප්‍රකාශනයකි. (.....3.....)
14. **D** අක්ෂරයෙන් දැක්වෙන චබ්ලිට්.පේ.ඒ. බ්ලිං ශිල්පියාගේ සිතුවම,  
 (1) හැඩකල ද්විමාන ස්වරූපයෙන් තලය පුරා විසිරෙන සේ දක්වා ඇත.  
 (2) ස්වාභාවික හා නිර්මාණාත්මක හැඩකල සමූහයක් එකතුවෙන් කළ නිර්මාණයකි.  
 (3) විසංගත වර්ණ භාවිතයෙන් ප්‍රකෘති ස්වභාවය විකෘති කර දක්වයි.  
 (4) නිශ්චල ද්‍රව්‍ය සමූහයක් සනිකවාදී ස්වරූපයෙන් කළ ප්‍රකාශනයකි.  
 (5) ද්විමාන හා ත්‍රිමාන හැඩකල අර්ථවත්ව එකට ගැළපීමකි. (.....4.....)
15. **E** අක්ෂරයෙන් දැක්වෙන අමරිතා ශර්ශිල් ශිල්පිනියාගේ සිතුවම,  
 (1) ශාස්ත්‍රාලයීය දැනුමෙන් පෝෂිත විකුමය භාෂාවකින් සමන්විත වූවකි.  
 (2) සම්භාව්‍ය වර්ණ මාලාවකින් සම්භාව්‍ය නොවන තේමාවක් හැඩ කිරීමකි.  
 (3) ගැමි සංස්කෘතිය, ශෛලිගත ආකාරයකින් ගොඩනැංවූවකි.  
 (4) බහු වාර්ණික ස්වරූපයෙන් තේමාව අර්ථ දැක්වීමකි.  
 (5) නූතනවාදී කලා ප්‍රවේශය ශෛලිගතව ඉදිරිපත් කිරීමකි. (.....2.....)

● ප්‍රශ්න අංක 16 සිට 20 තෙක් එක් එක් ප්‍රශ්නයට වඩාත් ගැලපෙන වරණය පහත සඳහන් F, G, H, I, J ලෙස නම් කර ඇති කැටයම් ඡායාරූප ඇසුරෙන් තෝරන්න.



F



G



H



I



J

16. F අක්ෂරයෙන් දැක්වෙන ඇම්බැක්කේ දේවාලයේ කැටයම
- (1) මානව රූප කිහිපයක් දේශීය ලක්ෂණ සහිතව කළ නිර්මාණයකි.
  - (2) දැව කැටයම් ශිල්පියාගේ විශිෂ්ටත්වය දැක්වෙන නිර්මාණයකි.
  - (3) දැව මාධ්‍යයේ ස්වභාවය ඉස්මතු වන ආකාරයට කරන ලද්දකි.
  - (4) පනේලය තුළ කළ විරල තේමා සංරචනයකි.
  - (5) සමකාලීන සමාජයීය තේමාවක් අල්ප උන්නතව දැක්වීමකි.
- (5)

17. G අක්ෂරයෙන් දැක්වෙන්නේ
- (1) නාවිකාංගනාවන් නිරූපිත පනේල කැටයමකි.
  - (2) ආගමික පෙරහැරක් දැක්වෙන පනේල කැටයමකි.
  - (3) ගඩලාදෙණිය ද්වාර මණ්ඩපයේ දක්නට ඇති අල්ප උන්නත කැටයමකි.
  - (4) යාපහුව රාජමන්දිරයේ පෘථිවි දක්නට ඇති පනේල කැටයමකි.
  - (5) නවත වයන කාන්තා රූ ඇතුළත් පනේල කැටයමකි.
- (4)

18. H අක්ෂරයෙන් දැක්වෙන සාංචි තොරණේ
- (1) බෞද්ධාගමික පුවත් කැටයමට නගා ඇත.
  - (2) බුද්ධ චරිතයේ සිද්ධි ඇසුරෙන් පමණක් උඩලිපත් කැටයම් කර ඇත.
  - (3) සිරස් කුලුණු කැටයම් කර ඇත්තේ ඓතිහාසික පුවත් ඇසුරෙනි.
  - (4) සංකේත භාවිත කොට බුදුසිරිතේ සිද්ධි නිරූපණය කර ඇත.
  - (5) උඩලිපත් කැටයම් අඛණ්ඩ කරන ක්‍රමයෙන් කර ඇත.
- (4)


19. I අක්ෂරයෙන් දැක්වෙන අමරාවතියේ නාලාගිරි දමනය කැටයම
- (1) ශිල්පියාගේ භාව ප්‍රකාශන හැකියාව මනාව ඉස්මතු කළ විශිෂ්ට පනේල නිර්මාණයකි.
  - (2) තලය පුරා මානව හා සත්ව රූප විසිරී යන පරිදි කළ කැටයමකි.
  - (3) ඇත් රුව දෙවතාවක් යෙදීම මගින් ඒකකාරී සම්පිණ්ඩනයක් පෙන්නුම් කරන්නකි.
  - (4) ජීවය හා ක්‍රියාකාරීත්වය අවම මට්ටමක නිරූපිත වෘත්තාකාර පුවරුවකි.
  - (5) ශිල්පියාගේ සංකේත භාවිතය ඉතා ඉහළ මට්ටමින් පෙන්වන නිර්මාණයකි.
- (1)

20. J අක්ෂරයෙන් දැක්වෙන්නේ,
- (1) රෝමවරු නම යුධ ජයග්‍රහණ පුවත් යොදා කළ ආරුක්කු කැටයමකි.
  - (2) ජෙරුසලම වටලීම දැක්වෙන රෝම ආරුක්කු කැටයමකි.
  - (3) රෝම වාස්තුවිද්‍යා නිර්මාණයක් අලංකාර කළ කැටයමකි.
  - (4) ඩේසියානු හමුදාවේ පරාජය දැක්වෙන ආරුක්කු කැටයමකි.
  - (5) කොන්ස්ටන්ටයින් අධිරාජ්‍යයාගේ යුධ ජයග්‍රහණ දැක්වෙන ආරුක්කු කැටයමකි.
- (5)

● ප්‍රශ්න අංක 21 සිට 25 තෙක් ඇති එක් එක් ප්‍රකාශයට වඩාත් ගැළපෙන වර්ණය පහත සඳහන් K, L, M, N, O යනුවෙන් නම් කර ඇති කලා කෘති ඇසුරෙන් තෝරන්න.



K



L



M



N



O

21. **K** අක්ෂරයෙන් දැක්වෙන මූර්තිය,  
 (1) මහාරාජ ලීලාවතී වැඩ තිඳින බෝසත් රුවකි.  
 (2) පොළොන්නරුවෙන් හමුවූ පද්මපානී බෝසත් රුවයි.  
 (3) අනුරාධපුර අවසාන භාගයේ දී හමුවූ අවලෝකිතේෂ්වර බෝසත් රුවයි.  
 (4) හින්දු ආගමික බලපෑම් මත, වාක්තු ශිල්ප ක්‍රමය අනුව කළ ලෝකඩ පිළිමයකි.  
 (5) කුහර වාක්තු ක්‍රමයෙන් නිමකර රන් ආලේපිත පිළිමයකි. (3)
22. **L** අක්ෂරයෙන් දැක්වෙන හෙන්රි මුවර්ගේ මූර්තිය,  
 (1) ශාස්ත්‍රාලයීය යථාරූපීකරණය විකෘති කිරීමකි.  
 (2) උද්‍යාන මූර්තියක් සඳහා ලෝකඩ මාධ්‍යයෙන් කළ නිර්මාණයකි.  
 (3) වැනීරි සිටින කාන්තාවකගේ ස්වරූපය අනුව කළ ප්‍රකාශනයකි.  
 (4) කාන්තාවට නිරූපණය කෙරෙන හැඩතල සංරචනයකි.  
 (5) කුහරමය අවකාශය තුළින් පරිසරය හා බැඳී දෘශ්‍යමය වූ ප්‍රකාශනයකි. (5)
23. **M** අක්ෂරයෙන් දැක්වෙන ඩේවිඩ් ප්‍රතිමාව නිර්මාණයේ දී ශිල්පියා වඩාත් අවධානය යොමුකළේ,  
 (1) මානව කාය ව්‍යුහ ලක්ෂණ පිළිබඳ ඔහු සතු විශාරදබව පෙන්නුම් කිරීමට ය.  
 (2) සැහැල්ලු, නිදහස් හා රිද්මයානුකූල හැඩ ගොනු කිරීමට ය.  
 (3) කිරිගරුඬින් අනාබද්ධව හෙලනිස්ටික් යුගයේ පරමාදර්ශී ලක්ෂණ එක්කිරීමට ය.  
 (4) විරසකු සතු පෞරුෂ ලක්ෂණ සහිත බලයේ සංකේතයක් නිර්මාණයට ය.  
 (5) තීක්ෂණ හා කල්පනාකාරී බැල්ම සහිත මානවවාදියෙකු නිර්මාණයට ය. (4)
24. **N** අක්ෂරයෙන් නිරූපිත මයිකල් ආන්ජ්ලෝගේ මෝසස් පිළිරුව නිර්මාණයේ අරමුණ වන්නේ,  
 (1) ගල් පුවරුවක් සහිත නිර්මාණයක් තුළින් දසපනත සංකේතවත් කිරීමයි.  
 (2) II වන ජුලියස් පාප්වහන්සේගේ සොහොන් කොත සංකේතවත් කිරීමයි.  
 (3) සිස්ටයින් දෙව්මැදුර තුළ ශ්‍රීක සම්භාව්‍ය කලාවේ මූර්තිමය ලක්ෂණ දෘශ්‍යමාන කිරීමයි.  
 (4) භාව ප්‍රකාශනය මගින් ප්‍රඥාවේ මහිමය පෙන්නීමයි.  
 (5) දුරදර්ශී, දේහධාරී පඬිවරයෙකු නිරූපණය කිරීමයි. (1)
25. **O** අක්ෂරයෙන් නිරූපිත ඊජිප්තු පිළිරුව,  
 (1) මිසර පැරණි රාජධානි යුගයට අයත් හුනු ගලින් නිර්මිත මූර්තියකි.  
 (2) සාම්ප්‍රදායික ලක්ෂණයන්ගෙන් මිදුණු නව රාජධානි යුගයේ මූර්තියකි.  
 (3) රාජකීයයකුගේ සේවකයකු නිරූපණය කරන්නකි.  
 (4) ලිවීමේ උපකරණ රැගත් ලියන්නකු නිරූපිත කැටයමකි.  
 (5) මධ්‍ය රාජධානි යුගයේ ක්‍රියාකාරීත්වය නිරූපිත මූර්තියකි. (1)

● ප්‍රශ්න අංක 26 සිට 30 තෙක් ඇති එක් එක් ප්‍රශ්නයට වඩාත් ගැලපෙන වරණය තෝරන්න.

26. පහත දැක්වෙන සිත්තරුන් හා බැඳී කලා ව්‍යාපාර නිවැරදි අනුපිළිවෙළින් දක්වන්න.

සෝපන් මාක්, එඩ්ග්‍රා බෙග්, සැල්වදෝර් ඩාලි, චයිලි කැන්දිනෙස්කි හා විත්සන්ට් වැංගෝ

- (1) විසුක්තිවාදී, පශ්චාත් උපස්ථිතිවාදී, සණිකවාදී, උපස්ථිතිවාදී, අධියථාර්ථවාදී
- (2) උපස්ථිතිවාදී, අධියථාර්ථවාදී, පශ්චාත් උපස්ථිතිවාදී, විසුක්තිවාදී, සණිකවාදී
- (3) පශ්චාත් උපස්ථිතිවාදී, අධියථාර්ථවාදී, සණිකවාදී, විසුක්තිවාදී, උපස්ථිතිවාදී
- (4) සණිකවාදී, උපස්ථිතිවාදී, අධියථාර්ථවාදී, විසුක්තිවාදී, පශ්චාත් උපස්ථිතිවාදී
- (5) අධියථාර්ථවාදී, සණිකවාදී, පශ්චාත් උපස්ථිතිවාදී, විසුක්තිවාදී, උපස්ථිතිවාදී

(.....4.....)

27. පෝස්ටරයක් යනු,

- (1) කිසියම් තේමාවක් සංකේතවත්ව ප්‍රකාශ කෙරෙන මාධ්‍යයකි.
- (2) කිසියම් පණිවුඩයක් සරලව, නිරවුල්ව, වේගවත්ව කෙරෙන ප්‍රචාරණ මාධ්‍යයකි.
- (3) කාලීන තේමාවක් සිත්ගන්නා අයුරින් සමාජගත කෙරෙන ප්‍රබල දෘශ්‍ය මාධ්‍යයකි.
- (4) සන්නිවේදන ක්‍රියාවලියේ වේගවත් ම ප්‍රචාරණ මාධ්‍යයයි.
- (5) සංකීර්ණ තේමාවක් මූලික මාධ්‍යයෙන් ප්‍රකාශ කෙරෙන සන්නිවේදනයකි.

(.....2.....)

28. යථාර්ථවාදය යනු,

- (1) පර්යාලෝකය සහ ක්‍රියාණ ලක්ෂණ යනාදී දෘශ්‍ය කලා මූලධර්ම නිවැරදිව ප්‍රකාශ කිරීමයි.
- (2) ප්‍රකෘති ලෝකයේ ස්වභාවික හා නිර්මිත වස්තූන් ඇති සැටියෙන් වික්‍රණය කිරීමයි.
- (3) බටහිර ලෝකය හඳුන්වාදෙන ශාස්ත්‍රාලයීය මූලධර්ම සුරැකීමයි.
- (4) යථා ලෝකයේ පවත්නා වස්තූන් විසුක්තරූපීව ප්‍රකාශ කිරීමයි.
- (5) වස්තූන්ගේ සැබෑ ස්වරූපය බහු විධිමානයෙන් නිරීක්ෂණය කොට ප්‍රකාශ කිරීමයි.

(.....2.....)

29. පශ්චාත් උපස්ථිතිවාදී නිර්මාණකරණයේ දී ශිල්පීන් වඩාත් අවධානය යොමු කරන ලද්දේ,

- (1) උපස්ථිතිවාදී ශිල්පක්‍රම නවතාවයකින් යුතුව ඉදිරියට පවත්වාගෙන යාමටයි.
- (2) ඒකාකාරීව පවත්නා උපස්ථිතිවාදී ශිල්පක්‍රම අහිමුණය කිරීමටයි.
- (3) නව අත්හදා බැලීම් හා ගැඹුරු හාව ප්‍රකාශන සහිත වස්තු විෂය ගවේෂණය කිරීමටයි.
- (4) උපස්ථිතිවාදීන් භාවිත කළ ශිල්පක්‍රම වෙනුවට නව ශිල්ප ක්‍රම ගවේෂණය කිරීමටයි.
- (5) වස්තූන් කෙරෙහි, ආලෝකය දක්වන ප්‍රතික්‍රියාව ගවේෂණය කිරීමටයි.

(.....3.....)

30. විසුක්තිවාදය සඳහා පදනම වී ඇත්තේ,


- (1) හඳුනාගත හැකි රූපයකින් තොරව කෙරෙන දෘශ්‍ය ප්‍රකාශනයන් ය.
- (2) පරිකල්පනීය අරමුණු සහ ගොඩනගාගත් විසුක්ති හැඩ ප්‍රකාශනයන් ය.
- (3) ස්වභාවධර්මයේ දෘශ්‍ය රූප ප්‍රතිනිර්මාණය හා සරලීකරණය කිරීම ය.
- (4) ස්වභාවධර්මය හෝ එහි වස්තූන් ඒ ආකාරයෙන් ම අනුකරණය හෝ ප්‍රතිනිර්මාණය හෝ අත්හැර දැමීම ය.
- (5) ජේබා මහින් ගොඩනගන ලද චලනමය, නම්‍යශීලී හැඩ හා වර්ණ හැසිරවීම ය.

(.....4.....)

● ප්‍රශ්න අංක 31 සිට 35 තෙක් ඇති එක් එක් ප්‍රශ්නයට වඩාත් ගැලපෙන වරණය ඊට ඉදිරියෙන් දී ඇති වාස්තු විද්‍යා නිර්මාණ ඇසුරෙන් තෝරන්න.

31. ඇම්බැක්කේ දේවාලය වාස්තු විද්‍යාත්මකව වැදගත් වනුයේ,


- (1) කතරගම දෙවියන් උදෙසා ඉදිකරන ලද නිසා ය.
- (2) දෙල්මඩ මූලාධාරීන්ගේ විශිෂ්ට නිර්මාණයක් වීම නිසා ය.
- (3) එහි පියස්ස නිර්මාණයේ දී යොදාගෙන ඇති නව නිර්මාණාත්මක අංග නිසා ය.
- (4) දැව මාධ්‍යය කලාත්මක මුහුණුවරකින් භාවිතයට ගෙන ඇති ආකාරය නිසා ය.
- (5) විවෘත මණ්ඩපයක් ලෙස ඉදිකර ඇති වාස්තු විද්‍යාත්මක සැලැස්ම නිසා ය.



(...3...)

32. මෙහි දැක්වෙන්නේ,

- (1) අනුරාධපුර යුගයේ හත්විකුච්ඡී විහාර වටදාගෙයයි.
- (2) මණ්ඩප දෙකකින් යුතු තිරියාය වටදාගෙයයි.
- (3) පොළොන්නරුවේ දළදා මළුවේ දක්නට ඇති වටදාගෙයයි.
- (4) ගල්කණු පේළි දෙකක් මත පියස්ස රඳවන ලද මැදිරිගිරිය වටදාගෙයයි.
- (5) අනුරාධපුර යුගයේ අම්බස්තල වටදාගෙයයි.




(...4...)

ආර්ථික විද්‍යා බැංකු

33. මෙහි දැක්වෙන රාජ රාජේශ්වර දේවාලය,


- (1) වෙරළ ගෘහ නිර්මාණ ලක්ෂණ අනුව තන්පෝරයේ ඉදිවූ දෙවොලයි.
- (2) කළුගල් භාවිතයෙන් ඉදිකර ඇති ව්‍යුහාත්මක දෙවොලයි.
- (3) 1 වන රාජ රාජ රජු විසින් ඉදිකරන ලද විශාලතම දෙවොලයි.
- (4) හෝපුරය සහිත විමාන හා ශිඛරයකින් යුතු හින්දු දෙවොලකි.
- (5) දකුණු ඉන්දීය කලා සම්ප්‍රදායයන් අනුව ගලින් ඉදිකළ දෙවොලකි.



(...1...)

34. මෙහි දැක්වෙන්නේ,

- (1) ක්‍රි.පූ. 2570 දී ඉදිකරන ලද විශාලතම පිරමීඩයයි.
- (2) කාෆරේ රජු විසින් ඉදිකරන ලද දෙවන විශාලතම පිරමීඩයයි.
- (3) මිසරයේ විශාලතම පිරමීඩ ක්‍රිත්වය අතුරෙන් එකක් වන කුගු පිරමීඩයයි.
- (4) ඊජිප්තුවේ මධ්‍ය රාජධානි යුගයේ ඉදි වූ දෙවන විශාලතම පිරමීඩයයි.
- (5) කාෆරේ පාරාවරුන්ගේ සොහොන් ගැබ ලෙස ඉදිකළ පිරමීඩයයි.



(...5...)

35. මෙහි දැක්වෙන්නේ,

- (1) සමෝරා භේරා දෙවියන් වෙනුවෙන් කළ ඉරෙක්තියන් ගොඩනැගිල්ලේ අයෝනික් කුලුණු ය.
- (2) ඇතන්ස්හි සියුස් දෙවියන් වෙනුවෙන් කළ දෙවොලේ කොරින්තියන් කුලුණු ය.
- (3) ඇතීනා දෙවඟන වෙනුවෙන් කළ පාතියොන් දෙවොලේ ඩොරික් කුලුණු ය.
- (4) ඇතන්ස්හි සියුස් දෙවියන් වෙනුවෙන් කළ දෙවොලේ අයෝනික් කුලුණු ය.
- (5) ඇතීනා දෙවඟන වෙනුවෙන් කළ පාතියොන් දෙවොලෙහි කොරින්තියන් කුලුණු ය.



(...2...)

● ප්‍රශ්න අංක 36 සිට 40 තෙක් ඇති එක් එක් ප්‍රශ්නයට වඩාත් ගැලපෙන වරණය පහත සඳහන් විනය ඇසුරෙන් තෝරන්න.



36. ලංකා කලා සංගමයේ, ඒ. සී. ජී. එස්. අමරසේකර ශිල්පියා,

- (1) පෙරදිග චිත්‍ර ශෛලීන් ගුරුකොට ගත් අයෙකි.
- (2) ශාස්ත්‍රාලයීය යථාර්ථවාදී රීතීන් අනුගමනය කළ අයෙකි.
- (3) වෘත්තාන්ත චිත්‍රකරණයට ඇල්මක් දැක්වුවෙකි.
- (4) සාම්ප්‍රදායික චිත්‍රවල ක්‍රමවේද අනුකරණය කළ අයෙකි.
- (5) තමාට ම ආවේණික සම්ප්‍රදායයක් අනුගමනය කළ අයෙකි.

(...2...)

37. මෙහි තේමාව තුළින් නිරූපණය කර ඇත්තේ,
- (1) යථාර්ථවාදීව මානව රූ වික්‍රණය කිරීමට ගත් උත්සාහයකි.
  - (2) මධ්‍යම පන්තියේ පවුල් ජීවිතය පිළිබඳ කළ විග්‍රහයකි.
  - (3) පීඩිත පන්තියේ දරිද්‍රතාව පිළිබඳ ප්‍රකාශ කිරීමකි.
  - (4) ශ්‍රාමීය ජීවිතය පිළිබඳ සංකේතවත්ව කළ විග්‍රහයකි.
  - (5) ගැමි දිවියේ දුක්ඛිත අවස්ථාවක් ප්‍රතිනිර්මාණය කිරීමකි.
- (.....) **3**

38. සංරචනයේ මූලික අරමුණ වූයේ,
- (1) මානව ඉරියව් සිද්ධියට අනුරූපව තත්ත්වාකාරයෙන් ගොනු කිරීමයි.
  - (2) මානව රූ මෙන් ම විවිධ වස්තූන් එකිනෙකට ගැළපෙන අයුරින් ඉදිරිපත් කිරීමයි.
  - (3) මානව රූපවලට වඩා ප්‍රකාශිත වස්තූන්ට ප්‍රමුඛතාවක් ලබාදීමයි.
  - (4) තේමාව විග්‍රහ කිරීමට අදාළව රූප ගණනාවක් සංකේතවත්ව භාවිත කිරීමයි.
  - (5) වර්ණ සංකලනය කිරීම තුළින් හැඟීම් ප්‍රකාශනයට මුල්තැනක් දීමයි.
- (.....) **4**

39. 'වඩුවාගේ ගෙදර' සිතුවමේ
- (1) සම්භාව්‍ය වර්ණමාලාවක් ප්‍රශස්ත ලෙස තෙල් සායම් මාධ්‍යයෙන් නිම කර ඇත.
  - (2) ස්වාභාවිකත්වය අනුකරණය කිරීම සඳහා උචිත වර්ණ යොදා ඇත.
  - (3) ආලෝකය හා අඳුර අතර ප්‍රබල ප්‍රතිවිරෝධතා මතුවන ලෙස වර්ණ භාවිත කර ඇත.
  - (4) බහුවාර්ණික ලක්ෂණ ඇති සම්භාව්‍ය වර්ණ මාලාවක් භාවිත කර ඇත.
  - (5) වර්ණ භාවිතයේ දී පැහැයෙහි වෙනස්වීම පියවි පෙනුමෙන් මතු කර ඇත.
- (.....) **3**

40. හැඟීම් ප්‍රකාශනය පිළිබඳ වඩාත් උචිත ප්‍රකාශය තෝරන්න.
- (1) මධ්‍යම පාන්තික සමාජයේ දරිද්‍රතාව මානව රූවලින් ප්‍රකාශ කර ඇති අයුරු අගනේ ය.
  - (2) මානව රූව හැඟීම් ප්‍රකාශවන අයුරින් යොදා ගෙන ඇති අයුරු ප්‍රශස්ත ය.
  - (3) සංකේත භාවිත කරමින් ප්‍රකාශනය ඉස්මතු කිරීමට ගත් උත්සාහය අගනේ ය.
  - (4) යථාර්ථවාදීව, හැඟීම් දැනවන අයුරින් මානව රූ ඇතුළු සමස්තය වික්‍රණය කර ඇති අයුරු අගය කළ හැකි ය.
  - (5) මානව රූපවල බාහිර සුන්දරත්වය මෙන් ම අභ්‍යන්තර හැඟීම් ප්‍රකාශනයට ගත් උත්සාහය විශිෂ්ට ය. (.....) **4**

\* \*

ශ්‍රී ලංකා විභාග දෙපාර්තමේන්තුව ශ්‍රී ලංකා විභාග දෙපාර්තමේන්තුව ශ්‍රී ලංකා විභාග දෙපාර්තමේන්තුව ශ්‍රී ලංකා විභාග දෙපාර්තමේන්තුව ශ්‍රී ලංකා විභාග දෙපාර්තමේන්තුව  
 Department of Examinations, Sri Lanka Department of Examinations, Sri Lanka Department of Examinations, Sri Lanka Department of Examinations, Sri Lanka Department of Examinations, Sri Lanka  
 ශ්‍රී ලංකා විභාග දෙපාර්තමේන්තුව ශ්‍රී ලංකා විභාග දෙපාර්තමේන්තුව ශ්‍රී ලංකා විභාග දෙපාර්තමේන්තුව ශ්‍රී ලංකා විභාග දෙපාර්තමේන්තුව ශ්‍රී ලංකා විභාග දෙපාර්තමේන්තුව  
 Department of Examinations, Sri Lanka Department of Examinations, Sri Lanka Department of Examinations, Sri Lanka Department of Examinations, Sri Lanka Department of Examinations, Sri Lanka

අධ්‍යයන පොදු සහතික පත්‍ර (උසස් පෙළ) විභාගය, 2025  
 கல்விப் பொதுத் தராதரப் பத்திர (உயர் தர)ப் பரீட்சை, 2025  
 General Certificate of Education (Adv. Level) Examination, 2025

විභූ කලාව I  
 சித்திரக்கலை I  
 Art I

51 S I

- \* මෙම කොටස අනුකොටස් තුනකින් සමන්විත ය.
  - \* 'අ' කොටසින් ප්‍රශ්න දෙකක් හා 'ආ' සහ 'ඉ' යන කොටස් දෙකෙන් එක් ප්‍රශ්නය බැගින් තෝරාගෙන, ප්‍රශ්න හතරකට පිළිතුරු සපයන්න.
- (අවශ්‍ය තැනහි පිළිතුරු සවිත්‍ර කිරීම ඔබට වාසිදායක වේ.)

'අ' කොටස  
 (විභූ කලාව ඇගයීම භාර සාක්ෂිවාදය - ශ්‍රී ලංකාව)

1. අනුරාධපුර යුගයේ ඇරඹී නව වාස්තු විද්‍යා ප්‍රබන්ධය බෞද්ධාගමික වාස්තු විද්‍යා නිර්මාණ රැසක් බිහිවීමට හේතු විය.
  - (i) හික්ෂුන් වහන්සේලා සඳහා නිර්මාණය කරන ලද සර වර්ග දෙකක් නම් කරන්න. (ලකුණු 02 යි)
  - (ii) නිල්ලක්ගම බෝධිඝරය ගැන කෙටි විස්තරයක් ලියන්න. (ලකුණු 05 යි)
  - (iii) අනුරාධපුර ඉදිවූ කුට්ටම් පොකුණ සහ පොළොන්නරුවේ ඉදිවූ නෙළුම් පොකුණ අගනා ශෛලමය නිර්මාණයන් ය. ආකෘතිය හා ශිල්පීය කුසලතාව පිළිබඳ සංසන්දනාත්මක විග්‍රහයක් කරන්න. (ලකුණු 08 යි)
2. ශ්‍රී ලංකාවේ ආගමික සිතුවම් නිර්මාණකරණයේ නියැලුණු විභූ ශිල්පීහු විවිධ තේමා යටතේ විශිෂ්ට නිර්මාණ බිහි කළේ ය.
  - (i) නාරායන ස්වාමි ශිල්පියා විසින් වැල්වැටිතුරෙයි මුත්තු අම්මාන් කෝවිලෙහි ඇඳ ඇති සිතුවම් දෙකක් නම් කරන්න. (ලකුණු 02 යි)
  - (ii) ඩෙව්ඩි ජේන්ටර් ශිල්පියා විසින් සිතුවම් කරන ලද මහනුවර ත්‍රිත්ව දෙව් මැදුරේ දක්නට ලැබෙන 'යහපත් සමරිතානුවා' සිතුවම් පිළිබඳ කෙටි ඇගයීමක් කරන්න. (ලකුණු 05 යි)
  - (iii) 'මාර පරාජය' බෞද්ධාගමික විභූ ශිල්පීන් විසින් විවිධාකාරයෙන් සිතුවමට නගා ඇත. බොරැල්ලේ ගෝතමී විහාරයේ සිතුවම් ඇඳී ජෝර්ජ් කීට් ශිල්පියා හා බෙල්ලන්විල රජමහා විහාරයේ සිතුවම් ඇඳී සෝමබන්දු විද්‍යාපති ශිල්පියා 'මාර පරාජය' සිතුවම් කළ ආකාරය පිළිබඳ සංසන්දනාත්මක විග්‍රහයක් කරන්න. (ලකුණු 08 යි)
3. පොළොන්නරු යුගයේ දී හින්දු ආගමික සංකල්ප මත පදනම්ව ආගමික මූර්ති ගණනාවක් දේවාල ආශ්‍රිතව නිර්මාණය කර ඇත.
  - (i) හින්දු ආගමික මූර්ති නිර්මාණයේ දී භාවිත කළ ශිල්ප ක්‍රම දෙකක් නම් කරන්න. (ලකුණු 02 යි)
  - (ii) ශිව සෝමස්කන්ධ මූර්තිය පිළිබඳ කෙටි හැඳින්වීමක් කරන්න. (ලකුණු 05 යි)
  - (iii) හින්දු ආගමික මූර්ති අතර නටරාජා මූර්තිය සුවිශේෂී වේ. එහි සංකේත භාවිතය හා කලා ලක්ෂණ පිළිබඳ ඇගයීමක් කරන්න. (ලකුණු 08 යි)

'ආ' කොටස

(චිත්‍ර කලාව ඇගයීම හා රසාස්වාදය - ඉන්ද්‍රියාව)

- 4. ගන්ධාර හා මුජුරා ගුරුකුල බෞද්ධාගමික මූර්ති රැසක් ලොවට බිහි කළ කලා මධ්‍යස්ථානයන් ය.
  - (i) ගන්ධාර කලා සම්ප්‍රදායේ නිර්මාණය වූ ප්‍රතිමා දෙකක් නම් කරන්න. (ලකුණු 02 යි)
  - (ii) බුද්ධ ප්‍රතිමාවේ ආරම්භය සඳහා ගන්ධාර කලා සම්ප්‍රදාය ඉවහල් වී ඇති ආකාරය කෙටියෙන් පහදන්න. (ලකුණු 05 යි)
  - (iii) මුජුරා හා සාරානාත් ගුරුකුලයන්හි නිර්මාණ ගුප්ත යුගයේ දී ඉතා උසස් තත්ත්වයට පත් විය. ඉහත කියමන සනාථ කිරීම සඳහා මුජුරා හා සාරානාත් බුදු පිළිමවල ප්‍රශස්ත මූර්තිමය ලක්ෂණ හා භාව ප්‍රකාශන ඇසුරෙන් පහදන්න. (ලකුණු 08 යි)
- 5. ඉන්දු නිම්න ශිෂ්ටාචාරය ඉතා දියුණු ජන කොට්ඨාසයක් විසූ පෞරාණික ජනාවාසයකි.
  - (i) ඉන්දු නිම්න වැසියෝ කලා කෘති නිර්මාණයේ දී භාවිත කළ ශිල්ප ක්‍රම දෙකක් නම් කරන්න. (ලකුණු 02 යි)
  - (ii) ඉන්දු නිම්න වැසියෝ මානව රුව සියුම්ව අධ්‍යයනය කොට නිර්මාණය කිරීමට දක්ෂතා ඇත්තෝ වූහ. එක් උදාහරණයක් ගෙන කෙටි හැඳින්වීමක් කරන්න. (ලකුණු 05 යි)
  - (iii) ඉන්දු නිම්න ශිෂ්ටාචාරයේ ඉතා දියුණු ගෘහ නිර්මාණ තාක්ෂණයක් පැවති බවට සාක්ෂි හමුවී ඇත. ඉහත කියමන ඔවුන්ගේ වාස්තු විද්‍යා නිර්මාණ ඇසුරෙන් උදාහරණ සහිතව පහදන්න. (ලකුණු 08 යි)

'ඉ' කොටස

(චිත්‍ර කලාව ඇගයීම හා රසාස්වාදය - යුරෝපය)

- 6. යුරෝපයේ තදාසන්න රාජ්‍යයන් දෙකක් වන ග්‍රීසිය හා රෝමය කලා නිර්මාණ රැසක් ලොවට දායාද කළ දේශයන් විය.
  - (i) ග්‍රීක සම්භාව්‍ය යුගයේ මූර්ති දෙකක් නම් කරන්න. (ලකුණු 02 යි)
  - (ii) රෝම වාස්තු විද්‍යාවේ පුවිසේෂි නිර්මාණයක් වූ ප්‍රාචීන කුලුණ (The Trajan Column) ගැන කෙටි කලාත්මක ඇගයීමක් කරන්න. (ලකුණු 05 යි)
  - (iii) ග්‍රීක හා රෝම ශිල්පීන් මානව රූපය, සිතුවම් සඳහා යොදා ගත් ආකාරය හා අවස්ථාවන් ඇසුරෙන් සංසන්දනාත්මක ඇගයීමක් කරන්න. (ලකුණු 08 යි)
- 7. ඉතාලියේ බිහි වූ පුනරුද සමය, අග්‍රගණ්‍ය කලා කෘති රැසක් ලොවට බිහිකළ අවධියකි.
  - (i) මයිකල් ඇන්ජලෝ විසින් නිර්මාණය කරන ලද සිතුවම් දෙකක් නම් කරන්න. (ලකුණු 02 යි)
  - (ii) පුනරුද කලාවේ පොදු ලක්ෂණ පිළිබඳ කෙටියෙන් හඳුන්වන්න. (ලකුණු 05 යි)
  - (iii) ලියනාඩෝ ඩාවින්ච්ච්ගේ 'පර්වත මස්තකයේ දේවමූර්තියෝ' සහ රොයෙල් සන්සියෝගේ 'ඇල්බා මැඩෝනා' යන සිතුවම් පිළිබඳ ආකෘතිය හා කලා ලක්ෂණ ඇතුළත් සංසන්දනාත්මක කලාත්මක ඇගයීමක් කරන්න. (ලකුණු 08 යි)

\* \* \*

අ කොටස  
(එක කලාව ඇගයීම හා රසාස්වාදය - ශ්‍රී ලංකාව)

1. අනුරාධපුර යුගයේ ඇරඹී නව වාස්තු විද්‍යා ප්‍රබෝධය බෞද්ධාගමික වාස්තු විද්‍යා නිර්මාණ රැසක් බිහිවීමට හේතු විය.

(i) හික්ෂුන් වහන්සේලා සඳහා නිර්මාණය කරන ලද හර වර්ග දෙකක් නම් කරන්න. (ලකුණු 02 යි)

- උපෝසථසර
- පධානසර
- ජන්තාසර

උද්‍යාන මාලා මණ්ඩපය බුද්ධාගම.

(ii) නිල්ලක්ගම බෝධිසරය ගැන කෙටි විස්තරයක් ලියන්න. (ලකුණු 05 යි)

නිල්ලක්ගම බෝධිසරය

- අනුරාධපුර යුගයේ ගෘහ නිර්මාණ ශිල්පයේ විශිෂ්ටත්වය ගෙන හැර දක්වන මෙම බෝධිසරය ක්‍රි.ව 08, 09 සියවස් වලට අයත් යැයි සැලකේ.
- ශ්‍රී ලංකාවේ මේ වන විට මනා සංරක්ෂණයකින් සමන්විත මෙම බෝධිසරය කුරුණෑගල දිස්ත්‍රික්කයේ ගල්ගමුව ප්‍රදේශයේ දළදාගමට ආසන්නව පිහිටා ඇත.
- මෙම බෝධිසරය වතුරසාකාර වූ මාලක දෙකකින් සමන්විත වන අතර, එය පහල මාලකය හා උඩු මාලකය යනුවෙනි.
- සම්පූර්ණයෙන්ම කළුගල් මාධ්‍යයෙන්ම ගොඩ නගා ඇති ව්‍යුහාත්මක ගොඩනැගිල්ලක අවශේෂ දක්නට ලැබේ. මෙමගින් එකල සිටි ගල්වඩුවාගේ ප්‍රතිභාව මැනවින් කියාපායි.
- පහල මාලකය පැත්තක් අඩි 34 ක් පමණ වන අයුරින් සමවතුරසාකාර හැඩයක් ගනු ලබන අතර ඒ වටා ගල් පුවරු අලවා ඇත්තේ බැතිමතුන් සඳහා ප්‍රදක්ෂිණාපනයක් ලෙසින් භාවිතයට ගැනීම සඳහාය.
- මෙයට පිවිසීම සඳහා නැගෙනහිර හා බටහිර දිශාගතව දොරටු දෙකක් යොදා ඇත.
- උඩුමාලකය, පහල මාලකය මධ්‍යයේ නිර්මාණය කර ඇති අතර එහි පැත්තක දිග අඩි 13 ක් පමණ වේ. මෙයද සමවතුරසාකාර වේදිකාවක් වේ. බෝධිවාක්ෂය මෙහි රෝපණය කර තිබෙන්නට ඇත.
- උඩුමාලකයේ බිත්ති සතර දිශාවට දිස්වන අයුරින් කළුගලින් නිර්මාණය වූ පූජාසන හෙවත් මල් ආසන හතරක අවශේෂ දැක ගත හැකිය.
- දෙවන මළුව නොහොත් උඩු මාලකය ගල් බිත්ති මත සිංහ රූප කැටයමෙන් යුත් ගල්පුවරු ඉතා කලාත්මකය.
- මෙම බෝධිසරයේ ඇති කැටයම් අනුරාධපුර යුගයේ අග භාගයේ දැකිය හැකි කලා ලක්ෂණවලින් සමන්විතය.
- පහල මාලකයේ ගල් බැම්ම කුළු පාදම වටා ඉදිරි පෙනුම පමණක් දැක ගත හැකි කැටයම් කරන ලද ඇත් රූප 105 කින් සමන්විත පීඨිකාවකි. මෙකී ලක්ෂණය පැරණි අනුරාධපුර වාස්තු විද්‍යාත්මක ලක්ෂණ කියාපායි.

- නැගෙනහිර දොරටුවේ ඇති ප්‍රධාන ගල් උලුවස්සෙහි ඉතා අලංකාර කැටයමෙන් යුත් නාග මානවකයෙකුගේ පිළිරුව, ලියවැල් වැනි ගිනිසිළු රටා, නළාවක් පිහින ගණ රූපය සහ අශ්වයෙකු පිට නැගී සිටින කුඩා වාමනයකුගේ රූ ඉතා සුවිශේෂී කැටයම් වේ.
- ගොඩනැගිල්ලට පිවිසෙන ස්ථානයෙහි කැටයමෙන් තොර සඳකඩ පහණක් වන අතර පියගැටපෙළ දෙපස ඇති කුඩා ප්‍රමාණයේ කොරවක්ගල්වල දොරටුපාල රූප මෙන්ම මකර රූප කැටයම් කර තිබීම සුවිශේෂී වේ.
- පහල මාලකයේ පාදමේ පිටපැත්තේ සහ ඉහල මාලකයේ පාද වටා ලියවැල් හා හංස රූප ජේලි සහිත කැටයම් වේ.
- අඩි 07 ක් පමණ උසැති ප්‍රකාර බැම්ම සහ සම්බන්ධ ගල් කණු 16 ක් පමණ වේ. එම ගල් කණු මත දැවමය පියස්සක් තිබෙන්නට ඇත. වහල ඉදිකරන්නට ඇත්තේ ප්‍රදක්ෂිණා පථය ආවරණය වන පරිද්දෙනි.

(iii) අනුරාධපුර ඉදිවූ කුට්ටම් පොකුණ සහ පොළොන්නරුවේ ඉදිවූ නෙළුම් පොකුණ අගනා ශෛලමය නිර්මාණයන් ය. ආකෘතිය හා ශිල්පීය කුසලතාව පිළිබඳ සංසන්දනාත්මක විග්‍රහයක් කරන්න. (ලකුණු 08)

අනුරාධපුරයේ අභයගිරි විහාර සංකීර්ණයට අයත් කුට්ටම් පොකුණ හා පොළොන්නරු යුගයේ ජේතවනාරාම (තිවංක පිළිමය) විහාර භූමියේ භූමි පරිශ්‍රයට අයත් නෙළුම් පොකුණ ශ්‍රීලාංකේය වාරි හා ගෘහ නිර්මාණ ශිල්පයේ විශිෂ්ටත්වය ගෙන හැර දක්වන මනස්කාන්ත පොකුණු දෙකකි.

- කුට්ටම් පොකුණ නිර්මාණය වූයේ අභයගිරි විහාරවාසී භික්ෂූන් වහන්සේලාගේ ප්‍රයෝජනය පිණිස වන අතර, <sup>ගෞරව ආකාර</sup> කුට්ටම් පොකුණ නිර්මාණය වී ඇත්තේ පොළොන්නරු යුගයේ රජවරුන්ගේ ඇති කලාත්මක චින්තනයන් මත ගොඩ නැගුණු සංකල්ප ලෝභී කියාපාන්නන් ලෙසිනි.
- භික්ෂූන් වහන්සේලාට ස්නානය පිණිස ඉදිවූ කුට්ටම් පොකුණ කුඩා සහ විශාල වශයෙන් පොකුණු ද්විත්වයක් වන අතර පොළොන්නරු නෙළුම් පොකුණ තනි නිර්මාණයකි.

**කුට්ටම් පොකුණෙහි ආකෘතිය**

- මෙය සෘජුකෝණාස්‍රාකාර දිගැටි හැඩැති පොකුණු දෙකකින් සමන්විත වන අතර ඉතා සරල වූවකි.
- කුඩා පොකුණ උතුරු දිශාගතවත්, විශාල පොකුණ දකුණු දිශාගතවත් පිහිටනේ නිර්මාණය කර ඇත.
- කුඩා පොකුණෙහි දිග අඩි 91 ක් හා පළල අඩි 51 ක් වන අතර ගැඹුර අඩි 14 කි.
- විශාල පොකුණේ දිග අඩි 132 ක් හා පළල අඩි 51 ක් වන අතර ගැඹුර අඩි 18 කි.
- පොකුණු දෙකම මනා අකෘතිමය සැලැස්මකට නිර්මාණය කර ඇත.
- පොකුණු දෙකම කළු ගල් භාවිතයෙන් නිර්මාණය කරන ලද ඉතා පටු ඇල මාර්ගයක් බඳු බැම්මකින් සම්බන්ධ වීම තුළින් පොකුණු යුගලක ආකෘතිමය නිර්මාණයක් ලෙස දැකිය හැකිය.

**නෙළුම් පොකුණෙහි ආකෘතිය**

- මෙය පිපුණු නෙළුමක හැඩය අනුව නිමවා ඇත.
- වෘත්තාකාර හැඩයක් කළ ගල් පුවරු භාවිතයෙන් නෙළුම් පෙති 07ක් වට්ට වැස්වන අයුරින් දැකිය හැකිය.
- ඉහල සිට පහල බැසීමේදී කුමාණුකුලව කුඩා වන ලෙසින් තට්ටු 05 ක් දැකිය හැකි ලෙස ආකෘතිය වටිනාකමක් දීමට එකල ශිල්පියා ගත් උත්සාහය අගයකොට සැලකිය යුතුය.
- මෙම හැඩය නිර්මාණය කර ඇත්තේ පොකුණෙහි විශ්කම්භය අඩි 24 ක් පමණ කුඩා බිම් ප්‍රමාණයකිනි. දළ වශයෙන් ගැඹුර අඩි 05 ක් පමණ වේ.
- සමස්ථයක් වශයෙන් මේ ආකෘතිය නිර්මාණය කර ඇත්තේ නෙළුම් මලක බාහිරින් ඇති විශාල පෙතිවල සිට මැද ඇති කුඩා පෙති දක්වා දැක ගත හැකි නෙළුම් පෙති 07 කට වෘත්තාකාර කොටස බෙදන ලෙසිනි.

**අනුරාධපුර කුවටම් පොකුණෙහි ශිල්පීය කුසලතා**

- මෙහි වඩාත් කැපිපෙනෙන ශිල්පීය කුසලතාවය වනුයේ එහි දක්නට ඇති ඉතා දියුණු ජල කළමනාකරණයයි.
- පොකුණට ජලය සපයාගෙන ඇත්තේ එයට නුදුරින් ඇති අහය වැවෙන් විය හැකිය. භූගත ජල මාර්ගයක් ඔස්සේ ජලය සම්පාදනය කර ගැනීමට එකල වාස්තූ වාග් ශිල්පියා සමත් වීම කැපි පෙනේ.
- පොකුණට ජලය ලැබීමට ප්‍රථම ගෛලමය වූ විශේෂ පෙරහන් කුටීරයටකට ජලය සැපයීමක් කර ඇති මෙහි ගල් කැට වැලි අතරින් ගොස් ජලය පිරිසිදු පෙරහන් කිරීමක් සිදුවන ලෙසින් ඉතා උසස් ජල පිරිපහදු තාක්ෂණයක් එකල ශිල්පියා තුළ තිබී ඇත.
- එසේ පිරිසිදු වූ ජලය කුඩා පොකුණකට ප්‍රවිශ්ඨ වන්නේ ඉතා කලාත්මක සිංහ රූපයක් කැටයම් කළ ගල් විවරයකිනි. මෙමගින් තාක්ෂණය මෙන්ම කලාත්මක ශිල්පීය කුසලතාවක් දැක්වීම අගයකොට සැලකිය හැකිය.
- කුඩා පොකුණ විශාල පොකුණට වඩා තරමක් උසින් නිර්මාණය කර තිබීමත් පිරිසිදු වූ ජලය මුලින්ම කුඩා පොකුණට වැටී ඉන් පසු විශාල පොකුණට ගලා යන ලෙසින් නිර්මාණය කර තිබීම ද තවත් ශිල්පීය කුසලතාවකි.
- එසේම භාවිතයෙන් පසු අපවිත්‍ර ජලය භූගත ජල මාර්ගයකින් නැවත පොකුණෙන් පිටතට යැවීමටත් පතුලේ ඇති ඉතිරි ජලය පිරිසිදු කිරීම සඳහා සුවිශේෂී තාක්ෂණිකමය වටිනාකමින් යුත් දොරටු අභ්‍යන්තරයේ නිර්මාණය කර තිබීමත් තවත් ශිල්පීය කුසලතාවයකි.

මක 6 ලකුණ

56  
13  
69

- එසේම පොකුණේ බිත්ති සහ පියගැට පෙළ නිර්මාණය ද කපා ඔප දැමූ ගල් පුවරු භාවිතය ද මෙකී ගල්පුවරු කිසිදු බදාමයකින් තොරව එකිනෙකට ගිලවනසේ නිවැරදිව කපා ඔප මට්ටම් කර තිබීම එකල ගල් වඩුවාගේ සුවිශේෂත්වය පිළිබිඹු කරයි. (මිසර පිරමීඩ නිර්මාණයේදී ද මෙම තාක්ෂණික ක්‍රමය භාවිත කර ඇත.)
- පොකුණට බැසීමේදී සතර පැත්තෙහිම පියගැටපෙල තුළ ගල් සම්බන්ධ කර ඇත්තේ ද නිවැරදි ජ්‍යාමිතික ශිල්ප ක්‍රමයටය.
- එසේම පිය ගැටපෙල දෙපස ඇති පුන්කලස් මෙන් ම කුඩා පොකුණෙහි දක්නට ඇති පෙණ 05 කින් සමන්විත නාග රූපය ද විශිෂ්ඨ ශිල්පීය කුසලතා දක්වන නිර්මාණයන් ය.

**පොළොන්නරු නෙළුම් පොකුණෙහි ශිල්පීය කුසලතා**

- පොළොන්නරු ශිල්පියා සතුව තිබූ ජ්‍යාමිතික ඥාණයේ පරිනත බව පෙන්නුම් කිරීමට කදිම නිදසුනක් ලෙස මෙය හැඳින්විය හැක.
- කළුගල් වැනි දැඩි පාෂාණයකින් නෙළුම් පෙතිවල දැක ගත හැකි ස්වාභාවික වක්‍රය අනුව ඔප දැමූ කළුගල් භාවිතය සුවිශේෂී ශිල්පීය කුසලතාවයකි.
- මෙහි ඇති සියලුම පෙති වළල්ලක්ම, ජ්‍යාමිතික කෝණයකින් නිවැරදිව කපා ගැනීමෙන් එකිනෙක මත සිටින සේ සවි කිරීම ද ශිල්පීය කුසලතාවයක් ලෙස දැක්විය හැකිය.
- මෙහිදී ද මෙම ගල් පුවරු අතර කිසිදු බදාමයක් හෝ කිසිදු බන්ධකයක් භාවිත නොකිරීමට තවත් ශිල්පීය කුසලතාවයක් ලෙසින් පෙන්වා දිය හැකිය. (මෙය ද කලින් කළ පරිදි කුට්ටම් පොකුණ මිසර පිරමීඩ ඉදි කිරීම තුළ තිබූ තාක්ෂණමය භාවිතය)
- නෙළුම් පොකුණෙහි ජල සැපයුම් ක්‍රමවේදය කුට්ටම් පොකුණෙහි තරම් ඉතා සංකීර්ණ ක්‍රමවේදයක් නොවීය.
- පොකුණට ජලය ලබා ගෙන ඇත්තේ අසල ඇති ඇළ මාර්ගයකින් හෝ ජලාශයකිනි. පරිහරණය කළ ජලය බැහැර කිරීමට භූගත ජල නල මාර්ග තිබීම එකල ශිල්පීය කුසලතාවයක් දැක්වීමකි.
- නෙළුම් පොකුණ විහාරයක අලංකරණ අංශයක් ලෙසින් සෞන්දර්යාත්මක වටිනාකමකින් දැක ගත හැකි අයුරින් එකල, ගල් වඩුවාගේ තිබූ කලා නෛපුණත්වය හා ශිල්පීය කුසලතාවය පෙන්නුම් කරන අගනා නිර්මාණයක් ලෙසින් නෙළුම් පොකුණ පෙන්වා දිය හැකි අතර, වර්තමානයේ ශ්‍රී ලාංකේශ රඟහලක් සඳහා ද (නෙළුම් පොකුණ) මෙහි ආකෘතිය හා ශිල්පීය කුසලතාවයන්ගේ හැඩය ගෙන ඇත.

2. ශ්‍රී ලංකාවේ ආගමික සිතුවම් නිර්මාණකරණයේ නියැලුණු විත්‍ර ශිල්පීහු විවිධ තේමා යටතේ විශිෂ්ට නිර්මාණ බිහි කළෝ ය.

(i) තාරායන ය්වාම් ශිල්පියා විසින් වැල්වැටිතුරෙයි මුක්තු අම්මාන් කෝවිලෙහි ඇඳ ඇති සිතුවම් දෙකක් නම් කරන්න. (ලකුණු 02 යි)

- සූර සම්භාරම් සිතුවම
- අසංකාසූර සම්භාරම් සිතුවම
- චිත්‍රයාගර් පුරාණය
- වැල්වැටිතුරෙයි මුක්තුඅම්මාන් කෝවිලට අදාළ ඉතිහාසයේ කොටස් 04 කට අදාළ සිතුවම්

(ii) ඩේවිඩ් ජෝන්ටර් ශිල්පියා විසින් සිතුවම් කරන ලද මහනුවර ත්‍රිත්ව දෙව් මැදුරේ දක්නට ලැබෙන 'යහපත් සමරිතානුවා' සිතුවම පිළිබඳ කෙටි පැහැසිමක් කරන්න. (ලකුණු 05 යි)

ක්‍රි.ව. 1900 - 1975 කාල පරාසය තුළ බටහිර කලා ආකෘතියක් පදනම් කරගෙන ශ්‍රී ලාංකේය අන්‍යෝන්‍යතාවයක් ඇති කරලීමට පුරෝගාමී වූ ශිල්පියෙකු ලෙස ඩේවිඩ් ශ්‍රී ලින්ගෝර්ඩ් ජෝන්ටර් හඳුන්වා දිය හැකිය.

- මහනුවර ත්‍රිත්ව විද්‍යාලයේ දෙව් මැදුරේ ඇතුළු බිත්තියේ ඇඳ ඇති යහපත් සමරිතානුවන්ගේ උපමාව ඇතුළත් බිතුසිතුවම බයිබලයේ සඳහන් වූවකි.
- මෙයින් නිරූපණය වන්නේ පහරදීමකට ලක් වී තුවාල ලද පුද්ගලයෙකුට යහපත් සමරිතානුවරයා පිහිටවන ආකාරයකි.
- මොහු විසින් ඇඳි මෙම සිතුවම දුර්වර්ණ වූ නිසා ක්‍රි.ව 1957 දී නැවත පින්තාරු කරන ලද්දේ ද ජෝන්ටර් ශිල්පියා විසිනි.
- ඩේවිඩ් ජෝන්ටර් මෙකී බයිබල් කථාව හා සම්බන්ධ වටපිටාව ශ්‍රී ලංකේය පරිසරයක් මවා පෑවේය. සිතුවමෙහි පසුබිමෙහි යෙදීමෙන් ශ්‍රී ලාංකේය ගැමි පරිසරයක් ගෙන ඒමට උත්සාහ ගෙන ඇත.
- තලය මත රූප සංරචනයේදී පෙරබිම මැදබිම හා පසුබිම, වශයෙන් ගොඩ නගා ඇත.
- තල කිහිපයකින් සමන්විත මෙම සිතුවමෙහි ගැඹුර හා පර්යාලෝක ලක්ෂණයන් මනාවට පෙන්වුම් කර ඇත.
- සුරෝපීය ශාස්ත්‍රාලයීය විත්‍ර කලාවේ ආභාසය ලබා ඇත.
- මෙහි රූප සංරචනය තුළදී ප්‍රධාන වර්තය වන යහපත් සමරිතානුවා මෙන්ම තුවාල ලැබූ තැනැත්තා පෙරබිමෙහි ඇඳ ඇති අතර, භූමි දර්ශනය හා සෙසු වර්ත විත්‍රයට ගැලපෙන අයුරින් මැදබිම හා පසුබිම නිර්මාණය කර ඇත්තේ ශ්‍රී ලාංකේය පරිසරයක් ගෙන හැර දක්වමින් වීම සුවිශේෂී කරුණකි. <sup>1)</sup>
- නිරුවත් හා අඩනිරුවත් රූප සංරචනය ඩේවිඩ් ජෝන්ටර් ශ්‍රීක මූර්ති කලා අභාසය ඇසුරු කර ගනිමින් කළ අතර, මෙහිදී ද මිනිස් රූප නිරූපණය තුළදී පහර කෑමට ලක්වූ මිනිසාගේ අඩ නිරුවත් රූපය ඔහුගේ ශිල්පීය අන්‍යෝන්‍යතාවය කියාපානු ලබයි.

- ඩේවිඩ් ජේන්ටර් යුරෝපයේ රාජකීය කලා ඇකඩමිය තුළ කලා අධ්‍යාපනය හැදෑරූ අය බැවින් ඔහුගේ සිතුවම් අතර එන යහපත් සමරිතානුවා නම් චිත්‍රය තුළ ද නූතනවාදී ගුණාංග මෙන්ම ආලෝකය සහ ජ්‍යෙෂ්ඨතාව සමබරව යොදා ගනිමින් මිනිස් රූපවල ස්වභාවිකත්වය ඉස්මතු කිරීමට උත්සාහ ගෙන ඇත.
- මෙම චිත්‍ර ගල් බිත්තියක් මත බදාම ගා ඒ මත ඇඳ තිබීම ද ආසියාතික කිතුනු කාලාවේ සුවිශේෂී හැරවුම් ලක්ෂයක ප්‍රතිඵලයක් ලෙස පෙන්වා දිය හැකිය.
- මෙම යහපත් සමරිතානුවරයා සිතුවම මගින් ආගමික පණිවිඩයක් දේශීය ජනතාවට තුළ සම්පවන අයුරින් අර්ථවත්ව ත්‍රිත්ව විද්‍යාලයීය දෙව් මැදුරේ නිර්මාණ කර ඇත්තේ ශ්‍රී ලංකාවේ සිතුවම්කරණයේ වැදගත් වූ සංසිද්ධියක් සනිටුහන් කරමිනි.

(iii) 'මාර පරාජය' බෞද්ධාගමික චිත්‍ර ශිල්පීන් විසින් විවිධාකාරයෙන් සිතුවමට නගා ඇත. බොරැල්ලේ ගෝතමී විහාරයේ සිතුවම් ඇඳි ජෝර්ජ් කීට් ශිල්පියා හා බෙල්ලන්විල රජමහා විහාරයේ සිතුවම් ඇඳි සෝමබන්දු විද්‍යාපති ශිල්පියා 'මාර පරාජය' සිතුවම් කළ ආකාරය පිළිබඳ සංසන්දනාත්මක විග්‍රහයක් කරන්න. (ලකුණු 08)

- ශ්‍රී ලාංකේය නූතන බෞද්ධ සිතුවම් කලාවේ විශිෂ්ටතම සිතුවම් හමුවන ස්ථාන 02 ලෙස බොරැල්ලේ ගෝතමී විහාරයත් බෙල්ලන්විල රජමහා විහාරයත් පෙන්වා දිය හැකි අතර, එහි හමු වන "මාර පරාජය" සිතුවම් සුවිශේෂී වේ.
- ජෝර්ජ් කීට් ශිල්පියාගේ කලා ශෛලිය ගෝතමී විහාරයේ මාරාපරාජය සිතුවම තුළ දක්නට ලැබෙන්නේ සණිකවාදී සහ රේඛීය නූතන වාදයත්, ජෝර්ජ් බ්‍රාක් හා පිකාසෝ වැනි ශිල්පීන්ගෙන් ලැබූ නූතන බටහිර කලා අභාසයන් දේශීය බෞද්ධ තේමාවක් තුළට ඇතුළත් කිරීමක් ය.
- සෝමබන්දු විද්‍යාපති ශිල්පියාගේ කලා ශෛලිය බෙල්ලන්විල රජමහා විහාරයේ මාර පරාජය සිතුවම සාම්ප්‍රදායික බෞද්ධ සිතුවම් සම්ප්‍රදාය, අජන්තා සහ මහනුවර යුගයේ සිතුවම් සම්ප්‍රදායේ ආභාසයන් නූතනත්වයට ගෙන ඒමකි.
- බොරැල්ලේ ගෝතමී විහාරයේ මාරයින් දැක්වීමේදී ජ්‍යාමිතික හැඩතල සහ වක්‍ර රේඛා මගින් හැඟීම් සහ ක්‍රියාවන් සංකේතාත්මකව ඉදිරිපත් කරයි.
- බෙල්ලන්විල රජ මහා විහාරයේ මාරසේනාව දැක්වීමේදී රූප යාචාර්ථවාදී ලෙස නිරූපණ කිරීමත්, මාරයින් තුළට ක්ලේශයන් වැනි මානුෂීය හැඟීම් මෙන්ම අකුසල ධර්මයන් ඇතුළත් කිරීමත්, එකී කෙළෙස් පරාජය කිරීමත්, දස මරුන් පැරද වීම සංකේතාත්මකව පිළිබිඹු කරයි. බෞද්ධ සාහිත්‍ය කතාව හා බැඳුණු සාම්ප්‍රදායික විශ්වාසයන් පිළිගැනීම මෙහි සිතුවමින් නිරූපණය වේ.
- ජෝර්ජ් කීට් විසින් ඇඳි මාරපරාජය සිතුවමේ වර්ණ භාවිතයේදී තද පැහැති ප්‍රාථමික වර්ණ භාවිත කරයි. කහ, රතු, නිල් වැනි වර්ණවලට ප්‍රමුඛත්වය දෙමින් සුදු, කොළ, නිල්, කළු වැනි වර්ණ භාවිතයට ගෙන දීප්තිමත් වර්ණ පදාස ක්‍රමයට වර්ණ ගන්වා ඇත.
- බෙල්ලන්විල රජමහා විහාරය මාරපරාජය සිතුවමෙහි ස්වාභාවික හා සාම්ප්‍රදායික විහාර බිතු සිතුවම්වලට අදාළ දීප්තිමත් වර්ණ භාවිතයක් දක්නට ඇත.

- ගෝතම් විහාරයේ බුද්ධ රූපය ඉදිරි පසින් විශාල රේඛාමය හැඩයක් පෙන්වුම් කරන අතර, බුදුන් වහන්සේගේ සන්සුන් බව වෙන් ම භාවනා යෝගී බව පෙන්වයි.
- බෙල්ලන්විල රජ මහා විහාරයේ බුද්ධ රූපය තුළින් ප්‍රභාපවත් බවක් පෙන්වුම් කරන අතර, ඉතා සංයමයෙන් විරාසන ඉරියව්වෙන් සමාධිගතව සිතුවම මධ්‍යයේ නිරූපනය කෙරේ.
- ගෝතම් විහාරයේ මාර පරාජය සිතුවමෙන් ස්වභාවිකත්වයට වඩා භාව ප්‍රකාශනයට මූලිකත්වයක් දී ඇත.
- බෙල්ලන්විල විහාරයේ මානව රූප හැඩ ගැන්වීමේ දී ශිල්පියා විසින් මුද්‍රා නාට්‍ය කලාවේ රංග වස්ත්‍රාභරණ නිර්මාණයේ දී ලත් ආභාසය විත්‍ර තුළට එක් කොට ඇත.
- මහනුවර සාම්ප්‍රදායික සිතුවම් ශෛලිය මාරයින් නිරූපණය, මාරාශ්‍රධි නිරූපණය, මුඩියෙන් පිට වන සර්පයන්, භයංකර මුහුණු ආභාසය කොට ගෝතම් විහාර මාර පරාජ සිතුවම නිර්මාණය කර ඇත.
- බෙල්ලන්විල රජමහා විහාරයේ මිනිස් රූපත් කෙලෙස් සංකල්පයට අනුව ගොඩ නගා ඇත. ආලිංගන ඉරියව් දැක්වෙන විත්‍ර, ප්‍රාණසාතය කරන්නන්ගේ රුව, රත් භාණ්ඩ පොදි බැඳගත් මිනිසුන්ගේ රුව උදාහරණ වේ. මෙහිදී මාරයින් යනු බියකරු කොට්ඨාශයක් නොවන බවත් කෙලෙස් බරින් යුතු මානව ස්වරූපයෙන් මාරයින් ලෙස සිතුවම් කර ඇත.
- ගෝතම් විහාරය මාර පරාජය ඇතුළත් සිතුවම් ඇදී ශෛලිය අඩංගු කථන මාධ්‍ය වේ. එය වික්‍රමලියක එක් අවස්ථාවකි.
- බෙල්ලන්විල රජ මහා විහාරයේ සිතුවම් බිත්තියේ තලය පුරා පදාස ක්‍රමයට නාට්‍යානුසාරයෙන් දක්වා ඇත.

3. පොළොන්නරු යුගයේ දී හින්දු ආගමික සංකල්ප මත පදනම්ව ආගමික මූර්ති ගණනාවක් දේවාල ආශ්‍රිතව නිර්මාණය කර ඇත.

(i) හින්දු ආගමික මූර්ති නිර්මාණයේ දී භාවිත කළ ශිල්ප ක්‍රම දෙකක් නම් කරන්න. (ලකුණු 02 යි)

- නෙලීම
- ඇඹීම
- කැටයම් කිරීම
- වාත්තු කිරීම (සණ හා කුහර)

(ii) ශිව සෝමස්කන්ධ මූර්තිය පිළිබඳ කෙටි හැඳින්වීමක් කරන්න. (ලකුණු 05 යි)

- හින්දු දහමෙහි විශේෂයෙන්ම චෝල හා පල්ලව සමයේ දී වඩාත් ජනප්‍රිය වූ ශිව දෙවියන් හා සම්බන්ධ සුවිශේෂී වූ මූර්තියක් හෝ සමූහ මූර්තියක් ලෙසින් ශිව සෝමස්කන්ධ මූර්තිය හඳුන්වා දිය හැකිය. ශිව දේවාල අංක 05 හමු වී ඇත. (12 සියවස)
- ශිව සෝමස්කන්ධ යන නාමය උත්පාදනය වී ඇත්තේ ප්‍රධාන වචන තුනක ගැලපීමෙනි 'සෝ' යන්නෙන් (ශිවගේ භාර්යාව උමා දෙවියන්) 'ස්කන්ධ' හෙවත් කාර්තිකේය දෙවියන්/ මුරුගන් (ශිවගේ සහ උමාගේ පුත්‍රයා)
- ඒ අනුව සෝමස්කන්ධ යනු ශිව දෙවියන් එකට සිටින අකාරය හෙවත් ශිව දෙවියන්ගේ පවුලේ ස්වරූපය පෙන්වුම් කිරීමකි.
- මෙම මූර්තිය තිරස් අතට සාප්තෝණාසාකාර පීඨිකාවක දැකිය හැකිය.

- ප්‍රධාන වර්ත වන ශිව දෙවියන් සාමාන්‍යයෙන් වම්පස වාඩි වී සිටියි. ශිව ආශිර්වාදාත්මක ඉරියව්වලින් යුක්ත වන අතර ඔහුගේ හිස ජවා මකුටය, (කේතුකකාර හිස් පළඳනාව) අඩ සඳ ලකුණ ද අත් සතරක් ද දැක ගත හැකිය.
- ඉහළ දකුණු අතෙහි කෙටේරියක් ද, ඉහළ වම් අතෙහි මුළුතෙල් රූපයක් ද, පහළ දකුණු අතින් අභය මුද්‍රාව ද, පහළ වම් අතින් වරද මුද්‍රාව ද වේ.
- ශිව දෙවියන් එක් කකුලක් පහත හෙළා සිටින අතර, අනෙක ආසනය මත නවා ලේකාසා ලීලාවෙන් දක්වා ඇත.
- ශිව දෙවියන්ට ආසන්නව හිඳගෙන සිටින උමා දේවිය මදක් ඇලව ශිව දෙස බලා සිටින ඉරියව්වකි.
- ශිව හා උමා දේවිය මධ්‍යයෙහි ස්කන්ධ රුව තිබිය යුතුය වර්තමානයේ මෙය දක්නට නැත අතර රඳවා තිබූ කුහරය පමණක් දැකිය හැකිය.
- මෙම සමූහ මූර්තිය ඉහළින් රැස්වලල්ල එසේත් නැතිනම් 'තිරුවාසි' යනුවෙන් හඳුන්වන කොටස තුළින් විවිභක්තවයක් මූර්ති තුළට ගෙන එනු ලබයි.
- මෙම මූර්තිය සන වාක්තු ක්‍රමයටත් පාදම කුහර සහිත වාක්තු ක්‍රමයටත් නිර්මාණය කර ඇත.
- කොළඹ ජාතික කෞතුකාගාරයේ ප්‍රදර්ශනයට තබා ඇත.

(iii) හින්දු ආගමික මූර්ති අතර නවරාජා මූර්තිය සුවිශේෂී වේ. එහි සංකේත භාවිතය හා කලා ලක්ෂණ පිළිබඳ ඇගයීමක් කරන්න. (ලකුණු 08යි)

නවරාජා මූර්තිය යනුවෙන් හඳුන්වන්නේ ශිව දෙවියන්ගේ විශ්වයීය නර්තනය හෙවත් ශිව තාණ්ඩව නර්තනය පිළිබිඹු කෙරෙන සංකේතාත්මක හින්දු කලා නිර්මාණයකි. ක්‍රි.ව 9 - 12 සියවස් අතරට අයත් යැයි සැලකේ. (වෝල යුගය)

- නවරාජා මූර්තිය මගින් විශ්වයේ සදාකාලික චක්‍රය මැවීම, විනාශය, ආරක්ෂා කිරීම විමුක්තිය, මායාව යන ශිවගේ පංචකාතය සංකේතවත් කරනු ලබයි.
- වෝල යුගයේ නිර්මිත මෙම මූර්තියෙහි ගිනි වලල්ල හා රශ්මි මාලාවෙන් (තිරුවාසි) විශ්ව චක්‍රය වූ මැවීම හා විනාශය සංකේතවත් කරයි. නවරාජා වටා ඇති ගිනි ජාලාවලින් සමන්විත තිරුවාසි තුළින් විශ්වයේ සදාකාලික චක්‍රය සහ කාලය සංකේතවත් කරන අතර එය විශ්වය නිර්මාණය කරන සහ අවසානයේ විනාශය ද සිදුකරන ආකාරය නියෝජනය කිරීමකි.
- දකුණු ඉහළ අතෙහි ඇති කුඩා බෙරය මගින් ශබ්දය සහ මැවීම සංකේතවත් වන අතර, බෙර හඬින් මැවීමේ මුල්ම ශබ්දය වන "ඔම්" නිකුත් වන බව විශ්වාස කෙරේ. එය කාලය ගෙවියාම මෙන්ම විශ්වය නිර්මාණය සංකේතවත් කරයි.
- වම් උඩු අතේ ගිනි සිඵව මගින් විනාශය හා සංහාරය පිළිබිඹු කරවයි. මෙම ගින්න මගින් පැරණි දේ විනාශ කිරීමත් නව නිර්මාණයන්ට මාර්ගය පාදා දීමත් සංකේතවත් කරන අතර විනාශයේ බලය කියා පායි.
- දකුණු අත (පහළට) අභය මුද්‍රාව තුළින් ආරක්ෂාව සහ අභය දීම සංකේතවත් කරයි.



(ii) බුද්ධ ප්‍රතිමාවේ ආරම්භය සඳහා ගන්ධාර කලා සම්ප්‍රදාය ඉවහල් වී ඇති ආකාරය කෙටියෙන් පහදන්න. (ලකුණු 05 යි)

- ක්‍රි.ව 1-5 සියවස අතර කාලයේ ග්‍රීක සම්භවයක් සහිත කුෂාණ පාලකයින්, වයඹ දිග ඉන්දියාව, පකිස්තානය, ඇෆ්ගනිස්තානය ආශ්‍රිත ප්‍රදේශ පාලනය කළහ. ගන්ධාර කලාව මෙම ප්‍රදේශය පුරා ව්‍යාප්ත විය.
- කුෂාණ පාලකයින් තම බලය තහවුරු කර ගැනීම සඳහා බුදුදහම වැළඳගෙන, බුදුදහම රාජ්‍ය ආගම බවට පත් කරයි.
- ගන්ධාර බෞද්ධ කලාව ප්‍රභවය ලැබීම සඳහා පාලකයින් සතු ග්‍රීක රෝම සබඳතා, ඉන්දිය ස්වදේශික සංස්කෘතිය හා මහායාන බුදු දහමේ බලපෑම මත සිදු විය.
- මහායාන බුදු දහමේ ඥාණ මාර්ගය වඩා භක්ති මාර්ගය වැදගත් කොට සැලකීම හේතුවෙන් ප්‍රතිමා වන්දනය අත්‍යවශ්‍ය විය.
- කුෂාණ රාජ්‍ය සමය තෙක් බුදුන්ගේ රුව රූපකායෙන් දැක්වීම සිදු නොවීය. ප්‍රතිමා වන්දනාවට හුරුවී සිටින කුෂාණ පාලකයින් ඉන්දිය අදහස්වලට පටහැනිව මාහායාන බෞද්ධ බලපෑම හා බටහිර ග්‍රීක රෝම කලා ආභාසය හේතුවෙන් බුදුන් වහන්සේ රූපකායෙන් දැක්වීමට පෙළඹුනහ.
- කුෂාණ රජවරුන් බටහිර රටවල් සමඟ නිරතුරු සබඳතා පැවැත්වීම හේතු කොට ගෙන දූ ප්‍රදේශවල කලාකරුවන්ගේ සහයෝගය ලබාගෙන ඇත.
- කෘෂිකර්ම රාජ්‍ය සමයේදී බුදුරුව සහිත රත්නාසියක් නිකුත් කිරීම, ඊට සාක්ෂියක් මෙන්ම බුදුරුව නිර්මාණය කිරීමේ මූලික අවස්ථාව ලෙස හඳුනාගත හැක.
- ගන්ධාර ශිල්පීන් ග්‍රීක රෝම දේව ප්‍රතිමාවල ලක්ෂණ බුද්ධ ප්‍රතිමා නිර්මාණ සඳහා ආදේශ කොට ගෙන ඇත.
  - o බුද්ධ ප්‍රතිමාවේ මුහුණ ග්‍රීක ඇපලෝ දෙවියන්ගේ මුහුණ ස්වරූපය ගැනීම
  - o විවරය ග්‍රීක ප්‍රභූ ඇඳුම් හා රෝම වංශාධිපතින්ගේ ටෝරාවට සමාන වීම
  - o ඇපලෝ දෙවි රූපය මෙන් විශාල වූත් උෂ්ණීසය හා ස්වභාවික ආකාරයෙන් හිසකෙස් යෙදීම
  - o විවරයේ රැළි සතව හා ස්වභාවිකව යෙදීම
  - o මදක් විවර වූ දිගු දෙනෙත්, සිහින් දෙනොල් හා සෘජු නාසයෙන් හක්කි රසය ජනනය කරයි.

හාද

(iii) මදුරා හා සාරානාත් ගුරුකුලයන්හි නිර්මාණ ගුප්ත යුගයේ දී ඉතා උසස් තත්ත්වයට පත් විය. ඉහත සියලුම සනාථ කිරීම් සඳහා මදුරා හා සාරානාත් බුදු පිළිමවල ප්‍රශස්ත මූර්තිමය ලක්ෂණ හා භාව ප්‍රකාශන ඇසුරෙන් පහදන්න. (ලකුණු 08 යි)

- ක්‍රි.ව. 320 දී වන්දනාදායක රජුගෙන් ගුප්ත රාජ්‍ය සමය ආරම්භ වේ. ක්‍රි.ව. 4-7 සියවස්වල දියුණු වූ කලා සම්ප්‍රදාය ගුප්ත කලාව ලෙස හැඳින්වේ.
- ගුප්ත යුගයේදී කලා සංස්කෘතික ප්‍රබෝධයට ආගමික හා දේශපාලන හේතු ගණනාවක් මුද්‍ර වූ අතර උසස් තත්ත්වයට පත්වූ කලා මධ්‍යස්ථාන රාශියක් වේ.
- ගුප්ත රාජ්‍ය සමයේ බුද්ධ ප්‍රතිමා නිර්මාණයට ප්‍රමුඛස්ථානයට පත් නගර දෙක ලෙස මදුරා හා සාරානාත් කලා මධ්‍යස්ථාන නම් කල හැකිය.

- ගුප්ත කලාව යනු නවතම කලා සම්ප්‍රදායක් නොව මුදුරා කලාවේ වර්ධනීය අවස්ථාවක් වේ.
- ගුප්ත යුගයේදී උසස් තත්ත්වයේ ප්‍රතිමා නිර්මාණ දෙකක් ලෙස,
  - මුදුරා හිටි පිළිමය(ජමල්පූර් හිටි පිළිමය)
  - සාරානාත් හිඳි බුදු පිළිමය

මුදුරා හිටි පිළිමය	සාරානාත් හිඳි පිළිමය
<p><b>මුර්තිමය ලක්ෂණ</b></p> <ul style="list-style-type: none"> <li>• රතු වැලි ගලින් නිමවා ඇත.</li> <li>• ඉතා සුන්දර වමන්කාරජනක කඩවසම් දේහ ලක්ෂණවලින් යුක්තය.</li> <li>• ප්‍රභා මණ්ඩලය නිර්මාණයේදී වාමි රැස් වළල්ල ඉතා සියුම් ලෙස නෙළුම් මල්පෙති හා ලියවැල් වලින් විසිතුරු කර ඇත.</li> <li>• දෙවුර වැසෙන සේ යෙදූ චීවරය ඇඟට ඇලුණ ආකාරයට ලාලිතාමය අයුරින් නිර්මාණය කර ඇත. චීවරයට යටින් අඳනාය හා අඳන පටිය සියුම්ව මතුකොට ඇත.</li> </ul>	<p><b>මුර්තිමය ලක්ෂණ</b></p> <ul style="list-style-type: none"> <li>• වූනාර් නැමැති පාෂාණ භාවිතයෙන් නිර්මාණය කර ඇත.</li> <li>• සම්මත මිනුම් ක්‍රම අනුව පරිමාණුකුලව බුදුපිළිමය නිම කර ඇත.</li> <li>• සංකීර්ණ හා විසිතුරු ලෙස ධම්මවක්ක මුද්‍රාව නිරූපණය කරයි.</li> <li>• පිළිමය පිටුපසින් සිංහ රූප දෙකක්ද මකර මුඛ දෙකක් හා ලියවැල් වලින් විසිතුරු කර ඇත.</li> <li>• වැඩ සිටින ආසනය මැද ධර්මවක්‍ර සංකේතය දක්වා ඇති අතර එහි දෙපස ශ්‍රමණ රූප තුන බැගින් හයක් කැටයම් කර ඇත. දෙපස මුවන් දෙදෙනෙකි.</li> <li>• දෙවුර වැසෙන සේ චීවරය රැලි රහිතව ඇඟට ඇලුණ අයුරින් නිර්මාණය කර ඇත.</li> <li>• පද්මාසන ක්‍රමයෙන් වැඩ සිටින ලෙස නිමවූ විශිෂ්ඨ ප්‍රතිමාවකි.</li> </ul>
<p><b>භාවමය ලක්ෂණ</b></p> <ul style="list-style-type: none"> <li>• අඩවන් දෙනෙන්, මද සීනහව, ලඹ සවන්, උෂ්ණීය සහිත කුන්ඩලාකාර කෙස්, ඕවලාකාර මුහුණින් බුදුන් වහන්සේගේ ආධ්‍යාත්මික ගුණ මතු කෙරේ.</li> <li>• නෙළුම් පෙතිවත් අඩවන් දෙනෙන් පහළට යොමුවීම ආධ්‍යාත්මික ගුණය තීව්‍ර කිරීමට සමත් වේ.</li> </ul>	<p><b>භාවමය ලක්ෂණ</b></p> <ul style="list-style-type: none"> <li>• අඩවන් දෙනෙන්, දෙදුණුවන් ඇඟිබැම, අඹළුවන් පිරිපුන් දෙනොල්, ලඹ සවන් ආදියෙන් යුත් අණ්ඩාකාර මුහුණින් ප්‍රසන්න කරුණාබර බවක් නිරූපණය කරයි.</li> </ul>

5. ඉන්දු නිමිත ශිෂ්ටාචාරය ඉතා දියුණු ජන කොට්ඨාසයක් විය යුතු බවට ජනාකීර්ණ ජනාවාසයකි.

(i) ඉන්දු නිමිත වැසියෝ කලා කෘති නිර්මාණයේ දී භාවිත කළ ශිල්ප ක්‍රම දෙකක් තේරීම කරන්න. (ලකුණු 02යි)

- ඇඹීමේ ශිල්පක්‍රමය
- නෙළීමේ ශිල්පක්‍රමය
- වාත්තු කිරීමේ ශිල්පක්‍රමය

(ii) ඉන්දු නිමිත වැසියෝ මානව රුව සියුම්ව අධ්‍යයනය කොට නිර්මාණය කිරීමට දක්ෂතා ඇත්තේ වූහ. එක් උදාහරණයක් ගෙන කෙටි හැඳින්වීමක් කරන්න. (ලකුණු 05යි)

- ඉන්දුනිමිත ශිෂ්ටාචාරය විවිධ මානව වර්ගවලින් සමන්විත වූ බව, විවිධ ශිල්පක්‍රම භාවිතයෙන් නිර්මිත නිර්මාණ ඇසුරෙන් හඳුනාගත හැකිය.
- ඇඳහිලි හා විශ්වාස පිළිඹිබුකරන හමු වූ නිර්මාණ අතර
  - රතු වැලිගලින් කළ කවන්ධ රුව
  - අලු වැලිගලින් කළ තර්කන විලාසය පෙන්වන කවන්ධ රුව
  - ලෝහ මාධ්‍යයෙන් නිර්මිත නළඟන රුව
  - සුදු හුණු ගලින් කළ පුරක රුව - සුවිශේෂී වේ.

• මව් මූර්ති මානව රුව නිර්මාණය කිරීමේ පොදු ලක්ෂණ (විද්‍යාගාර)

- ශ්‍රීක රෝම නිර්මාණවල ආභාසය සහිතව මානව දේහයේ ස්වභාවිකත්වය, සුන්දරත්වය, ඉතා සියුම්ව දැක්වීම
- මාධ්‍යයට අදාළව විවිධ වයනීය ලක්ෂණ සහිතව, පිරිපුන් මස්පිටුවල ස්වභාවය, පිම්බුණු උදරය වැනි ශරීරාංග මට්ටම්වල ලෙස නිර්මාණය කිරීම.
- මානව රුවේ රිද්මය සහ සමබරතාවය දැක්වීම
- නාරි දේහයේ ලාලිතය, සිහින් අගපසග සහ ඉරියව් නිරූපණය
- වර්තයට අදාළව මුහුණින් විවිධ භාව ප්‍රකාශනයන් නිරූපණය කිරීම. (ප්‍රකෝපකාරී බව, සෘජු බව, භාවනානුයෝගී බව)
- ආහරණ සහ ඇඳුම් පැළඳුම් භාවිතයෙන් වර්තයේ අන්‍යෝන්‍යතාවය නිරූපණය කිරීම.
- මානව මානව හා නිවැරදිව පැහැදිලිව නිරූපණය කිරීම

\*ඉහත මානව රුවේ පොදු කලා ලක්ෂණ අපේක්ෂකයා විසින් තෝරාගන්නා ලද කෘතියට අදාළව ගලපා ගත යුතුය.

(iii) ඉන්දු නිමිත ශිෂ්ටාචාරයේ ඉතා දියුණු ගෘහ නිර්මාණ කාක්ෂණයක් වැවිති බවට සාක්ෂි හමුවී ඇත. ඉහත කියමන මවුන්ගේ වාස්තු විද්‍යා නිර්මාණ ඇසුරෙන් උදාහරණ සහිතව පහදන්න. (කොණ 08 යි)

**උදාහරණ** **ලොක** **නගරය** **නිලනා** **බැටිය** **පුරාණ**.

ක්‍රි.පූ. 2150 - 1750 අතර කාලය ඉන්දුනිමිත ශිෂ්ටාචාරය ඉතා දියුණු නාගරික සැලසුම්කරණ සහ ගෘහ නිර්මාණ ශිල්පීය කාක්ෂණයක් දැක ගත හැකිය.

**නගර නිර්මාණය**

- මොහෙන්ජොදාරෝ සහ හරප්පා පාලක මධ්‍යස්ථාන හා ජනවාස ලෙස ද කාලිබංගන් කාර්මික නගරය ලෙස ද ලෝකාල් වෙළෙඳ නගරය ලෙස ද හඳුනාගෙන ඇත.

**නිවාස නිර්මාණය**

- මොහෙන්ජොදාරෝ සහ හරප්පා නගර ඇතුළුපුරය හා පිටතපුරය ලෙස ප්‍රාකාර බැඳ වෙන් කොට තිබුණි.
- රාජ්‍යයේ පොදු ගොඩනැගිලි හා ප්‍රභූ නිවාස ඇතුළු නගරය තුළද (පවුරු, මුර කුටී) පිටත නගරය තුළ සාමාන්‍ය ජනයාගේ නිවාස ද විය.
- ප්‍රභූ නිවාස විශාලව නිර්මාණය කර ඇති අතර, එම නිවෙස් නාන කාමර, වැසිකිලි, කැසිකිලි මෙන්ම මහල් නිවාසයන්ගෙන් ද සමන්විත වේ.
- සාමාන්‍ය ජනයාගේ නිවාස පොදු සැලැස්මකට අනුව නිවාස ජේලි ලෙස මාර්ග දෙපස දක්වා ඇත.
- සෑම නිවසක්ම ආලින්දය කාමරය හා මුරතැන්ගෙයකින් යුක්තය.
- නිවාස ජේලියකට නිවාස 12 ක් පමණ ඇතුළත් වේ.

**සනීපාරක්ෂාව**

- මෙම නිවෙස්වල දොරටු හා ජනෙල් ප්‍රධාන මාර්ගයට විවෘත කොටු අතර අතුරු මාර්ග දෙසට හෝ අංගනය දෙසට විවෘත විය.
- නිවාස ජේලියකට පොදු ළිඳක් හා වැසිකිලියක් ඇත.
- ඇතුළත බිත්ති මැටි බඳුම් ගා ඇත.
- අපවිත්‍ර ජලය මැටි තළ මගින් අතුරු මාර්ගවල කාණු පද්ධතියටත් පසුව ඒවා ප්‍රධාන මාර්ගයේ කාණු පද්ධතියටත් යොමු කර ඇති අතර ප්‍රධාන මාර්ගයට සම්බන්ධ වන තැන පෙරනයක් දක්වා ඇත.

**වෙනත් ගොඩනැගිලි**

- ඇතුළු නගරය මධ්‍යයේ අඩි 39 ක් දිග අඩි 23 ක් පලල අඩි 08 ක් පමණ ගැඹුරු ජල තටාකයක් ඇත.
- ජල තටාකය වටා කාමර ජේලි ඇති අතර, ආගමික වාතාවත් ඉටු කිරීමට පූජකයින්ගේ පරිහණය සඳහා භාවිත වන්නට ඇත.
- ධාන්‍ය ගබඩා කිරීමට විශාල ගොඩ නැගිල්ලක් ඉදි කොට ඇත.
- මෙහි මධ්‍යයේ වක්‍රාකාර කොටසක් ඇති අතර එය ධාන්‍ය කේටීමට භාවිත කර ඇත.
- පොදු ඉදිකිරීම් අතර සොහොන් බිම්ද දක්නට ඇත.

**ජල පරිවහන පද්ධති**

- උස් ප්‍රදේශයක සිට ආයතන චතුරස්‍රාකාර ලීදක සිට 'ඇක්විඩක්ට්' නම් ජල මග ඔස්සේ තටාකයට ජලය ගෙන ඇත.
- උමගක් සේ වූ මෙම ජල පරිවහන පද්ධතියේ පැත්තූම් ආරක්කුව නම් විශේෂ ගෘහ නිර්මාණ ශිල්ප ක්‍රමයක් දැකිය හැකිය.

**'ඉ' කොටස**

**(චිත්‍ර කලාව ආගශීම හා රසාස්වාදය - යුරෝපය)**

6. යුරෝපයේ කදාසන්න රාජ්‍යයන් දෙකක් වන ශ්‍රීසිය හා රෝමය කලා නිර්මාණ රැසක් ලොවට දායාද කළ දේශයන් විය.

(i) ශ්‍රීක සම්භාව්‍ය යුගයේ මූර්ති දෙකක් නම් කරන්න.

(ලකුණු 02 යි)

- කවපෙත්ත විසිකරන්නා
- හෙල්ල විසිකරන්නා
- හෙල්ල දරන්නා
- ඇතීනා දෙවඟන
- හර්මිස් සහ ඩයොනීසස්
- ඩෙල්ෆි හි රථාවාර්යය
- දිව්‍යංගනාවන් තිදෙනා
- **බැටිවරින් ක්‍රිකතයා**
- **ආපලෝ**

**• නිකියස්**  
**• ඔෆිඩෝරස්**

(ii) රෝම වාස්තු විද්‍යාවේ සුවිශේෂී නිර්මාණයක් වූ ට්‍රාජන් කුලුණ (The Trajan Column) ගැන කෙටි කලාත්මක ආගශීමක් කරන්න.

(ලකුණු 05 යි)

- ට්‍රොජන්ගේ බැසිලිකා මැදුරට යාබද ට්‍රාජන් අධිරාජ්‍යයාගේ ඩෙසියානු (DECIAN) යුධ ජයග්‍රහණ සැමරීමට ඉදිකර ඇති වාස්තු විද්‍යාත්මක නිර්මාණයකි.
- ක්‍රි.ව 107 - 113 කාලයේදී ඇපලෝඩෝරස් නම් කලාකරුවා විසින් නිර්මාණය කර ඇති බි රෝමවරුන්ගේ ලෝකය නැමති ග්‍රන්ථයේ සඳහන් කර ඇත.
- කුලුණ බඳ අඩි 98 ක් වන අතර පාදම සමග උස අඩි 125 ක විශ්කම්භය අඩි 12.2 කි.
- මෙහි කුළුණු බඳ නිර්මාණයට සිලින්ඩ්‍රාකාර කිරිගරුව ගල් කුට්ටි 20 ක් භාවිත කර ඇති අතර, එකක බර ටොන් 323 පමණ වේ.
- ඩොරික් කුළුණු ස්වරූපයට ඉදිකර ඇති මෙම ස්ථම්භයේ අඟල් 50 ක් පමණ පළලින් යුතු රූපාවලියක් සර්පිලාකාරව ඉහලට විහිද යන අයුරින් කැටයම් කර ඇත.
- අධිරාජ්‍යයාගේ යුධ දර්ශන බලකොටු, යුධ ගමන් හා වාරිකා තානාපතිවරුන් හා සිරකරුවන් තේමා වූ මෙම කුලුණේ මානව රූප 2500 ක් පමණ වෙලුම් 24 ක් තුළ කැටයම් කර ඇත.
- නිරූපිත සිද්ධි එකිනෙකට ගලපමින් තලය පිරි යන සේ අර්ධ උන්නතව, අඩුණ්ඩු කථන ශෛලියෙන් යුක්තව රචනා වීම ශිල්පීය දක්ෂතාවය පෙන්නවත්තකි.
- කුළුණු පාදමේ ට්‍රාජන් හා ඔහුගේ මෙහෙසිය වන ෆ්ලොටිනාගේ සොහොන් ගැබට පිවිසෙන දොරටුවකින් යුක්ත වන අතර, අභ්‍යන්තරයේ සිට ඉහලට නැගීමට සර්පිලාකාර පඩි පෙළකි.
- කුළුණ මුදුනක ට්‍රාජන් අධිරාජ්‍යයාගේ මූර්තියක් නිර්මාණය කර ඇත.

(iii) ශ්‍රීක හා රෝම ගිල්පින් මානව රූපය, සිතුවම් සඳහා යොදා ගත් ආකාරය හා අවස්ථාවන් ඇසුරෙන් සංසන්දනාත්මක ඇගයීමක් කරන්න. (ලකුණු 08 යි)

- ශ්‍රීක හා රෝම කලා සම්ප්‍රදායන් ද්විත්වයම මිනිසා කේන්ද්‍ර කරගත් දර්ශනයක් මත පදනම් වූවත් මානව රූපය නිරූපණය කළ අකාරයෙහි සහ එය යොදාගත් අවස්ථාවන්හි සුවිශේෂිතා වෙයි.
- ශ්‍රීක සිතුවම්හි මානව රූප නිරූපණයේ දී දේවත්වයට හෝ විරත්වයට සමීප වූ තාරුණ්‍ය, කායිකව ශක්තිමත් සහ සම්පූර්ණ සමානුපාතික රූප නිරූපණය කර ඇති අතර, රෝම සිතුවම්හි මානව නිරූපණයේ දී සැබෑ මිනිසුන්, ඔවුන්ගේ සහ ඔවුන්ගේ වයස යන පෞද්ගලික ලක්ෂණ සහිතවය.
- ශ්‍රීක සිතුවම්වල විශේෂයෙන් ම පිරිමි රූප (ක්‍රීඩකයන්, විරයන්, දෙව්වරුන්) නිරූපණය තුළදී අලංකාරය , විරත්වය සහ උත්තරීතරත්වය සංකේතවත් කරයි. (ශ්‍රීක මල් බඳුන්වල දැකිය හැකි විත්‍ර)
- රෝම සිතුවම්වලදී චිත්තවේගයන්, දුක් වේදනා විශේෂයෙන් පෞද්ගලික සිදුවීම් (දැව ඵලකය මත ඇදී කාන්තා උඩුකය) මෙන්ම මිත්‍යා කථා හා ඇදහිලි පූජා විධි (ඩයොනිසස් පිදීම) සිතුවම්කරණයට භාජනය විය.
- මෙහිදී මානව රූව නිරූපණයේදී ශ්‍රීකයේ ශෛලිගතබවත් රෝම සිතුවම්වලදී ස්වභාවික නිරූපණයක් හා ත්‍රිමාණ ස්වරූපයෙන් ඉදිරිපත් කිරීමත් දැකිය හැකිය.
- පොම්පෙ විලා අයිටම් හෙවත් විලා මිස්ටරිස් නමින් හඳුන්වන ගොඩනැගිල්ලෙහි සිතුවම් වන ඩයොනිසියස් පිදීම ආගමික දර්ශනයක් ඇතුළත් සිද්ධිය තුළදී නිරුවත් මෙන්ම අධ නිරුවත් කාන්තා රූප නිරූපණය සුවිශේෂී වන අතර, ශ්‍රීක කාන්තා රූප නිරූපණය තුළදී නන්තව යෙදීම දැකිය නොහැකි අවස්ථා බොහෝ වෙයි.
- ශ්‍රීක මානව රූප පරමාදර්ශී කළ අතර, රෝමවරු යථාර්ථවාදී කරනු ලැබීය.



	ශ්‍රීසිය	රෝමය
සිතුවම් දැකිය හැකි අවස්ථා	<b>මැටි බඳුන්</b> <ul style="list-style-type: none"> <li>කාලරූපි මැටි බඳුන්</li> <li>රක්ත රූපි මැටි බඳුන් (ඇම්පෝරා හයිඩ්‍රියා කයිලික්ස්, කන්තරෝස්, ලෙකිතෝස්)</li> <li>පනේල සිතුවම් (දැවමය)</li> <li>බිතු සිතුවම් - මන්දිර තුළ</li> </ul>	<b>මාතෘ දේහ වැසුම්</b> <ul style="list-style-type: none"> <li>ස්කොට්ලන් රාජකීය කෞතුකාගාරයේ තැන්පතු කර ඇති කාන්තා උඩුකරුව</li> <li>බිතුසිතුවම් (ප්‍රභූ නිවාස අලංකාර)</li> <li>ආගමික දර්ශන පොම්පෙයිවිලා මිස්ටරින් ගොඩනැගිල්ල</li> </ul>
භාවිත තේමා (වස්තු විෂය)	මිත්‍යා කථා, වීර කථා, යුධ දර්ශන, නැටුම් දර්ශන, ක්‍රීඩා දර්ශන	පාලකයින්ගේ ජයග්‍රහණ දර්ශන පුද්ගල ආලේඛ්‍ය චිත්‍ර මිත්‍යා කතා, භූ දර්ශන ආගමික දර්ශන
මානව රූප නිරූපණය කර ඇති අයුරු	ද්විමාණ බවකින් යුතුය. (2 D) රේඛීයත්වය (LINEARTY) සහ පැතලි ආකෘති කෙරෙහි අවධානය යොමු කිරීම. ශෛලිගත බවකින් යුතුය ක්‍රියාකාරී බවින් අඩුය.	ත්‍රිමාණ බවින් යුතු (3 D) ගැඹුරු බව දැක්වීම, පර්යාලෝක ලක්ෂණ සෙවනැලි සහ ආලෝක යෙදීම. යථාර්ථවාදී ලක්ෂණ දැක්වීම උසස් හැගීම් ප්‍රකාශනය, මානව රූප ජීවි ප්‍රමාණයෙන් සහ රිද්මයානුකූලව දැක්වීම.
තලය භාවිතය	පාරිභාෂික භාණ්ඩ තුළ වක්‍ර පෘෂ්ඨ භාවිත කිරීම	ගොඩනැගිලි තුළ මානව රූප පැතලි පෘෂ්ඨයක නිරූපිතය
වර්ණ භාවිතය	රක්ත හෝ කාල වර්ණ	දීප්තිමත් වර්ණ භාවිතය
රේඛාව	මැටි බඳුන් සියුම් ලෙස සූරා රේඛා මතු කරයි.	සියුම් රේඛාකරණය වස්ත්‍ර නිරූපණයේදී භාවිත කරයි.

7. ඉතාලියේ බිහි වූ පුනරුද සමය, අග්‍රගණ්‍ය කලා කෘති රැසක් ලොවට බිහිකළ අවධියකි.

(ලකුණු 02 යි)

(i) මයිකල් ඇන්ජලෝ විසින් නිර්මාණය කරන ලද සිතුවම් දෙකක් නම් කරන්න.

- අවසාන විනිශ්චය (LAST JUDGEMENT)
- ශුද්ධ වූ පවුල (HOLY FAMILY)
- සිස්ටයින් දෙවි මැදුරේ සිටිලිමේ ඇඳ ඇති ලෝකෝත්පත්ති කතාව
 

- ආදම් මැවීම	- නෝවාගේ බීමත්කම
- ජීව මැවීම	- මහා ජල ගැල්ම
- පාරාදීසයෙන් නෙරපීම	- නෝවාගේ පරිත්‍යාගය
- අඳුරෙන් එලිය වෙන් කිරීම	- ඉර, හඳ, තරු මැවීම
- ජලයෙන් ගොඩබිම වෙන් කිරීම	

(ii) පුනරුද කලාවේ පොදු ලක්ෂණ පිළිබඳ කෙටියෙන් හඳුන්වන්න.

(ලකුණු 05 යි)

- පුනරුද සමයේ මානවාදය, පුද්ගලවාදය, පරමාදර්ශිවාදය, ස්වාභාවිකවාදය යන ප්‍රවේශ ප්‍රමුඛත්වයට පත්වීම.
- ග්‍රීක, රෝම සම්භාව්‍ය කලාවේ කේමා හා සංකේත කලා කරුවන් අතර ප්‍රකටව භාවිතා වීම.
- භූමි දර්ශන කලාව පුනරුදය සමග දියුණු වූ විෂයක් වීම
- ස්වාභාවිකවාදය දියුණුවීමේ ප්‍රතිඵලයක් ලෙස, ස්වාභාවික ලෝකය හැකිතාක් තර්‍ය ස්වරූපයෙන් ගොඩනැගීම.
- මෙහි ප්‍රතිඵලයක් ලෙස පර්යාචලෝක මූලධර්ම උපක්‍රම දියුණු වීම
- මිනිස් සිරුර ඉතා නිවැරදිව හා ප්‍රශස්තව ඇඳීම පිළිබඳ විශේෂ අවධානය යොමු කිරීමත් ඒ අනුව කායව්‍යුහ (Anatomy) ලක්ෂණ හා පරිමාණ ලක්ෂණ (Proportions) අධ්‍යනයට නැඹුරු වීම.
- පුද්ගලරූප (ආලේඛ්‍ය චිත්‍ර) කලාව ප්‍රචලිත වීම

(iii) ලියකාරීන් වාර්තාවලින් 'පර්වත මධ්‍යමාංශයේ දේශීය භාෂාව' සහ 'රාජ්‍යයේ සන්නිවේදන' 'ආර්ථික මූලධර්ම' යන පිටුවල පිළිබඳ ආකෘතිය හා කලා ලක්ෂණ ආදායම් සංසන්දනාත්මක කලාත්මක ආවේණික කරන්න.

(ලකුණු 08)

පර්වත මධ්‍යමාංශයේ දේශීය භාෂාව පිටුව	ආර්ථික මූලධර්ම පිටුව
<p><b>ආකෘතිය</b></p> <ul style="list-style-type: none"> <li>ක්‍රි.ව 1480 - 1500 කාලයේ ලියකාරීන් විසින් ලියන ලද ප්‍රථම කතාකෘතියක් ලෙස සැලකේ.</li> <li>ඉහළ පුනරුද්ධ කලාවේ ලියන ලද කලා කෘතියකි.</li> <li>අධ්‍යයන පිටුවේ ස්වභාවිකත්වය හා පැහැදිලි ස්වභාවිකත්වය කරන පරිදි විකෘත ස්වභාවයක් කර ඇත.</li> <li>පිටුවේ කුල සකසා මට්ටම කුමක් වේදැයි, සාක්ෂි සපයන සහ දේශීයතාවය දැක්වෙන මානව රූප නිරූපණය පිළිබඳ සඳහන් කර ඇත. අධ්‍යයන හා අන්තර් සම්බන්ධීකරණ ස්වභාවයක් ඇත.</li> <li>සාක්ෂි මට්ටමට අනුව විකෘත වේ. පිටුවේ කුමක් කතාකෘතියක් ලෙස සැලකේදැයි හා දේශීය බව පෙන්වා දීම සඳහා විවිධ සාක්ෂි මට්ටමක් නොමැතිව පිටුවේ ස්වභාවය පිළිබඳව සඳහන් කර ඇත.</li> <li>රූප පැහැදිලි, ක්‍රමවේදය වැඩි වූ දේශීයත්වයක් කුල සැකසීමක් කර ඇති අතර, ඉතිහාසාත්මක හා ආර්ථිකාත්මක අවබෝධයන් පිළිබඳ සැලකීමක් ඇති කරයි.</li> </ul>	<p><b>ආකෘතිය</b></p> <ul style="list-style-type: none"> <li>ක්‍රි.ව 1510 - 1511 ලියන ලද.</li> <li>විද්‍යාත්මක ස්වභාවය කතාකෘතියක් ලෙස සැලකේ.</li> <li>ඉහළ පුනරුද්ධ කලාවේ ලියන ලද කලා කෘතියකි.</li> <li>පරමාදර්ශී සාක්ෂි මට්ටම, පැහැදිලි ස්වභාවයක් සාක්ෂි මට්ටමක් ලෙස සැලකේ.</li> <li>මෙම පිටුවේදී දේශීය බවක් පෙන්වා දීම සඳහා මට්ටමක් සහ ස්වභාවයක් සඳහා විකෘත වේ.</li> <li>පිටුවේ ස්වභාවයක් කර ඇත්තේ කුල විකෘතියකි.</li> <li>මානව රූප ක්‍රමෝපායයන් සාක්ෂි මට්ටමක් කුල නිර්මාණයක් කර ඇත.</li> <li>මුල් පිටුවක් දැඩි ස්වභාවයක් මත නිර්මාණය කර ඇත. ස්වභාවය පිළිබඳ කතාත්මක මනුෂ්‍යත්වයක් ලෙස සැලකේ.</li> </ul>
<p><b>මානව හා ආර්ථික ආකෘතිය</b></p> <p><b>කලා ලක්ෂණ මත විකෘතිය</b></p> <ul style="list-style-type: none"> <li>ලියකාරීන් විසින් ලියන ලද කුල සැකසීමක් ලෙස සැලකේ. කතාකෘතියක් ලෙස (Chiasmus) විකෘත කුමක් ලෙස සැලකේ. කලාත්මක ස්වභාවයක් ලෙස සැලකේ.</li> <li>මෙම පිටුවේදී ස්වභාවය, පැහැදිලි, පසුබිම් හා දායක කලා මට්ටමක් සාක්ෂි මට්ටමක් ලෙස සැලකේ. මානව හා ආර්ථික ස්වභාවයක් ලෙස සැලකේ.</li> <li>කලාත්මක, දායක සහ මානවත්වය මානවත්වය ලෙස සැලකේ. දේශීය ස්වභාවයක් ලෙස සැලකේ. මට්ටමක් ලෙස සැලකේ. මට්ටමක් ලෙස සැලකේ.</li> </ul>	<p><b>කලා ලක්ෂණ</b></p> <ul style="list-style-type: none"> <li>ආර්ථික මූලධර්මයක් ලෙස සැලකේ. කතාකෘතියක් ලෙස සැලකේ. කලාත්මක ස්වභාවයක් ලෙස සැලකේ.</li> <li>ආර්ථික මූලධර්මයක් ලෙස සැලකේ. කතාකෘතියක් ලෙස සැලකේ. කලාත්මක ස්වභාවයක් ලෙස සැලකේ.</li> <li>ආර්ථික මූලධර්මයක් ලෙස සැලකේ. කතාකෘතියක් ලෙස සැලකේ. කලාත්මක ස්වභාවයක් ලෙස සැලකේ.</li> </ul>

මානව හා ආර්ථික ආකෘතිය මත විකෘතිය

ශ්‍රී ලංකා විභාග දෙපාර්තමේන්තුව ශ්‍රී ලංකා විභාග දෙපාර්තමේන්තුව ශ්‍රී ලංකා විභාග දෙපාර්තමේන්තුව ශ්‍රී ලංකා විභාග දෙපාර්තමේන්තුව ශ්‍රී ලංකා විභාග දෙපාර්තමේන්තුව  
 Department of Examinations, Sri Lanka Department of Examinations, Sri Lanka Department of Examinations, Sri Lanka Department of Examinations, Sri Lanka Department of Examinations, Sri Lanka  
 இலங்கைப் பரீட்சைத் திணைக்களம் இலங்கைப் பரීட்சைத் திணைக்களம் இலங்கைப் பரීட்சைத் திணைக்களம் இலங்கைப் பரීட்சைத் திணைக்களம் இலங்கைப் பரීட்சைத் திணைக்களம்  
 Department of Examinations, Sri Lanka

අධ්‍යයන පොදු සහතික පත්‍ර (උසස් පෙළ) විභාගය, 2025  
 கல்விப் பொதுத் தராதரப் பத்திர (உயர் தர)ப் பரீட்சை, 2025  
 General Certificate of Education (Adv. Level) Examination, 2025

විභූ කලාව II  
 சித்திரக்கலை II  
 Art II

51 S II

පැය තුනයි  
 மூன்று மணித்தியாலம்  
 Three hours

අමතර කියවීමේ කාලය - මිනිත්තු 10 යි  
 மேலதிக வாசிப்பு நேரம் - 10 நிமிடங்கள்  
 Additional Reading Time - 10 minutes

අමතර කියවීමේ කාලය ඔබ ඉදිරියේ තබා ඇති ද්‍රව්‍ය සමූහය හෙදින් අධ්‍යයනය කිරීම සඳහා යොදාගන්න.

- උපදෙස්:
- ඔබේ විභාග අංකය, ඔබ විභූය අදින කඩදාසියේ පසුපසින් පැහැදිලිව ලියන්න.
  - ඔබ වෙත සපයා ඇති විශේෂ ඇඳීමේ කඩදාසිය (Drawing paper) වර්ණ විභූය ඇඳීම සඳහා භාවිත කරන්න. වෙනත් කිසිම විභූයක් හෝ අධ්‍යයන සටහනක් ඇඳීම අවශ්‍ය නොවේ.
  - ඔබගේ විභූය විභාග ශාලාධිපතිට භාර දෙන විට එය සම්පූර්ණයෙන් ම වියළි තිබීම වැදගත් ය. තෙත් විභූ එකිනෙකට ඇලීමට ඉඩ ඇති බැවින්, එය ඔබට අවාසිදායක විය හැකි ය.

ස්වභාවිකත්ව අධ්‍යයනය හා නිශ්චල ද්‍රව්‍ය සම්පිණ්ඩනය

පහත සඳහන් උපදෙස් සැලකිල්ලට ගෙන ඔබ ඉදිරියේ තබා ඇති ද්‍රව්‍ය සමූහය ඇඳ, වර්ණ කරන්න.

- \* කඩදාසියේ තලය, අර්ථවත්ව භාවිත කරමින් විභූය සම්පිණ්ඩනය කරන්න.
- \* ද්‍රව්‍යයන්ගේ ගතිලක්ෂණ, මතුපිට ස්වභාවය, පරිමාණය, ඈස් මට්ටම, ක්‍රිමාණ ලක්ෂණ හා පර්යාලෝක රිකි පිළිබඳ සැලකිලිමත් වන්න.
- \* ද්‍රව්‍ය සමූහය ඔබට පෙනෙන ආකාරයට ඇඳ, ඒ මත ආලෝකය හා අඟුර පතිත වී ඇති අසුරු සැලකිල්ලට ගෙන වර්ණ කරන්න.
- \* වර්ණ මාධ්‍යය හැසිරවීමේ ශිල්ප ක්‍රම අර්ථවත්ව භාවිත කරන්න.
- \* ද්‍රව්‍ය සමූහයට ගැලපෙන පරිදි වර්ණවත් පසුබිමක් යොදන්න.
- \* ද්‍රව්‍ය සමූහය තබා ඇති ධාරකයේ (ෆ්‍රේම්) පරිමාණය ද්‍රව්‍ය සම්පිණ්ඩනයට ගැලපෙන පරිදි වෙනස් කරගැනීමට හැකි ය.
- \* දිය සායම්, පෝස්ටර් සායම්, කුඩු සායම්, පැස්ටල් යන එක් මාධ්‍යයක් හෝ මාධ්‍ය කිහිපයක් මිශ්‍රිතව හෝ භාවිත කළ හැකි ය.

\*\*\*



සැලකිය යුතුයි.

චිත්‍ර කලාව 11 හා 111 පත්‍ර සඳහා පිළිතුරු සැපයීමේදී විභාග දෙපාර්තමේන්තුව විසින් ගිවිස ගත් සභා ආකාර අනුකූල අභ්‍යන්තර පරීක්ෂණ කිරීමෙන් ගුණාත්මක ආකෘතිමය ප්‍රවේශයක් හා උපදේශනයක් ලබාගත හැකිය. එහි දක්වා ඇති උපදර්ශන අනුව ලකුණු ප්‍රදානය කිරීමේ දී නිර්ණායක පදනම් කර ගැනීම අත්‍යවශ්‍ය වේ.

11. පත්‍රය - නිදහස් රේඛාමය ඇඳීම හා වර්ණ චිත්‍ර සම්පිණ්ඩනය

අභිමතාර්ථ

- 1 - ස්වභාවික හා නිර්මිත වස්තූන්ගේ ස්වභාවය හා හැඩය තේරුම් ගැනීමේ හැකියාව හා සිද්ධාන්ත භාවිතය පිළිබඳ කුසලතාව හා ක්‍රමලේඛ භාවිතය මැන බැලීම.
- 2 - රේඛා මාධ්‍ය භාවිතයෙන් වස්තූන්ගේ ගති ලක්ෂණ නිරූපණය වන සේ ප්‍රකාශ කිරීමේ හැකියාව හා සම්පිණ්ඩනය කිරීමේ හැකියාව මැන බැලීම.
- 3 - වර්ණ භාවිත කිරීමේ ක්‍රම ලේඛ හා වස්තූන්ගේ ගති ලක්ෂණ මතුපිට සේ වර්ණ භාවිතය පිළිබඳ හැකියාව මැන බැලීම.

11. එක පත්‍රය සඳහා අපේක්ෂාකර ඇඳ ඇත්තේ එක් වර්ණ චිත්‍රයක් පමණි. මෙයින් ද්‍රව්‍ය සමූහය ඇසුරෙන් යථාරූපී චිත්‍රයක් ඇඳ වර්ණ කර නිම කිරීම අපේක්ෂා කෙරේ. මේ සඳහා ලකුණු ප්‍රදානය කිරීමේ දී අදාළ නිර්ණායකයන් යටතේ ම ලකුණු තීරණය කළ යුතු වේ. එකිනෙක නිර්ණායකයන් යටතේ අපේක්ෂාකරා කොතෙක් දුරට ලොව වි ඇත්දැයි නිවැරදි තීරණයකට එළඹීම ලකුණු තීරණය කළ මැනවි. මෙහි දී තම රැකියා අනුව චිත්‍රය ආකෘතිමය භාජනය නොකළ යුතු අතර අපේක්ෂාකරා පදාර්ථය කර ඇති කුසලතා තේරුම් ගෙන එය පදනම් කරගෙන ආකෘතිම කළ යුතු වේ.

ලකුණු දීමේ නිර්ණායක

- 1 - ද්‍රව්‍ය සමූහය තලය මත අර්ථවත්ව සංරචනය කිරීමේ හැකියාව - ලකුණු 20
  - 2 - ද්‍රව්‍යයන්ගේ පරිමාණ හා ස්වභාවය ප්‍රකාශ කිරීමේ හැකියාව - ලකුණු 20
  - 3 - සිද්ධාන්ත භාවිතය පිළිබඳ අවබෝධය (පරිපූර්ණය, ක්‍රමාණ ලක්ෂණ, ඇස්මට්ටම්, අවකාශ භාවිතය) - ලකුණු 20
  - 4 - වර්ණ භාවිතය හා ගති ලක්ෂණ දැක්වීම - ලකුණු 20
  - 5 - චිත්‍රයේ පසුතලය ඇතුළු සම්පූර්ණ නිමාව - ලකුණු 20
11. එක ප්‍රශ්න පත්‍රය සඳහා මුළු ලකුණු - ලකුණු 100



සියලු හිමිකම් ඇවිරිණි/முழுப் பதிப்புரிமையுடையது/All Rights Reserved

ශ්‍රී ලංකා විභාග දෙපාර්තමේන්තුව ශ්‍රී ලංකා විභාග දෙපාර්තමේන්තුව ශ්‍රී ලංකා විභාග දෙපාර්තමේන්තුව ශ්‍රී ලංකා විභාග දෙපාර්තමේන්තුව ශ්‍රී ලංකා විභාග දෙපාර්තමේන්තුව  
Sri Lanka Department of Examinations, Sri Lanka Department of Examinations, Sri Lanka Department of Examinations, Sri Lanka Department of Examinations, Sri Lanka

අධ්‍යයන පොදු සහතික පත්‍ර (උසස් පෙළ) විභාගය, 2025  
கல்விப் பொதுத் தராதரப் பத்திர (உயர் தர)ப் பரீட்சை, 2025  
General Certificate of Education (Adv. Level) Examination, 2025

විභූ කලාව III  
சித்திரம் III  
Art III

51 S III

පැය තුනයි  
மூன்று மணித்தியாலம்  
Three hours

අමතර කියවීමේ කාලය - මිනිත්තු 10 යි  
மேலதிக வாசிப்பு நேரம் - 10 நிமிடங்கள்  
Additional Reading Time - 10 minutes

අමතර කියවීමේ කාලය ප්‍රශ්න පත්‍රය කියවා ප්‍රශ්න තෝරා ගැනීමටත් පිළිතුරු ලිවීමේ දී ප්‍රමුඛත්වය දෙස ප්‍රශ්න ගංවිධානය කර ගැනීමටත් යොදාගන්න.

උපදෙස්:

- \* පිටතින් විභාග අංකය හා තෝරාගත් ප්‍රශ්න අංකය එක වනුයේ අදින කඩදාසියේ පසුපසින් පැහැදිලි ව ලියන්න.
- \* දිය සායම්, පෝස්ටර් සායම්, කුඩු සායම්, පැස්ටල් යන එක් මාධ්‍යයක් හෝ මෙම මාධ්‍යයක් කිහිපයක් මිශ්‍රිත ව හෝ භාවිත කළ හැකි ය.
- \* අවශ්‍ය අයට විෂ්‍ර කඩදාසි සපයනු ලැබේ.
- \* වික්‍රය භාර දෙන විට, එය සම්පූර්ණයෙන් ම වියළි කිරීම වැදගත් ය. තෙත් වනු එකිනෙකට ඇලීමට ඉඩ ඇති බැවින් එය පිටතින් ආවරණයක විය හැකි ය.

පහත සඳහන් අ. ආ සහ ඉ යන කොටස් තුන අතුරෙන් එක් මාතෘකාවක් පමණක් තෝරාගෙන, වර්ණ වික්‍රයක් නිර්මාණය කරන්න.

'අ' කොටස - විභූ සංරචනය

1. පිළිවිඳි රූපයක් මැදි වූ සංචාරකයින් පිරිසක්
2. ගැමි පරිසරයක දෙවන නාට්‍යයක් රූපයක් කරන අවස්ථාවක්
3. දත්තලයක් මත සිත්ගත් අවස්ථාවක්
4. දැඩි වර්ෂාව හා සුළඟින් පීඩා විඳින පදිකයින්

'ආ' කොටස - මෝස්තර නිර්මාණය

5. විෂ්කම්භය අඩි 4ක් වූ වෘත්තාකාර මේසයකට සුදුසු පැත්තක් අඩි 6ක් වූ සමපච්ඡායාකාර මේස රෙද්දක් පිටුපසින් පාදක කොට ගෙන මාත්තාකාරව විහිදී යන අයුරින් මුළුතල මොස්තරයක් සාම්ප්‍රදායික උද්ඛිද හා සක්ස්ව නැඟිතල ඇසුරෙන් සැලසුම් කර වර්ණ කරන්න. (ප්‍රමාණය පරිමාණානුකූලව සකසා ගන්න.)
6. යානවාහනවල නැඟිතල කිහිපයක් මෝස්තර ඒකකයක් ලෙස භාවිත කර කම්ප රෙද්දක් සඳහා සුදුසු ව්‍යාප්ත මෝස්තරයක් 9" x 9" (අඟල්) ප්‍රමාණයට සැලසුම් කර වර්ණ ගන්වන්න.
7. ජලජ ජීවී සංරක්ෂණ ජාතික මට්ටමේ වැඩිමුළුවන පිටිසීමේ දොරටුව ඉදිරියේ ප්‍රදර්ශනය කිරීමට උචිත 6' x 12' (අඩි) ප්‍රමාණයේ පනාකයක් සැලසුම් කර වර්ණ ගන්වන්න. (ප්‍රමාණය පරිමාණානුකූලව සකසා ගන්න.)

'ඉ' කොටස - ග්‍රැෆික් විභූ නිර්මාණය

8. 'අහිමි සෙහෙණස' නමින් ලියැවුණු නිසදැස් කවි පෙළක් සඳහා එහි අන්තර්ගතය විග්‍රහ වන පරිදි සන්තීදර්ශන වික්‍රයක් ව්‍යුත්පන්නව නැඟිතල ඇසුරෙන් නිර්මාණය කරන්න.
9. 'ප්‍රාග් ඓතිහාසික විභූ කලාව' නමින් ලියැවුණු ඡායානකට සුදුසු පිටි කවරයක් සැලසුම් කර වර්ණ කරන්න. (මුල් පිටුව, ඝනකම හා පසු පිටුව ඇතුළත් විය යුතු ය.)
10. දේශීයව නිෂ්පාදිත කාන්තා සුවඳ විලවුන් බෝතලයක් විදේශීය වෙළෙඳපොළට නඟුන්වාදීමට උචිත ආකාරයේ ඇසුරුමක් විකසනය දැක්වෙන අයුරින් සැලසුම් කර වර්ණ ගන්වන්න.

\*\*\*