

පාසල්වලට සිසුන් තෝරා ගැනීමට සහ ශිෂ්‍යාධාර ප්‍රදානය කිරීමට පස්වන ශ්‍රේණියේ ශිෂ්‍යත්වයට සුදානම් වන තුන්වන ශ්‍රේණියේ සිසුන් සඳහා ශිෂ්‍යත්ව පෙරහුරු පරීක්ෂණය

REHEARSAL TEST FOR THE GRADE THREE STUDENTS WHO ARE GETTING READY FOR THE GRADE FIVE SCHOLARSHIP EXAMINATION FOR SELECTION TO SCHOOLS AND AWARD OF BURSARIES

18-01

1 පත්‍රය

කාලය - මිනිත්තු 45 යි

උත්තර පත්‍ර පරීක්ෂකවරුන් සඳහා පමණි.

පිටු අංකය	ලැබූ ලකුණු
02	
03	
04	
05	
06	
07	
08	
එකතුව	

අවසාන ලකුණු

ඉලක්කමෙන්	
අකුරෙන්	

සංකේත අංකය

උත්තර පත්‍ර පරීක්ෂක	
ලකුණු පරීක්ෂක	
ගණිත පරීක්ෂක	
අධීක්ෂක	

විභාගයට පෙනී සිටින ඔබ සඳහා උපදෙස් :-

◆ ඔබේ විභාග අංකය මේ කොටුව තුළ ඇති තිත් ඉර මත ලියන්න.

විභාග අංකය :

◆ මෙම ප්‍රශ්න පත්‍රයේ ප්‍රශ්න 40 ක් ඇත. ප්‍රශ්න සියල්ලටම පිළිතුරු මෙම පත්‍රයේ ම සපයන්න.

◆ තුන්වන පිටුවේ ඇති නියමිත ස්ථානයේ ද ඔබේ විභාග අංකය ලියන්න.


◆ දී ඇති උපදෙස් අනුව ප්‍රශ්න සියල්ලටම පිළිතුරු මෙම පත්‍රයේ ම සපයන්න.

◆ කටුවැඩ කිරීම සඳහා කඩදාසියක් සපයනු ලැබේ.



- පහත දැක්වෙන රූප සමඟ සම්බන්ධතාව වැඩිම පිළිතුර තෝරා ඊට යටින් ඉරක් අඳින්න.

01.



- (1) ප්‍රෝටීන්
- (2) පිෂ්ටය
- (3) විටමින්

02



- (1) නත්තල්
- (2) පොයොන්
- (3) දීපවාලි

03.



- (1) මනු කියවන්නා
- (2) පොලිස් නිලධාරියා
- (3) තැපැල්කරු

04.



- (1) කපේරුක
- (2) බන්ගස
- (3) තල් ගස

- නිවැරදි පිළිතුර තෝරා යටින් ඉරක් අඳින්න.

05.

$$12 + 12 + 9 = \square$$


- (1) 33
- (2) 32
- (3) 34

06.


$$5 \times 5 - 13 = \square$$

- (1) 10
- (2) 12
- (3) 13

- දී ඇති පළතුරුවල මිල දෙස බලා නිවැරදි පිළිතුර තෝරා යටින් ඉරක් අඳින්න.



ඇපල්
රුපියල් 20.00



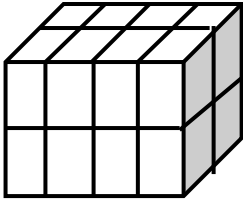
අඹ
රුපියල් 50.50

07. ඇපල් ගෙඩියක හා අඹ ගෙඩියක මිල වන්නේ,
 (1) රුපියල් 70.50 (2) රුපියල් 70.00 (3) රුපියල් 60.50
08. අඹ ගෙඩි දෙකක හා ඇපල් ගෙඩියක මිල වන්නේ,
 (1) රුපියල් 101.00 (2) රුපියල් 121.00 (3) රුපියල් 120.50
09. රුපියල් 100.00 ක් දී ඇපල් ගෙඩි දෙකක් මිලට ගන්නේ නම් ඉතිරි වශයෙන් ලැබෙන මුදල වන්නේ,
 (1) රුපියල් 80.00 (2) රුපියල් 60.00 (3) රුපියල් 90.00

- නිවැරදි පිළිතුර තෝරා යටින් ඉරක් අඳින්න.

10. රුපියල් පහේ කාසි හතරකත් රුපියල් දෙකේ කාසි දෙකකත් අගය වන්නේ,
 (1) රුපියල් 20.00 (2) රුපියල් 24.00 (3) රුපියල් 22.00
11. 90 ට 5 ක් එකතු කර ලැබෙන පිළිතුරෙන් 8 ක් අඩු කළ විට ලැබෙන්නේ,
 (1) 97 (2) 95 (3) 87
12. එකේ ඒවා 1 ක් ද සියයේ ඒවා 3 ක් ද දහයේ ඒවා හතරක් ද දාහේ ඒවා 5 ක් ද සමාන වන්නේ,
 (1) 5 431 (2) 3 541 (3) 5 341

13.



මෙම ඝනකය පෙන්වා ඇති ඉරි දිගේ කැපූ විට ලැබෙන කුඩා ඝනක සංඛ්‍යා ගණන වන්නේ,

- (1) 8
- (2) 16
- (3) 10

14.

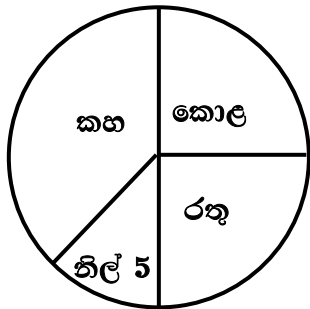
91	84	63
35	37	24
56	47	A

මෙහි A ට ගැලපෙන පිළිතුර වන්නේ,

- (1) 39
- (2) 49
- (3) 29

15.

මෙම ප්‍රස්තාරයේ දැක්වෙන්නේ පන්තියක ළමුන් කැමති පාට පිළිබඳ තොරතුරකි. ඒ අනුව කොළ පාටට කැමති ළමුන් ගණන වන්නේ,



- (1) 5
- (2) 15
- (3) 10

16.

දෙමළ භාෂාවෙන් “ඔත්පදු” යනුවෙන් සඳහන් කරන ඉලක්කම වන්නේ,

- (1) හන
- (2) නවය
- (3) පහ

17.

ශාක පත්‍ර මගින් මුල් අද්දවා ගත හැකි ශාකයකි.

- (1) පෙපරෝමියා
- (2) දෙල්
- (3) වෙරළ

18.

විශාල බරක් ඔසවා ගෙන යාමට භාවිත කරන්නේ,

- (1) දොඹකරය
- (2) අලවංගුව
- (3) විල්බැරෝව

19.

ගෙමබාගේ බිත්තරවල වර්ණය,

- (1) සුදු
- (2) කහ
- (3) කළු



20. වියගහ භාවිතා කරන්නේ,

- (1) ගොවියා
- (2) පෙදරේරුවා
- (3) වඩු කාර්මිකයා

21. වැඳි ජනතාව සහභාගී වන මහියංගන පෙරහැර හඳුන්වන තවත් නමක් වන්නේ,

- (1) දොඩම් පෙරහැර
- (2) ඇසල පෙරහැර
- (3) අඹ පෙරහැර

22. වැටකට සිටවීමට සුදුසු ශාක වර්ගයකි.

- (1) කොස්
- (2) පුවක්
- (3) එඬරු

23. පත්‍රයේ කටු දැකිය හැකි ශාකයකි.

- (1) එළබටු
- (2) කොස්
- (3) වැල්දොඩම්

• මූලින් දී ඇති වචනයට සමාන අර්ථය නොදෙන වචනය තෝරා යටින් ඉරක් අඳින්න.

24. උදව්ව - උපකාරය , පිහිට , සතුට

25. පොත - ග්‍රන්ථය , පුස්තකය , පිටුව

• නිවැරදි පිළිතුර තෝරා යටින් ඉරක් අඳින්න.

26.

$61 - 34 + 9$


මෙයට සම කළ හැකි පිළිතුර වන්නේ,

- (1) 26
- (2) 36
- (3) 34

27. බාගයක් පාට කළ ඇති රූපය වන්නේ,



(1)



(2)



(3)



28. වට්ටක්කා 1 kg ක මිල රුපියල් 60.00 කි 500 g ක මිල වන්නේ,

- (1) රුපියල් 50.00 (2) රුපියල් 30.00 (3) රුපියල් 120.00

- පහත මිල දර්ශනය හොඳින් නිරීක්ෂණය කරන්න. ඒ ඇසුරෙන් අසා ඇති ප්‍රශ්නවලට පිළිතුරු සපයන්න.

ද්‍රව්‍යය	ප්‍රමාණය	මිල
පැන්සල්	01	රු. 12.00
පැන්	01	රු. 20.00
පොත්	01	රු. 45.00
මකන	01	රු. 4.50
කටර්	01	රු. 8.50

29. පැන්සලක සහ පොතක මිල වන්නේ,

- (1) රුපියල් 57.00 (2) රුපියල් 58.00 (3) රුපියල් 56.00

30. මකන දෙකක මිල වන්නේ,

- (1) රුපියල් 8.50 (2) රුපියල් 9.00 (3) රුපියල් 9.50

- නිවැරදි පිළිතුර තෝරා යටින් ඉරක් අඳින්න.

31. මුඛවෝ වැව අසින් දිය බොනි.

වැව දෙපස ගස්වලින් පිරී ඇත.

ඉඳ හිට සත්තු කෑ ගසනි.

මෙයට ගැලපෙන ස්ථානය වන්නේ,

- (1) මුහුදු වෙරළ (2) වනාන්තරය (3) සත්තු වත්ත



32. ධාවන තරගයෙන් ප්‍රථම ස්ථානය ලබා ගන්නේ,
 හිස්තැනට වඩාත් ගැලපෙන වචනය වන්නේ,

- (1) ගස (2) ක්‍රීඩකයා (3) රෝගියා

33. නිවැරදි අක්ෂර සහිත පිළිතුර වන්නේ,

- (1) නණකොල (2) ලදරුවා (3) ශාකය

34. වැරදි අක්ෂර සහිත පිළිතුර වන්නේ,

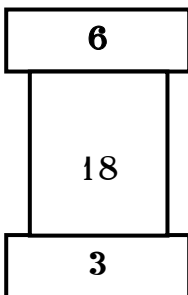
- (1) රුධිරය (2) වලාකුළු (3) සරීරය

35. පිෂ්ටය වැඩි පුර ම ඇති ආහාරයකි.

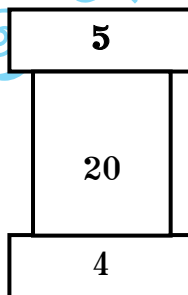
- (1) පොල් (2) යෝගට් (3) දෙල්

• රටාව අනුව හිස්තැනට ගැලපෙන පිළිතුර තෝරා, යටින් ඉරක් අඳින්න.

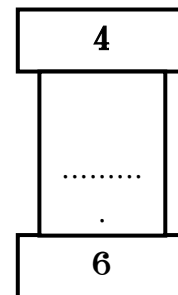
36.



(1) 10

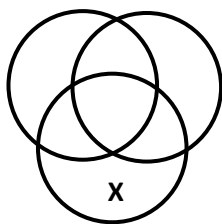


(2) 24

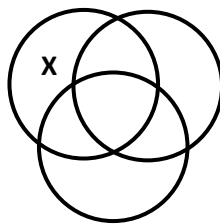


(3) 36

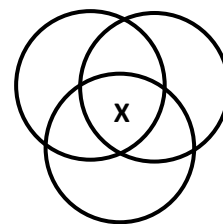
37. පහත දැක්වෙන රූප අතරින් වෙනස් රූපය තෝරන්න.



(1)



(2)



(3)

• නිවැරදි පිළිතුර තෝරන්න.

38. පහත පලතුරු අතරින් විශාල ම පලතුර වන්නේ,

- (1) අඹ (2) ලොව් (3) කොමඩු

39. ධාන්‍ය වර්ගවල සිදුරු ඇති කරන සත්ත්වයකු වන්නේ,

- (1) ගුල්ලා (2) මෙරුවා (3) දෙබරා

40. මිනිසා කිරි ලබා ගන්නා සත්ත්වයකු වන්නේ,

- (1) එළදෙන (2) ගෝනා (3) මුවා

කුමාර පීරිමේ මිරිම මධ්‍යම විද්‍යාලය