

පාසල්වලට සිසුන් තෝරා ගැනීමට සහ ශිෂ්‍යාධාර ප්‍රදානය කිරීමට පස්වන ශ්‍රේණියේ ශිෂ්‍යත්වයට සූදානම් වන හතරවන ශ්‍රේණියේ සිසුන් සඳහා ශිෂ්‍යත්ව පෙරහුරු පරීක්ෂණය

REHEARSAL TEST FOR THE GRADE FOUR STUDENTS WHO ARE GETTING READY FOR THE GRADE FIVE SCHOLARSHIP EXAMINATION FOR SELECTION TO SCHOOLS AND AWARD OF BURSARIES

I පත්‍රය

1 - 10

කාලය - මිනිත්තු 45 යි

උත්තර පත්‍ර පරීක්ෂකවරුන් සඳහා පමණි.

පිටු අංකය	ලැබූ ලකුණු
02	
03	
04	
05	
06	
07	
08	
එකතුව	

අවසාන ලකුණු

ඉලක්කමෙන්	
අකුරෙන්	

සංකේත අංකය

උත්තර පත්‍ර පරීක්ෂක	
ලකුණු පරීක්ෂක	
ගණිත පරීක්ෂක	
අධීක්ෂක	

විභාගයට පෙනී සිටින ඔබ සඳහා උපදෙස් :-

◆ ඔබේ විභාග අංකය මේ කොටුව තුළ ඇති තිත් ඉර මත ලියන්න.

විභාග අංකය :

◆ මෙම ප්‍රශ්න පත්‍රයේ ප්‍රශ්න 40 ක් ඇත. ප්‍රශ්න සියල්ලටම පිළිතුරු මෙම පත්‍රයේ ම සපයන්න.

◆ තුන්වන පිටුවේ ඇති නියමිත ස්ථානයේ ද ඔබේ විභාග අංකය ලියන්න.

◆ දී ඇති උපදෙස් අනුව ප්‍රශ්න සියල්ලටම පිළිතුරු මෙම පත්‍රයේ ම සපයන්න.

◆ කටුවැඩ කිරීම සඳහා කඩදාසියක් සපයනු ලැබේ.

- රූපයේ දැක්වෙන සතා හොඳින් විස්තර කෙරෙන පිළිතුර තෝරන්න.

01.



- (1) කෘමි, එකමුතු, දෂ්ට
- (2) කෘමි, රෝග, දෂ්ට
- (3) කෘමි, මිතුරු, දෂ්ට

➤ සහන ප්‍රශ්නවල නිවැරදි පිළිතුර යටින් ඉරක් අඳින්න.

02. සූනිල්ට වඩා අනිල් උස නමුත් ඔහු රනිල් තරම් උස නැත. අමල් සූනිල්ට වඩා මිටිය. කමල් අමල්ටත් වඩා මිටි නම් උස අනුව මෙම පස් දෙනා පෙළගැස්වූ විට හරි මැද සිටින්නේ කවුද?

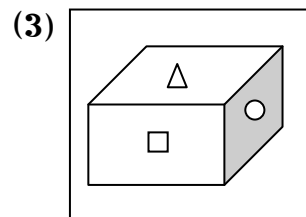
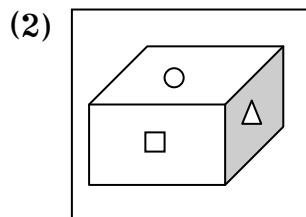
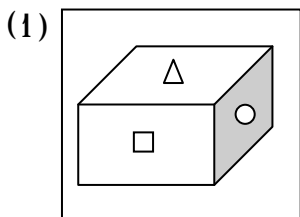
- (1) කමල්
- (2) සූනිල්
- (3) අනිල්

03. අන්නාසි ගෙඩියක් පැපොල් ගෙඩියකට වඩා මිල වේ. ඇපල් ගෙඩිය, නාරං ගෙඩියට වඩා මිල වන නමුත් පැපොල් ගෙඩිය තරම් මිල නොවේ. අඹ ගෙඩියට වඩා නාරං ගෙඩිය මිල වේ නම්, මිල වැඩිම හා අඩුම පලතුරු දෙක පිළිවෙලින්,

- (1) අන්නාසි - අඹ
- (2) අන්නාසි - නාරං
- (3) පැපොල් - නාරං

➤ සහන රූප අතර නිඛෙන වෙනස් රූපය තෝරා යටින් ඉරක් අඳින්න.

04.



➤ මෙම කවියේ ඉරි ඇදී එක් එක් වචනයේ අර්ථයට සමාන වචනය තෝරා යටින් ඉරක් අඳින්න.

රතු පැහැයෙන - නෙත් සනයන

සුවඳ වැහෙන - බිඟු කැඳවන

- 05. පැහැයෙන (1) පාටින (2) මලකින (3) ඵලයකින
- 06. නෙත් (1) කන් (2) අත් (3) ඇස්
- 07. බිඟු (1) සමනල්ලු (2) මී මැස්සෝ (3) බඹරු

➤ දී ඇති පද වාක්‍යවල යෙදෙන්නේ කවර ආකාරයෙන් දැයි දැක්වෙන පිළිතුර තෝරා එහි අංකය වටා රවුමක් අඳින්න.

- 08. අහස - හෙළදිව - මිහිකන
(1) ක්‍රියා පද (2) විශේෂණ පද (3) නාම පද
- 09. සියුමැලි - නැවුම් - අලස
(1) ක්‍රියා පද (2) විශේෂණ පද (3) නාම පද
- 10. ස්වර්ණ - රන් - කනක
(1) ක්‍රියා පද (2) විශේෂණ පද (3) සමාන පද

➤ හිස්තැනට සුදුසු පිළිතුර තෝරන්න.

- 11. පුෂ්පය = මල නම් පොළොව =
(1) ගුවන (2) මිහිකන (3) අහස

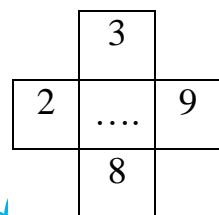
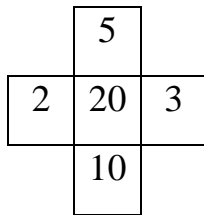
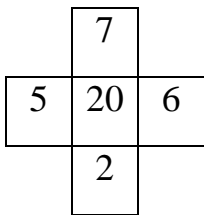
12. බුරුමය = විදීම නම් කියන =

- (1) ගැලවීම (2) කැපීම (3) තද කිරීම

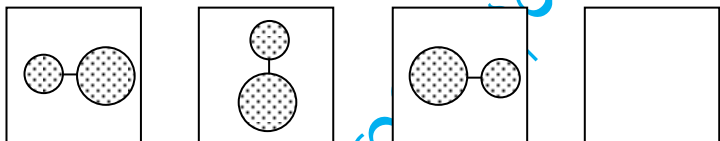
13. ඇතා = කුංචනාදය නම් අශ්වයා =

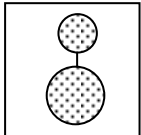
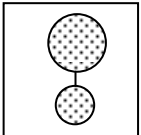
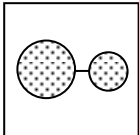
- (1) කල කල නාදය (2) හේෂාරාවය (3) කෙකාරාවය

14. පහත දැක්වෙන සංඛ්‍යා රටාව සම්පූර්ණ කරන්න.



15. හිස් කොටුවට ගැලපෙන රූපය තෝරන්න.



- (1)  (2)  (3) 

➤ පහත දක්වා ඇති පද සඳහා ගැලපෙන තනි පදය තෝරන්න.

16. පොත් පත් කියවීමට ඉතා ලැදි තැනැත්තා

- (1) පොත්ගුල්ලා (2) උන්මත්තකයා (3) පණ්ඩිතයා

17. පොළොව යටින් සාදන ලද මාර්ගය

- (1) පාර (2) උමඟ (3) කනත්ත

18. මළ මිනි හුමදානය කරන තැන

- (1) කනත්ත
- (2) උමහ
- (3) වළ

➤ පහත කෙටි යෙදුම්වලින් කියවෙන නිවැරදි අදහස තෝරන්න.

19. ජා. ඉ. බැ.

- (1) ජාතික ඉතිරි කිරීමේ බැංකුව
- (2) ජාතික ඉතිරි කිරීමේ බැන්කුව
- (3) ජාතික ඉතිරි කිරීමේ බැංකුව

20. ගො. ද. ස.

- (1) ගොඩනැගිලි ද්‍රව්‍ය සංස්ථාව
- (2) ගොඩනැගිලි ද්‍රව්‍ය සංස්ථාව
- (3) ගොඩනැගිලි ද්‍රව්‍ය සංස්ථාව

➤ පහත කොටුව තුළ ඇති අකුරු සහ ඉලක්කම් ඇසුරෙන් අසා ඇති ප්‍රශ්නවලට පිළිතුරු සපයන්න.

ව	T	අ	D	ච	M	E	P	9	L	ඉ	ර
H	9	A	ය	P	අ	E	ඔ	8	හ	A	A

21. මෙහි වැඩියෙන් ම ඇත්තේ

- (1) සිංහල අකුරු ය.
- (2) ඉංග්‍රීසි අකුරු ය.
- (3) අකුරු ය.

22. මෙහි ඇති අකුරු ගණන ඉලක්කම්වලට වඩා

- (1) අඩු ය.
- (2) වැඩි ය.
- (3) සමාන ය.

23. මෙහි වම පස සිට පස්වෙනියට ඇත්තේ

- (1) P
- (2) D
- (3) M

➤ පහත දැක්වෙන ඉහි වැකිවලින් කියවෙන නිවැරදි අදහස තෝරන්න

24. ඇගේ ලේ වතුර වුණා

- (1) යමකට ඉතා ආශා කරන්නා
- (2) හොඳට ම බිය වුණා
- (3) උදේ පාන්දර

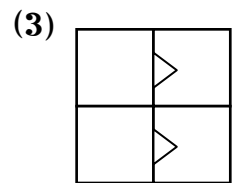
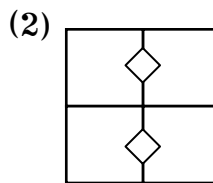
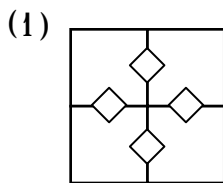
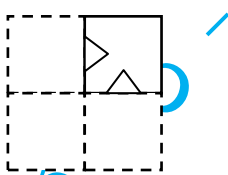
25. හිමිදිරි උදේ

- (1) සවස් යාමය
- (2) හොඳට ම බිය වුණා
- (3) උදේ පාන්දර

26. ඇඹලයා

- (1) යමකට ඉතා ආශා කරන්නා
- (2) හොඳට ම බිය වුණා
- (3) උදේ පාන්දර

27. මූලින් දැක්වෙන රූපය දිගහැරිය විට පෙනෙන නිවැරදි රූපය තෝරන්න.



➤ දී ඇති විස්තරය අනුව සැඟවී ඇති වචනය සොයන්න.

28. මුල් අකුර පැලේ ඇත. වලේ නැත.

දෙවන අකුර දුම්රියේ ඇත. කම්බියේ නැත.

තෙවන අකුර රසයේ ඇත. බසයේ නැත.

❖ පහත වාක්‍යවල ඉරි ඇඳ ඇති පදවලට පිළිවෙලින් ගැලපෙන පිළිතුර තෝරන්න.

29. පොළොවේ සුදු මල් හැලිලා ඉතා අලංකාරය.

- 1. මුහුදේ,ශ්වේත 2. ගගන,ධවල 3. දෙරණේ, ධවල

30. රෝගයට ප්‍රතිකාර ගත් රෝගියා ඇඳ මත දිගා විය.

- 1. යහන,ව්‍යාධියට 2. ලෙඩට,යහන 3. ව්‍යාධියට,පුටුවට

❖ පළමු වචන දෙක අතර ඇති සම්බන්ධය තේරුම් ගෙන ඊළඟ වචනයට ගැලපෙන පිළිතුර තෝරා යටින් ඉරක් අඳින්න.

31. මාළුවාට වරල් නම් කුරුල්ලාට -

- (1) හොට (2) පියාපත් (3) පෙදය

32. බර කිලෝග්රෑම් නම් දුර -

- (1) ලිටර් (2) මීටර් (3) ග්රෑම්

33. ගොවියාට උදැල්ල නම් ලෝකයාට -

- (1) මේසය (2) පැන (3) පොත

❖ නිවැරදි පිළිතුර යටින් ඉරක් අඳින්න.

34. කණ්ණාඩි (1) යුගල (2) කුට්ටම් (3) ජෝඩුව

35. මිනිවැඩි (1) සහල (2) දෙක (3) පාද

➤ පහත දක්වා ඇති පද සඳහා ගැලපෙන තනි පදය තෝරන්න.

36. තමා ගැන පමණක් සිතන

- (1) ආත්මාර්ථකාමියා (2) ආත්මාර්ථකාමි (3) පරාර්ථකාමියා


37. අනුන් ගැන සිතන්නා

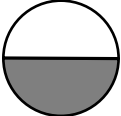
(1) ආත්මාර්ථකාමියා (2) ආත්මාර්ථකාමි (3) පරාර්ථකාමියා

38. මා ලඟ රුපියල් 5.00 කාසි 2 ක් ද, රුපියල් 2.00 කාසි 5 ක් ද, රුපියලේ කාසි 3 ක් ද, ඇත. මා ලඟ ඇති කාසිවල මුළු වටිනාකම වන්නේ

(1) රු.22.00 (2) රු.23.00 (3) රු.25.00

❖ පහත ප්‍රශ්නවල ඇති රූපවල පාට කළ කොටස මුළු රූපයෙන් කීයෙන් පංගුවක්දැයි සඳහන් පිළිතුර තෝරා යටින් ඉරක් අඳින්න.

39.  (1) $\frac{1}{4}$ (2) $\frac{1}{2}$ (3) $\frac{3}{4}$

40.  (1) $\frac{2}{2}$ (2) $\frac{1}{2}$ (3) $\frac{1}{4}$

කුමාර පීර් - මීරිමේ අධ්‍යාපන කොට්ඨාසය