

இலங்கைப் பரீட்சைத் திணைக்களம்

க.பொ.த (உயர் தர)ப் பரீட்சை - 2022 (2023)

21- பொருளியல்

புள்ளியும் திட்டம்



இந்த விலைத்தாள் பரீட்சைக்களின் உபயோகத்துக்காகத் தயாரிக்கப்பட்டது. பிரதம பரீட்சைக்களின் கலந்துரையாடல் நடைபெறும் சந்தர்ப்பத்தில் பரிமாறிக்கொள்ளும் கருத்துக்களுக்கிணங்க, இதில் உள்ள சில விடயங்கள் மாறலாம்.

பாட உள்ளடக்கம்

| | பக்கங்கள் | |
|---|-----------|------|
| வினாப்பத்திர அமைப்பு | i | - ii |
| பொருளியல் வினாப்பத்திரம் I | 01 | - 12 |
| பொருளியல் I இற்கான புள்ளி வழங்கும் திட்டம் | 13 | - 13 |
| பொருளியல் II இற்கான புள்ளி வழங்கும் திட்டம் | 14 | - 50 |

க.பொ.த (உயர் தர)ப் பரீட்சை - 2022 (2023)**21 - பொருளியல்****புள்ளி வழங்கும் விதம்**● **பத்திரம் I**

காலம் 2 மணித்தியாலம்

5 விடைகளைக் கொண்ட 50 பல்தேர்வு வினாக்கள், சகல வினாக்களுக்கும் விடையளித்தல் வேண்டும்.

ஒரு விடைக்கு 01 புள்ளி வீதம் மொத்தப் புள்ளிகள் 50

● **பத்திரம் II**

காலம் 3 மணித்தியாலம்

இப்பத்திரம் 2 பிரிவுகளைக் கொண்டது

(அ) உப பகுதி - கட்டுரை வினாக்கள் - 05

(ஆ) உப பகுதி - கட்டுரை வினாக்கள் 05

குறைந்தது ஒரு பகுதியில் வினாக்கள் 02 வீதம் தெரிவு வினாக்கள் 5 இற்கு விடை எழுதியிருத்தல் வேண்டும். ஒரு வினாவுக்கு 20 புள்ளி வீதம் மொத்த புள்ளிகள் 100.


| | | |
|-------------------------|-------------------------------------|-----|
| இறுதிப் புள்ளி கணித்தல் | பத்திரம் I | 50 |
| | பத்திரம் II | 100 |
| இறுதிப்புள்ளி | $50 + \left(\frac{100}{2}\right) =$ | 100 |


விடைத்தாள்களுக்குப் புள்ளியீடல் - பொது நுட்ப முறைகள்


விடைத்தாள்களுக்குப் புள்ளியிடும் போதும், புள்ளிப்பட்டியலில் புள்ளிகளைப் பதியும் போதும் ஓர் அங்கீகரிக்கப்பட்ட முறையைக் கடைப்பிடித்தல் கட்டாயமானதாகும். அதன்பொருட்டு பின்வரும் முறையில் செயற்படவும்.

1. விடைத்தாள்களுக்குப் புள்ளியிடுவதற்கு சிவப்பு நிற குமிழ்முனை பேனாவை பயன்படுத்தவும்.
2. சகல விடைத்தாள்களினதும் முதற்பக்கத்தில் உதவிப் பரீட்சகரின் குறியீட்டெண்ணைக் குறிப்பிடவும். இலக்கங்கள் எழுதும்போது தெளிவான இலக்கத்தில் எழுதவும்.
3. இலக்கங்களை எழுதும்போது பிழைகள் ஏற்பட்டால் அவற்றைத் தனிக்கோட்டினால் கீறிவிட்டு, மீண்டும் பக்கத்தில் சரியாக எழுதி, சிற்றொப்பத்தை இடவும்.
4. ஒவ்வொரு வினாவினதும் உபபகுதிகளின் விடைகளுக்காக பெற்றுக்கொண்ட புள்ளியை பதியும் போது அந்த வினாப்பகுதிகளின் இறுதியில் Δ இன் உள் பதியவும். இறுதிப் புள்ளியை வினா இலக்கத்துடன் \square இன் உள் பின்னமாகப் பதியவும். புள்ளிகளைப் பதிவதற்கு பரீட்சகர்களுக்காக ஒதுக்கப்பட்ட நிரலை உபயோகிக்கவும்.

உதாரணம் - வினா இல 03

(i) ✓ 

(ii) ✓ 

(iii) ✓ 

(03) (i) $\frac{4}{5}$ + (ii) $\frac{3}{5}$ + (iii) $\frac{3}{5}$ = $\frac{10}{15}$

பல்தேர்வு விடைத்தாள் (துளைத்தாள்)

1. க.பொ.த.உ. தற் மற்றும் தகவல் தொழிநுட்பப் பரீட்சைக்கான துளைத்தாள் திணைக்களத்தால் வழங்கப்படும். சரியாக துளையிடப்பட்டு அத்தாட்சிப்படுத்திய துளைத்தாள் தங்களுக்கு கிடைக்கப்பெறும். அத்தாட்சிப்படுத்திய துளைத்தாளைப் பயன்படுத்துவது பரீட்சகரின் கடமையாகும்.
2. அதன் பின்னர் விடைத்தாளை நன்கு பரிசீலித்துப் பார்க்கவும். ஏதாவது வினாவுக்கு, ஒரு விடைக்கும் அதிகமாக குறியிட்டிருந்தாலோ, ஒரு விடைக்காவது குறியிடப்படாமலிருந்தாலோ தெரிவுகளை வெட்டிவிடக்கூடியதாக கோபொன்றைக் கீறவும். சில வேளைகளில் பரீட்சார்த்தி முன்னர் குறிப்பிட்ட விடையை அழித்துவிட்டு வேறு விடைக்குக் குறியிட்டிருக்க முடியும். அவ்வாறு அழித்துள்ள போது நன்கு அழிக்காது விட்டிருந்தால், அவ்வாறு அழிக்கப்பட்ட தெரிவின் மீதும் கோடிலும்.
3. துளைத்தாளை விடைத்தாளின் மீது சரியாக வைக்கவும். சரியான விடையை ✓ அடையாளத்தாலும் பிழையான விடையை O அடையாளத்தாலும் இறுதி நிரலில் அடையாளமிடவும். சரியான விடைகளின் எண்ணிக்கையை அவ்வவ் தெரிவுகளின் இறுதி நிரையின் கீழ் அத்துடன் அவற்றை கூட்டி சரியான புள்ளியை உரிய கட்டத்தில் எழுதவும்.

கட்டமைப்பு கட்டுரை விடைத்தாள்கள்

1. பரீட்சார்த்திகளால் விடைத்தாளில் வெறுமையாக விடப்பட்டுள்ள இடங்களையும், பக்கங்களையும் குறுக்குக் கோட்டு வெட்டிவிடவும். பிழையான பொருத்தமற்ற விடைகளுக்குக் கீழ் கோட்டிவும். புள்ளி வழங்கக்கூடிய இடங்களில் அடையாளமிட்டு அதனைக் காட்டவும்.
2. புள்ளிகளை ஓவலண்ட் கடதாசியின் இடது பக்கத்தில் குறிக்கவும்.
3. சகல வினாக்களுக்கும் கொடுத்த முழுப் புள்ளியை விடைத்தாளின் முன் பக்கத்திலுள்ள பொருத்தமான பெட்டியினுள் வினா இலக்கத்திற்கு நேராக 2 இலக்கங்களில் பதியவும். வினாத்தாளில் உள்ள அறிவுறுத்தலின் படி வினாக்கள் தெரிவு செய்யப்படல் வேண்டும். எல்லா வினாக்களினதும் புள்ளிகளும் முதல் பக்கத்தில் பதியப்பட்ட பின் விடைத்தாளில் மேலதிகமாக எழுதப்பட்டிருக்கும் விடைகளின் புள்ளிகளில் குறைவான புள்ளிகளை வெட்டி விடவும்.
4. மொத்த புள்ளிகளை கவனமாக கூட்டி முன் பக்கத்தில் உரிய கூட்டில் பதியவும். விடைத்தாளில் வழங்கப்பட்டுள்ள விடைகளுக்கான புள்ளியை மீண்டும் பரிசீலித்த பின் முன்னால் பதியவும். ஒவ்வொரு வினாக்களுக்கும் வழங்கப்படும் புள்ளிகளை உரிய விதத்தில் எழுதுவும்.

புள்ளிப்பட்டியல் தயாரித்தல்

இம்முறை சகல பாடங்களுக்குமான இறுதிப்புள்ளி குழுவினுள் கணிப்பிடப்படமாட்டாது. இது தவிர ஒவ்வொரு வினாப் பத்திரத்துக்குமான இறுதிப்புள்ளி தனித்தனியாக புள்ளிப்பட்டியலில் பதியப்பட வேண்டும். பத்திரம் 1 ற்கான பஸ்தேர்வு வினாப்பத்திரம் மட்டும் இருப்பின் புள்ளிகள் இலக்கத்திலும் எழுத்திலும் பதியப்பட வேண்டும்.

இலங்கைப் பரீட்சைத் திணைக்களம்
 Department of Examinations, Sri Lanka
 இலங்கைப் பரீட்சைத் திணைக்களம்
 Department of Examinations, Sri Lanka

අධ්‍යයන ව්‍යාපෘති සහ (උසස් මට්ටම) විභාගය, 2022 (2023)
 கல்விப் பொதுத் தராதரப் பத்திர (உயர் தர)ப் பரீட்சை, 2022 (2023)
 General Certificate of Education (Adv. Level) Examination, 2022 (2023)

පාඨක විෂය I
 பொருளியல் I
 Economics I



පැය දෙකයි
 இரண்டு மணித்தியாலம்
 Two hours

அறிவுறுத்தல்கள்:
 * எல்லா வினாக்களுக்கும் விடை எழுதுக.
 * விடைத்தாளில் தரப்பட்டுள்ள இடத்தில் உமது கட்டுண்ணை எழுதுக.
 * விடைத்தாளின் மறுபக்கத்தில் தரப்பட்டுள்ள அறிவுறுத்தல்களைக் கவனமாக வாசித்துப் பின்பற்று.
 * 1 தொடக்கம் 50 வரையிலான வினாக்கள் ஒவ்வொன்றாகும் (1), (2), (3), (4), (5) என இலக்கமிடப்பட்ட விடைகளில் சரியான அல்லது மிகப் பொருத்தமான விடையைத் தெரிந்தெடுக்க. அதனைக் குறித்து நிற்கும் இலக்கத்தைத் தரப்பட்டுள்ள அறிவுறுத்தல்களுக்கு அமைய விடை தாளில் புள்ளி (x) இடுவதன் மூலம் காட்டுக.

- பொருளியலின் மையப்பிரச்சினை யாவது?
 - (1) நியாயமான வரி முறைமையினை தரப்படுதலும்
 - (2) ஒவ்வொரு பிரச்சிக்கும் ஒரு குறிப்பிட்ட உறுதிப்படுத்துதல்தரும்
 - (3) விருப்பங்களைப் பூர்த்தி செய்வதற்காக அந்நேரமான உற்பத்தி விளைவுகளை உதவுகிற செய்வதாகும்.
 - (4) விளைவுகளை மிகவும் பயன்பாட்டுக்கு உட்படுத்தாமல் தடுக்கும் சட்டங்களை இயற்றுவதாகும்
 - (5) விளைவுகளை விளைவுக்காமல் பொருட்களையும் சேவைகளையும் உற்பத்தி செய்வதாகும்.
- பின்வருவனவற்றுள் உற்பத்தி இயல்தகவு வளையியில் வெளிப்புற அல்லது எப்படி இடப்பெயர்வை ஏற்படுத்துவது?
 - (1) வேலையின்மையில் ஏற்படும் ஒரு அதிகரிப்பு
 - (2) பணவீக்கத்தில் ஏற்படும் ஒரு அதிகரிப்பு
 - (3) மூலதனப் பொருள்களின் வையிருப்பில் ஒரு அதிகரிப்பு
 - (4) இயற்கை வளங்களில் ஏற்படும் ஒரு வீழ்ச்சி
 - (5) உற்பாட்டாளர்களின் எண்ணிக்கையில் ஏற்படும் ஒரு வீழ்ச்சி
- பின்வருவனவற்றுள் உற்பத்தி இயல்தகவு வளையியைப் பயன்படுத்திக் களப் முடியாதது.
 - (1) நுகர்வேன் கேள்வி ஆகும்
 - (2) சந்தவிய வெளியீடு ஆகும்.
 - (3) பொருளாதார வளர்ச்சி ஆகும்.
 - (4) அமைவச் செலவு ஆகும்.
 - (5) வேலையின்மை ஆகும்.
- பின்வருவனவற்றுள் சமூக சநவதப் பொருளாதாரம் ஒன்றின் பண்பாக அமைவது எது?
 - (1) சகல வளங்களினதும் தனி யார உரிமை
 - (2) சகல வளங்களினதும் பொதுநலனார் உரிமை
 - (3) விலைப் பொதிமுறையில் தொழிற்பாடு தொடர்பில் ஒழுங்குறுத்தல் கட்டமைப்பு காணப்படாமல்
 - (4) நடைமுறைச் சேவைகளை வழங்குவதில் அரசாங்கம் தனி மரக ஈடுபடல்
 - (5) அடிப்படைப் பொருளாதாரப் பிரச்சினைகளைத் தடுக்க மத்திய திட்டமிடலைப் பயன்படுத்துதல்
- கடந்த வரும் 15 மில்லியன் தொன் சோளம் உற்பத்தி செய்யப்பட்டு ஒரு தொன் 30 000 ரூபாய்க்கு விற்கப்பட்டு செய்யப்பட்டது. இவ்வரும் 15 மில்லியன் தொன் சோளம் தொன் ஒன்று 25 000 ரூபாய்க்கு விற்கப்பட்டது. கேள்வி மற்றும் நிரம்பலில் ஏற்படும் பின்வரும் மாறுதல்களில் எது இந்நிலையினை ஏற்படுத்தியிருக்கலாம்?

| | கேள்வி | நிரம்பல் |
|-----|------------|-------------|
| (1) | அதிகரிப்பு | அதிகரிப்பு |
| (2) | அதிகரிப்பு | வீழ்ச்சி |
| (3) | வீழ்ச்சி | அதிகரிப்பு |
| (4) | வீழ்ச்சி | வீழ்ச்சி |
| (5) | அதிகரிப்பு | மாறுதலில்லை |

6. ஒரு நுகர்வோன் தனது வருமானம் முழுவதையும் X மற்றும் Y ஆகிய இரு பொருள்களின் கொள்வனவுக்குச் செலவிடுவதாகக் கருதுக. ஏனைய காரணிகள் மாறா நிலையில் நுகர்வோனின் வந்தமானமும் X மற்றும் Y பொருள்களுக்கான விலையும் இரட்டிக்குமானால் நுகர்வோன்

- (1) X மற்றும் Y ஆகிய பொருள்களின் கொள்வனவை இரட்டிப்பார்.
- (2) X பொருளை அதிகமாகவும் Y பொருளை குறைவாகவும் கொள்வனவு செய்வார்.
- (3) X பொருளைக் குறைவாகவும் Y பொருளை அதிகமாகவும் கொள்வனவு செய்வார்.
- (4) X மற்றும் Y ஆகிய இரண்டு பொருள்களையும் குறைந்தளவில் கொள்வனவு செய்வார்.
- (5) X மற்றும் Y பொருள்களின் மூலரை கொள்வனவு செய்து அதே அளவைக் கொள்வனவு செய்வார்.

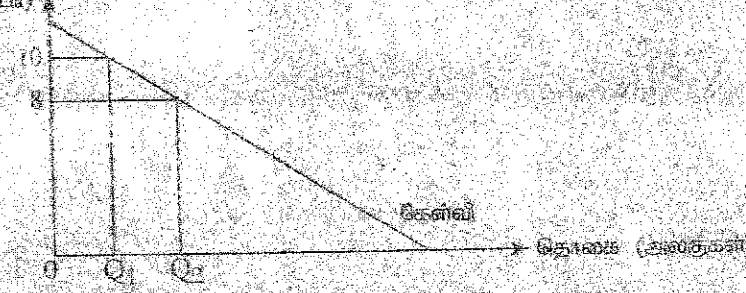
7. இழிவுப் பொருளொன்றின் கேள்வி வளைப்பிடிவானது என கீழ்க்காட்டிய சரிவடைகிறது என்பதை விளக்கப் பின்வருவனவற்றில் எது உதவுகின்றது?

- (1) வந்தமான வளைவற்ற பதிலீட்டு விளைவும் கேள்வித் தொகையை ஒரே திசையில் நகர்த்தும்.
- (2) வந்தமான வளைவானது பதிலீட்டு விளைவுக்கு சமனானது.
- (3) எதிர்க்கணித வருமான விளைவானது பதிலீட்டு விளைவை விஞ்சுகிறது.
- (4) பதிலீட்டு விளைவானது எதிர்க்கணித வருமான விளைவை விஞ்சுகிறது.
- (5) வருமான அதிகரிப்பதன் நுகர்வோர் பொருளின் நுகர்வை அதிகரிப்பார்.

8. X பொருளும் Y பொருளும் நிழம்புப் பொருள்களாகவும் ஏனைய காரணிகள் மாறா நிலையில் Y பொருளின் நிரம்பல்வன் ஏற்படும் ஓர் அதிகரிப்பு X பொருளின் சமநிலை விலையின் மீதும் தொகையின் மீதும் ஏற்படுத்தும் விளைவு யாது?

| | X பொருளின் சமநிலை விலை | X பொருளின் சமநிலைத் தொகை |
|-----|------------------------|--------------------------|
| (1) | விழ்ச்சி | விழ்ச்சி |
| (2) | விழ்ச்சி | அதிகரிப்பு |
| (3) | அதிகரிப்பு | விழ்ச்சி |
| (4) | அதிகரிப்பு | அதிகரிப்பு |
| (5) | விழ்ச்சி | மாற்றமில்லை |

9. குறித்த ஒரு பொருளின் சந்தைக் கேள்வி வளைவி பின்வரும் வரைபடத்தில் காட்டப்பட்டுள்ளது. விலை (ரூபாய்) P



10. நுகர்வோரும் & குடிநீரும் இடம்பிடி விளைபில் கேட்க விரும்புதல் காட்டப்பட்டுள்ள சந்தை வளைப்பிடிவானது.
- (1) பூண்ட நெசியலுடையது.
 - (2) கார்பனில் நெசியலுடையது.
 - (3) கார்பனில் நெசியலுடையது.
 - (4) அனைத்து நெசியலுடையது.
 - (5) பூண்ட நெசியலுடையது.

10. ஒரு பொருள் சந்தையில் விற்கப்படும் குறித்த ஒரு பொருளின் கேள்வி நிரம்பல் வளைப்பின் பின்வரும் சமன்பாடுகளால் பிரதிநிதித்துவப்படுத்தப்படுகின்றன. விலைகள் ரூபாயில் காட்டப்பட்டுள்ளன.

$$\text{கேள்வி: } Q_D = 40 - 2P \qquad \text{நிரம்பல்: } Q_S = -40 + 8P$$

- சந்தை சமநிலையில் உள்ளதாகும் போதில் மிகையின் அளவு
- (1) 35 ஆகும்
 - (2) 144 ஆகும்
 - (3) 180 ஆகும்
 - (4) 192 ஆகும்
 - (5) 360 ஆகும்

11. அரிசிக்கும் பாணாக்கும் இடையிலான குறுக்கு விலை நெகிழ்ச்சி 80 ஆகும் எனக் கொள்வது. அரிசி விலையில் ஏற்படும் ஒரு அதிகரிப்பு பாணாவின் கோள்விலை 75% இனால் அதிகரிக்கச் செய்யும். அரிசி விலையில் ஏற்பட ஏதாவது மாற்றம் இதனை ஏற்படுத்தியிருக்கும்?

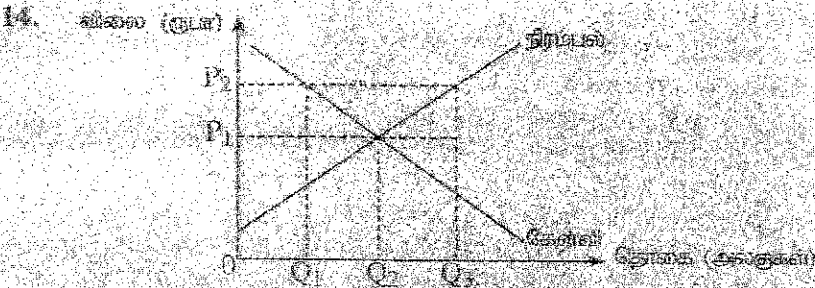
| ஒரு கிலோகிராம் அரிசியின் விலையில் ஏற்படும் மாற்றம்(ரூபா) | | |
|--|---------|-----|
| | இருந்து | வரை |
| (1) | 50 | 70 |
| (2) | 60 | 72 |
| (3) | 75 | 90 |
| (4) | 80 | 105 |
| (5) | 100 | 125 |

12. கோதுமை மாவின் சந்தை சமநிலை விலை கிலோகிராம் ஒன்றிற்கு 350 ரூபாயாகும். சந்தைச் சமநிலைத் தொகை 30 மில்லியன் கிலோகிராமாகும். இந்நிலைமைகளின் கீழ் பின்வருவனவற்றில் சந்தையில் கோதுமை மாவுக்கு மிகக் கோள்விலை ஏற்படுத்தும் கொள்கை எது?

- (1) கிலோகிராம் ஒன்றிற்கு 330 ரூபா உச்ச விலை விதிப்பு
- (2) கிலோகிராம் ஒன்றிற்கு 330 ரூபா குறைந்தபட்ச விலை விதிப்பு
- (3) கிலோகிராம் ஒன்றிற்கு 400 ரூபா உச்ச விலை விதிப்பு
- (4) கிலோகிராம் ஒன்றிற்கு 350 ரூபா குறைந்தபட்ச விலை விதிப்பு
- (5) கிலோகிராம் ஒன்றிற்கு 375 ரூபா உச்ச விலை விதிப்பு

13. கீழ் போடக்கூடிய சந்தைச் சமநிலைக் கோள வரைபடமும் மேல்கோள்களின் செல்லும் நிரம்பல் வளையப்படும் காணப்படும்போது ஒரு பொருளின் மீது விதிக்கப்படும் ஒரு அலகு வரியாவது

- (1) உற்பத்தியாளர் மிகையை அதிகரிக்கும்.
- (2) நுகர்வோர் மிகையை அதிகரிக்கும்.
- (3) நிரம்பல் வளையிலை வலப்புறமாக நகர்த்தும்.
- (4) வரியினாவை விட கூடுதலாக விலையை அதிகரிக்கும்.
- (5) வரியினாவை விட குறைவாக விலையை அதிகரிக்கும்.



மேலுள்ள வரைபடம் சோளத்துக்கான சந்தைக் கோள் நிரம்பல் வளைய்களைக் காட்டுகிறது. சோள விலையினைக்கு உதவ அரசாங்கம் பயனுற்றவாத குறைந்தபட்ச விலையை அறிமுகப்படுத்துவதாகக் கொள்ள பயனுற்ற வாய்ந்த குறைந்தபட்ச விலையாக (PP2) ஐ போண்செல்ல வேண்டியின் அரசாங்கம் என்ன செய்ய வேண்டும்?

- (1) Q1 - Q2 தொகையைக் கொள்வனவு செய்ய வேண்டும்
- (2) 0 - Q2 தொகையைக் கொள்வனவு செய்ய வேண்டும்
- (3) Q1 - Q2 தொகையைக் கொள்வனவு செய்ய வேண்டும்
- (4) Q2 - Q3 தொகையைக் கொள்வனவு செய்ய வேண்டும்
- (5) Q1 - Q2 தொகையைக் விற்பனை செய்ய வேண்டும்

15. குறித்த உற்பத்தி நடவடிக்கை ஒன்றின் உற்பத்தி சந்திரம் மாறுபடக்காரமாகப் பயன்படுத்தப்படுவதாகக் கொள்க. இந்நிறுவனத்தின் வேண்டிய அதிகரிக்கும்போது அதன் குறுங்கால எல்லைச் செலவாகிறது அதிகரிக்கும்படி பின்வருவனவற்றில் எது உண்மையாக இருக்க வேண்டும்?

- (1) உற்பத்தியின் சராசரி உற்பத்தி நிலையாவது.
- (2) உற்பத்தியின் சராசரி உற்பத்தி அதிகரிக்கும்.
- (3) உற்பத்தியின் எல்லை உற்பத்தி உற்பத்தியின் சராசரி உற்பத்தியை விட அதிகமாகும்.
- (4) உற்பத்தியின் எல்லை உற்பத்தி விழ்ச்சியடைபு.
- (5) உற்பத்தியின் பொத்த உற்பத்தி விழ்ச்சியடைபு.

16. பொருளியல் இலாபமானது கணக்கியல் இலாபத்திலிருந்து பின்வருவனவற்றுள் எதுவைச் சிறப்பித்தல் சூலம் கணிப்பிடப்படுகிறது?
- (1) நிலையான செலவுகள் (2) உள்வாங்கு செலவுகள்
(3) பெறுமானத் தேய்வு (4) இலாபமான செலவுகள்
(5) மொத்த செலவுகள்
17. பின்வரும் செலவுகளில் குறுங்காலத்தில் வெளிப்புற அதிகரிக்கும்படித் தொர்ச்சியாக குறைவைடந்து செல்லவு ஏது?
- (1) மொத்த மறுப்பு செலவு (2) மொத்த நிலையான செலவு
(3) சராசரி மறுப்பு செலவு (4) சராசரி நிலையான செலவு
(5) சராசரி மொத்த செலவு
18. ஒரு போட்டி உற்பத்தி திறமையானது தற்போதைய வெளிப்புற மறுப்புத் தரையில் எல்லைச் செலவு 100 ரூபாயாகும். சராசரி மறுப்புச் செலவு 60 ரூபாயாகும். சராசரி நிலையான செலவு 40 ரூபாயாகும். உற்பத்தியின் ஒரு அலகின் விலை 100 ரூபாயாகும். இந்நிலைமை தொடர்பில் பின்வரும் கூற்றுக்களில் உண்மையானது எது?
- (1) விலையானது சராசரி மொத்தச் செலவுக்கு சமமானவாறு பொருளியல் இலாபம் பூர்த்தியடையும்
(2) மொத்த வருவாய் மொத்த செலவை விடக் குறைவானதனால் பொருளியல் இலாபம் எதிர்க்கணியமாகும்
(3) மொத்த வருவாய் மொத்த செலவை விடக் குறைவானதனால் பொருளியல் இலாபம் எதிர்க்கணியமாகும்
(4) விலையானது சராசரி மறுப்புச் செலவை விடக் குறைவானதனால் பொருளியல் இலாபம் எதிர்க்கணியமாகும்
(5) எல்லை வருவாய் எல்லைச் செலவுக்குச் சமப்படுவதால் பொருளியல் இலாபம் பூர்த்தியடையும்
19. பின்வருவனவற்றுள் வர்த்தக சக்தி உட்படுத்தின் கட்டாயங்களை சரியாக விபரிப்பது எது?
- (1) விரிவாக்கம், வளர்ச்சி, உச்சம், பின்வடைவு
(2) விரிவாக்கம், உச்சம், பின்வடைவு, தாமதப்படுதல்
(3) உச்சம், விரிவாக்கம், தாமதப்படுதல், பின்வடைவு
(4) விரிவாக்கம், மீட்சி, தாமதப்படுதல், உச்சம்
(5) தாமதப்படுதல், உச்சம், பின்வடைவு, விரிவாக்கம்
20. மொத்த உள்நாட்டு உற்பத்தியைக் கணிப்படுவதில் முதல்வச் செலவிடாகம் (C) வகைப்படுத்தப்படுகிறது பின்வருவனவற்றுள் எது?
- (1) பாண்ட உற்பத்தி செய்வதற்காக பேக்கரி உற்பத்தியாளர் கைதுமை மானவக் கொள்வனவு செய்தல்
(2) சக்திவலு அமைச்சினால் ஒரு பதிய கணினி மென்பொருள் கொள்வனவு செய்பவரால்
(3) தர்பலத்தாய்வு ஒன்றிற்கு பயன்படுத்திய உடைகளை அடைக்கிப்பிச்சி செய்தல்
(4) பொதுக் கம்பனி ஒன்றின் 1000 பங்குகளைக் கொள்வனவு செய்தல்
(5) உடனடி விநிதிப்போன்றில் இரவு உணவுக்காக 3000 ரூபளை செலவு செய்தல்
21. செல்வந்தர் ஒருவர் நலநிலையத்தில் தமது ஓய்வுக்காக வகுப்பந்த வட்டங்கத்து பெற்றிருந்த ஒரு ஓய்வு விநிதியை விலைகொடுத்து கொள்வனவு செய்வதாகக் கொள்க. இப்பரிமாற்றத்தின் காரணமாக,
- (1) நுகர்வுச் செலவு (C) வீழ்ச்சியடைவதால் விநிதியின் கொள்வனவு பெறுமதியின் அளவினால் மொத்த உள்நாட்டு உற்பத்தி குன்றப்படும்
(2) விநிதியின் கொள்வனவு பெறுமதியின் அளவினால் முதலீடு (I) அதிகரிப்பதால் மொத்த உள்நாட்டு உற்பத்தி அதிகரிக்கும்
(3) பயன்படுத்திய ஒவ்வொரு மீட்டும் விரிவான செய்வதால் மொத்த உள்நாட்டு உற்பத்தி அதிகரிக்கப்படும்
(4) முதலீடு (I) வீழ்ச்சியடைவதால் மொத்த உள்நாட்டு உற்பத்தி வீழ்ச்சியடையும்
(5) முதலீடு (I) அதிகரிப்பதால் ஆனால் முதலீடு (C) வீழ்ச்சியடையும்
22. தற்பாட்டி ஒரு வகுப்பின் பெயர்வு மொத்த உள்நாட்டு உற்பத்தி 1200 பில்லியன் ரூபணாகவும் மொத்த மொத்த உள்நாட்டு உற்பத்தி 1000 பில்லியன் ரூபணாகவும் இருப்பின் மொத்த உள்நாட்டு உற்பத்திச் சதக்கிப்பின் அளவு
- (1) 12% (2) 20% (3) 83.3% (4) 120 (5) 200

23. பின்வரும் அட்டவணை ஒரு பொருளாதாரத்தில் பேரவை பொருளியல் தரவுகள் சிவவந்தைக் கள் திகிரி:

| வகை | பெறுமதி (மில்லியன் ரூபா) |
|--|--------------------------|
| மொத்த உள்நாட்டு முடிவுகளவாக்கம் | 30 |
| பொருளாதாரம் காணியல்லாப் பணிகள் வரும் வறுமதி | 10 |
| பொருளாதாரம் காணியல்லாப் பணிகள் வரும் இறக்குமதி | 16 |
| அரசு செலவுகள் | 3 |

இப்பொருளாதாரத்தில் தனியார் சேற்பாடு பெறுமதியாவது

- (1) 47 மில்லியன் ரூபா. (2) 44 மில்லியன் ரூபா (3) 41 மில்லியன் ரூபா
 (4) 34 மில்லியன் ரூபா. (5) 31 மில்லியன் ரூபா.

24. ஒரு குறித்த பொருளாதாரத்தில் மொத்த வருமானம் 500 மில்லியன் ரூபாவில் ரூபா 1000 மில்லியன் ரூபாவாக அதிகரிக்கும்போது மொத்த நுகர்வு செலவுகளை 800 மில்லியன் ரூபாவிலிருந்து 1200 மில்லியன் ரூபாவாக அதிகரிப்பதாகக் கொள்க. இப்பொருளாதாரத்தில் தளவாக்கப்பட்டுள்ள மொத்த எல்லை நுகர்வு நூட்டம் உண்டாக்கப்பட்டுள்ள பெறுமதி

| தளவாக்கப்பட்டுள்ள நுகர்வு (மில்லியன் ரூபா) | எல்லை நுகர்வு நூட்டம் |
|--|-----------------------|
| (1) 500 | 1.5 |
| (2) 400 | 0.8 |
| (3) 300 | 0.2 |
| (4) 200 | 0.1 |
| (5) 100 | 0.8 |

25. ஒரு பொருளாதாரத்தில் எல்லை நுகர்வு நூட்டம் 0.8 ஆகவும், மெய் மொத்த உள்நாட்டு உற்பத்தியானது திறைநிறைவில் மட்டும் மெய் மொத்த உள்நாட்டு உற்பத்தியை கள் 1000 மில்லியன் ரூபா குறைவாக உள்ளதாகவும் கருதுக. பொருளாதாரத்தில் திறைநிறைவில் மட்டும் வெளிமட்ட அளவு மெய் மொத்த உள்நாட்டு உற்பத்தியை அதிகரிக்க வேண்டுமாயின் அந்தளவுக்கு இனது கொள்வனவுகளை எந்த அளவிலால் அதிகரிக்க வேண்டும்?

- (1) 150 மில்லியன் ரூபா (2) 200 மில்லியன் ரூபா (3) 250 மில்லியன் ரூபா
 (4) 300 மில்லியன் ரூபா (5) 350 மில்லியன் ரூபா

26. ஒரு பொருளாதாரத்தில் செலவிடக்கூடிய வருமானத்திலிருந்து எல்லை நுகர்வு நூட்டம் 0.8 ஆகவும் எல்லா வருமானங்கள் மீதும் அரசு வரிகள் நிலையான 25% ஆக உள்ளதாகவும் கருதுக. இப்பொருளாதாரத்தில் மொத்த தேசிய வருமானம் 200 மில்லியன் ரூபாவாக அதிகரிக்கும் நுகர்வு வந்து அமர்ந்தால்

- (1) 50 மில்லியன் ரூபாவிலால் அதிகரிக்கும்
 (2) 120 மில்லியன் ரூபாவிலால் அதிகரிக்கும்
 (3) 150 மில்லியன் ரூபாவிலால் அதிகரிக்கும்
 (4) 160 மில்லியன் ரூபாவிலால் அதிகரிக்கும்
 (5) 750 மில்லியன் ரூபாவிலால் அதிகரிக்கும்

27. பகுதியளவு ஒதுக்கீடுகளைக் கொண்ட வங்கி முறையானது ஒரு பொருளாதாரத்தில் ஒதுக்கீடு வீதம் 10% ஆகவும் வங்கியாக்கப் பெறக்கூடியவை 50 மில்லியன் ரூபா அளவு வங்கியை நூட்டம் பெறக்கூடியபடி மொத்த வங்கியளவில் அளவு யாகு?

- (1) 500 மில்லியன் ரூபா (2) 450 மில்லியன் ரூபா (3) 400 மில்லியன் ரூபா
 (4) 350 மில்லியன் ரூபா (5) 30 மில்லியன் ரூபா

28. பின்வருவனவற்றுள் பணநிரலில் M2 வகைகளைக் கருத்தில் உள்ளடக்கப்படாதது எது?

- (1) பொதுமக்கள் வசமுள்ள முக்கியங்கள்
 (2) பொதுமக்கள் வசமுள்ள தேசிய வங்கித் திட்டங்கள்
 (3) பொதுமக்கள் வசமுள்ள செலவு வங்கித் திட்டங்கள்
 (4) பொதுமக்கள் வசமுள்ள துவலை வங்கித் திட்டங்கள்
 (5) பொதுமக்கள் வசமுள்ள கடன்கள் (credit cards)

29. பின்வரும் சொல்லைக் குறிப்பிட்டு, $Y = 300$, $M = 400$, $N = 5$ ஆகிய $P =$
- (1) $\frac{1}{4}$ (2) 4 (3) 6.25 (4) 80 (5) 100
30. பின்வரும் சொல்லைக் குறிப்பிட்டு, பின்வரும் கருவிகளைக் கொள்வதைக் குறிப்பிட்டு, ஒதுக்கீடு தேவைகளைக் குறைத்தல், பாதிப்பு குறைக்கலையை அங்கீகரித்தல்
- (1) ஒதுக்கீடு தேவைகளைக் குறைத்தல், பாதிப்பு குறைக்கலையை அங்கீகரித்தல்
 (2) ஒதுக்கீடு தேவைகளைக் குறைத்தல், பாதிப்பு குறைக்கலையை அங்கீகரித்தல்
 (3) பணநிரம்பலை அதிகரித்தல், அரசு செலவிடக்கூடிய குறைந்தல், மற்றும் வரிகளைக் குறைத்தல்
 (4) பணநிரம்பலைக் குறைத்தல், வரிகளை அதிகரித்தல், மற்றும் அரசு செலவிடக்கூடிய குறைந்தல்
 (5) பணநிரம்பலைக் குறைத்தல், வரிகளைக் குறைத்தல், மற்றும் அரசு செலவிடக்கூடிய குறைந்தல்
31. பின்வருவனவற்றுள் எது பணநிரம்பல் அதிகரிப்பதற்கு இட்டுச் செல்லும்?
- (1) வசூலான வரி விதிகளில் ஒரு வழிமாற்றம்
 (2) அரசு பாதிப்புக் குறைக்கலையில் ஒரு வழிமாற்றம்
 (3) திறந்த சந்தையில் மத்திய வங்கி முதுகுவங்கி கொள்வனவு செய்வது
 (4) திறந்த சந்தையில் பிணையங்களை கொள்வது செய்வது மூலம் அரசாங்கத்தின் கடன் பெறல் அதிகரிப்பது
 (5) கொள்வனவு விதிகளில் ஒரு அதிகரிப்பு
32. பொதுப் பொருள் செயலில் பின்வருவனவற்றுள் எது உண்மையாகும்?
- (1) ஒரு துறையின் நுகர்வு காரணமாக மற்றவர்களுக்கு கிடைக்கும் அளவு குறைகிறது.
 (2) அபிவிருத்திக்கு பணம் செலுத்தாத நுகர்வோரை அதன் மூலம் நலம் பெறுவதிலிருந்து விலக்கி வைக்க முடியும் என்பதாகும்.
 (3) சில நுகர்வோருக்கு கிடைக்காத பொதுப்பொருளின் மேலதிக ஒரு அளவைத் துறையேருக்கு கிடைக்கும் அளவை அதிகரிப்பதால் குறைகிறது.
 (4) ஒரு துறையின் நுகர்வு ஏனையவர்களை அபிவிருத்தி நுகர்வதிலிருந்து விலக்கி வைக்காது.
 (5) பொருள்க்காக அளவையும் சமமான விலையைச் செலுத்துவர்.
33. ஒரு பொருளின் உற்பத்தியானது நேரக்கணிசிய வெளிவாரிகளுக்கு இட்டுச் செல்லுமாயின் பின்வருவனவற்றுள் எது உண்மையாகும்?
- (1) அரசாங்கம் அபிவிருத்தி கட்டாயம் உற்பத்தி செய்யக் கூடாது.
 (2) தனிப்பட்ட நுகர்வோரின் உற்பத்தியானது சமூக ரீதியில் விருப்பத்தக்க மட்டத்தை வடிக் குறைவாக இருக்கும்.
 (3) பொருளின் சந்தைவிலை மிகக் கூடுதலாக இருக்கும்.
 (4) அரசாங்கம் அபிவிருத்தி உற்பத்தியை அங்கீகரிக்கக் கூடாது.
 (5) தனிப்பட்ட நுகர்வோரின் பொருளை உற்பத்தி செய்வதன் மூலம் இலாபத்தை உட்காட்டுகிற முடியாதிருக்கும்.
34. பின்வருவனவற்றுள் எது வெளிவாரிகளைக் குறைக்கலையை அங்கீகரிக்கிறது?
- (1) அரசாங்கம் பாதிப்புக் குறைக்கலையை நிதிநீட்டம் செய்வதற்கு கடன் பெறும்போது அது தனிப்பட்ட வரி பெறுவோருடன் தொடர்பாக அளவாக வட்டி விதிகள் அதிகரிப்பதனால் தனிப்பட்ட முறையில் குறைவாகும்.
 (2) வட்டி விதிகளை அதிகரிப்பதற்கும் பணநிரம்பலை அதிகரிக்கும்போது பணநிரம்பலும் தனிப்பட்ட முறையில் அதிகரிக்கும்.
 (3) வணிக நிறுவனங்கள் முதலீட்டுத் திட்டங்களைக் கையேடு அபிவிருத்தியானது பணநிரம்பலான கம்பனிகளை வெளித்தள்ளி விடுவதால் வணிக நிறுவனங்கள் முற்றிலும் ஏதுவாகும்.
 (4) பணநிரம்பலில் அரசாங்கம் பணநிரம்பலான பின் கொள்வனவு செய்யும்போது பணநிரம்பல் விரிவாகும் வந்தால் தனிப்பட்ட முறையில் கட்டணங்களைக் கையேடு நிதிநீட்டம்.
 (5) வணிகத் துறையின் அபிவிருத்தியானது அரசாங்கம் அரசாங்கத்தானே பெறும்போது இது வட்டி விதிகளை குறைத்து தனிப்பட்ட முறையில் அதிகரிப்பதற்கு ஏதுவாகும்.
35. சந்தைத் தேவை ஏற்படுவது
- (1) பிறவர்களைத் தொல்லைக் அதிக நடவடிக்கை மேற்கொள்ளும் போது.
 (2) இலாபங்களைத் தவறு உற்பத்திக்கான சந்தைகளைப் பெற முடியாத போதும்.
 (3) சிலர் வீழ்ச்சியடைவதுடன் திறமைகள் தவறு உற்பத்தியை குறைக்கும் திறமைக்கீழ்முடியும் போதும்.
 (4) விலை அதிகரிப்பதால் நுகர்வோர் தவறு தேவைகளைப் பூர்த்தி செய்ய திறமைகளை எதிர்த்துக் கொள்ளும் போதும்.
 (5) விலைப் பெறுமுடியானது வளங்களை விளைத்தீர்வாக ஒதுக்கீடு செய்யாத போதும்.

36. 2020 ஆண்டில் இலங்கையின் அரசாங்க மின்னல் மூழ்கிச் செல்லுகளின் மிகப் பெரிய சமூக இழந்தது

- (1) சம்பளங்களும் வேதனைகளும்மட்டும்
- (2) அரசாங்கத்தின் நடைமுறை மறுநல்களும் மரணங்களும்மட்டும்
- (3) ஒப்பந்தியங்களாகும்
- (4) வடமேல் செலுத்தல்களாகும்
- (5) உற் மானியங்களாகும்

37. தற்போது இலங்கைக்கு இறுதிக்க கால்களை வழங்கியுள்ள பிரதான நாடுகளாவன

- (1) சீனா, இந்தியா, மற்றும் சுவீடி அமேரிக்கா ஆகும்
- (2) சீனா, இந்தியா, மற்றும் ஜப்பான் ஆகும்
- (3) சீனா, இந்தியா, மற்றும் உலக வங்கி ஆகும்
- (4) சீனா, இந்தியா, மற்றும் ஜெர்மனி ஆகும்
- (5) சீனா, ஜப்பான், மற்றும் வங்காளதேசம் ஆகும்

38. பின்வரும் அட்டவணை இலங்கையினதும் இந்து பாலினதும் ஒலகு இரு சக்கர வண்டிவண்டிப். ஒலகு முச்சக்கர வண்டிவண்டிப் உட்பத்தி செய்பத தேவையான உட்பத்தி மணித்தியல்களைக் காட்டுகிறது

| நாடு | இரு சக்கர வண்டி | முச்சக்கர வண்டி |
|---------|-----------------|-----------------|
| இந்தியா | 15 | 60 |
| இலங்கை | 20 | 120 |

இந்த தகவல்களின் படி உண்டையான சுற்று எது?

- (1) இரு பொது உட்பத்தியிலும் இலங்கை முழு நன்மையைக் கொண்டுள்ளது
- (2) இந்தியா இருசக்கர வண்டியின் சிறக்குடியியல்பு அடைய வேண்டிய அதேவேளை இலங்கைக்கு முச்சக்கரவண்டியில் சிறக்குடியியல்பு அடைய வேண்டும்
- (3) இந்தியா முச்சக்கர வண்டி தொடரில் ஒப்பீடு நன்மையைக் கொண்டுள்ளது
- (4) இலங்கை முச்சக்கர வண்டி தொடரில் முழு நன்மையைக் கொண்டுள்ளது
- (5) இந்தியா இருசக்கர வண்டி மற்றும் முச்சக்கர வண்டி உட்பத்தியில் ஒப்பீடு நன்மையைக் கொண்டுள்ளது

39. தலைவர்கள் வீதக்கப்பட்டாதபெத்து உள்நாட்டு உற்பத்தியாளர் ஒருவர் 15,000 ரூபா பெறுமதியான இறுக்குத்தி உள்நாட்டுகளைப் பயன்படுத்தி உற்பத்தி செய்த இருசக்கர வண்டிகளை ஒலகு 25,000 ரூபா விலைக்கு விற்பனை செய்கிறார் எனக் கொள்க. அரசாங்கம் இருசக்கர வண்டி இறுக்குத்தி மீது 20% தலைவ வீதக்கின்றதுபின். இறுக்குத்தி செய்யப்பட்ட இருசக்கர வண்டி அலகாவது 30,000 ரூபாவுக்கு விற்கப்படுகிறது. இத்தகவலையின் கீழ் உள்நாட்டில் உற்பத்தி செய்யப்பட்ட இருசக்கர வண்டிக்களை பயன்படுத்தி வாய்க்காத பத்துகாப்பு வீதம் எது?

- (1) 20%
- (2) 25%
- (3) 40%
- (4) 45%
- (5) 50%

40. தற்போது இலங்கையின் மூன்று பிரதான ஏகத்தொழில் ஏற்றுமதி பொது வகைகளாவன

- (1) (a) புடவைகளும் ஆடைகளும் (b) உணவு குடியான்கள் மற்றும் பனகயிலை (c) இறுத்தினம் வைரம் மற்றும் ஆபரணங்கள்
- (2) (a) புடவைகளும் ஆடைகளும் (b) இறுபடி உற்பத்திகள் (c) இறுத்தினம், வைரம் மற்றும் ஆபரணங்கள்
- (3) (a) புடவைகளும் ஆடைகளும் (b) இறுபடி உற்பத்திகள் (c) உணவு குடியான்கள் மற்றும் பனகயிலை
- (4) (a) பெற்றோலிய உற்பத்திகள் (b) இறுபடி உற்பத்திகள் (c) உணவு குடியான்கள் மற்றும் பனகயிலை
- (5) (a) பெற்றோலிய உற்பத்திகள் (b) இறுபடி உற்பத்திகள் (c) இறுத்தினம், வைரம் மற்றும் ஆபரணங்கள்

41. ஒரு பொருளாதலத்தின் வர்த்தக மாற்று விதிக் கட்டுவன அடியான வந்து கதில் நிலைய 100 இலிருந்து 80 ஆக வீழ்ச்சியடைவதாகக் கருதுக. ஏற்றுமதி விலைக் கட்டுவனவிலும் இறுக்குத்தி விலைக் கட்டுவனவிலும் ஏற்படும் மாற்றம் இதனை ஒலகுத்தியில்களும்

| ஏற்றுமதி விலைக் கட்டுவன மாற்றம் | இறுக்குத்தி விலைக் கட்டுவன மாற்றம் |
|---------------------------------|------------------------------------|
| (1) + 20 | 0 |
| (2) - 40 | + 20 |
| (3) - 10 | + 20 |
| (4) - 12 | + 10 |
| (5) - 4 | - 20 |

42. அவுஸ்திரேலிய அரசாங்கம் இலங்கை அரசாங்கத்திற்கு 50 மில்லியன் டொலர் பெறும்தான் உண்டா பொருள்களையும் மாற்றுகளையும் அன்பளிப்புச் செய்துள்ளது. இரட்டைப்பதிவு தகவல்களைப் படி இலங்கையின் செலவுத் நிலுவையில் இவ்வன்பளிப்பு எவ்வாறு பதிப்பப்படும்?

| | பெறுகைகள் | செலுத்தல்கள் |
|-----|---------------------------------|--|
| (1) | பொருள்கள் சேவை : பொருள்கள் | இரண்டாந்தர வருமானம் அரசாங்கம் |
| (2) | இரண்டாந்தர வருமானம் : அரசாங்கம் | பொருள்கள் சேவை : பொருள்கள் |
| (3) | பொருள்கள் சேவை : சேவைகள் | நதிக்கணக்கு ஏலைய முதலீடுகள் |
| (4) | பொருள்கள் சேவை : பொருள்கள் | மூலதனக் கணக்கு மாற்றல்கள் |
| (5) | இரண்டாந்தர வருமானம் : அரசாங்கம் | நதிக்கணக்கு : சொத்துப் பட்டியல் முதலீடுகள் |

43. கேள்விகளையே வாய்ந்த நான்ய மாற்றுவித முறையையின் கீழ் உள்ளாட்சிப் பொருள்கள் மீதான வெளிநாட்டுக் கேள்வியில் ஏற்படும் ஓர் அதிகரிப்பைக் குறைக்க உள்நாட்டு நாணயத்தின் பெறும்தகு தேய்வை ஏற்படுத்தும்.

- (1) உள்நாட்டு நாணயத்தின் கேள்வியைக் குறைத்து உள்நாட்டு நாணயத்தின் பெறும்தகு தேய்வை ஏற்படுத்தும்.
- (2) உள்நாட்டு நாணயத்தின் கேள்வியைக் குறைத்து உள்நாட்டு நாணயத்தின் பெறும்தகு உயர்வை ஏற்படுத்தும்.
- (3) உள்நாட்டு நாணயத்தின் கேள்வியை அதிகரித்து உள்நாட்டு நாணயத்தின் பெறும்தகு உயர்வை ஏற்படுத்தும்.
- (4) உள்நாட்டு நாணயத்தின் கேள்வியைக் குறைத்து உள்நாட்டு நாணயத்தின் பெறும்தகு தேய்வை ஏற்படுத்தும்.
- (5) உள்நாட்டு நாணயத்தின் பெறும்தகைக் குறைத்து உள்நாட்டு நாணயத்தின் பெறும்தகு தேய்வை ஏற்படுத்தும்.

44. சுவீட்சை நாணய நிதியத்தின் பிரதான வகிப்பாக எது?

- (1) நிலுவையான நாணயமாற்ற வித முறையையின் உறுதிப்படுத்துதலும் செலவுத் நிலுவையில் வெளிநாட்டுக்கள் எதிர்ப்பொருளும் நாடுகளுக்கு அரசாங்க நிதி உதவிகளை வழங்குவதும்.
- (2) செலவுத் நிலுவையான உறுதிப்படுத்தலும் சுவீட்சை நாணயத்தின் சமநிலையான வளர்ச்சியை உறுதிப்படுத்தலும் நிலுவையான முதலீடுகளை வழங்குவதும்.
- (3) அங்கத்தான நாடுகளுக்கு கடன் வழங்குவதில் மூலம் வருமானம் குறைத்து பங்களிப்பை வழங்குவதும் தரத்தை மேம்படுத்துவதும்.
- (4) வெளிநாட்டு நேரடி முதலீடுகளின் சுதந்திரமான வளர்ச்சியை தடைசெய்தல் நிதிக்கல்.
- (5) பொருளாதார அபிவிருத்தி மற்றும் மீள் கட்டுமானத்திற்காக அங்கத்தான நாடுகளுக்கு நினைக்காலை நித வசதிகளை வழங்குதல்.

45. பிளவுருவானவற்றுள் எது பொருளாதார வளர்ச்சியைக் குறைக்கும்?

- (1) முதலீட்டில் ஏற்படும் ஒரு வீழ்ச்சி
- (2) வெளிநாட்டுகளில் இருந்து வரும் குடிப்பேறுகளின் எண்ணிக்கையில் ஏற்படும் ஓர் அதிகரிப்பு
- (3) ஒரு தொழில்துறை முன்னேற்றம்
- (4) இறக்குமதியில் ஏற்படும் ஓர் அதிகரிப்பு
- (5) சேமிப்பு வீதத்தில் ஏற்படும் ஓர் அதிகரிப்பு

46. அபிவிருத்தி என்பது

- (1) மொத்த தேசிய வருமானத்தின் பெரும்தகு அதிகரிப்பு ஆகும்.
- (2) கிராமிய சனத்தொகையின் வருமான ஏற்றத்தழுவல்களை நீக்குதல் ஆகும்.
- (3) பொருளாதார கட்டமைப்பு மாற்றங்களுக்குள்ள பொருளாதார வளர்ச்சி ஆகும்.
- (4) நாட்டின் மொத்த உள்நாட்டு உற்பத்தியின் அதிகரிப்பு ஆகும்.
- (5) அரசாங்க குயம்களின் வாழ்க்கைத் தரத்தில் ஏற்படும் முன்னேற்றம் ஆகும்.

47. தொழில்மதிப்பு புள்ளிவிபரத் திணைக்களத்தின் தகவல்கள் வாய்ந்த பின்வரும் கொள்கைகளில் எது பெரும்பாலும் ஒரு நாட்டின் வருமானப் பரம்பலில் மிகவும் ஒப்பரவு வாய்ந்ததாக மாற்றக் கூடும்?

- (1) உண்டா மாற்றம் அடைகின்ற மீதான ஒரு பொது விற்பனை வரியை தாய்த்தல்
- (2) ஒரு வீடுகதி முறை வருமான வர் முறைமையிலைத் தாய்த்தல்
- (3) அடம்பரப்பு பொருள்கள் மீதான உள்நாட்டுப் பொருள் விற்பனை ஒழித்தல்
- (4) எல்லா வருமானக் குழுக்கள் மீதான வரி வீதத்தை சமமான வீதங்களில் குறைத்தல்
- (5) கல்வி சுகாதாரம் என்பவற்றுக்கு வழங்கப்படும் மானியங்களைக் குறைத்தல்

48. தொலைத்திய பள்ளிவாரத் திணைக்களத் தகவல்களின்படி பின்வருவனவற்றுள் எந்தச் சேர்க்கை 2019 இல் இலங்கையின் தேசிய வறுமைக் குறியீட்டையடைய 2.7 பரவான தலைக்குரிய வறுமைக் குறியீட்டையைக் கொண்ட மாஸ்டர்களையும் சரியாகக் குறிக்கிறது?

| | தேசிய தலைக்குரிய வறுமைக் குறியீடு (%) | 2.7 பரவான தலைக்குரிய வறுமைக் குறியீட்டையைக் கொண்ட மாஸ்டர் |
|-----|---------------------------------------|---|
| (1) | 3.2 | ஓவரலா |
| (2) | 4.1 | முல்லைத்தீவு |
| (3) | 14.3 | முல்லைத்தீவு |
| (4) | 14.3 | கிளிநொச்சி |
| (5) | 16.0 | பதுளை |

49. பின்வருவனவற்றுள் ஒரு நாட்டின் தொழிற்பலையின் பங்குபற்றும் விதத்தை கணிப்பிடுதல் சரியானது எது?

- (1)
$$\frac{\text{தொழில் புரியும் சனத்தொகை} - \text{தொழிலற்ற சனத்தொகை}}{\text{தொழில் புரியும் வயதுச் சனத்தொகை}} \times 100$$
- (2)
$$\frac{\text{தொழில் புரியும் சனத்தொகை} + \text{தொழிலற்ற சனத்தொகை}}{\text{தொழில் புரியும் வயதுச் சனத்தொகை}} \times 100$$
- (3)
$$\frac{\text{தொழில் புரியும் வயதுச் சனத்தொகை} - \text{தொழில் புரியும் சனத்தொகை}}{\text{பொருளாதாரத்தில் இயங்கும் சனத்தொகை}} \times 100$$
- (4)
$$\frac{\text{தொழில் புரியும் வயதுச் சனத்தொகை}}{\text{மொத்த சனத்தொகை}} \times 100$$
- (5)
$$\frac{\text{பொருளாதாரத்தில் இயங்கும் சனத்தொகை}}{\text{மொத்த சனத்தொகை}} \times 100$$

50. கடந்த காலத்தில் இலங்கை சிவந்தேச நாணய நிதியத்தின் (IMF) பதினாறு நிகழ்ச்சித்திட்டங்களில் அடங்கிய போதிலும் அந்நாடு பெரும்பாலானவற்றுள் வெற்றிகரமாக நடைமுறைப்படுத்திய பதவியிலிருந்து தரணம்-சுடன் தவறியமைக்கான பிரதான காரணம்

- (1) அந்நிகழ்ச்சித் திட்டங்களில் உடனடியான அண்டிங் சிந்தித்தற்க்களை மேற்கொள்ளவில்லை போதியளவு அன்பளிப்பு காட்டாமை.
- (2) சிவந்தேச முன்னாள் சந்தவர்களில் சிவந்தியான நிதியின் கிடைக்கத்தக்கதாக இருந்தமை.
- (3) உத்தியல் செலாவணிப் பந்தாக்கலையிலிருந்து விடுபட செலாவணி பரிமாற்றம் உடனடியாகவே கையில் பெரிதும் தங்கியிருந்தமை.
- (4) IMF இல் உடனிகல் தேவைப்படாத அளவுக்கு வெளிநாட்டு நேரடி முதலீடுகளின் உடனடியாகவே சராக இடப்பெற்றமை.
- (5) தேசியத்தன்மை வாய்ந்த நாணயவற்று வித நிதானக்கலையை கைக்கொண்டமைகளால் நாட்டின் வெள்ளையடி ஒட்டுக்களில் கணிசமானளவு முன்னேற்றம் ஏற்பட்டமை.

ශ්‍රී ලංකා විභාග දෙපාර්තමේන්තුව
இலங்கைப் பரீட்சைத் திணைக்களம்

අ.පො.ස (උ.පෙළ) විභාගය / க.பொ.த. (உயர் தர)ப் பரீட்சை - 2022 (2023)

විෂය අංකය
பாட இலக்கம்

21

විෂයය
பாடம்

பொருளியல்

ලකුණු දීමේ පටිපාටිය / புள்ளி வழங்கும் திட்டம்
I පවුය / பத்திரம் I

| ප්‍රශ්න අංකය வினா இல. | පිළිතුරු අංකය விடை இல. | ප්‍රශ්න අංකය வினா இல. | පිළිතුරු අංකය விடை இல. | ප්‍රශ්න අංකය வினா இல. | පිළිතුරු අංකය விடை இல. | ප්‍රශ්න අංකය வினா இல. | පිළිතුරු අංකය விடை இல. | ප්‍රශ්න අංකය வினா இல. | පිළිතුරු අංකය விடை இல. |
|--------------------------|---------------------------|--------------------------|---------------------------|--------------------------|---------------------------|--------------------------|---------------------------|--------------------------|---------------------------|
| 01. | 3 | 11. | 5 | 21. | 3 | 31. | 3 | 41. | 4 |
| 02. | 3 | 12. | 1 | 22. | 4 | 32. | 4 | 42. | 2 |
| 03. | 1 | 13. | 5 | 23. | 1 | 33. | 2 | 43. | 3 |
| 04. | 4 | 14. | 3 | 24. | 2 | 34. | 1 | 44. | 1 |
| 05. | 3 | 15. | 4 | 25. | 2 | 35. | 5 | 45. | 1 |
| 06. | 5 | 16. | 2 | 26. | 2 | 36. | 4 | 46. | 5 |
| 07. | 4 | 17. | 4 | 27. | 1 | 37. | 2 | 47. | 2 |
| 08. | 4 | 18. | 1 | 28. | 5 | 38. | 3 | 48. | 3 |
| 09. | 2 | 19. | 2 | 29. | 2 | 39. | 5 | 49. | 2 |
| 10. | 3 | 20. | 5 | 30. | 4 | 40. | 3 | 50. | 1 |

❖ විශේෂ උපදෙස් / விசேட அறிவுறுத்தல் :

එක් පිළිතුරකට / ஒரு சரியான விடைக்கு 01 ලකුණු බැගින් / புள்ளி வீதம்

මුළු ලකුණු / மொத்தப் புள்ளிகள் 1 x 50 = 50

ශ්‍රී ලංකා විභාග දෙපාර්තමේන්තුව ශ්‍රී ලංකා විභාග දෙපාර්තමේන්තුව ශ්‍රී ලංකා විභාග දෙපාර්තමේන්තුව ශ්‍රී ලංකා විභාග දෙපාර්තමේන්තුව ශ්‍රී ලංකා විභාග දෙපාර්තමේන්තුව
 இலங்கைப் பரீட்சைத் திணைக்களம் இலங்கைப் பரීட்சைத் திணைக்களம் இலங்கைப் பரීட்சைத் திணைக்களம் இலங்கைப் பரීட்சைத் திணைக்களம் இலங்கைப் பரීட்சைத் திணைக்களம்
 Department of Examinations, Sri Lanka

අධ්‍යයන පොදු කல்මික පත්‍ර (උසස් පෙළ) විභාගය, 2022(2023)
 கல்விப் பொதுத் தராதரப் பத்திர (உயர் தர)ப் பரீட்சை, 2022(2023)
 General Certificate of Education (Adv. Level) Examination, 2022(2023)

මාදිලියේ විෂය II
 பொருளியல் II
 Economics II

21 T II

පැය - තුනයි
 முன்று மணித்தியாலம்
 Three hours

අමතර කියවීමේ කාලය - මිනිත්තු 10 යි
 மேலதிக வாசிப்பு நேரம் - 10 நிமிடங்கள்
 Additional Reading Time - 10 minutes

வினாபத்திரத்தை வாசித்து, வினாக்களைத் தெரிவுசெய்வதற்கும், வினா, எழுதும்போது முன்னுரிமை வழங்கும் வினாக்களை ஒழுங்கமைத்துக் கொள்வதற்கும் மேலதிக வாசிப்பு நேரத்தைப் பயன்படுத்துக.

அறிவுறுத்தல்கள் :

- * உயர் பகுதி 'அ' இலிருந்து ஆகக்குறைந்தது இரண்டு வினாக்களையும் உயர் பகுதி 'ஆ' இலிருந்து ஆகக்குறைந்தது இரண்டு வினாக்களையும் தெரிவுசெய்து, ஐந்து வினாக்களுக்கு மாதிரி விடை எழுதுக.
- * வரைபுத்தாளி வாழ்க்கப்படும்.

உயர் பகுதி 'அ'

(இப்பகுதியிலிருந்து ஆகக்குறைந்தது இரண்டு வினாக்களைத் தெரிவுசெய்க.)

- (i) "வணிக வரையறைப்பற்றாதகவும், இலவசமாகக் கிடைக்கத்தக்கதாகவும் இருப்பின் பொருளியல் என்பதும் ஒரு விடயம் இருக்க முடியாது." இக் கருவை விளக்குக. (04 புள்ளிகள்)
- (ii) தனித்தனி வரையறைகளைப் பயன்படுத்தி பின்வரும் ஒவ்வொரு நிகழ்வகையையும் ஒரு நாட்டின் உற்பத்தி, இயல்பகவு வரையறையில் எவ்வாறு காட்டலாம் எனச் சுருக்கமாக விபரிக்குக.
 - (அ) கல்வித் தரம் அதிகரித்தல்.
 - (ஆ) ஒரு நாட்டின் மொத்த மொத்த உள்நாட்டு உற்பத்தி 8% இனால் சுருக்கமடைந்து தெழிலிவிமை வீதம் அதிகரித்தல்.
 - (இ) சுகாதார சேவைகளுக்கு அரசாங்கம் அதிகம் செலவிடும் பொருட்டு பாதுகாப்புச் செலவினங்கள் குறைக்கப்படுகிறது.
 - (ஈ) நடுத்தர வரட்சி கழனங்கள் நீண்டகாலம் யூதிக் மின்சாரத் தடை ஏற்படல்.
 - (உ) கைத்தொழில் உற்பத்திக்குத் தகவல்வழி அத்தியாவசிய முன்பொருள்களை இயக்குவதி செய்யத் தேவையான அந்நியச் செலாவணிக் கிடைப்பினை மட்டுப்படுத்துதல். (05 புள்ளிகள்)
- (iii) தரான சந்தைப் பொருளாதார முறைமை ஒன்றின் ஈழித் துறைபாடுகளைப் பெயரிடுக. (05 புள்ளிகள்)
- (iv) ஒரு நாட்டின் பொருளாதார வளங்களை பயன்படுத்துவதில் தொழில்நுட்பத்தினதும் முயற்சிபாளர்களினதும், வலிபாக்கத்தை விளக்குக. (06 புள்ளிகள்)

DL(i) - பொருளியல் என்பது அந்நாடு மற்றும் வெளிப் பற்றிய ஒரு அங்கமாகும், ஏல்லைப் பொருளாதாரப் பிரச்சினைகளும் அடிப்படையில் தனிப்பட்ட தெரிவுகளைப் பற்றியதாகும். முதலாளி செய்ய வேண்டும் எதனைச் செய்யும் கூடாது என்பத பற்றி நபர்கள் மேற்கொள்ளும் தீர்மானங்களுடிக் அது தொடர்பு பட்டுள்ளது. உள்வாழ்வில் தெரிவுடன் தொடர்பு பட்ட எதுவும் பொருளியல் இல்லை என்று கருவது தவறாகாது. (02 புள்ளிகள்)

வளங்களை இலவசமாகவும் எல்லையற்ற அளவிலும் பெறமுடியாமைத் தெரிவு செய்ய வேண்டிய தேவை ஏற்படாது, எதனை நபர்களும் எந்த ஒரு பொருளைப்போ

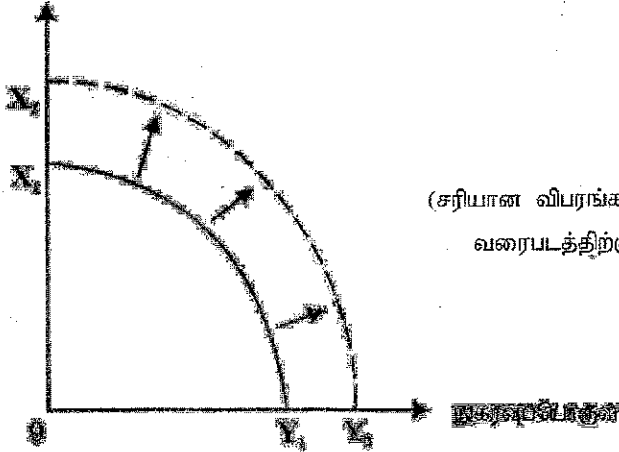
சேவையையே தாம் விதும்பும் அளவில் பெற்றுக்கொள்ளக் கூடியதாக இருக்கும். இந்நிலையில் தெரிவு பற்றிய விஞ்ஞானசகிய பொருளியல் அளவியற்றது

(02 புள்ளிகள்)

(மொத்தம் 04 புள்ளிகள்)

(ii) (அ) கல்வித்தர அதிகரிப்பினால் தொழிற்பலையின் விளைதிறன் அதிகரிக்கும் இதனால் உற்பத்தி இயல்தகவ வளையி வெளிப்பறளாக நகரும்

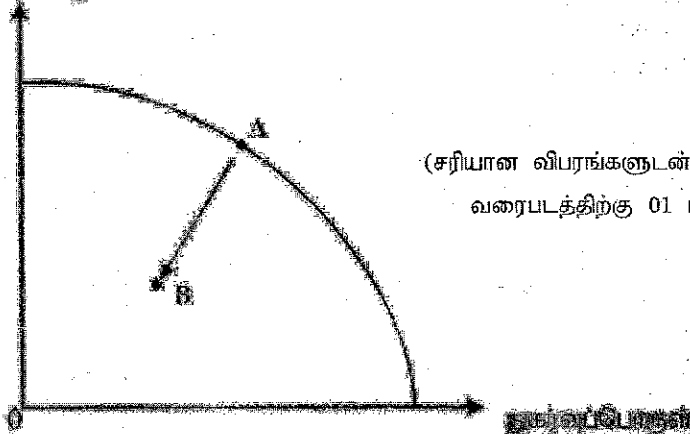
மூலதனப்பொருள்



(சரியான விபரங்களுடன் உள்ள வரைபடத்திற்கு 01 புள்ளி)

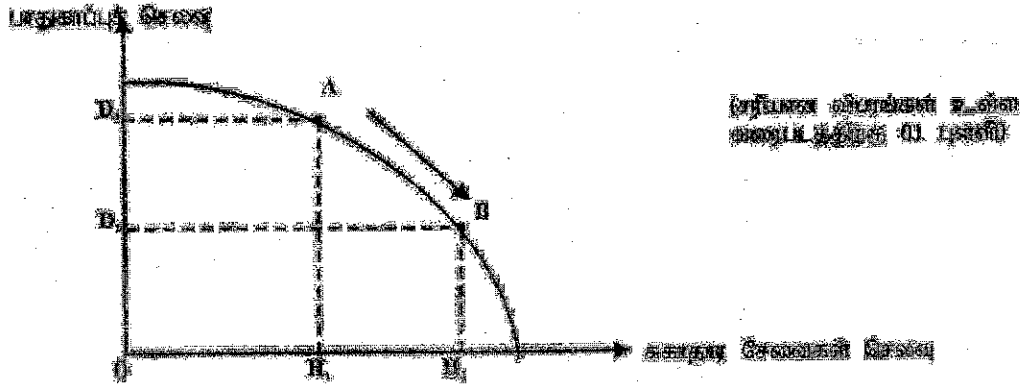
(ஆ) மெய் மொத்த உள்நாட்டு உற்பத்தியின் வீழ்ச்சியினால் காட்டப்படுவது வளையலாட்புளி விளைத்திறனில்லையென்றி வளத்திரட்சியில் ஏற்பட்ட வீழ்ச்சியல்ல. இதனை உற்பத்தி இயல்தகவ வளையியின் உள்ளே உற்பத்திப் புள்ளியை நகர்த்துவதன் மூலம் காட்டலாம். வரைபடத்தில் உற்பத்திப்புள்ளி A யினிருந்து B நோக்கி நகரும்.

மூலதனப்பொருள்

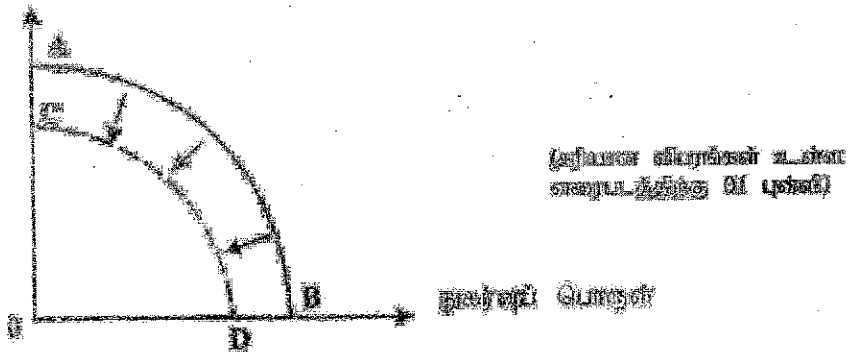


(சரியான விபரங்களுடன் உள்ள வரைபடத்திற்கு 01 புள்ளி)

(8) இரண்டு உற்பத்தி இயந்தக அளவளாயில் எந்தப் பாதையும் ஏற்படாத பாதையின் செலவுக்காக ஒதுக்கப்பட்ட வளங்களைக்குறைத்து கையாள் செலவுகளுக்குப் பயன்படுத்தப்படும் வளங்கள் அதிகரித்துள்ளதால் உற்பத்தி இயந்தக அளவளாயின் மீது உற்பத்தி சீர்க்கொப்பணி A யிலிருந்து B தேவையான தரையில் குலை இயந்தகங்களிடலாம்.



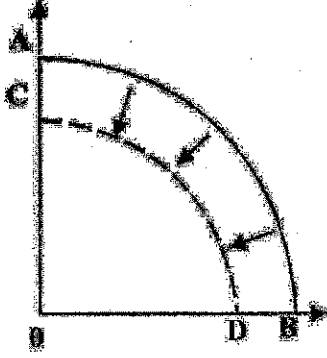
(9) வாடகையின் காரணமாக மின்விசைப் பூங்காவை குலை நாட்டின் கைத்திரட்சியின் விநிய நினை காட்டப்படுகிறது அதன் விளைவாக உற்பத்தி இயந்தக அளவளாய் உட்புறமாக நகரும் குலைப் பொருள்



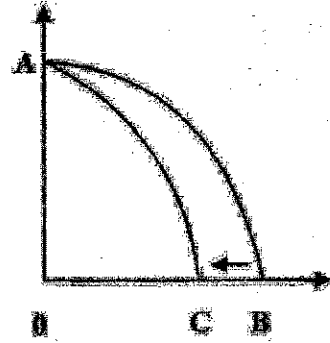
(உ) குலைப்பாதுகாப்பு இயந்தகங்களாக அளவளாயும் அந்நியச் செலவளவளியைக்குறைப்பதன் குலை காட்டப்படுகிறது நாட்டின் கைத்திரட்சியில் ஏற்படும் ஒரு விநியபாது. இதன் விளைவாக உற்பத்தி இயந்தக அளவளாய் உட்புறமாக நகரும்.

- இயந்தக உள்நுகர் தேவைப்பட்ட ஒரு குறை அளவளாயின் உற்பத்தி இயந்தக அளவளாய் ஒரு அளவில் மாத்திரம் உட்புறமாக நகரும்.

நுகர்வுப் பொருள்



சைத்தொழில் அல்லாப் பொருள்



சைத்தொழில் பொருள்

(சரியான விடயங்களைக் கண்டறிய உதவுகின்ற 01 புள்ளி)
(விரிவுரை 05 புள்ளிகள்)

- (11) - தரப்படாத சந்தை நடவடிக்கைகள் காரணமாக கருமனம் மற்றும் செலவீனத்தில் நேர்மறையான மாற்றங்கள் ஏற்படக்கூடிய சூழல்களை அடிகாட்டலாம்.
- விவசாய நிறுவனங்கள் தனியார்மேல் சைத்தொழில் பொருள் விலைகளை அதிகரிப்பதன் மூலம் நுகர்வோரின் நலனில் தாக்கத்தை ஏற்படுத்தலாம்.
 - தரப்படாத சந்தை நடவடிக்கைகளால்
 - ஒன்றின் விலைப்பொருள்களை நிறம்பல் செய்யாமல் விடாமல் அல்லது பொதுவானவற்றின் விலையைக் குறைக்கலாம்.
 - கணிசமான அளவுக்கு மேலாக சமூகநலப் பணிகளை மேற்கொள்ளும் நிறுவனம் செய்யாமல் விடலாம்.
 - உற்பத்தியிலும் நுகர்விலைப் ஏற்பாட்டில் ஏற்படக்கூடிய மாற்றங்களைக் கண்டறியும் சூழல்களை அடிகாட்டலாம்.
 - தகவல்சமையல் செய்து கொடுத்தல் சந்தை நடவடிக்கைகள் மூலம் சமூகநலநிலை காரணமாக சந்தை சமூகநலநிலைகள் சீரமைக்கலாம் மற்றும் சந்தையில் இடம் பெறுவதில் தீவிரமான தளப்புகளையும் சந்தைநிலைகளும்
 - தரப்படாத சந்தையில் உள்ள ஒன்றை விவசாய அமைதி மூலம் சமூகநலநிலை இடமும் உதவிக்க முற்படுவதால் சமூகநலநிலைகளில் மாற்றங்கள் ஏற்படும் நிலைமை மற்றும் ஒழுக்க விழிப்புணர்வைத் தரவாரக்க வேண்டும்.
 - பெரிசும் பெரிசும் சந்தையில் நினைவுகூற தன்மை ஏற்படலாம்
 - நுகர்வோர்கள் ஒழுங்குமுறைகளை இவற்றில் செயற்படுத்துவதால் தீவிரமான நிதியியல் உதவியும் தன்மை ஏற்படுவதால் இவற்றில் எவ்விதத் தொழிலாளர்கள் மீட்டியல் கண்டறியக்கூடிய பாதிகளும் கூடும்.
- (ஒரு விடயத்திற்கு 01 புள்ளி வீதம் எனவிரிவுரை சூழல் விடயங்களுக்கு 05 புள்ளிகள்)

(iv) - தொழிலாட்பம் என்பது மிகப்பெரும் அறிவுத்தரிசியுடன் கருவிகளையும் தன்மைகத்தே செயல்படுவதால் இதன் மூலம் பொருள்களையும் சேவைகளையும் விளைத்திறனுடனும் புத்தாக்கத்தாலும் உற்பத்தி செய்வதற்காக பொருளாதார வளங்களை இவ்வளவு ஒதுக்கீடு செய்ய முடியும்.

- தொழிலாட்பத்தின் காரணமாக பொருள்கள் சேவைகளை உற்பத்தி செய்யும் விலிபொருள் செய்யும் செலவிடப்படும் வீதம் மீதமாகும். இவ்வாறு மீதமடையும் காலத்தைத் தொழிலாளர்கள் வேறு பயன்படுத்தி நடவடிக்கைகளில் ஈடுபடுத்தவதன் மூலம் உற்பத்தி நிறுவனத்தின் மொத்த இலாபம் அதிகரிக்கும்.

- தொழிலாட்பத்தின் காரணமாக தொழிற்பிரிபும் சிங்குர்பிரிபும் அதிகரிக்க வாய்ப்புள்ளதுடன் வளப்பயன்பாடு மேலும் விளைத்திறனுடன் இடம்பெறுபக்களிற்பும் செய்யும்.

- தொழிலாட்பத்தின் விளைவாக தொழிலாளர்களிடமேன தொட்டியாளர்கள் விளைத்திறனுடன் இடம் பெறுவதால் விளைத்திறன் அதிகரிக்கும்

- விடயபாரத்திற்கும் விடயபார கற்றல் துறவுக்கும் தேவையான புதிய தகவல்களைப் பெறு தொழிலாட்பத்தின் மூலம் வழங்கிவரும்.

(ஒரு விடயத்திற்கு 01 புள்ளி வீதம் ஏதேனும் மூன்று விடயங்களுக்கு 03 புள்ளிகள்)

முயற்சியாளர்கள்:

- தொழிலாட்ப முன்வினாநூல் ஏற்பட்ட உட்கேள்ய உற்பத்தியின் விரிவாக்கம் ஏற்பட்டு விடாது முயற்சியாளர்கள் தொழில் துறிய மாற்றங்களை உற்பத்தி செயல்புறையில் ஈடுபடுத்திவான் மாத்திரமே அது நிகழும்.

- பயன்படுத்தப்படாது வளங்கள் ஊழியர் மற்றும் முல்தலை ஆகியவற்றை முயற்சியாளர் விளைத்திறனுடன் பயன்பாட்டிற்குட்படுத்துகின்றனர்.

- விடயபாரத்தின் ஒக்கிவாது துறைகளிலும் புத்தாக்கத்தை அறிமுகப்படுத்தி இருக்கின்ற வளங்களை விளைத்திறன் மீதமுத்தவகையில் பயன்படுத்தி அதுன் மூலம் உற்பத்திய அதிகரிவடையும் முயற்சியாளர் மேற்கொள்கின்றனர்.

- தொழில் முயற்சியின் விளைத்திறனை அதிகரிக்க முயற்சியாளர் பங்களிக்கின்றனர். உயர் விளைத்திறனுடைய புதிய நிறுவனங்களுடன் போட்டிமுல்வமையை அதிகரித்து விளைத்திறன் குறைந்த நிறுவனங்கள் சந்தையிலிருந்து வெளியேறும் செய்வதன் மூலம் முயற்சியாளர்கள் பொருளாதாரத்தின் மொத்த விளைத்திறன் அதிகரிக்க பெரும் பங்களிற்பும் செய்கின்றனர்.

(ஒரு விடயத்திற்கு 01 புள்ளி வீதம் எவையேனும் மூன்று விடயங்களுக்கு 03 புள்ளிகள்)

(மொத்தம் 06 புள்ளிகள்)

2. (i) ஒரு நிறம்பல் வளையிலை வரையும்போது நிலையாக இருப்பதாகக் கருதப்படுவது எது? (03 புள்ளிகள்)
- (ii) சிகரட்டுக்கான விலைக் கேள்வி நெகிழ்ச்சி சுமார் -0.75 அகவுள்ளதாக அடிவக் கழிக்கக் கூட்டுகின்றன. தற்போது ஒரு சிகரட்டின் விலை 1500 ரூபாயாகும். அத்துடன் அரசாங்கம் புகைவிடுதலை 30% இலாக் குறைக்க விரும்பினால் ஒரு சிகரட்டின் விலை எத்தனாவாக இருக்க வேண்டும்? (05 புள்ளிகள்)
- (iii) விலை தவிர்த்த ஏனைய பணிக் குறைவைகள் மூன்றைக் குறிப்பிட்டு அவற்றைக் கருக்கமாக விளக்குக. (06 புள்ளிகள்)
- (iv) ஒரு பண்டத்தின் விலை அதிகரிக்கும்போது நுகர்வோர் அதற்கு குறைவாகக் கேள்வி எழுப்புவதேன் என விளக்குக. (06 புள்ளிகள்)

02. (i) - உற்பத்திக்காரர்களின் விலை
 - எதிர்பார்க்கப்படும் எதிர்பாவு விலை
 - நிறம்பலாவர்களின் எண்ணிக்கை
 - தொழிலடயம்
 - இயற்கை வளங்கள்

(ஒரு விடயத்திற்கு 01 புள்ளி வீதம் எகவலிப்பதும் மூன்று விடயங்களுக்கு 03 புள்ளிகள்)

(ii) - விலைக்கேள்வி நெகிழ்ச்சி சுதீர்மை

- கேள்வித்தொகையின் 1% மாற்றம்
 விலையின் 3% மாற்றம் $S = -0.75$ (01 புள்ளி)

- விலை 1% இலாக் மாற்றமடையாவிட கேள்வித்தொகை 0.75% இலாக் மாற்றமடையப் பெறும் இதன் காரணமாகும்.
- காலவாறுபின் கேள்வித்தொகை 1% இலாக் மாற்றமடைய கேள்வித்தொகையின் விலை எத்தனாவாக சதவீதத்தினால் மாற்றமடைய வேண்டும்?

- $\frac{(1.00\%)}{(0.75\%)} = \frac{100}{75} = \frac{4}{3} = 1\frac{1}{3}$

- தொகை 30 இலாக் மாற்றமடைய கேள்வித்தொகையின் விலை எத்தனாவாக சதவீதத்தினால் மாற்றமடைய வேண்டும்?

$30 \times 1\frac{1}{3} = 30 \times \frac{4}{3} = 40\%$
 அல்லது

- $\frac{(1.00\%)}{(0.75\%)} \times 30\% = \frac{100}{75} \times 30 = 40\%$

(02 புள்ளிகள்)

- ஒரு சிகரட் பெக்கட்டின் விலை ரூபா 1500
- கேள்வித்தொகையை 30% இனால் குறைக்க வேண்டியபின் ஒரு சிகரட் பெக்கட்டின் விலை 40 இனால் அதிகரிக்க வேண்டும். உண்மையில்
- சிகரட் பெக்கட்டின் புதிய விலை எவ்வளவு இருக்க வேண்டும்

- $1500 \times \frac{140}{100} = \text{ரூபா } 2100$ (02 புள்ளிகள்)

(iii) - வரிசை முறை: இதன் பொது வரிசையில் நின்று பொருளைப் பெறவேண்டியவர்களை வரிசையில் வரவேழின் வரிசைக்கிரமத்தின்படி பொருள் தரப்படும். எல்லாச் சந்தர்ப்பங்களிலும் வெளியீட்டின் ஒருவர் வரிசையில் நின்றுபயக்கவேண்டும் என்று கருதப்படுவதில்லை சிலவேளைகளில் காத்திருப்பப்பட்டபயனில் பெயரைப் புதிது செய்வதன் மூலம் பிணக்கேள்வி நிலைப் பொருளை பட்டியலில் வரிசைக்கிரமப்படி விளியோயிக்கலாம்

பயன் கு அடக்கவை விநியோகித்தல்: தரப்பட்ட ஒரு பொருளின் நிச்சயிக்கப்பட்ட அளவை ஒரு சிறுமையினோ ஒரு மாதத்தினோ பெறத்தக்கவையில் தனிநபருக்கோ அல்லது குடும்பத்திற்கோ வழங்கப்படும் ஒரு அனுமதிபட்டி அல்லது சீட்டு ஆகும்.

தேரித்தவர்களுக்கு பெற்றுக் கொடுத்தல்: குறித்த பொருளுக்கு பிணக்க கேள்வி நிலைப் பொது விவாயர்கள் தமக்குத் தேரித்தவர்களுக்கு அல்லது பங்கிடுசெய்வதைக் காரணமாக நடைபரிகள் நீண்ட கால வாய்க்கையாளர்கள் விவாயரினால் விடுக்க முடியாத நிலையில் உள்ள பொருள்களையும் தேரித்து வாய்க்க விடும்படி வாய்க்கையாளர்கள் பொருள்கள் இவ்வகையில் தேரித்தவர்களைக் கருதப்படுவர்.

- கருப்புச் சந்தை சந்தையால் தீயாளிக்கப்படும் விலைகளின் சீடு சட்டவிரோதமாக விடுபவையில் கடுபரும் சந்தை கருப்புச் சந்தை எனக்கருதலாம். உயர்நகராட்சி விலை எல்லா இச்சந்தையில் சட்டவிரோதமான முறையில் மீறப்படும். சந்தையின் சந்தையிலைய விடிக் கடுதனை விலையைச் செலுத்த தயாராகவுள்ள நுகர்வோர்கள் இருப்பதனால் சட்ட விரோதமான ஒரு விலையில் விடுபவை செய்யப்பட தடைநிலை உட்காது.

- சந்தர்ப்பத்திற்கேற்ப பயன் கு செய்வல் (Chance Allocation): செய்வல் பெறக்கூறப்பட்ட முறைமையையுடைய பின்பற்றுகவிடத்து பற்றாக்குறையாகவுள்ள பொருள்களை விநியோகமானது தற்செயலான வகையில் மேற்கொள்ளப்படும். உதாரணமாக பிணக்க கேள்விபுள்ள பொருள்களை வாரும் வதிப்பாராதவறு ஒரே தடையில் சில சந்தையினில் விடுபவை செய்யப்படலாம். குறித்த கந்தச் சந்தர்ப்பத்தில் சந்தையில் இருக்கும் வாய்க்கையாளருக்கு அச்சந்தர்ப்பத்தனால் நன்மை விடும்.

(ஒரு விடயத்திற்கு 02 புள்ளிகள் வீதம் ஏழேனும் மூன்று விடயங்களுக்கு மொத்தம் 06 புள்ளிகள்)

(iv) - பொருளின் விலைக்கும் கேள்வி எழுப்பப்படும் தொகைக்கும் இடையில் எதிரிக்கவிடத் தொடர்பு உண்டு. கேள்வி விதியின் மூலம் இது புறநகிய வெளியிடத்தப்படுகிறது. பொருளின் விலை உயரும் பொது நுகர்வோர் அப்பொருளுக்கு குறைந்த கேள்வியை ஏற்படுத்தவது இவ்விட காரணங்களினாலாகும்.

(1) புதிதீட்டு விளைவு (2) வரமான விளைவு என்பவற்றினாலாகும். (02 புள்ளிகள்)

வினாக்களை வினாநிலத்திலேயே கைவிட்டுச் செல்லுபவர்க்கு அவற்றின் விடைகள் வீழ்ச்சியடையக் கூடும்.

- கைத்தொழில் பொருள்களைப் போலன்றி உற்பத்தியாளரின் கட்டுப்பாட்டிற்கு அப்பாற்பட்ட இயற்கைக் காரணிகளால் (வானிலை கிருமித்தொற்றுகள்) விவசாய விளை பொருள்களின் நிரம்பலானது தீவிரமான தளம்பல்களுக்கு உட்படக் கற்புதாதும். சிறந்த காலத்தை நிலவியதன் காரணமாக எதிர்பாராத கையூட்டில் பாரிய அழிவடை பெறப்படலால் கந்தைவினையானது பாரியளவில் வீழ்ச்சியடையும். பயிர்களில் ஏற்படும் நோய்தாக்கங்கள் மற்றும் படைத் தாக்கங்கள் காரணமாக நிரம்பலில் தீவிரமாக தளம்பல்கள் ஏற்படும் போது வினையில் நிலையற்ற தன்மை ஏற்படும்.

- கைத்தொழில் பொருள்களைப் போலன்றி விவசாயப் பொருள்களை நீண்டகாலம் வைத்திருக்க முடியாத இலகுவில் கெட்டுவிடும் தன்மை கொண்டவையாதும். இவற்றின் கையிருப்புகளைப் பெறுவது கடினமான காரியமென்பதால் இலகுவில் விடைத்துளம்பல்களுக்கு உட்பட த்தக்கவையாதும்.

(ஒரு விடயத்திற்கு 02 புள்ளிகள் வீதம் ஏதேனும் மூன்று விடயங்களுக்கு 06 புள்ளிகள்)

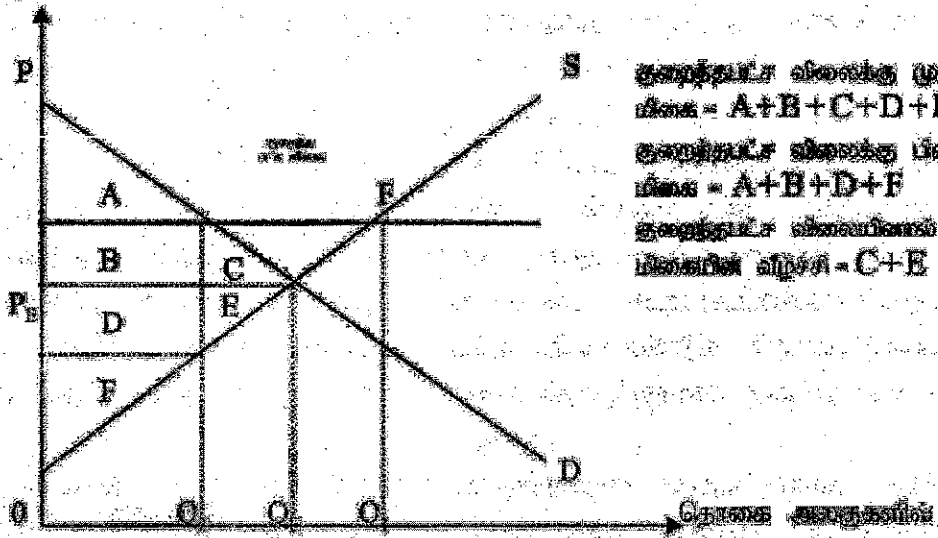
(ii) - சமூகநல வினையை விடக் கூடுதலான ஒரு வினையை குறைந்தபட்ச வினையாக ஆராய்ச்சும் நிரணமித்தால் சமூகநலையை விடக் கூடிய ஒரு வினையைப் பெற இயலாமைப்பதால் உற்பத்தியாளர்க்கு தன்மை வீழும். இதன்போது உற்பத்தியாளர் மிகை அதிகரிப்பதால் நுகர்வோர் மிகை வீழ்ச்சியடையும்.

(02 புள்ளிகள்)

- சமூகநல வினையை விடக் கூடுதலான ஒரு வினையை குறைந்தபட்ச வினையாக ஆராய்ச்சும் உற்பத்தியின் கேள்வித்தொகையை விட நிரம்பல் செய்யப்படும் தொகை அதிகரிக்கும். கந்தாலும் அரசாங்கம் அறிவித்த குறைந்த பட்ச வினையை விடக் குறைவான சந்தைநிலை வீழ்ச்சியடைய வாய்ப்பில்லை. குறைந்த பட்ச வினையில் கிழ் நுகர்வோர் 02 தொகைக்கு மட்டுமே கேள்வினை எழுப்புவதால் உற்பத்தியாளர்க்கு நிரம்பலை அதே மட்டத்தில் வைப்பதற்கு நேரிடும். இதன் விளைவாக வரையத்தக்க கட்டிடப்பட்டுள்ளபடி C+E அளவீதால் நலம் இழப்பு ஏற்படும்.

(02 புள்ளிகள்)

- குறைந்தபட்ச வினையில் பொருளாதார மிகையில் ஏற்படும் இயல்பு மீள்வரும் வரையபடம் கட்டுகிறது.
(நிலைக் குறை)



குடிநீர்தர்ப்பு விலைக்கு முன் பொருளியின் மிகை = A+B+C+D+E+F
 குடிநீர்தர்ப்பு விலைக்கு பின் பொருளியின் மிகை = A+B+D+F
 குடிநீர்தர்ப்பு விலையினால் பொருளியின் மிகையின் விழிப்பு = C+E

(பொருளியின் மிகை மாற்றங்களைக் கரியகை காட்டும் வரைபடத்திற்கு, 02 புள்ளிகள்)

(மொத்தம் 06 புள்ளிகள்)

(ii) $Q_d = Q_s$
 $720 - 4P = -120 + 2P$
 $840 = 6P$
 $140 = P$
 $Q = 720 - 4(140)$
 $Q = 720 - 560 = 160$

சமநிலை விலை (01 புள்ளி)
 சமநிலைத் தொகை (01 புள்ளி)

(ஆ) (i) மாடிகளின் பின் கொள்வனவாளர் செலுத்தும் விலை

கொள்வனவாளர் செலுத்தும் விலை (P_1) = நிரம்பலாளரின் விலை (P_2) - மகிப்பு
 நிரம்பலாளரின் விலை (P_2) = கொள்வனவாளர் செலுத்தும் விலை (P_1) + மகிப்பு
 (01 புள்ளி)

$720 - 4P_1 = -120 + 2P_2$
 $720 - 4P_1 = -120 + 2(P_1 + 15)$ (01 புள்ளி)
 $720 - 4P_1 = -120 + 2P_1 + 30$
 $720 + 120 - 30 = 4P_1 + 2P_1$
 $810 = 6P_1$
 $135 = P_1$ கொள்வனவாளர் செலுத்தும் விலை (01 புள்ளி)

(b) - நிரம்பலாளர் குழும் விலை = கொள்வனவாளர் செலுத்தும் விலை (P_1) + மகிப்பு (01 புள்ளி)
 = நிரம்பலாளர் குழும் விலை = $135 + 15 = 150$ (02 புள்ளிகள்)

(மொத்தம் 06 புள்ளிகள்)
 (மணிப்பாடுகளைப் பயன்படுத்தாமல் கரியகை வரைபடங்களைப் பயன்படுத்தி விடைகள் பெறப்படாத பின் புள்ளிவழங்கப்பட வேண்டும்.)

4. (i) குறைந்து செல்லும் அளவுத்திட்ட விளைவிக்கும் ஒரு மாறும் காரணியின் குறைந்து செல்லும் விளைவிக்கும் இடையிலான வேறுபாட்டை விளக்குக. (04 புள்ளிகள்)
- (ii) ஜயந்தன் என்பவர் தற்போது சட்ட ஆலோசனைச் சேவை நிறுவனமொன்றில் சட்டத்தரணியாகப் பணிபுரிகிறார். அதிலிருந்து சம்பளமாக மாதந்தம் 250,000 ரூபாயை உழைக்கிறார். அவர் சொந்தமாக ஒரு சட்ட ஆலோசனைச் சேவை நிறுவனத்தை ஆரம்பிக்க உத்தேசிக்கிறார். அதன் மூலம் மாதந்தம் 300,000 ரூபாய் வசூலாக உழைக்கலாமென எதிர்பார்க்கிறார். அவரது நிறுவனத்தை நடாத்திச் செல்ல அங்குக்கு அலுவலகமொன்றும் எழுதுவிண்ணொரும தேவை. அவர் அலுவலகமொன்றை 50,000 மாத வாடக்கக்குப் பெறலாம். மேலும் அவர் 40,000 மாத சம்பளத்தில் ஒரு எழுதுவிண்ணொன்றை வேலைக்கமர்த்த முடியும்.
- இத்தரவுகள் சரியாக இருப்பின் ஜயந்தனின் சட்ட ஆலோசனை நிறுவனம் ஒரு பொருளியல் இலாபத்தை உழைக்க முடியுமா? உடனு விடையை விளக்குக. (04 புள்ளிகள்)
- (iii) ஐத நிறைவேட்டிற்கு கைத்தொழிலின் நான்கு பிரதான பண்புகளைக் கூறுக. (04 புள்ளிகள்)
- (iv) நெல்லுக்கான சந்தை நிறைவேட்டைத் தன்மை கொண்டதாகக் கருதுக. இச்சந்தையில் உள்ள நிறுவனங்கள் நெல்லை உற்பத்தி செய்த போதிலும் தற்போது அவை பொருளியல் நீட்டித்தை எதிர்கொள்கின்றன.
- (அ) நிறுவனத்தின் சராசரி மொத்தச் செலவு (ATC), சராசரி மாறும் செலவு (AVC), மற்றும் எல்லைச் செலவு (MC) என்பவற்றுடன் இந்நிலையின்போது நிலைநெல்லுக்கான சந்தை விலையை ஒப்பிடுக. (03 புள்ளிகள்)
- (ஆ) தற்போது இந்நிலைமையானது சந்தையிலும் உற்பத்தி நிறுவனத்திலும் பிரதிபலிக்கும் விதத்தை அருககூடே இரு எண்பட்டங்களை வைத்து காட்டுக. (05 புள்ளிகள்)

04(ii) - குறைந்து செல்லும் அளவுத்திட்ட விளைவு விதியானது சகல உள்ளீடுகளும் மாறும் உள்ளீடுகளாகக் காணப்படும் நீண்ட காலத்திலேயே தொழிற்படும். மாறும் உள்ளீடுகளின் குறைந்து செல்லும் விளைவானது நிலையான உள்ளீடுகளை மாற்றியன்றி கைத்துண்டுகளாக மாறும் உள்ளீடுகளை மாத்திரம் அதிகரிக்கக் கூடிய குறுகியகாலத்திலேயே தொழிற்படும். (02 புள்ளிகள்)

நிலையான உள்ளீடுகளை தொழிற்படையில் அளவினை அதிகரிக்கும் போது விளைத்திறவில் ஏற்படும் மாற்றத்தை குறைந்து செல்லும் அளவுத்திட்ட விளைவு காட்டுகிறது. மாறும் உள்ளீடுகள் குறைந்து செல்லும் விளைவானது கார்புட்ட நிலையான உள்ளீடுத் தொகையுடன் மாறும் உள்ளீடுகளை அதிகரிக்கும் போது மாறும் உள்ளீடுகள் விளைத்திறவில் ஏற்படும் மாற்றத்தை காட்டுகிறது. (02 புள்ளிகள்)

(ii) - பொருளியல் இலாபம் = மொத்த வருவாய் - மொத்த பொருளியல் செலவு (அடையச் செலவு)

- மொத்த வருவாய் = ரூப 300,000

- மொத்த செலவு = நேரடி செலவுகள் + உள்ளார்ந்த செலவுகள்

நேரடி செலவுகள் = வாடகை + எழுதுவிண்ணொன்றின் சம்பளம்

= 50,000 + 40,000 = 90,000

உள்ளார்ந்த செலவுகள் = முன்பைய தொழிலில் பெற்ற வருவாகம் (இழக்கப்படும் சம்பளம்)

= ரூப 250,000

- மொத்த செலவு = 90,000 + 250,000 = 340,000

(02 புள்ளிகள்)

- * பொருளியல் இலாபம் - மொத்த வருவாய் - மொத்த செலவு
- * பொருளியல் இலாபம் * 300,000 - 340,000 * = 40,000
- * மொத்த வருவாயை விட மொத்தச் செலவு அதிகமாகையால் பொருளியல் இலாபம் உடனடிக்க முடியாது.

(02 புள்ளிகள்)

(iii) நிறைவேற்றத் தொழிலின் பிரதான பண்புகள்

- கொள்வனவாளரும் விற்பனையாளரும் பெரும் எண்ணிக்கையில் காணப்படல்
- பொருளியல் ஓரிடத்தன்மை வாய்ந்த பொருள்கள் உற்பத்தி செய்யப்படல்.
- தடையற்ற பிரவேச வெளியேற்ற சுதந்திரம்.
- கொள்வனவாளரும் விற்பனையாளரும் சந்தை பற்றிய புண அறிவுடையவர்களாகக் காணப்படல்.

(ஒரு விடயத்திற்கு, தன 01 புள்ளி வீதம் தான்கு விடயங்களுக்கு 04 புள்ளிகள்)

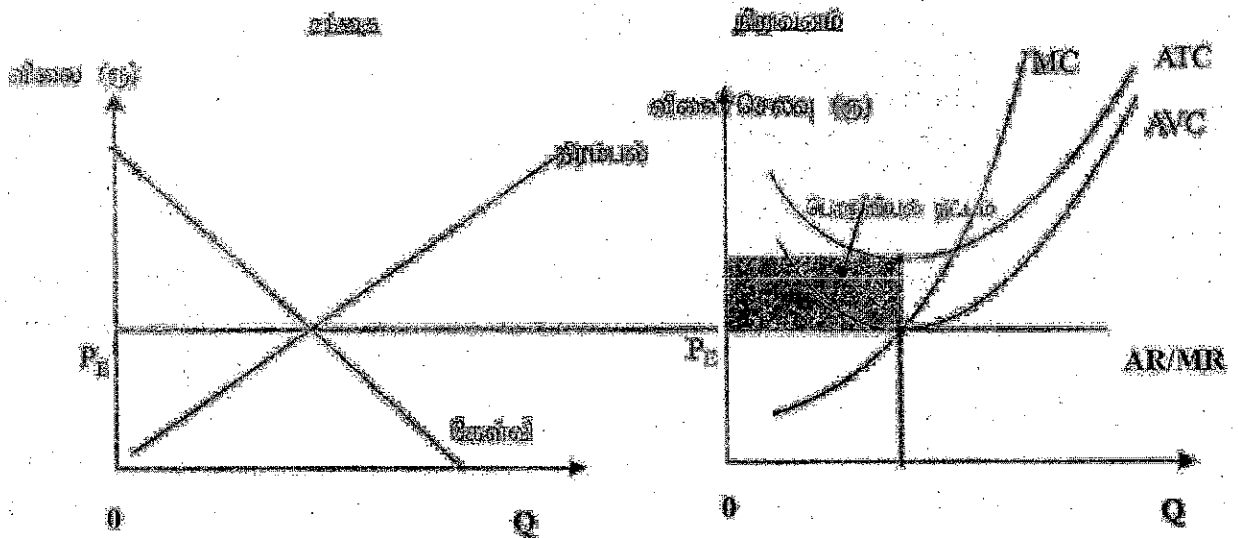
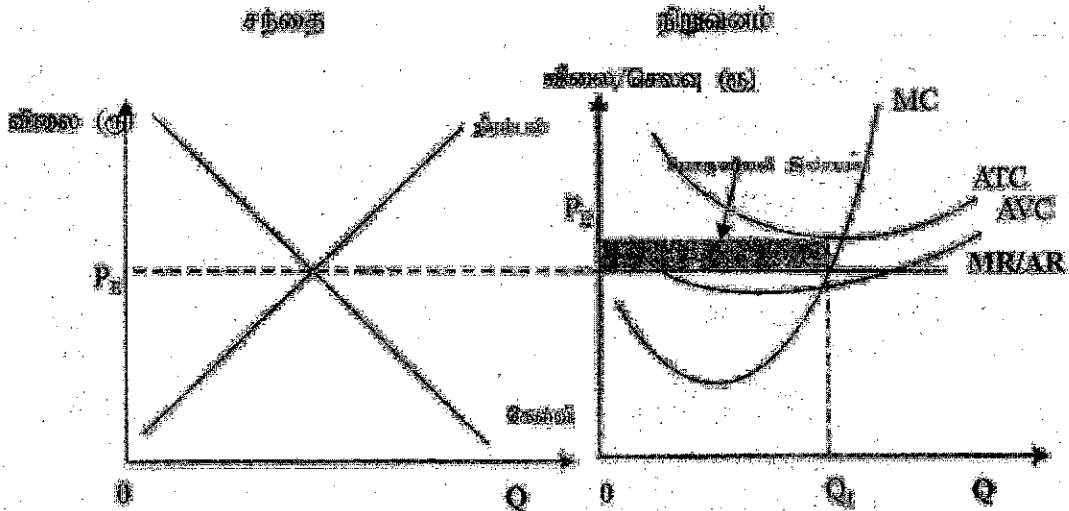
(iv) (அ) - நெல் சந்தையில் உள்ள நிறுவனங்கள் பொருளியல் நடவடிக்கை நடத்த போதினால் தொழிலில் தொடர்ந்து கடுமையான அவற்றின் மொத்தச் செலவு சந்தை விவையை விட உயர்வாக இருக்கவேண்டும். (01 புள்ளி)

- நெல் சந்தையில் உள்ள நிறுவனங்கள் பொருளியல் நடவடிக்கை நடத்த போதினால் தொழிலில் தொடர்ந்து கடுமையான அவற்றின் சாசநி மாறும் செலவானது சந்தைவிவையை விடக் குறைவாக இருக்க வேண்டும். சில வேளைகளில்

நிறுவனங்கள் தமது சுறாணி மாறுதல்களை சந்தைவிலைக்குச் சமனாக உள்ள (தொழில் நிறுத்தப் புள்ளி) நிலையிலும் உற்பத்தியில் தொடர்ந்து ஈடுபடும். விவரத்தில் சந்தை நிலைமைகள் காதலமாக மாறும் என்று எதிர்பார்க்கையில் அவ்வாறு நிகழலாம். (01 புள்ளி)

நட்டமாவும் பொதினும் உற்பத்தியில் தொடர்ந்து ஈடுபடுவது இலாப உச்சப்படுத்தல் (நட்டத்தை இழிவுபடுத்தல்) விதிக்கு (MC=MR) அல்லாதா என்பதால் நிறுவனங்களின் எண்ணச் செலவு சந்தை விலைக்குச் சமப்ப வேண்டும். (01 புள்ளி)

(அ) வரைபடம்



(சந்தைவிலைச் சரியாகக் காட்டும் வரைபடத்திற்கு தவற 01 புள்ளி. நிறுவனத்தைச் சரியாகக் காட்டும் வரைபடத்திற்கு 02 புள்ளிகள். பொருளியல் நட்டத்தைச் சரியாகக் காட்டுவதற்கு 02 புள்ளிகள். பொதுதம் 05 புள்ளிகள்)

5. (i) பெருளவு மொத்த உள்நாட்டு உற்பத்தி, மெய் மொத்த உள்நாட்டு உற்பத்தி மற்றும் தலைக்குரிய மொத்த உள்நாட்டு உற்பத்தி என்பவற்றை வரைவீகைகளைப்படுத்துக. (03 புள்ளிகள்)
- (ii) மொத்த உள்நாட்டு உற்பத்தியானது ஒரு பொருளாதாரத்தின் எல்லா உற்பத்தி நடவடிக்கைகளினதும் ஒரு மிகை மதிப்பீடாக அமைபுமா அல்லது குறை மதிப்பீடாக அமைபுமா? உமது விடையை விளக்குக. (04 புள்ளிகள்)

(iii) பின்வரும் அட்டவணை ஒரு விட்டுத்தொறயின் நுகர்வுத் தொழிற்பாட்டைக் காட்டுகிறது.

| செலவிடத்தக்க வருமானம் (ரூப) | நுகர்வுச் செலவிடு (ரூப) |
|-----------------------------|-------------------------|
| 0 | 3 000 |
| 3 000 | 5 400 |
| 6 000 | 7 800 |
| 9 000 | 10 200 |
| 12 000 | 12 600 |
| 15 000 | 15 000 |
| 18 000 | 17 400 |

- (அ) செலவிடத்தக்க வருமானம் ரூப 9 000 விலும் ரூப 18 000 விலும் விட்டுத்தொறயின் சராசரி நுகர்வு நாட்டினதையும் (APC) இச் செலவிடத்தக்க வருமான விகிதங்கள் எல்லை நுகர்வு நாட்டினதையும் (MPC) கணிப்பிடுக. (04 புள்ளிகள்)
- (ஆ) விட்டுத்தொறயின் நுகர்வு தொழிற்பாட்டின் சமன்பாட்டையும் சேமிப்புத் தொழிற்பாட்டின் சமன்பாட்டையும் எழுதக. (04 புள்ளிகள்)
- (இ) நாட்டின் தகவல்களைப் பயன்படுத்தி விட்டுத்தொறயின் நுகர்வுத் தொழிற்பாட்டையும் சேமிப்புத் தொழிற்பாட்டையும் ஒரு வரைபடத்தில் வரைந்து காட்டுக. (05 புள்ளிகள்)

03. (1) - குறித்த ஒரு காலப்பகுதியில் (பொதுவாக ஒரு காலகணித அல்லது ஒரு ஆண்டு) ஒரு நாட்டின் உற்பத்தி செய்ப்பாட்டும் நுகர்ப்பு பொருள்களின் மொத்தவிலையின் மையநிலையை பெறுமதியை அடிகாணப்படுத்துதலில் நினைவாக விவரணைகள் அடிப்படையில் மதிப்பீடு செய்ப்பாட்டும் பொது அது பெருளவீகை மொத்த உள்நாட்டு உற்பத்தி எனக் கூறப்படுக. (01 புள்ளி)

அல்லது

குறித்த ஒரு காலப்பகுதியில் (பொதுவாக ஒரு காலகணித அல்லது ஒரு ஆண்டு) ஒரு பொருளாதாரப் பிடிதொகுதியில் வர்த்தகவராகக் காணப்படுகிற சிலர் உற்பத்தி அல்லது நுகர்வு உற்பாக்கிய மதிப்பீட்டை பெருளவீகைக் காட்டுவதற்காக அடிகாணப்படுதலில் நினைவாக விவரணைகள் அடிப்படையில் கணிப்பீடு செய்ய அத்துடன் மையநிலைகளைக் கழித்து வர்த்தகவராகக் காண்பு பெறப்படும் பெறுமதி பெருளவீகை மொத்த உள்நாட்டு உற்பத்தி எனக்கூறப்படும். (01 புள்ளி)

மெய் மொத்த உள்நாட்டு உற்பத்தி என்பது குறித்த ஒரு ஆண்கள் பெருளவீகை மொத்த உள்நாட்டு உற்பத்தியை விவரணைப்படுத்தலில் ஏற்பட்ட மாற்றங்களை வி சீராகக் செய்து பெறப்படும் பெறுமதியாகும். (01 புள்ளி)

தலைக்குரிய மொத்த உள்நாட்டு உற்பத்தி என்பது பெருளவீகை மொத்தவீகை கணிப்பீட்டை மொத்த உள்நாட்டு உற்பத்தியை அந்தாட்சு நிகழ்வின் கணித்தொகையினால் மீட்டியும் மொத்த பெறப்படும் பெறுமதியாகும். (01 புள்ளி)

(ii) விசை மதிப்பீடு

- குறையாதும் விசை செலுத்தப்படாத கற்றுச் சூழல் மாசடைதல் உயிரினங்களுக்கு விளைவிக்கப்படும் தீங்குகள் போன்ற கற்றுடல் விளைவிக்கல் தொடர்பான உள்நாட்டு உற்பத்தியில் உள்ளடக்கப்படுவதில்லை.
- கற்றுச் சூழல் மாசடைதலின் தீய விளைவுகள் கற்று மாசடைதலைக் குறைப்பதற்கான சிற்செய்தல்களையும் செலவுகள் தொடர்பான உள்நாட்டு உற்பத்தியிலிருந்து கழிக்கப் படுவதில்லை.
- வளத்திறன் தேவையைத் தவிர பல்விதத்தன்மை அற்றப்போதல் போன்ற ஒரு நாட்டின் சிற்செய்தல்களின் பெறுதலில் ஊழலும் மாற்றங்கள் தொடர்பான உள்நாட்டு உற்பத்தி புள்ளிவிவரங்களில் உள்ளடக்கப்படுவதில்லை.
- நன்மை பயப்பவை (goods) தீயவிதப்பவை (bads) ஆகிய இரு வகையானவை தொடர்பான உள்நாட்டு உற்பத்தி கவனத்திற் கொள்ளப்படாத ஒரு நாட்டின் முன்புநிர்ச்சி அல்லது களாயி் போன்ற இயற்கை அளத்தத்தின் பின்னர் சிற்செய்தல்களையும் மீள் கட்டுமானங்கள் காரணமாக அற்றாடும் தொடர்பான உள்நாட்டு உற்பத்தி அதிகரிக்கும். ஊழலும் தேய்வாழ்ப்பட்ட பின்னர் அதிலிருந்து குறைவடையும் தொடர்பான சிற்செய்தல்களும் செலவுகளால் தொடர்பான உள்நாட்டு உற்பத்தி அதிகரிக்கும். ஆனால் உள்நாட்டு உற்பத்தி அதிகரித்தாலும் முன்புநிர்ச்சி ஏற்படுவதையோ சிற்செய்தல்களையோ காரணம் நல்லவிடயமாகக் கருத முடியாது. (ஒரு விடயத்திற்கு 02 புள்ளிகள் வீதம் வீதமும் இரண்டு விடயங்களுக்கு தொடர்பான 04 புள்ளிகள்)

குறை மதிப்பீடு

- குறைவடைகக்கூடியது சந்தைகளில் சிற்செய்தல்களையும் பயன்பிடு செலுத்தக்கூடியவர்கள் தொடர்பான உள்நாட்டு உற்பத்தியில் கவனத்திற் கொள்ளப்படுவதில்லை. குறைவ தவறு விடும் சிற்செய்தல்களும் கதிதிரிப்பு உடமை சமனத்தல் குறைவடைகக்கூடிய போன்ற மீள்பெறுதல்களையும் தொடர்பான கவனத்திற் கொள்ளப்படுவதில்லை.
- கற்றுத்திறக்கும் அல்லது முறைசாராப் பொருளாதாரத்தில் இடம்பெறும் பல்வேறு பயன்பிடு பொருளாதாரச் செயற்பாடுகள் தொடர்பான உள்நாட்டு உற்பத்தியில் போதியவை செயல்படுத்தப்படுவதில்லை. கட்டுவிரோதமாக நடைபெறும் பொருள்கள் செலவுகளின் உற்பத்தி நடவடிக்கைகள் கதிதிரிப்பு மற்றும் குறைவடைகக்கூடிய நடவடிக்கைகளிலிருந்து தவிர்க்கும் தொடர்பான உள்நாட்டு உள்நாட்டு உற்பத்தியை அதிகரிக்கக்கூடிய பொருளாதார நடவடிக்கைகள் தொடர்பான உள்நாட்டு உற்பத்தியில் உள்ளடக்கப்படுவதில்லை.
- தொழிலுட்ப முன்னேற்றத்தின் நன்மைகளை திறமையானபடி கையாடல்த்தில் உள்ளவர்க்கு தொடர்பான உள்நாட்டு உற்பத்திப் புள்ளிவிவரங்கள் தவறிவிடுகின்றன. இலாபமடைதல்கள் ஊழலும் நலன்களும் நன்மைகளுக்கும் வாதிக்கையும் உத்தியோகவழங்கு தரவுகள் போதியளவில் செயல்படுத்தப்படுவதில்லை. இலாபமடைதல்களும் இலாபமடைதல்கள் கிடைக்கும் செலவுகளும் சிற்செய்தல்களும் (விதிவரையங்கள் சமூக அடிக வளைபின்னால் உற்பத்திமுறைய தகவல்கள் விகிதீயம்) தேயி கவனத்தில் போதியளவில் மதிப்பீட்டிற்கு உட்படுத்தப்படுவதில்லை. (ஒரு விடயத்திற்கு 02 புள்ளிகள் வீதம் வீதமும் இரண்டு விடயங்களுக்கு தொடர்பான 04 புள்ளிகள்)

(iii) (அ) ரூபா. 9,000 வருமான மட்டத்தில் சராசரி நுகர்வு நூலீடம் (APC)

$$APC = C/Y_1 = 10200/9000 = 102/90 = 1.13$$

(01 புள்ளி)

- ரூபா. 18,000 வருமான மட்டத்தில் சராசரி நுகர்வு நூலீடம்

$$APC = C/Y_2 = 17400/18000 = 174/180 = 0.97$$

(01 புள்ளி)

- ரூபா. 9,000 - 18,000 வருமான வீதம் மாற்றம் நுகர்வு நூலீடம்

$$= (17400 - 10200) / (18000 - 9000) = 7200/9000 = 4/5 = 0.8$$

(02 புள்ளிகள்)

(ஆ) - வீட்டுக்குறையில் நுகர்வுச் சார்பு, $C = a + bY_1$

- மாறாத நுகர்வு (a) = 3000

- மாற்றம் நுகர்வு நூலீடம் (b) = 0.8

- நுகர்வுச் சார்பு $C = 3000 + 0.8Y_1$

(02 புள்ளிகள்)

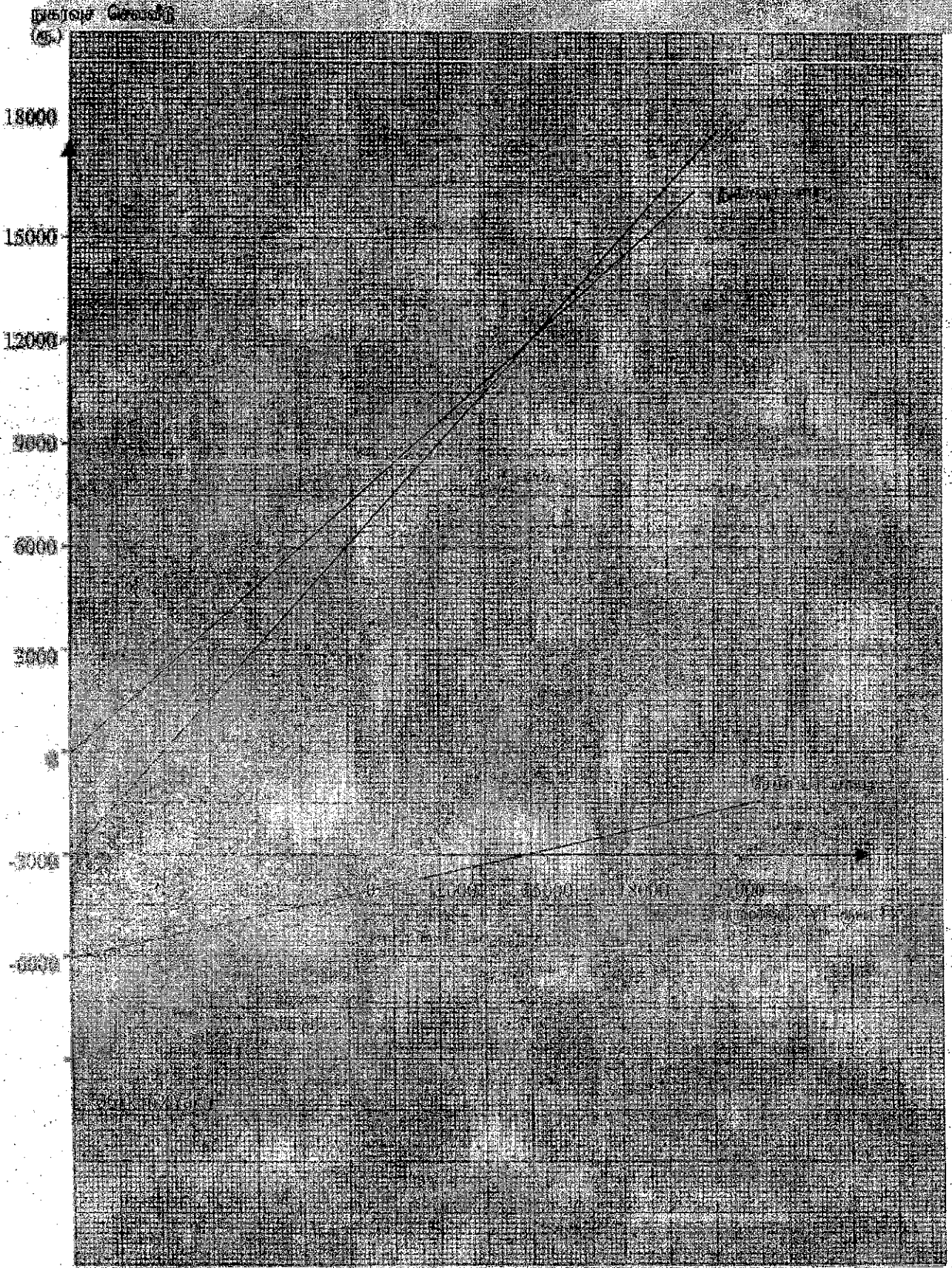
- வீட்டுக்குறையின் சேமிப்புச் சார்பு $S = -a + (1-b)Y_1$

$$S = -3000 + 0.2Y_1$$

(02 புள்ளிகள்)

இந்நுகர்வுச் சார்பையும் சேமிப்புச் சார்பையும் வரையறுக்கும் கார்ட்டை

மறு பக்கம் பற்றிக்கொள்



(03 புள்ளிகள் நுகர்வுச் சார்பிற்கும் 02 புள்ளிகள் சேமிப்பு சார்பிற்குமாக மொத்தம் 05 புள்ளிகள்)

உ.ப. பகுதி - 'ஆ'

(இப்பகுதியிலிருந்து ஆகக்குறைந்தது இரண்டு வினாக்களைத் தெரிவுசெய்க.)

- 6. (i) அன்மீய பணத்திற்காக, பணப் பதிலீடுகளுக்கும் இடையிலான வேறுபாட்டைத் தகுது. (04 புள்ளிகள்)
- (ii) தற்போது இலங்கையில் நிலவும் உயர் பணவீக்கத்திற்கான காரணங்கள் நூல்களைக் குறிப்பிடுக. (04 புள்ளிகள்)
- (iii) பணத்திற்கான கேள்விக்கும் வட்டி வீதத்திற்கும் இடையிலான தொடர்பை விளக்குக. (05 புள்ளிகள்)
- (iv) பணநிறுவனங்களைக் கட்டுப்படுத்த மத்திய வங்கியிடம் உள்ள வேறுபட்ட நூல் முறைகளைக் குறிப்பிடுக. (07 புள்ளிகள்)

06.(i) - பணமாகக் கருதப்படாத ஆனால் மிக இலகுவில் பணமாக மாற்றிக்கொள்ளத்தக்க தரையைப் பிரகடனம் செய்து கொடுத்தால் அன்மீயபணமாகக் கருதப்படும். பெறுமானத்தீரட்டாக பணத்தின் பணியைச் செய்பவர்களுக்கும் அன்மீய பணமாகக் கருத முடியும். ஆயிரம் அளவற்ற அளவற்றப் பரிமாற்றங்களாகப் பயன்படுத்த முடியாது. (01 புள்ளி)

- நிலையான மற்றும் கோரிய வரையறை நினைவேரி உண்மையில் முத்திரைவையும் நிலையாக உள்ள நினைவேரி முறிகள் ஐக்கிய அமெரிக்க டொலர் யூரோ பென் போன்ற அதிகாரத்தில் கொடுக்கல் வங்கிக் செய்பவரும் கோரிநாட்டு நாணயங்கள் கொண்டுள்ள அன்மீய பணத்திற்கு உதாரணமாகக் கொள்ளலாம். (01 புள்ளி)

- மதுபானம் பயன்படுத்திக் கொள்கக் கருதப்படுபவை பெறுமானத் தீரட்டாக பணத்தின் பணியை ஆற்றும் அதிகாரத்தை பரிமாற்ற காலகாலத்தி தற்காலிகமாகப் பயன்படுத்தக் கருது கொடுக்கலாகும். (01 புள்ளி)

- வங்கியின் நடைமுறைகளைக்கொண்டு மீது எழுதப்படும் பணிகளைக்கொண்டு கட்டிடங்கள் கொண்டுள்ள நிலைய நாணயங்கள் (நோட் பீப்பர்) வங்கியின் தற்போது நடைமுறைகளைக் கொண்டுள்ள பணியைக் கொண்டுள்ள இலங்கையின் கட்டிடங்கள் பயன்படுத்திக் கொண்டுள்ள உதாரணமாகக் கொள்ளலாம். (01 புள்ளி)

(ii) - ஒப்பீடுகள் தெருக்கது வானிலை மாற்றங்கள் கொண்டு, கொண்டுள்ள பரிமாற்றங்கள் நாணயத்திற்கும் இடையிலான மாற்றம் போன்ற பணியை அளவற்றவைக் கொண்டுள்ள மீது உள்நாட்டு மற்றும் உள்நாட்டு நிதியாக அன்மீயில் ஒருபட்ட முத்திரைக் காரணமாக உள்நாட்டுக்குள்ளாகக் கொண்டுள்ள ஒருபட்ட மிகத் துடி அதுவர்ப்பு.

- அத்தியாவசியப் பொருள்களின் இறக்குமதிக்கத் தடைசெய்தால் விவசாய உள்நாட்டுகளின் கொண்டுள்ள அதிகரித்தவை இரகசிய வளங்குகளின் பயன்பாட்டைத் தடை செய்தால் உடனடியாக இவ்வகை உள்நாட்டுக் பயன்பாட்டுக்கு மாற்றியமைக்கல் விவசாய விவகாரங்களில் விவகாரக் கருத்தியை வீழ்ச்சியடைந்தால் போன்ற உள்நாட்டுக் கொண்டுள்ள பரிமாற்றக் காரணமாக நிதியில் சர்க்காரில் முறிகள் தீவிரமாகத்தலை.

- மீட்பெரிய பாதீட்டுக் குறைவினையை நிர்ப்பும் கொண்டு அரசாங்கம் வட்டியிடுகளைக்கொண்டு குறைந்து விரிவாக்கப் பணக்கொண்டுவைக் கையாண்டால். 2019 டிசம்பர் மாதத்திலிருந்து 2021 ஆகஸ்ட் மாதம் வரையிலான காலகாலத்தில் இலங்கையில் பணநிறுவல் 2.5 டிரில்லியன் ரூபாவிலால் 42 சதவீதத்தினால் அதிகரித்தது.

- இலங்கை நாணயத்திற்கு மேல் நிலைய கொண்டு கொண்டுள்ளும் நிலையான கொண்டுள்ள முறைகளுக்கும் கொண்டுள்ள பாரிய அத்தியக் கொண்டுள்ள தெருக்கது நிலையான மத்தியேக்கக் கொண்டுள்ள அதிக விவகாரக் உள்நாட்டுகள் கொண்டுள்ள

உயர் மருத்துப்பொருள்கள் போன்ற அத்தியாவசியமான இயக்குமதிகளை பெற்றுக் கொள்வதைக் கடினமாக்கியது.

- நான்ய மருந்துவிதம் தேய்வடைந்தமை : 2022 மார்ச் மாதத்திலிருந்து நான்ய மருந்துவிதத்தை மிகக்க விட அனுமதித்த பின்னர் இரண்டு மாத காலப்பகுதிக்குள் அமெரிக்க கொலரிஸ் பெறுமதி 365 ரூபா வரை அதிகரித்தது. இரண்டுமாத காலப்பகுதியிலுள்ள நான்யமருந்து விதம் 80 சதவீதத்திலாவும் தேய்வடைந்தமையானது 100 சதவீதத்திற்கு மேல் உணவுப் பணவீக்கம் அதிகரிக்க முக்கிய பங்களிப்புச் செய்தது.

- முழுப்பொருளாதாரமும் சுருக்கமான நேரம் : அண்மைய ஆண்டுகளில் இலங்கைப்பொருளாதாரம் தீவிரமாகச் சுருக்கியமையும் பணவீக்கப் போக்குகள் வருவனாய்க் காரணமாகும்.

பொருளாதார வளர்ச்சி வீதம் :

| | |
|--------|-------|
| • 2020 | -3.6% |
| • 2021 | 3.3% |
| • 2022 | -3.8% |

(இது விடயத்திற்கு O1 புள்ளி வீதம் ஏதேனும் தனித் தனி விடயங்களுக்கு O4 புள்ளிகள்)

(iii) - உத்தேசப்பெட்டி பணக் கேள்வி விவகரத்தையும் அடங்கித்தந்தும் பணத்திற்கு அடங்கி கேள்விகளும் இலாபக் ஏதேக்கமைய தொடர்பு காணப்படுகிறது.

(O1 புள்ளி)

- வட்டிவீதம் குறைவடையும் போது ஒரு சிலத்தாக பணநிறுவனங்களுக்கான கேள்வி அதிகரிக்கும். முறிகளின் விலைகள் வட்டிவீதத்தின் அதிகரிப்பைத் தொடர்பாகக் கொண்டுள்ளன. வட்டிவீதங்கள் அதிகரிக்கும் போது முறிகளின் விலைகள் குறைவடைவதுடன் வட்டிவீதம் குறைவடையும் போது அவற்றின் விலைகள் அதிகரிக்கும்.

O1 புள்ளி

- முறிகளின் விலையில் ஏற்படும் இத்தகைய தளம்பலங்கள் காரணமாக முறிகளின் விலைகள் குறைவடையும் காலப்பகுதியில் (அதுவது வட்டிவீதம் உயர்வாக இருக்கும் சந்தர்ப்பங்களில்) அவற்றைக் கொள்வனவு செய்வதன் மூலமும் அவற்றின் விலைகள் உயர்வாக உள்ளபோது (அதுவது வட்டிவீதம் குறைவாக உள்ளபோது) அவற்றை விற்பனை செய்வதன் மூலமும் முறிகளை வைத்திருப்போர் மூலமும் இலாபத்தை உண்டாக்கலாம்.

O1 புள்ளி

- விவரமுறியிலும் பணத்திற்கு வகைகள் வைத்திருக்கும் போது காணப்படாத இடர்ப்பாயம் முறிகளை வகைகள் வைத்திருக்கும் போது ஏற்படுவதைக் காரணமுமும் இதனால் ஏதேக்காலத்தில் வட்டிவீதம் குறைவாக என ஏதேயார்க்கும் நபர்கள் முறிகளின் ஏதேக்கால் விலைகள் அதிகரிக்கும் என ஏதேயார்க்கும் இதை மூலம் மூலதன இலாபத்தை உண்டாக்கும் போக்கில் நிபந்தனாவற்றில் பணக்கையிருப்புகளை வைத்திருப்பதற்கான கேள்வியைக் குறைத்து முறிகளை அதிகளவில் கொள்வனவு செய்வார். மறுமும் ஏதேக்காலத்தில் வட்டிவீதம் அதிகரிக்கும் என ஏதேயார்க்கும்போது நிபந்தனாவற்றில் முறிகளைக் கொள்வனவு செய்யாமல் வகைமுறிகள் பத்திரங்களையிற்பனை செய்து பணநிறுவனங்களுக்கான கேள்வியை அதிகரிப்பார்.

O1 புள்ளி

- பண நிறுவனங்கள் ஏதேக்கம் வைத்திருப்பதற்கான அமையச் செலவாக வட்டிவீதம் சுருதியும். இதனால் வட்டிவீதம் அதிகரிக்கும் போது பணநிறுவனங்களை வகைகள் வைத்திருப்பதற்கான அமையச் செலவு அதிகரிக்கும். அதனால் வட்டிவீதம் உயரும் போது பணத்திற்கான கேள்வி குறைவடையும்.

O1 புள்ளி

(மொத்தம் O4 O1 புள்ளிகள்)

(iv) - பன்னிர்ப்பணக்க கட்டுப்படுத்துவதற்கான மத்தியவங்கியின் பரந்த அடிப்படையிலான நடவடிக்கைகள் உள்ளன.

- கொள்வனவு வட்டி விதிகள்
- திறந்த சந்தை நடவடிக்கைகள்
- நிதியுதி ஒதுக்கல் விதம்
- வங்கி வட்டிவிதம்
- மின் நிதியியல் வசதிகள்
- கடன்கள் மீதான தொண்டக் கட்டுப்பாடுகள்
- வட்டிவீத உயர் எல்லைகளை நிரணயித்தல்
- கடன் கடிதங்களுக்கான எல்லைத் தேவைப்பாடுகளை நிரணயித்தல்
- அந்நியச் செலாவணி நடவடிக்கைகள்
- கடன்கள் மீது பெறுமதி விதங்களைச் சமத்துதல்
- நெறிமுறைக் கட்டுப்பாடுகள்

(ஒரு விடயத்திற்கு 01 புள்ளி வீதம் எனினும் ஒரு விடயங்களுக்கு 07 புள்ளிகள்)

7. (i) பின்வரும் பொருள்களை பொதுப் பொருள், சமன்மைப் பொருள்கள், திங்கு விளைவிக்கும் பொருள்கள் என வகைப்படுத்துக.

- (அ) வானொலி ஒலிபரப்புகள்
- (ஆ) தடுப்புகியேற்றல்
- (இ) சிகரட்டுகள்
- (ஈ) அருங்காட்சியகங்கள்

(04 புள்ளிகள்)

(ii) நேர் வரிகளினதும் நேரில் வரிகளினதும் அலுவலகங்களையும் பிரதிக்ஸலங்களையும் ஒப்பிடுக.

(04 புள்ளிகள்)

(iii) (அ) வரி விளைவு என்பதால் கருதப்படுவதென்ன?

(02 புள்ளிகள்)

(ஆ) வரியின் சுட்ட ரீதியான விளைவு, பொருளியல் விளைவு என்பவற்றை வேறுபடுத்துக.

(04 புள்ளிகள்)

(iv) நுகர்வின் ஒரு வகைக்கணிப்ப வெளிவரியாவது ஒதுக்கீடு விளைத்திறனை எவ்வாறு பாதிக்கும்? ஒரு வரைபடத்தைப் பயன்படுத்தி உமது வினையை விளக்குக.

(06 புள்ளிகள்)

07. (1) - (அ) வசனவளி ஒலிப்பு - பெரும்பொருள்
 (ஆ) தடுப்பி ஒற்றல் - சமூகநலப்பொருள்
 (இ) சிசுர - தீங்குவிளைக்கும்
 (ஈ) அநுகமடசிபகம் - சமூகநலப்பொருள் (04 புள்ளிகள்)

(2) **சேர் வரி**

| அனுசலனங்கள் | பிரதிகலனங்கள் |
|--|--|
| 1. மீசலும் நியாயத்தன்மை சொண்டது வரிசெலுத்தும் அற்றலடைபொர் வீது மட்டும் வலித்திப்பும் விசுத்திருமைத் தன்மை சொண்டதாதும். | 1. வேலை சொம்பும் விசுப்பித்தையும் விசாபாறங்களை நடத்திச் செலுத்தும் அற்றலையும் குறைக்கும். முனைசாறிகள் சொரியுறத்தை ஊக்குவிக்கும். |
| 2. வரிச்தமையை நினைப்பது இலகுமைது. தமையை இடம்பெயற் செய்வது கடினம். | 2. ஆர்.காரிவதும் கம்பலிசாரிவதும் சேர்ப்புணை குறைக்கும். |
| 3. வரிஅறவிடு இலகுமைது. உடம்ப PAYE வரிபாறை உபரி சங்கரை பெறவேரிடமிதந்து அறவிடப்படுக வதமைய வரிபாகும். | 3. வரி மும்பு வரி தவிர்ப்பு என்பவற்றை ஊக்குவிக்கும். |
| 4. அறசாறத்தின் வேள்விப்பகல் வேள்விப்பொறாறாதற்கு சொன்சககருக்கு மீசலும் நிசியமையமைது. | 4. வரி செலுத்தலில் விதிக் செய்ப செலுத்தமைது இல்லையா எற்று வாய்ப்பில்லை. வரி செலுத்தவதைத் தவிர்த்த முடியாது. |

(3) அனுசலனத்திற்கு 01 புள்ளி துறு பிரதிகலனத்திற்கு 01 புள்ளி மொத்தம் 02 புள்ளிகள்

| தேரில் வரி | |
|--|---|
| அணுகல்கள் | பிரதிகல்கள் |
| 1. தேரில் வரிபின் வரிவிளைவைத் தாக்கத்தை சீரமைப்பது இலகுவாகும். | 1. தேரில் வரிகள் குறைந்து செல்லும் போக்குடைபடையாகும். வருமானத்தில் சதவீதமாக நோக்குபீடத்து வரியவர்கள் மீது அதிக சுமை ஏற்படும். |
| 2. விளைவை நுகர்வு நடவடிக்கைகளைக் குறைக்கப் பயன்படுத்தலாம். உ-ள் நடவடிக்கை புறகயினை | 2. வரிசேகரிப்பானது கடினமானதும் செலவு கடினமானதும். |
| 3. தெளிவற்ற கேள்வியுடைய பொருள்கள் மீது தேரில்வரி விதிப்பதன் மூலம் வரி வருவாயை அதிகரிக்கலாம். | 3. வரிபின் மூலம் சீர்ப்படக்கூடிய வரிவருவாயை முன்னோக்கிய எதிர்வு கூறுவது கடினமானது. |
| 4. விளைவை செய்வதற்கான விருப்பத்தில் பாதிப்பை ஏற்படுத்தலாம். | 4. பணக்கேள்வியிற் கு நோடியாகப் பணக்களாகும். |

(ஒரு அணுகல்களிற்கு 01 புள்ளி ஒரு பிரதிகல்களிற்கு 01 புள்ளி கொடுக்கல் 02 புள்ளிகள்)

(iii) (அ) - வரி விளைவை/வரித்தாக்கம் என்பதனால் கருதப்படுவது யாதெனில் வரி ஒன்றின் சீரமைப்பை பணக்களாக வரிக்கலை இறுதியாக சென்றடையும் இடமாகும். இது வரிப் பெறுதலின் செயல்முறையின் இறுதி விளைவாகவும் இருக்கும். இதற்கிடையில் குறித்த நடவடிக்கை வரிக்கலை விருத்தியின் அடிப்படையில் வரிக்கலையை இடம் பெறுதல்களையே உருவாக்குகிறது. இறுதி வரிக்கலையானது பெறுவதற்கான பணக்களாக குறுக்கை இடம்பெறும் போது செல்லும் கடினம். (01 புள்ளிகள்)

(ஆ) - சட்டத்தின்படி வரிவிளைவை/வரித்தாக்கம் பொருளாதார வரிவிளைவை என இருவகையான விளைவுகள் உள்ளன. பெருக்கத்தில் அளவளவுத்திற்கு வரிசெலுத்த சட்டத்தின்படி கட்டுப்பாட்டுள்ள நபர்களும் கம்பனிகளும் பெறுத்தும் வரிபின் அளவு சட்டத்தின்படி வரிவிளைவாகும். பொருளாதார வரிவிளைவை என்பதனால் கருதப்படுவது யாதெனில் ஒரு வரிபின் அளவளவு இறுதியில் சதவீதத்தில் பெறுவதற்கு நலனில் மீது அது ஏற்படுத்தும் விளைவினைப்பாகும். (02 புள்ளிகள்)

- சட்டத்தின்படி வரிவிளைவு பொருளாதார வரிவிளைவை என்பவற்றிற்கிடையிலான வேறுபாடானது வரிபின் இடம் பெறுதல் செயல்படும் அறிமுகம் தாக்கத்தானது. வரிபின் இடம்பெறுதல்களையே முடியாதபடி சட்டத்தின்படி வரிவிளைவை பொருளாதார சீர்ப்பினை வரிவிளைவை ஒன்றுக்கொன்று காணலாம். (02 புள்ளிகள்)

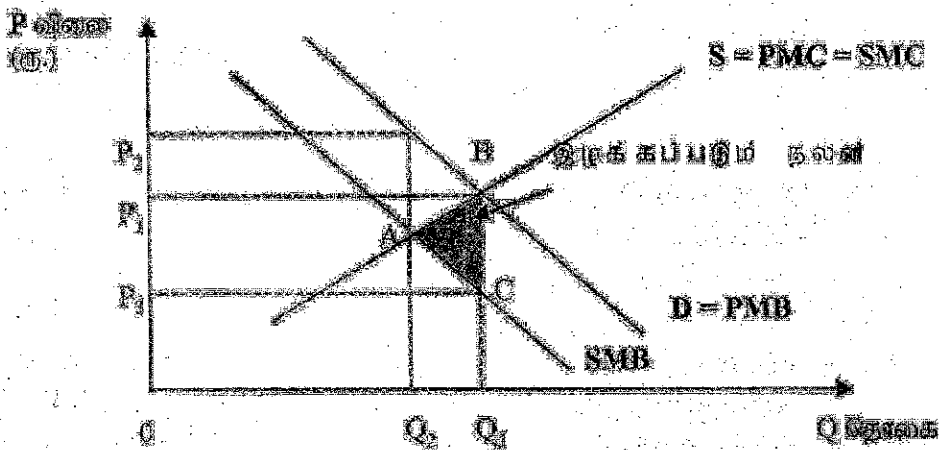
(iv) - ஒரு பொருளின் நுகர்வானது முன்புள்ள தரப்பின் மீது எதிர்க்கணிய ரீதியில் பாதிப்பை உருவாக்கும் போது நுகர்வில் எதிர்க்கணிய வெளிவரிகள் உருவாகும். உ-ள் அளவளவு ஒரு நபர் நன்மையில் அதிகப்படி சந்தத்தின் சந்தத்ததை ரசிப்பதை அல்லது தளக்கத்தில் உள்ள நபர்களுக்குப் பாதிப்பை

ஏற்படுத்தும் வண்ணம் புலகாற்றிப்பதைக் காரணம். இச்சந்தர்ப்பங்களில் நுகர்வின் சமூக நன்மைகள் தனிப்பட்ட நன்மைகளானிடக் குறைவாகும்

(02 புள்ளிகள்)

- குறித்த ஒரு பொருளை அல்லது சேவையை நுகரும்போது எதிர்க்கணிய வெளிவாரிகள் உருவாகாமலின் அது ஒரு சந்தைத் தோல்வியைக் காட்டும். இவ்வகையில் குறித்த நுகர்வோன் தனது நுகர்வு நடத்தை காரணமாக சேவையளிகள் மீது ஏற்படும் செலவுகளைக் கருத்திற் கொள்ளவில்லை. வெளிவாரிச் செலவுகளைக் கருத்திற் கொள்ளாமல் தனிப்பட்ட நன்மையை மட்டும் கருத்திற் கொண்டு தீர்மானம் மேற்கொள்ளும் போது சந்தையில் நுகர்வு மட்டமானது (உற்பத்தியின் பாய்ச்சல்) சமூகநீதியில் விரும்பத்தக்க உத்தம நுகர்வுமட்டத்தை விட மிகவும் குறைவாகக் காணப்படும். இந்த மிகக் குறைவான நுகர்வு நிலையையானது (உற்பத்தியின் பாய்ச்சல்) வளம்பயன்பாட்டின் விளைத்திறன் இலக்கமையக் (இழக்கப்படும் நன்மை) காட்டுகிறது. (02 புள்ளிகள்)

- இதுவரைப் பின்வரும் வரையிடம் காட்டுகிறது.



எதிர்க்கணிய வெளிவாரிப்பின் பொருளின் தாராளசந்தை நுகர்வுமட்டம் (உற்பத்தியின் பாய்ச்சல்) Q_1 ஆகும். அந்நுகர்வு மட்டத்தில் எவ்வளவு சமூக நன்மை P_2 ஆகும். ஆனால் அதன் சமூக செலவு P_1 ஆகும். சமூகநீதியில் விளைத்திறனான விரும்பத்தக்க உத்தம உற்பத்தி மட்டமானது எவ்வளவு சமூக நன்மைகள் எவ்வளவு சமூக செலவுக்கு சார்பும் Q_2 உற்பத்தி மட்டமானதும் முக்கோணம் ABC யானது இழக்கப்படும் நன்மை அளவைக் காட்டுகிறது.

மேல்கண்ட வரையிடத்திற்கு 01 புள்ளி. இழக்கப்படும் நன்மைக்காட்டும் முக்கோணத்தைப் பெயரிட 01 புள்ளி (மொத்தம் 06 புள்ளிகள்)

8. (i) ஒரு நாட்டின் ஒப்பீட்டு நன்மையைத் தீர்மானிக்கும் முன்று காரணிகளைக் கூறுக. (03 புள்ளிகள்)
- (ii) சென்னை நிலுவைக் கழந்லில் உள்ள பிரதான கணக்குகளும் உள்ளடக்கங்களும் யாவை? (04 புள்ளிகள்)
- (iii) இலங்கை தொடர்பில் உதாரணம் காட்டி பிராந்திய வர்த்தக உடன்படிக்கைக்கும் இருபக்க வர்த்தக உடன்படிக்கைக்கும் இடையிலான வேறுபாட்டை விளக்குக. (05 புள்ளிகள்)
- (iv) 2000 ஆண்டில் மொத்த உள்நாட்டு உற்பத்தியின் 30% ஆக இருந்த ஏற்றுமதிச் சதவீதம் 2020 இல் ஏறத்தாழ அரைபங்காக 14.8% ஆகக் குறைவடைந்தது. அண்மைய தகவல்களில் இலங்கையின் ஏற்றுமதித் துறையின் நலிந்த செயலாற்றத்திற்கான காரணிகளை விளக்குக. (07 புள்ளிகள்)

08. (i) - இயற்கை வளங்களில் அளவும் அவற்றின் தரமும்
- குடிநீர்தொகைக் காரணிகள் (குடிநீர்ப்பரிவு கலிவித்தர உயரிவு தொழில்பணியில் பெண்களின் பங்குபற்றல் நிலை)
 - உட்கட்டணம்பு வசதிகள் உள்ளிட்ட முறைகளைக்கதிர்க்கான முதுவீடுகள்
 - சுயச்செல்லும் அளவுகூட்டி விளைவும் தொழில்நீர்ப்பும்.
 - ஆய்வு மற்றும் அபிவிருத்தித் துறையில் மேற்கொள்ளப்படும் முதுவீடுகள்
 - அரசாங்கக் கொள்கைகள் (வரி மானியம் நாணயமாற்றுநீதம்)
 - நிறுவனங்கள் (வங்கிக் கட்டணம்பு நீதித் துறைக்கட்டணம்பு அரசியல் நிறுவனங்கள் ஐந்தாய்க்கதிர் உறுதித்தனமை)
 - புலியியல் இட அமைவு (காலநிலை மற்றும் புலியியல் பண்புகள்)
- ஒரு விடயத்திற்கு 01 புள்ளி வீதம் ஒத்தேறும் மூன்று விடயங்களுக்கு 03 புள்ளிகள்)

- (ii)
- நடைமுறைக்களைக்கு (01 புள்ளி)
 - பொருளிகள்
 - சேவைகள்
 - முதுவீடுகள் வசூலாணி
 - இரண்டாம் நிலை வசூலாணி

- முதுவீடுகளைக்கு (01 புள்ளி)

- நீதிக்களைக்கு (01 புள்ளி)

- சீரடி முதுவீடுகள்
- பல்வகை முதுவீடுகள் (பட்டியல் முதுவீடுகள்)
- வேறு முதுவீடுகள்
- சொத்து ஒதுக்குகள்

(முது முதுவீடுகளைக்கிரை முதுவீடுகளைக்கிரை உள்ளடக்கத்தைத் தந்திருப்பின் 01 புள்ளி)

(மொத்தம் 04 புள்ளிகள்)

- (iii) - ஒரு நாடுக்குள்ளிடயில் காதகமான வர்த்தக போக்கிலை ஒப்பிடுதும் பொருட்டு உருவாக்கப்படும் ஒப்பந்தமாதும். இதில் மூலம் ஒவ்வொருவரது சநிலையிலும் பிரவேசிப்பதற்கான வாய்ப்பெற்படுவதானால் அது இருநாடுகளினதும் வர்த்தக விளைக்கத்திற்கும் பொருளாதார வளர்ச்சிக்குமி காதகமாதும்.

ஒப்பந்தத்தின் நிபந்தனைகள் கடைசியாக வந்ததைத் திணைக்களம் பொருட்டு தொடர்புடைய நலவகையக இலங்கைநாட்டின் போட்டிநிலைத்து உயர்ந்த சாதனை level (paying level) தீர்மானிக்கப்படும். (02 புள்ளிகள்)

உதாரணம்

- இந்திய இலங்கை சுதந்திர வந்ததை ஒப்பந்தம்
- இலங்கை பாக்கிஸ்தான் சுதந்திர வந்ததை ஒப்பந்தம்
- இலங்கை சிங்களப்பூர் சுதந்திர வந்ததை ஒப்பந்தம்

(ஒரு உதாரணத்திற்கு 01 புள்ளி)

* அங்கத்துவ நாடுகளிடையே பொருள்களும் சேவைகளும் சுதந்திரமாக செல்வதை உறுதிப்படுத்தும் போதிலும் குறிப்பிட்ட புள்ளியின் பிரதேசத்திலுள்ள நாடுகள் அரண்டு அல்லது அதற்கு மேற்பட்ட எண்ணிக்கையில் ஒப்பினைத்து வகைப்படுத்தும் ஒப்பந்தம் பிராந்திய வந்ததை ஒப்பந்தம் எனக்கருதப்படும். அங்கத்துவ நாடுகள் மத்தியில் வந்ததை தடைகளை நிபந்தனைகள் நிபந்தனைகள் ஒப்பந்தத்தில் உள்ளடக்கப்படும். அதேபோல் அங்கத்துவமான நாடுகள் தொடர்பில் கடைப்பிடிக்க வேண்டிய செயற்பாடுகளும் அதில் குறிப்பிடப்படும்.

(02 புள்ளிகள்)

உதாரணம்

- தெற்காசிய சுதந்திர வந்ததை உடன்படிக்கை (SAFTA)
- கிழக்காசிய சுதந்திர வந்ததை உடன்படிக்கை (APTA)
- வரிக் நாடுகளின் முன்னுரிமை வந்ததை உடன்படிக்கை (APTA)

(ஒரு உதாரணத்திற்கு 01 புள்ளி)

- (iv) - ஏற்றுமதி பன்னாட்டுத்தரம் மிக வரையறுக்கப்பட்டதாக இருந்தமை. 1990களின் நடுப்பகுதியிலிருந்து நாட்டின் ஏற்றுமதி உள்ளடக்கம் பொதுவாக நிலையானதாக இருந்துள்ளது. ஆனால் தேயிலை ரப்பர் போன்ற பரபுர்தீயான சில உற்பத்திகளுக்கு அப்பால் பன்னாட்டுத்தரம் நடைபெறவில்லை.
- ஏற்றுமதிச் சந்தைகளிலும் பன்னாட்டுத்தரம்மையைக் காணமுடியாமல் செல்த ஏற்றுமதிகளில் முதலில் இரண்டு பங்கு அமெரிக்காவையும் ஐரோப்பாவையும் நோக்கிச் செல்கிறது. மேலும் தேயிலை ஏற்றுமதிகளில் 70 சதவீதமானவில் மத்திய அமெரிக்காவும் பொதுவான நாடுகளுக்கும் செல்கிறது.
- ஏற்றுமதியை நேரக்கூடிய வகத்தொழில்களில் முதலீடுகள் வரையறுக்கப்பட்டவை. சிறுசுராயினியின் பத்திரிகை வகத்தொழில்களில் நாடுகளின் ஏற்றுமதித்தரமையில் தரிக் வளர்ச்சிக்கு ஏற்றுமதி நோக்கிலான தேரடி வெளிநாட்டு முதலீடுகளாகும். ஆனால் இலங்கை வெளிநாட்டு தேரடி முதலீடுகளை சந்தைமூலியை நோக்கி நகர்த்துவதில் தேயிலை கவரின்மை.
- வலியுறுத்திய தொழிலாட்பத்தின் அடிப்படையிலான ஏற்றுமதி வகத்தொழில் இலங்கையில் குறைந்த நட்புத்தரமான தொழில் நட்புத்தரம் அறிவையும் அடிப்படையாகக் கொண்ட ஏற்றுமதி வகத்தொழில்களை காண்பித்திரை. மேற்கூறு நாடுகள் அண்மையான தொழில் நட்புத்தரத்தை வலியுறுத்தி உயர்நிலையில் நட்புத்தரத்தை நோக்கிச் செல்லும் போது இலங்கை இன்னும் அதன்மைய தொழில் நட்புத்தரத்தை நோக்கிச் சென்றிருக்கிறது.
- நிகழ்வுகளில் பிற்பாடு ஏற்றுமதி வகத்தொழில்களில் விளைதிறன் அதிகரிக்கும் வேகத்தை விடக் கூடிய வேகத்தில் சமீபமானகள் அதிகரிக்கும் பிரச்சினையையும் எதிர்த்துக்கொள்ளுகிறது.
- தேயிலை ஏற்றுமதித்தரமையில் விளைதிறன் குறைந்தும் செலவைகள் அதிகரித்தும் வாரியர் செறிவடைய தொழில் நட்புத்தர அடிப்படையாகக் கொண்ட உற்பத்திச் செலவுமுறையில் செலவுகள் அதிகமாகும். பழைய தேயிலைச் செலவுகள் குறைந்த விலைக்காகவிய துக்கின்றன. இலங்கையின் மேட்டி நாடுகளுடன் ஒப்பிடுகையில் இலங்கை தேயிலை உற்பத்திச் செலவைகள் அதிகரிக்கின்றமை முதலிய பிரச்சினையாகும்.
- தொழில்தரம் குறைவடைந்தும் வாரியர் செலவைகள் அதிகரித்தும் தேயிலைத் தொட்டியைக்குத் தேவையான தொழிலாளர்களைத் தொட்டியளவில் இருக்கக் போவது சவனாக உள்ளது. தேயிலைத் தொழிலாளர்களின் குறைந்தபடியான மட்டம் இலங்கை தலைமுறை கவரின்மை தொட்டி தளையில் சமூக கிஞ்சியான தேயிலைத் தொட்டிகளுக்கு வெளியில் கவரின்மை தொழில் வாய்ப்புகள் விடக்கின்றமை போன்றன இதில் தூக்கம் செலுத்தியுள்ளன.
- இலங்கை இலங்கைக் கவுன்சில்டிடுவா சந்திர கர்த்தா ஒப்பந்தங்களில் சிறு திறக்கப்பட்டிருள்ள சந்தைமூலியை விளைத்திரனாகப் பயன்படுத்தத் தவறியுள்ளமை.

இரு விடயத்திற்கு 02 புள்ளிகள் வீதம் ஏதேனும் நான்கு விடயங்களுக்கு உயர்ந்தபட்சம் 07 புள்ளிகள்

9. (i) பொருளாதார அபிவிருத்தியையும் மனித அபிவிருத்தியையும் வேறுபடுத்தாக. (04 புள்ளிகள்)
- (ii) வறுமைக் கோட்டிற்கும், துலைக்குரிய வறுமைக் குறிகாட்டிற்கும் இடையிலான வேறுபாடு யாது? (04 புள்ளிகள்)
- (iii) தொழில்நுட்ப வயதூச் சந்தவகையில் கனிசமான பகுதியினர் பொருளாதார நிலையில் செயற்படாத நிலையில் உள்ளவர்க்கான காரணங்களை விளக்குக. (04 புள்ளிகள்)
- (iv) (அ) சமூக பாதுகாப்பு வலையமைப்பு என்பதால் கருதப்படுவதென்ன? (02 புள்ளிகள்)
- (ஆ) இலங்கையில் தற்போது நடைமுறைப்படுத்தப்பட்டு வரும் சமூக பாதுகாப்பு வலையமைப்பு நிகழ்ச்சித் திட்டங்களில் காணப்படும் குறைபாடுகள் எவை எவை என்பதைப் பரிசீலிக்குக. (06 புள்ளிகள்)

9. (i) - பொருளாதார அபிவிருத்தி மற்றும் மனித அபிவிருத்தி ஆகியன ஒன்றாக ஒன்று இல்லாத வகைக்கருக்களாகும். இவை இரண்டுமே பொருளாதாரச் செல்வம் மற்றும் மனிதனின் நலம் ஆகிய இது பரிமாணங்கள் ஊடாக ஒரு நாட்டின் மொத்த அபிவிருத்தியை அளவிடச் செய்யின்றன. மனித அபிவிருத்தியானது பெருமளவில் மனிதர்களின் நன்வழியை குறித்த கவனஞ்செலுத்துவதால் பொருளாதார அபிவிருத்தியானது கிரீவாகப் பார்த்து விடுவதன் சமூக பொருளாதார நியாயத்துவம் குறித்துக் கவனஞ்செலுத்துகிறது.

- மனித அபிவிருத்தி என்பதும்போது நபரொருவரின் சுதந்திரம் அவரின் முன்னே உள்ள அடையாளம் (opportunities) மற்றும் நன்வழியை ஆகியன தொடர்பாகிய முன்னெதிர் செல்வம் போன்றவைகளும் 1970களில் இன்னொன்றாக முன்னவர்க்கப்பட்டவைகளாக காரணம் மொத்த உள்நாட்டு உற்பத்தி அல்லது பொருளாதார வளர்ச்சியானது மனித அபிவிருத்தியை அளவிடச் செய்யும் பொருளாதார இன்மை என்று கண்டறியப்பட்டதனாலும்.

மனிதர்களுக்கு சிறப்பான கலாநூல் நிலையங்கள் கல்விக்காக சாதாரண ஒரு பிரிவுகள் சிறந்த வாழ்க்கைத் தரம் ஆகியன இறுக வேண்டும் என மனித அபிவிருத்தி எண்ணக்கரு நம்புகிறது. மனித அபிவிருத்திச் சுட்டெண்ணின் மூலம் மனித அபிவிருத்தி அளவிடப்படுகிறது. மனித அபிவிருத்தியின் தொழில்நுட்ப சுவையை அளவு கிளவிக்கான மனித வறுமைக் குறிகாட்டி ஆகும் போல் சமூக நிலைமைகளின் வறுமையில் குறிகாட்டி என்பவற்றைக் கருதுகாம்.

பொருளாதார அபிவிருத்தியானது பற்றாது ஒரு எண்ணக்கருவாக உள்ளது. அதுவும் பல்புள்ள பரிமாணங்கள் பல காணப்படுகின்றன. பொருளாதார வளர்ச்சிக்கு பொருளாதார சிறந்த கருக்களைத் தற்க்காக காணப்படுகின்றனவாக முக்கியமான வாழ்க்கை பண்புகளின் போக்களிய வற்றுகளில் அதில் உள்ளடக்கப்பட்டிருக்கின்றன. மனித குலத்தானது அபிவிருத்தி செய்தல் வாழ்க்கைத்தரத்தை அதிகரித்தல் உட்கட்டமைப்பு அபிவிருத்தி பொருளாதார வளர்ச்சி பொருளாதாரத்தின் சுட்டெண்ணிய மாற்றுகள் சர்வதேச வர்த்தகத்தில் வளர்ச்சி கற்றுச் சூழல் பாதுகாப்பு காரணம் மற்றும் ஆயுள் விரிபார்க்கை அதிகரிப்பு போன்ற பலவற்று விடயங்கள் பொருளாதார அபிவிருத்தியில் உள்ளடக்கியும்.

(ஒரு விடயத்திற்கு 02 புள்ளிகள் வீதம் ஏதேனும் இரண்டு விடயங்களுக்கு 04 புள்ளிகள்)

(ii) - வறுமைக்கோட்டினால் காட்டப்படுவது உடனடி உதவிகள் போன்ற அடிப்படைத் தேவைகளைப் பூர்த்தி செய்ய ஒருவருக்கு மாதமொன்றில் தேவையான பணத்தின் அளவாகும்.

- இலங்கையின் உத்தியோகபூர்வ வறுமைக்கோட்டானது அடிப்படைத் தேவைகளைப் பூர்த்தி செய்வதற்குத் தேவையான செலவிடும் முறையினை அடிப்படை பாகக்கொண்டு கணிப்பிடப்படுகிறது. அதன் போது ஆனொருவருக்குத் தேவையான கலோரிகளைப் பெறவதற்கு அளசியமான பணத்தின் அளவு உடனடி வறுமைக் கோட்டின் கீழ் கணிப்பிடப்படுகிறது. அதன் பின்னர் உதரையின் உடை போக்குவரத்து போன்ற உணவல்லாத அத்தியாவசியத் தேவைகளை மீதான செலவிடல்கள் கணிப்பிடப்பட்டு உடனடி வறுமைக்கோட்டின் பெறாமதியின் கட்டப்பட்டு தேசிய வறுமைக்கோட்டின் பெறாமதி கணிப்பிடப்படுகிறது.

(02 புள்ளிகள்)

- வறுமைக் கோட்டிற்கும் கீழ் வறுமையில் உடனடி உதவிகளும் நபர்களுக்கு அடிப்படைத் தேவைகளைப் பூர்த்தி செய்ய முடியாதாணையால் அவர்கள் வழியவர்களைக்கொண்டு வருகிறது. இன்னும் வறுமைக் கோட்டின் கீழ் உள்ள மக்கள் தொகை விரிவாக சலுகி தொகையின் சதவீதமாக காட்டும் போது அது சந்தேகத்தை வறுமைக்குறிக்காட்டி என அமைக்கப்படும்.

(02 புள்ளிகள்)

(மொத்தம் 04 புள்ளிகள்)

(iii) பொதுவான நிலையில் இயங்காமலிருக்கக்கூடிய காரணங்கள்:

- குடியிருப்பும் குடிப்பதில் பணிகளில் சமூகம்.
- முழுநேர மானவர்களைக் இருத்தல்.
- ஒய்வு பெற்றவர்களைக் அல்லது முதியோர்களை இருத்தல்.
- நாட்டின் வேளாண்மையைக் அல்லது கால்நடைகளைக் இருத்தல்.
- ஒய்வு பெற்றவர்களைக் வேலை செய்ய விடுவதற்கும்.

(இது விடப்படுத்தி 01 புள்ளி வீதம் நான்கு காரணங்களுக்கு 04 புள்ளிகள்)

(iv) (அ) - சமூக பாதுகாப்பு வேலைப்பின்னல் அமைப்புகள் கற்றுப்படுவது மாதமொன்று வழியவர்கள் முதியவர்கள் கலந்துகொள்வதற்கு சிறுவர்கள் பெண்கள் இடம்பெயர்ந்தவர்கள் போன்ற பாதுகாப்பு மற்றும் பாதிப்பற்ற நிலையில் உள்ள மக்கள் பிரிவினருக்கு நன்மை பயக்கும் பொருட்டு பங்களிப்புக் காட்டினவர்களின் செயற்படுத்தப்படும் நிதர்சனத் திட்டங்களாகும்.

(01 புள்ளி)

- வறுமை பாதிப்பற்ற நிலை சமூக புரட்சி-ம் போன்ற பிரச்சினைகளை கையாள் மிகப்பெரியதளமான கருவிகளாக கருவிகளால் பின்னல்களுக்கு உயர்ந்த வரவேற்பு காணப்படுகிறது. வேறுவக வழங்குகொள்ளப்படுகின்றன. பணம் மற்றும் பொருள்களை வழங்குவது தொடக்கம் ஒய்வுதரக் கொடுப்பவர்கள் காப்பாற்றிச் சேவைகள் வழங்குவது அறிவித்தறி போன்ற பல்வேறு துறைகளை உள்ளடக்கி சமூக பாதுகாப்பு வேலைத்திட்டங்கள் செயற்படுகின்றன.

(01 புள்ளி)

(ஆ) - இலங்கையில் தற்போது சமூக பாதுகாப்பு வலைப்பின்னல் வேலைத்திட்டங்கள் பல செயற்பட்டு வரும் போதிலும் அவற்றில் பல்வேறு வரையறைகளும் குறைபாடுகளும் காணப்படுகின்றன.

* இலங்கையில் நடைமுறைப்படுத்தப்படும் சமூக பாதுகாப்பு வேலைத்திட்டங்களில் காணப்படும் மிகப்பொதுவான பிரச்சினை அதித்திட்டங்களில் உள்ளடக்கப்படும் நபர்களின் எண்ணிக்கை சிறியதாக உள்ளமையும் இலக்குப்படுத்தப் படாதபடிமாகும். வறியவர்கள் முதியவர்கள் மற்றும் வலது குறைந்தோர் ஆகியோரை இலக்குப்படுத்தி செயற்படுத்தப்படும் வேலைத்திட்டங்களில் அடங்கியவர்களில் உள்ளோரில் மிகச்சிறிய சதவீதத்தினர் உள்ளடக்கப்பட்டுள்ளனர்.

* மிகப்பெரிய சமூக பாதுகாப்புத் திட்டமான சமுத்திரத் திட்டம் இலக்குப்படுத்தலில் மிகப்பெரிய பின்னடைவைக் காட்டுகிறது. இந்தத்திட்டத்தில் பிரதேச அரசியல் தலைமைத்தளம் மிகப்பெரிய செலவாகத் தேவைத்தகிறது. கீழ் மட்டங்களில் செயற்படும் துறைசார் அலுவலர்களில் பெரும்பாலானோர் அரசியல் செலவாக்கினால் பதவிகளைப் பெற்றுவிடுவதாகையால் சமுத்திரப் பயனாளிகளைத் தேர்வு செய்கையில் அரசியல் அடித்தளங்களுக்கு அடங்கிவிடுகின்றனர். தேர்வுகளில் அரசியல் ஆதரவு வழங்கியோருக்கு பிரதிபலனாக சமுத்திரத் திட்டத்தில் அவர்கள் உள்ளடக்கப் படுகின்றனர்.

* வலது வேலைத்திட்ட வரையறைகளுக்கு மத்தியில் களத்துக்கட்டும் பாரிய சமயின்மைகள் உருவாகியுள்ளன. பெரும்பாலான செயற்படுத்தல்களுக்கு ஒதுக்கப்படும் நிதிசார் மசூறல்கள் மிகக்குறைவாக உள்ளமையினால் மக்களின் வாழ்க்கைத்தரத்தில் குறிப்பிட்டளவு மசூறல்களை ஏற்படுத்தாமலாகுதல் அவை பொதுமக்களாக, வணிகியர்களாக, நின்று வரையறைகள் காரணமாக பயனாளிகளின் எண்ணிக்கையை அதிகரிப்பதற்கோ அவற்றினால் வழங்கப்படும் நிதியை அளிக்கப்படுகின்ற கார்ப்பின்மை.

* சமூக பாதுகாப்பு வேலைத்திட்டங்களுக்கிடையில் தொடர்புகள் பலவிதமான நிலையில் உள்ளமை அவற்றின் விளைத்திறமைப்பாதிக்கின்றன. அமைச்சர்கள் துறைகள் மானான சமூகப் போன்ற பல்வேறு அரசாங்க நிர்வாகிகள் உள்ள பல்வேறு வேலைத்திட்டங்கள் செயற்படுத்தப்படுவதனால் ஒருபுறம் செலவுகள் அதிகரிப்பதால் அவற்றின் நன்மைகள் குறைந்தபடி செய்ப்படுகின்றன.

* பெரும்பாலான திட்டங்களில் அவற்றில் உள்ளடக்கப்படுகின்ற அல்லது வெளிப்பெற்றப்படுகின்ற உரிய தகுதிவிகிகள் சரியாக இல்லாமல் படாமலால் காணப்பயன்படு வேலைத்திறமைத்தாக பாதிப்புகள்.

- சமுத்திரத்தின் சமூகநலப் பிரச்சினைகளை FAO போன்ற சர்வதேச நிறுவனங்களின் கடமையான விமர்சனங்களுக்கு உள்ளாகியுள்ளது. சமுத்திரத் திட்டமானது இலங்கைப்புகளின் சமூகபொருளாதார அபிவிருத்திக்கு கைகொடுப்பதற்குப் பதிலாக அதே திட்டத்தில் சமூகநலப் பிரச்சினைத்தின் ஊடாக தங்கினாலும் மனிதநாயகத்தை அதிகரித்துள்ளதாக அறிவிக்கக் கருதுகிறது. எனவே இதுபோன்ற நிகழ்ச்சித் திட்டங்களை நடைமுறைப்படுத்துவது சவால் மிகுந்ததாகும்.

(ஒரு குறையாடலிற்கு 02 புள்ளி வீதம் அதிகமாக குன்று குறையாடல்களுக்கு 06 புள்ளிகள்)

- 10. (i) அரசு கடன் மற்றும் சமூகநலப் பண்புகளைக் கருதுகிறதேன்? (04 புள்ளிகள்)
- (ii) இலங்கை தற்போதைய பொருளாதார நெருக்கடியில் இருந்து மீள்வதற்கு அத்தியாவசியமாகத் தேவைப்படும் சேவையை மாற்றங்களைக் கூறுக. (05 புள்ளிகள்)
- (iii) இலங்கையின் எந்தெந்த சமூகநலப் பிரச்சினைகளை மாற்றிவைக்கவதற்கான ஒரு உடனடி நடவடிக்கை உடனடி நடவடிக்கை வலைப்புகளின் (Global Production Sharing Networks) முக்கியத்துவத்தினை விளக்குக. (05 புள்ளிகள்)
- (iv) சுதந்திரம் பெறும் காலப்பகுதியில் இருந்து இலங்கை தற்போதைய பொருளாதார வளர்ச்சியை அடைவதற்குத் தடையாக இருக்கக் கூடிய காரணிகளை ஆராய்க. (06 புள்ளிகள்)

10. (i) - அரசாங்கத்தின் கடன்களை மீள்கட்டமைப்பு செய்கிறதென்பது அரசு கடன்களின் நிலைப்பாட்டைய தக்கவைப்பு (debt sustainability) மீண்டும் ஏற்படுத்துவதற்கான கையாடல்களையும் நடைமுறைப்படுத்தும் ஒரு நாட்டின் கடனின் நிலைப்பாட்டைய தக்கவைப்பு மீண்டும் ஏற்படுத்துவதற்கான அரசியல் ரீதியிலும் சமூக ரீதியிலும் ஏற்றுக்கொள்ளத்தக்க பதிலீடுகள் இல்லாதபோது அரசு கடன்களை மீள்கட்டமைப்பு செய்வது அத்தாடு தீர்மானிக்கும்.

(01 புள்ளிகள்)

- கடன் மீள்கட்டமைப்பு மூலம் அதிகப்படுத்தப்படுகின்ற பாதையில் நிதித் தகவல்களின் நிலை காலத்திலும் பொருள் நிதித் தேவைப்பாடு (Gross Financial Needs - GFN), உள்நாட்டு மற்றும் வெளிநாட்டு நிதியாளர்களின் பெறுபட்ட கடன்களை கடன்சேவை செய்தல் மற்றும் பொருள் உள்நாட்டு உற்பத்தியின் எதிர்பார்க்கக் கூடிய கடன்களின் அளவை மூலமாக செய்யக் கூடிய மட்டத்தில் பொருள்வசூலும்.

(01 புள்ளி)

- கடன் மீள்கட்டணப்பு செய்பவர்களை தீர்மானத்தை எடுத்த பின்னர் எந்தக் கடன்களை மீள்கட்டணப்புச் செய்வதற்காகவும் உள்வகத்துவது எவற்றை அதிலிருந்து நீக்குவது என்பதை கடன் பெறும் நாடு தீர்மானிக்க வேண்டும். அவ்வாறு எக் கடன்களை மீள்கட்டணப்பு செய்வது என்பதைத் தீர்மானித்த பின்னர் பின்வரும் முறைகளில் கடன் மீள் கட்டணப்பு செயற்பாடு நடைமுறைப்படுத்தப்படும்.

- கடனின் முன்பெழுந்தியைக் குறைத்தல்: அனைத்து கடனின் ஒரு பகுதியை மொ.டி.எல்.ல் (DIAF) லுடன்,
- கடன் முன்பெழுந்தியைக் குறைத்தல் : கடனை மீளச் செலுத்துவதற்கு அதிக காலத்தை வழங்குதல்.
- கடன் வட்டி வீதங்களில் சீர்தகவகளை மேற்கொள்ளல்: கடனிற்கு செலுத்தப்படும் வட்டிவீதத்தை குறைத்தல்.

- பெருமளவான கற்றுப்பயிப்புகளில் இம்முன்று முறைகளையும் கடைபிடி செயற்படுத்தப்படுகிறது. சங்கராபர்த்தம் கடன்மீள்கட்டணப்பு முறைமைகளுக்கு கடன் வழங்கியவர்களின் அனுமதி கட்டப்படாததாகும்.

(02 புள்ளி)

கொத்தடி புள்ளிகள் 04

(ii) பொதுவாக நேருக்கையை மேற்கொள்ள தேவையான கொள்கை தீர்மானம் மந்தரங்கள் :

- கடன் மீள்கட்டணப்பு நடவடிக்கைகளை மேற்கொள்ளும் முறையைப் பற்றி செய்கல்.
- அழகைத்தடுத்தும் கட்டணப்பியை நிலைநாட்டுவதற்குமான பின்வரும் நடவடிக்கைகள்
 - அழகைத்தடுத்திரான நடவடிக்கைகளுடன் இணைந்து கொள்ளல்.
 - அரசு சம்பந்தங்களை தீவிரம் விவகாரங்களைக்கொண்ட அமைப்பு வழங்கல் தேவையான அரசுகொள்வனவுகளுக்கான கட்டிடப்பணிகளை இயற்றல்.
 - ஐக்கிய நாடுகளின் பொருள்பொதுகள் மற்றும் குற்றங்கள் தொடர்பான காரியாலயம் மற்றும் உலக வங்கி ஆகியன இணைந்து நடைமுறைப்படுத்தும் கொள்கையிட்டுப் பொதுக்களை மீள்பு மேற்கொள்ளும் நடைமுறைப்படுத்தல் (SIAR) இணைந்து செயற்படல்.
- அரசாங்க வருவாய்களை உறுதிப்படுத்தி அரசுற உறுதியாட்டல் நினைப்படுத்தல்
- அரசாங்க கொள்கைகளை மத்தியகளை கட்டகமொன்றின் கீழ் திட்டமிடுவதும் அரசுறவாயின் விவகாரங்களை முன்வைத்து தேவையான சீர்திருத்தங்களை அறிமுகம் செய்தல்.
- பொதுக் களத்துக் மற்றும் கல்விக்க கட்டணப்புகளை அழகைத்தடுத்த பொதுவானவ நிதித்துக்கங்களை மேற்கொள்ளல்.
- அரசு தொழில் முயற்சிகளின் மத்தியமாய் மத்தியவங்கியின் வியாதித்தன்மைகளை அழகைத்தடுத்தி பணக்கொள்கையின் விவகாரங்களை அறிவித்தல்.
- பெரித்தன்மைகளைத்த நடைமுறைப்படுத்தலை மேற்கொள்ளல்.
- செலுத்தி நிலைமையின் மேல்தகு தன்மைகளை அழகைத்தடுத்த வந்தக மற்றும் முதலீட்டுப் பாய்ச்சல்களை அறிவித்தல்.

- விபரம் செய்வதன் இலக்குகளைப்பற்றிய குறிப்புடையில் இலங்கையின் இடத்தினை முன்னிறுத்த தேவையான நடவடிக்கைகளைத் துரிதப்படுத்துதல்.

(ஆ) விடயத்திற்கு 01 பள்ளி வீதம் மொத்தம் 05 புள்ளிகள்)

(iii) உகை உறுபத்தி வகையமைப்புகளின் முக்கியத்துவம்:

- ஒரு பொருளின் உறுபத்திச் செயல்முறை நிலைக்குத்தராக வெவ்வேறு கட்டங்களாகப் பிரிக்கப்பட்டு ஒவ்வொரு கட்டத்தையும் நடைமுறைப்படுத்த வெவ்வேறு நாடுகளை நோக்கி சென்று செல்லும் உறுபத்தி வகையமைப்புகள் அண்மைய தகவல்களில் சர்வதேச வர்த்தகத்தில் ஒரு பிரதான பங்காக மாறிவருகிறது. ஒப்பீடு நிலைமை அல்லது வேறு அடிப்படையிலான பொருளாதார தகவல்களின்மீது பல்வேறு நாடுகளை நோக்கி உறுபத்திச் செயல்முறையானது மாந்து விரிந்து செல்வது இதன்போது நடைபெறும்.

- இதன் போது நடைபெறுவது யாதெனினும் ஒரு பொருளின் பாசங்கள் வெவ்வேறு நாடுகளில் உறுபத்திச் செய்யப்பட்டு அவற்றை ஒன்றிவைப்பதற்கு ஒரு நாட்டின் அரசுகள் அவற்றை அனுப்புவதாகும். உதாரணமாக டெலியாட்டா போட்டர் கார் ஓட்டாளரின் உறுபத்திச் செய்யப்பட்டதும் அதன் பல்வேறு உறுபிப் பாசங்கள் உலகின் பல்வேறு நாடுகளில் உள்ள தொழிறகலைகளிலேயே உறுபத்திச் செய்யப்படுகின்றன.

(01 புள்ளிகள்)

- ஒரு நாட்டில் ஒரு பொருளை அல்லது தேவையை முழுமையாக உறுபத்திச் செய்வதே தேவையான வகையின் அல்லது தொழில் நுட்பம் இன்னது போது அவ்வறுபத்திச் செயல்முறையின் ஏதாவது ஒரு கட்டத்தில் மாத்திரம் தங்களைக் காண்பித்த முழுமையின்

தங்கியிருக்கும் ஒரு கட்டமாக மாற்றியுள்ளது. அரசியல் கட்சிகளின் பொருளாதாரக் கொள்கைகளின் கவர்ச்சிகரமான அம்சமாக இருப்பது அதன் மூலம் வழங்கப்படும் நிளாரணப் பொதி, பெற்றுத்தரப்படும் அரசாங்கத் தொழில்நடைப்புகளின் எண்ணிக்கை மற்றும் ஒருபோதும் நிறைவேற்றப்பட முடியாத வாக்குறுதிகளும்தாம். ஜனநாயகமன முடிவுகளை நோக்கி நகரும் அரசியல்வாதிகள் ஒருபோதும் அதீதியாட்சியமான அரசியல் மற்றும் பொருளாதார சீர்திருத்தங்களை நடைமுறைப்படுத்த ஒத்துணைப்பு வழங்கவில்லை.

(02 புள்ளிகள்)

மந்தகதியிலான பொருளாதார வளர்ச்சியில் செலவாக்குச் சிதாந்தியுள்ள மற்றொரு முக்கிய காரணி யாதெனில் கனிதற்களின் ஒழுக்கமும் விழாபயங்கமும், தொழிலித் தளில் ஒழுக்கம் கலிவி மற்றும் அரசியல் களையாற் என்பவற்றின் பாதகமான போல்துகளாகும். குறிப்பாக அரசாங்கத்தின் போல்திவி, ஒழுக்கம் போலானதல் தொழிலி ஒழுக்கத்திற்கு விபேதனாகப் போழ்ப்பன் ஆகியன அரச குறையின் விளைத்திறனின்மைக்கு காரணமாகியுள்ளன.

பிரயோக ரீதியான கொள்கைகளுக்குப் பதில் கோட்பாட்டுகளின் அடிப்படையில் கொள்கைகள் தீர்மானிக்கப்படல் உண்கப் பொருளாதாரத்தின் வளம்புகளைப் பலப்படுத்தி ஒழுங்கு வாக்துவிபைப் செர்சென்னைத் துறையணை தொழிற்படைபின் சிதாந்தியப் நிபுணத்துணை விருத்தியடைபானை வலியா பொருளாதாரத்தின் நடைபண்பி செங்குத்திய நகலக்கு போலானப் பகவாற்றியுள்ளன.

01 புள்ளி

(கொத்தம் 05 புள்ளிகள்)





2024 A/L Tamil Past Paper Book (Tamil Medium)
₹ 850.00
or 3 X ₹ 283.33 with KOKO



2024 A/L Political Science Past Paper Book (Tamil Medium)
₹ 1,200.00
or 3 X ₹ 400.00 with KOKO



2024 A/L Islamic Past Paper Book (Tamil Medium)
₹ 850.00
or 3 X ₹ 283.33 with KOKO



2024 A/L Islamic Civilization Past Paper Book (Tamil Medium)
₹ 850.00
or 3 X ₹ 283.33 with KOKO



2024 A/L Geography Past Paper Book (Tamil Medium)
₹ 1,000.00
or 3 X ₹ 333.33 with KOKO



2024 A/L Art Past Paper Book (Tamil Medium)
₹ 500.00
or 3 X ₹ 166.67 with KOKO



2024 A/L SFT Past Paper Book (Tamil Medium)
₹ 800.00
or 3 X ₹ 266.67 with KOKO



2024 A/L ICT Past Paper Book (Tamil Medium)
₹ 900.00
or 3 X ₹ 300.00 with KOKO



2024 A/L ET Past Paper Book (Tamil Medium)
₹ 850.00
or 3 X ₹ 283.33 with KOKO



2024 A/L BST Past Paper Book (Tamil Medium)
₹ 800.00
or 3 X ₹ 266.67 with KOKO



2024 A/L Agricultural Science Past Paper Book (Tamil Medium)
₹ 1,100.00
or 3 X ₹ 366.67 with KOKO



2024 A/L Common General Test Past Paper Book (Tamil Medium)
₹ 600.00
or 3 X ₹ 200.00 with KOKO



2024 A/L Business Studies Past Paper Book (Tamil Medium)
₹ 850.00
or 3 X ₹ 283.33 with KOKO



2024 A/L Accounting Past Paper Book (Tamil Medium)
₹ 1,000.00
or 3 X ₹ 333.33 with KOKO



2024 A/L Economics Past Paper Book (Tamil Medium)
₹ 900.00
or 3 X ₹ 300.00 with KOKO



2024 A/L Chemistry Past Paper Book (Tamil Medium)
₹ 1,000.00
or 3 X ₹ 333.33 with KOKO



2024 A/L Biology Past Paper Book (Tamil Medium)
₹ 750.00
or 3 X ₹ 250.00 with KOKO



2024 A/L Physics Past Paper Book (Tamil Medium)
₹ 1,050.00
or 3 X ₹ 350.00 with KOKO



Free Delivery
For all orders over 10000LKR

Secure Payment
100% secure payment

24X7 Support
Quick Support

03 Days Return
Call for Help 071 777 4440