



වයඹ පළාත් අධ්‍යාපන දෙපාර්තමේන්තුව
Provincial Department of Education - NWP

තෙවන වාර පරීක්ෂණය - 09 ශ්‍රේණිය - 2023
Third Term Test - Grade 09 - 2023

චිත්‍ර කලාව

කාලය ජය 02 යි

නම / විභාග අංකය:

I කොටස

- පහත දැක්වෙන ඡායාරූපය ඇසුරු කරගෙන ප්‍රශ්න අංක 01 - 05 දක්වා ප්‍රශ්නවලට හිස්තැනට සුදුසු වචන යොදා වාක්‍ය සම්පූර්ණ කරන්න.




01. ඉහත රූපයෙන් නිරූපනය වන්නේ නම් කලා කෘතියයි.
02. මෙම කලාකෘතිය අයත්වන යුගය වේ.
03. කලා කෘතිය සෑදීම සඳහා යොදාගෙන ඇත්තේ මාධ්‍යයයි.
04. පිට පැත්තේ ඇති ගජසිංහ රූපය ශිල්ප ක්‍රමයට ඉස්මතු කර ඇත.
05. මෙම නිර්මාණය සැකසීමේදී මකර කට්ත් නික්මෙන යොදාගෙන ඇත.

- ප්‍රශ්න අංක 06 - 10 දක්වා ගැලපෙන නිවැරදි වචනය යොදා වාක්‍ය සම්පූර්ණ කරන්න.

06. පින්තල කර්මාන්තයේදී භාණ්ඩ නිෂ්පාදනය කරන ක්‍රම දෙකකි. එනම් සහ වාත්තු කිරීමයි.
07. වෙස්මුහුණේ මුලින්ම ගත ආලේපය කුමක්ද?
08. බන්දුල හරිස්වන්දු නම් ශිල්පියා විසින් දිනමිණ පුවත්පතට අඳින ලද පළමු ජාතික කථාව නම් වේ.
09. ශ්‍රී ලංකාවේ වර්තමාන ජාතික කොඩිය නිර්මාණය කරන ලද ශිල්පියා වන්නේ
10. මැටි කර්මාන්තයේ දියුණුම අවස්ථාව හමුවන රට කුමක්ද?

- ප්‍රශ්න අංක 11 - 15 දක්වා දී ඇති රූපයට වඩාත් ගැලපෙන රූපයේ ඉදිරියේ ඇති A, B, C, D, E අක්ෂරයට අයත් රූප සටහන් ඇසුරින් තෝරා එයට අයත් ඉංග්‍රීසි අක්ෂරය වරහන් තුළ දැක්වන්න.

11.



A



(.....)

12.



B



(.....)

13.



C



(.....)

14.



D




(.....)

15.



E



(.....)


- ප්‍රශ්න අංක 16 - 20 දක්වා ප්‍රශ්නවලට ගැලපෙන පිළිතුර තෝරා යටින් ඉරක් අඳින්න.

- ලෝකඩ පිළිම වාත්තු කිරීමේදී මුල් පල්පය සාදාගනු ලබන්නේ,
 - සිමෙන්ති බදාමයෙන්.
 - ඉටිවලින්.
 - මැටිවලින්.
 - ප්ලාස්ටික් මල් පැරිස් වලින්.
- පුරාණයේ ආයක හෝ ආයික යනුවෙන් හඳුන්වා ඇත්තේ,
 - වටදාගෙය
 - සඳකඩපහණ
 - මුරගල
 - වාහල්කඩ
- ශෛලිගත නාට්‍යකට උදාහරණයක් වන්නේ,
 - හුණුවටයේ කතාව
 - සිංහබාහු නාට්‍යය
 - කැලණි පාලම නාට්‍ය
 - බල්ලොන් එක්ක බැ නාට්‍ය
- ලාක්ෂා භාවිතයෙන් වැඩි වශයෙන් අලංකාර කර ඇත්තේ,
 - දැව භාණ්ඩ
 - පින්තල භාණ්ඩ
 - වානේ භාණ්ඩ
 - ප්ලාස්ටික් භාණ්ඩ
- අවුකන බුද්ධ ප්‍රතිමාවෙහි කලා ලක්ෂණ අනුව එහි දැකිය හැක්කේ කිනම් සම්ප්‍රදායකට අයත් කලා ලක්ෂණද?
 - ගුප්ත කලා ලක්ෂණ
 - පල්ලව කලා ලක්ෂණ
 - අමරාවතී කලා ලක්ෂණ
 - ගණ්ඨාර කලා ලක්ෂණ

- ප්‍රශ්න අංක 21 - 25 දක්වා දී ඇති ප්‍රකාශයන් නිවැරදි නම් (✓) ලකුණ ද වැරදි නම් (×) ලකුණ ද ඉදිරියෙන් ඇති හිස්තැනේ යොදන්න.

21. ප්‍රාග් ඓතිහාසික යුගයට අයත් ස්පාඤ්ඤයේ ඇලටමයිරා ගුහාවේ අඩි 17 දිග ගව රූපය විශිෂ්ට නිර්මාණයකි. (.....)
22. පද්‍ය පංති, විශේෂාංග ලිපි ආදියෙහි අදහස අර්ථවත් කිරීම සඳහා සන්නිදර්ශන චිත්‍ර නිර්මාණය කරනු ලබයි. (.....)
23. චිත්ත රෙද්දකට වඩාත් සුදුසු වන්නේ මුළුතල මෝස්තරයයි. (.....)
24. මුර්තියක් නෙලීමේ දී අනවශ්‍ය කොටස් කපා ඉවත් කරනු ලබයි. (.....)
25. දිව්‍ය, සත්ව, උද්භිද හා නිර්ජීවී යනුවෙන් සාම්ප්‍රදායික මෝස්තර වර්ග 4 කි. (.....)

- ප්‍රශ්න අංක 26 - 30 දක්වා ප්‍රශ්න වලට පහත ලබාදී ඇති F, G, H, I, J රූප සටහන් ඇසුරින් පිළිතුරු සපයන්න.



26. F රූපයෙන් දැක්වෙන භාණ්ඩය කුමන පාරම්පරික කලාවට අයත්ද?
27. G අක්ෂරයෙන් දැක්වෙන පාරම්පරික වෙස් මුහුණු කලාව සඳහා යොදාගන්නා ලද ලී වර්ගය මොනවාද?
.....
28. H රූපයෙන් දැක්වෙන දේව රුවේ පහතට යෙදූ අතේ දැක්වෙන මුද්‍රාව කුමක්ද?
29. I රූපයෙන් දැක්වෙන වාහල්කඩ සතරෙහි ගල් කණු මත නිරූපිත සත්ව රූප මොනවාද?
.....
30. J රූපයේ දැක්වෙන ස්ථූපය මුල් කාලීනව කුමන හැඩයකට අනුව නිර්මාණය කොට ඇත්ද?
.....

- ප්‍රශ්න අංක 31 සිට 35 දක්වා දී ඇති වචනවල අර්ථය පැහැදිලි කිරීමට කෙටි වාක්‍ය බැගින් ලියන්න.

- 31. කැලිග්‍රැෆි -
- 32. කුදිරෙර වාහනම් -
- 33. සන කැපුම -
- 34. යාලි -
- 35. සාදිලිංගම් -

- ප්‍රශ්න අංක 36 සිට 40 දක්වා ප්‍රශ්න සඳහා පහත ලබාදී ඇති පින්තූරය හඳුනාගෙන ලබා දී ඇති උප ශීර්ෂවලට සම්පූර්ණ වැකියකින් පිළිතුරු සපයන්න.



- 36. හැඳින්වීම -
-
- 37. හමුවන ස්ථානය -
- 38. මාධ්‍ය -
- 39. ශිල්ප ක්‍රමය -
- 40. ශිල්පීය දක්ෂතාවය -
-



වයඹ පළාත් අධ්‍යාපන දෙපාර්තමේන්තුව
Provincial Department of Education - NWP

තෙවන වාර පරීක්ෂණය - 09 ශ්‍රේණිය - 2023
Third Term Test - Grade 09 - 2023

චිත්‍ර කලාව

කාලය පැය 02 යි

කාලය පැය ½ යි

II කොටස

- ඔබ ඉදිරියේ තබා ඇති ද්‍රව්‍ය සමූහය පැන්සලෙන් පමණක් චිත්‍රනය කරන්න.
- ද්‍රව්‍යවල ස්වභාවය, එළිය ඇඳුර, පර්යාවලෝකනය ලක්ෂණ පෙනෙන සේ කොළයට සම්පින්වනය කර ඇඳන්න.

(ලකුණු 20)

කාලය පැය 01 ½ යි

III කොටස

පහත සඳහන් මාතෘකාවලින් එක් මාතෘකාවක් පමණක් තෝරාගෙන වර්ණවත් චිත්‍රයක් නිර්මාණය කරන්න.

ප්‍රකාශන

01. ආගමික ස්ථානයක පුද පූජා සඳහා සහභාගි වන පිරිසක්
02. නිවස බලා යන ගොවි ගෙවිලියෝ
03. බියට පත්වූ මුව රංචුවක්

මෝස්තර චිත්‍ර

01. කුෂන් කවරයකට සුදුසු මෝස්තරයක්.
02. සත්ව රූප භාවිතයෙන් වාටි මෝස්තරයක්
03. මල්, කොළ, ගෙඩි යොදා ගනිමින් ව්‍යාප්ත (මුදුණ) මෝස්තරයක්.

ග්‍රැෆික් චිත්‍ර

01. ළමා කතාන්දර පොතකට පිටකවරයක්.
02. "ජල සම්පත සුරකිමු" මායෙන් පෝස්ටරයක්.

(ලකුණු 40)



(6) WWW.PastPapers.WiKi (6)

Download Term Test Papers, Short Notes From One Place!



වයඹ පළාත් අධ්‍යාපන දෙපාර්තමේන්තුව

Provincial Department of Education - NWP

තෙවන වාර පරීක්ෂණය - 09 ශ්‍රේණිය - 2023


Third Term Test - Grade 09 - 2023

චිත්‍ර කලාව

කාලය ටය 1/2 ශ්‍රී

II පත්‍රය

1. ආදර්ශ චිත්‍රය හා ශාලාධිපතිට උපදෙස් විභාගයට පූර්ව දිනයක කාලච්ඡේදයක් තුළදී මෙම ඇගයීම සිදුකොට චිත්‍ර කලාව I, III යන පත්‍රවල ලකුණු සමඟ එකතු කළ යුතුය.



සපයාගත යුතු ද්‍රව්‍ය:

- (1) සුදු පැහැති කඩදාසියකින් ආවරණය කරන ලද හිස් මාරි බිස්කට් පෙට්ටියක්
- (2) කුඩා ප්‍රමාණයේ ගස්ලබු ගෙඩියක්
- (3) පෝච්චියක සිටවන ලද පත්‍ර තුනක් සහ මලකින් යුත් ඇත්තුරියම් ශාකයක්.

II පත්‍රය

(ද්‍රව්‍ය සම්පිණ්ඩන චිත්‍රය) සඳහා ලකුණු ලබාදීමේ නිර්ණායක

- | | |
|--|----------|
| (1) තලය මත රූප සංරචනය කිරීමේ හැකියාව | ලකුණු 05 |
| (2) ද්‍රව්‍යන්ගේ පරිමාව හා ස්වභාවය ප්‍රකාශ කිරීමේ හැකියාව | ලකුණු 05 |
| (3) සිද්ධාන්ත භාවිතය පිළිබඳ අවබෝධය | |
| පරිමාණ, පර්යාවලෝකනය, ත්‍රිමාණ ලක්ෂණ, ඇස් මට්ටම හා අවකාශ භාවිතය | ලකුණු 05 |
| (4) පැන්සලෙන් රේඛා භාවිතා කිරීමේ හැකියාව හා සමස්ත නිමාව | ලකුණු 05 |

(සම්පූර්ණ ලකුණු 20යි)



(1) WWW.PastPapers.Wiki (1)



LOL.lk
BookStore

විභාග ඉලක්ක

පහසුවෙන් ජයගන්න

ඕනෑම පොතක් ඉක්මනින්
නිවසටම ගෙන්වා ගන්න



| කෙටි සටහන් | පසුගිය ප්‍රශ්න පත්‍ර | වැඩ පොත් | සඟරා | O/L ප්‍රශ්න පත්‍ර
| A/L ප්‍රශ්න පත්‍ර | අනුමාන ප්‍රශ්න පත්‍ර | අතිරේක කියවීම් පොත්
| School Book | ගුරු අත්පොත්



pesuru
Prabhathna Private Ltd.

Akura Pilot

සමනල
දැනුම

T

සමහර

පෙර පාසලේ සිට උසස් පෙළ දක්වා සියලුම ප්‍රශ්න පත්‍ර,
කෙටි සටහන්, වැඩ පොත්, අතිරේක කියවීම් පොත්, සඟරා
සිංහල සහ ඉංග්‍රීසි මාධ්‍යයෙන් ගෙදරටම ගෙන්වා ගැනීමට

www.LOL.lk වෙබ් අඩවිය වෙත යන්න